


**Modelo K**



# Razonamiento Matemático

Preguntas modelo  
examen de acceso a la educación superior



**ACCESO** a la Educación Superior  
SENESCYT

**QUIERO SER MAESTRO**  
Ministerio de Educación

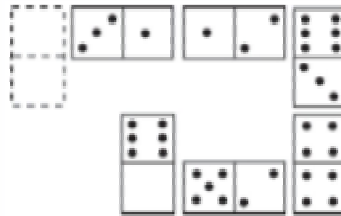
**Razonamiento Numérico**

**Opción Múltiple**

*Elige la opción que complete mejor el enunciado o que responda mejor a la pregunta.*

1. [www.riolearning.com](http://www.riolearning.com)

Elegir, de entre las opciones propuestas, la que completa la serie:



- A. 0/5
- B. 2/5
- C. 0/4
- D. 1/6

2. [www.riolearning.com](http://www.riolearning.com)

Señalar el número que sigue en cada serie de entre las soluciones propuestas.

**8 - 11 - 9 - 12 - 10 - 13 -**

- A. 11
- B. 15
- C. 16
- D. 8

3. [www.riolearning.com](http://www.riolearning.com)




Señalar, de entre las propuestas, la letra que sigue en cada serie. (En este test no cuentan las letras CH, LL, W).

**l - u - n - t - o - r - q - o -**

- A. t
- B. n
- C. s
- D. r


4. [www.riolearning.com](http://www.riolearning.com)

Señalar, de entre las propuestas, qué figura completa cada una de las series.



5. [www.riolearning.com](http://www.riolearning.com)

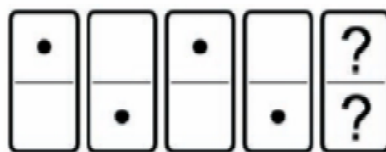
En este prueba se trata de completar las series con las figuras de domino, eligiendo de las cuatro opciones que se les da ¿cuál es la correcta?



- A. Blanca-4
- B. 4-6
- C. 4-blanca
- D. 6-4

6. [www.riolearning.com](http://www.riolearning.com)

En este prueba se trata de completar las series con las figuras de domino, eligiendo de las cuatro opciones que se les da ¿cuál es la correcta?



- A. Blanca-1
- B. 1-1
- C. 1-blanca
- D. Blanca-blanca

7. [www.riolearning.com](http://www.riolearning.com)


Señalar el número que sigue en cada serie de entre las soluciones propuestas.



17 - 19 - 22 - 24 - 27 -



- A. 28
- B. 29
- C. 30
- D. 32

8. [www.riolearning.com](http://www.riolearning.com)

Señalar, de entre las propuestas, qué figura falta en cada una de las series.



- A. 
- B. 

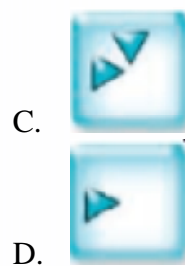


- C. 
- D. 

- E. 

9.

[www.riolearning.com](http://www.riolearning.com)


Señalar, de entre las propuestas, qué figura completa cada una de las series.



10.

[www.riolearning.com](http://www.riolearning.com)

En este prueba se trata de completar las series con las figuras de domino, eligiendo de las cuatro opciones que se les da ¿cuál es la correcta?

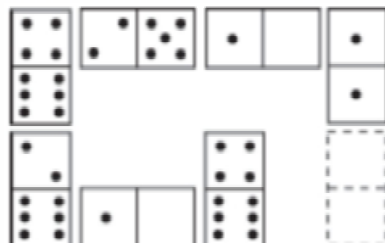


- A. 2-1
- B. 1-blanca
- C. Blanca-1
- D. 1-2

11.

[www.riolearning.com](http://www.riolearning.com)

Elegir, de entre las opciones propuestas, la que completa la serie:



- A. 5/1
- B. 6/3
- C. 4/2
- D. 4/3

12. Señalar, de entre las propuestas, la letra que sigue en cada serie. (En este test no cuentan las letras CH, LL, W).

**b - z - u - o - h -**

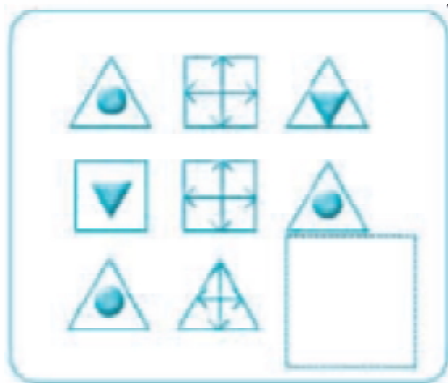
- A. z
- B. v
- C. y
- D. x

13. Señalar, de entre las propuestas, qué figura completa cada una de las series.



- A. 
- B. 
- C. 
- D. 

14. Señalar, de entre las propuestas, qué figura completa cada una de las series.



- A. 
- B. 
- C. 
- D. 

15. [www.riolearning.com](http://www.riolearning.com)


Señalar el número que sigue en cada serie de entre las soluciones propuestas.

**6 - 7 - 6 - 8 - 7 - 7 - 7 - 8 - 8 - 7 -**

- A. 7
- B. 9
- C. 6
- D. 8

16. [www.riolearning.com](http://www.riolearning.com)

Continúa la serie



- A. La J de picas
- B. La Q de corazones
- C. La J de tréboles
- D. La Q de picas

17. [www.riolearning.com](http://www.riolearning.com)

Señalar el número que sigue en cada serie de entre las soluciones propuestas.

**6 - 8 - 7 - 10 - 8 - 12 -**

- A. 8
- B. 9
- C. 14
- D. 15

18. [www.riolearning.com](http://www.riolearning.com)

Señalar, de entre las propuestas, la letra que sigue en cada serie. (En este test no cuentan las letras CH, LL, W).

**l - k - i - h - g - e - d - c - b -**

- A. y
- B. a
- C. z
- D. e

19. 

Señalar el número que sigue en cada serie de entre las soluciones propuestas.

14 - 15 - 16 - 15 - 16 - 17 - 16 - 17 - 18 -

- A. 14
- B. 15
- C. 19
- D. 17

20. 

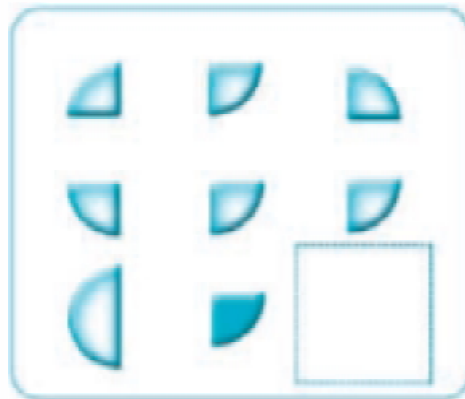
Señalar, de entre las propuestas, la letra que sigue en cada serie. (En este test no cuentan las letras CH, LL, W).

ñ - f - n - e - m - d - l - c -

- A. a
- B. b
- C. k
- D. j

21. 

Señalar, de entre las propuestas, qué figura completa cada una de las series.



22. [www.riolearning.com](http://www.riolearning.com)  
 Señalar, de entre las propuestas, la letra que sigue en cada serie. (En este test no cuentan las letras CH, LL, W).

**m - m - ñ - p - p - r - t -**

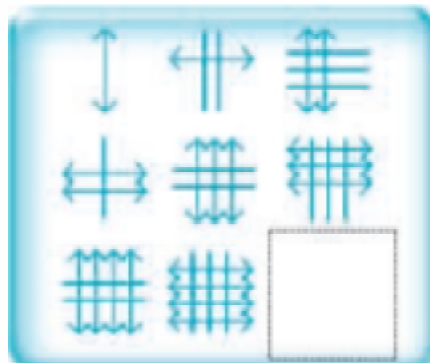
- A. v
- B. t
- C. s
- D. u



23. [www.riolearning.com](http://www.riolearning.com)  
 Señalar el número que sigue en cada serie de entre las soluciones propuestas.



**3 - 5 - 4 - 6 - 5 - 7 -**

- A. 8
- B. 9
- C. 6
- D. 5

24. [www.riolearning.com](http://www.riolearning.com)  
 Señalar, de entre las propuestas, qué figura completa cada una de las series.



- A. 
- B. 

- C. 
- D. 

25.

[www.riolearning.com](http://www.riolearning.com)

Señalar el número que sigue en cada serie de entre las soluciones propuestas.


**86 - 89 - 91 - 94 - 96 -**

- A. 100
- B. 97
- C. 99
- D. 87

26.

[www.riolearning.com](http://www.riolearning.com)

**Elija la que continua la serie.**



- A. Ninguna de las anteriores es la correct
- B. El 3 de corazones
- C. El 4 de picas
- D. El 4 de tréboles

27.

[www.riolearning.com](http://www.riolearning.com)

Señalar, de entre las propuestas, la letra que sigue en cada serie. (En este test no cuentan las letras CH, LL, W).

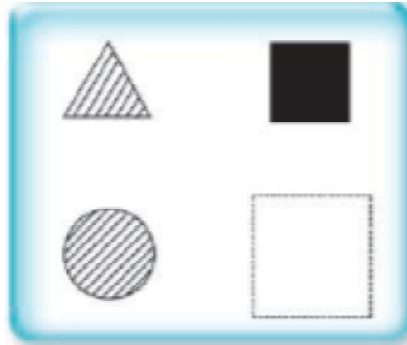
**v - u - t - r - q - p - n - m - l -**

- A. i
- B. c
- C. h
- D. k

28.

[www.riolearning.com](http://www.riolearning.com)

Señalar, de entre las propuestas, qué figura falta en cada una de las series.



A.



C.



B.



D.




29.

[www.riolearning.com](http://www.riolearning.com)

**NAIPES**

Elija la que continua la serie.



- A. 6 de corazones
- B. 7 de diamantes
- C. 6 de picas
- D. 7 de corazones

30.

[www.riolearning.com](http://www.riolearning.com)

En este prueba se trata de completar las series con las figuras de domino, eligiendo de las cuatro opciones que se les da ¿cuál es la correcta?

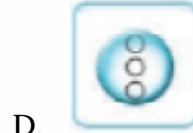
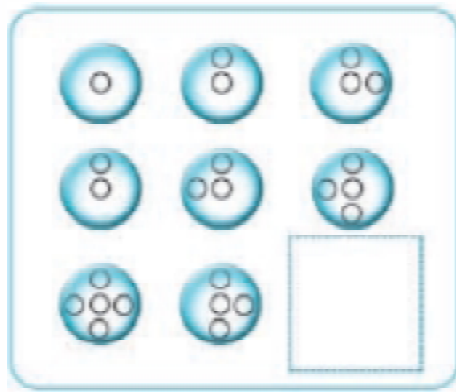


- A. 3-3
- B. 2-4
- C. Ninguna es correcta
- D. 2-3

31.

[www.riolearning.com](http://www.riolearning.com)

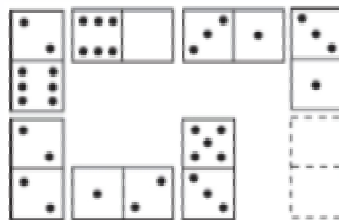
Señalar, de entre las propuestas, qué figura completa cada una de las series.



32.

[www.riolearning.com](http://www.riolearning.com)

Elegir, de entre las opciones propuestas, la que completa la serie:



A. 0/6

C. 3/6

B. 1/3

D. 2/0

33.

[www.riolearning.com](http://www.riolearning.com)

Señalar el número que sigue en cada serie de entre las soluciones propuestas.

**59 - 57 - 54 - 50 - 45 -**

A. 44

B. 39


C. 40

D. 41





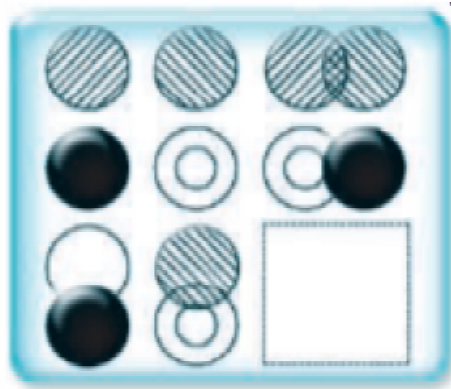
38. [www.riolearning.com](http://www.riolearning.com)

Señalar, de entre las propuestas, qué figura falta en cada una de las series.



39. [www.riolearning.com](http://www.riolearning.com)

Señalar, de entre las propuestas, qué figura completa cada una de las series.



40. [www.riolearning.com](http://www.riolearning.com)

Señalar, de entre las propuestas, qué figura completa cada una de las series.



41. [www.riolearning.com](http://www.riolearning.com)


Señalar el número que sigue en cada serie de entre las soluciones propuestas.

7 - 9 - 5 - 6 - 8 - 4 - 5 - 7 -

- A. 9
- B. 6
- C. 4
- D. 3

42. [www.riolearning.com](http://www.riolearning.com)

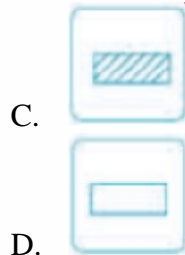
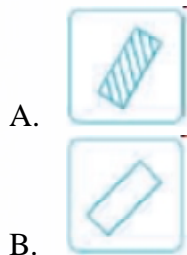
En este prueba se trata de completar las series con las figuras de domino, eligiendo de las cuatro opciones que se les da ¿cuál es la correcta?



- A. 1-4
- B. 4-3
- C. 2-4
- D. 3-4

43. [www.riolearning.com](http://www.riolearning.com)

Señalar, de entre las propuestas, qué figura completa cada una de las series.



44. [www.riolearning.com](http://www.riolearning.com)

Señalar el número que sigue en cada serie de entre las soluciones propuestas.

20 - 22 - 25 - 28 - 30 - 33 - 36 - 38 -

- A. 40
- B. 41
- C. 42
- D. 39

45. [www.riolearning.com](http://www.riolearning.com)


Señalar el número que sigue en cada serie de entre las soluciones propuestas.

15 - 14 - 17 - 12 - 11 - 14 -

- A. 11
- B. 9
- C. 15
- D. 17

46. [www.riolearning.com](http://www.riolearning.com)

¿Qué carta continua la serie?




- A. El 2 de corazones
- B. El 3 de diamantes
- C. El 3 de corazones
- D. El 2 de diamantes

47.

[www.riolearning.com](http://www.riolearning.com)

¿Qué carta continua la serie?




- A. 9 de corazones
- B. 9 de diamantes
- C. As de picas
- D. As de tréboles

48.

[www.riolearning.com](http://www.riolearning.com)

Señalar, de entre las propuestas, qué figura falta en cada una de las series.



- A.
- B.


- C.
- D.

- E.

49.

[www.riolearning.com](http://www.riolearning.com)

Señalar, de entre las propuestas, qué figura completa cada una de las series.



A.



C.



B.



D.



50.

[www.riolearning.com](http://www.riolearning.com)

Señalar el número que sigue en cada serie de entre las soluciones propuestas.

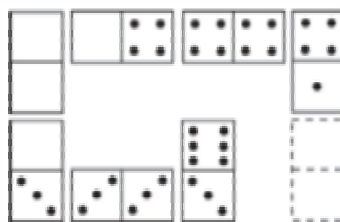
**9 - 8 - 10 - 7 - 6 - 8 - 5 - 4 -**

- A. 7
- B. 1
- C. 6
- D. 8

51.

[www.riolearning.com](http://www.riolearning.com)

Elegir, de entre las opciones propuestas, la que completa la serie:



- A. 1/1
- B. 1/4
- C. 1/5
- D. 4/4

52. [www.riolearning.com](http://www.riolearning.com)

Señalar el número que sigue en cada serie de entre las soluciones propuestas.

27 - 28 - 29 - 25 - 24 - 30 - 31 - 32 - 23 - 22 -

- A. 21
- B. 32
- C. 33
- D. 23

53. [www.riolearning.com](http://www.riolearning.com)

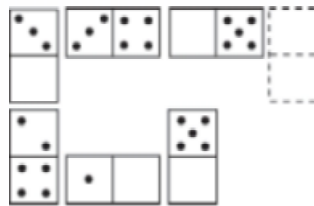
Señalar, de entre las propuestas, la letra que sigue en cada serie. (En este test no cuentan las letras CH, LL, W).

**b - d - h - n - u -**

- A. z
- B. c
- C. f
- D. y

54. [www.riolearning.com](http://www.riolearning.com)

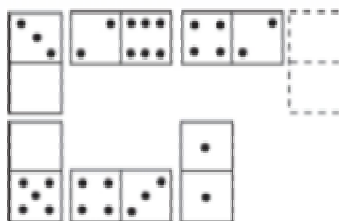
Elegir, de entre las opciones propuestas, la que completa la serie:



- A.  $\frac{1}{6}$
- B.  $\frac{2}{6}$
- C.  $\frac{3}{5}$
- D.  $\frac{3}{0}$

55. [www.riolearning.com](http://www.riolearning.com)

Elegir, de entre las opciones propuestas, la que completa la serie:



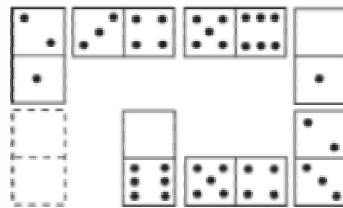
- A.  $\frac{5}{4}$
- B.  $\frac{0}{5}$
- C.  $\frac{6}{5}$
- D.  $\frac{1}{3}$

56. Señalar, de entre las propuestas, la letra que sigue en cada serie. (En este test no cuentan las letras CH, LL, W).

**i - b - k - z - m - x**


- A. v
- B. ñ
- C. n
- D. u

57. Elegir, de entre las opciones propuestas, la que completa la serie:



- A. 1/5
- B. 0/6
- C. 1/6
- D. 0/0

58. ¿Qué carta pondría en el hueco en blanco?




- A. El 6 de corazones
- B. El K de corazones
- C. La J de corazones
- D. El 5 de corazones

59.

[www.riolearning.com](http://www.riolearning.com)

¿Qué carta pondría en el hueco en blanco?

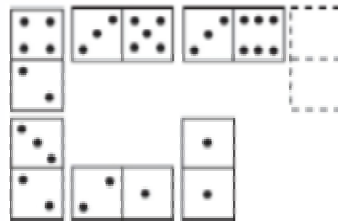


- A. El 5 de corazones
- B. El 4 de corazones
- C. El 6 de corazones
- D. Ninguna es correcta.

60.

[www.riolearning.com](http://www.riolearning.com)

Elegir, de entre las opciones propuestas, la que completa la serie:




- A. 3/0
- B. 4/0
- C. 5/6
- D. 3/1

61.

[www.riolearning.com](http://www.riolearning.com)

¿Qué carta continua la serie?




- A. La J de picas
- B. La J de diamantes
- C. La J de tréboles
- D. Ninguna de las anteriores es correcta

62.

[www.riolearning.com](http://www.riolearning.com)

Señalar, de entre las propuestas, qué figura falta en cada una de las series.



A.



C.



B.



D.



63.

[www.riolearning.com](http://www.riolearning.com)

Señalar, de entre las propuestas, la letra que sigue en cada serie. (En este test no cuentan las letras CH, LL, W).

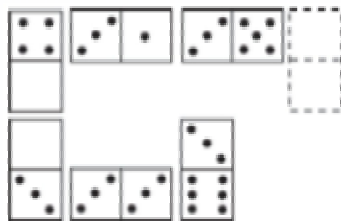
**m - m - m - n - n - ñ - o - o - o - p - p**

- A. o
- B. q
- C. p
- D. m

64.

[www.riolearning.com](http://www.riolearning.com)

Elegir, de entre las opciones propuestas, la que completa la serie:



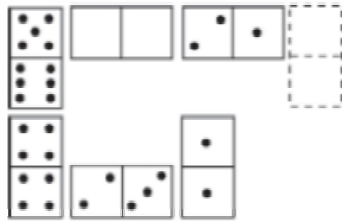
- A. 3/3
- B. 4/2
- C. 3/2
- D. 3/5

65. Señalar, de entre las propuestas, la letra que sigue en cada serie. (En este test no cuentan las letras CH, LL, W).

c - c - c - d - e - c - c - f - g - h - c - c - c -

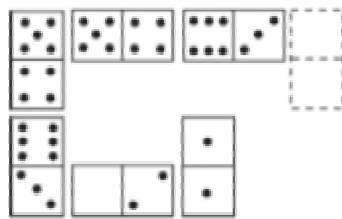
- A. h
- B. i
- C. c
- D. j

66. Elegir, de entre las opciones propuestas, la que completa la serie:



- A. 2/2
- B. 1/3
- C. 3/4
- D. 3/3

67. Elegir, de entre las opciones propuestas, la que completa la serie:



- A. 1/2
- B. 0/3
- C. 5/4
- D. 0/2

68. Señalar, de entre las propuestas, qué figura completa cada una de las series.




- A. 
- B. 
- C. 
- D. 



69. [www.riolearning.com](http://www.riolearning.com)  
Señalar, de entre las propuestas, la letra que sigue en cada serie. (En este test no cuentan las letras CH, LL, W).



**b - f - y - c - u - z -**

- A. d
- B. u
- C. g
- D. r

70. [www.riolearning.com](http://www.riolearning.com)  
Señalar, de entre las propuestas, qué figura completa cada una de las series.






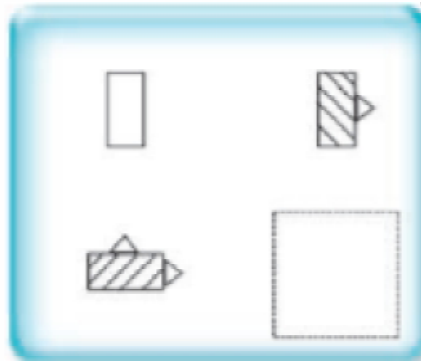
- A. 
- B. 

- C. 
- D. 

71.

[www.riollearning.com](http://www.riollearning.com)

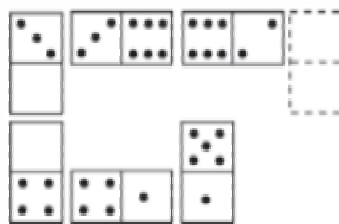
Señalar, de entre las propuestas, qué figura falta en cada una de las series.



72.

[www.riollearning.com](http://www.riollearning.com)

Elegir, de entre las opciones propuestas, la que completa la serie:



A. 3/4

C. 2/5

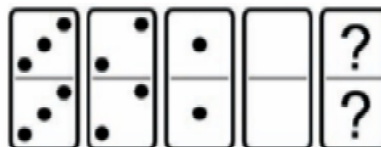
B. 2/5

D. 1/4

73.

[www.riollearning.com](http://www.riollearning.com)

En este prueba se trata de completar las series con las figuras de domino, eligiendo de las cuatro opciones que se les da ¿cuál es la correcta?



A. 4-5

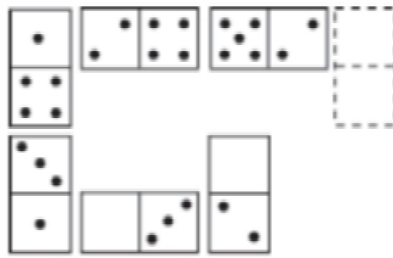
B. 5-5

C. 5-4

D. Ninguna es correcta

74. [www.riolearning.com](http://www.riolearning.com)

Elegir, de entre las opciones propuestas, la que completa la serie:



- A.  $\frac{4}{3}$
- B.  $\frac{2}{0}$
- C.  $\frac{3}{6}$
- D.  $\frac{3}{5}$

75. [www.riolearning.com](http://www.riolearning.com)

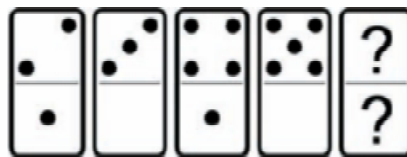
Señalar, de entre las propuestas, la letra que sigue en cada serie. (En este test no cuentan las letras CH, LL, W).

**m - n - o - p - q - s - t - u - v -**

- A. z
- B. y
- C. x
- D. m

76. [www.riolearning.com](http://www.riolearning.com)

En este prueba se trata de completar las series con las figuras de domino, eligiendo de las cuatro opciones que se les da ¿cuál es la correcta?



- A. 1-1
- B. 6-1
- C. Blanca-1
- D. 1-blanca

77. [www.riolearning.com](http://www.riolearning.com)

Señalar, de entre las propuestas, la letra que sigue en cada serie. (En este test no cuentan las letras CH, LL, W).

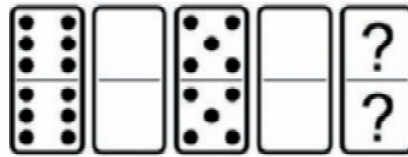
**d - h - f - i - h - l - j - m - l -**

- A. k
- B. j
- C. o
- D. ñ

78.

[www.riolearning.com](http://www.riolearning.com)

En este prueba se trata de completar las series con las figuras de domino, eligiendo de las cuatro opciones que se les da ¿cuál es la correcta?



- A. 1-1
- B. Blanca-blanca
- C. 5-5
- D. 4-4

79.

[www.riolearning.com](http://www.riolearning.com)

Señalar el número que sigue en cada serie de entre las soluciones propuestas.


17 - 21 - 27 - 35 - 45 -

- A. 53
- B. 57
- C. 49
- D. 50

80.

[www.riolearning.com](http://www.riolearning.com)

Elija la que continua la serie.




- A. 12 de picas
- B. 10 de picas
- C. 11 de corazones
- D. 3 diamantes

81.

[www.riolearning.com](http://www.riolearning.com)

Señalar, de entre las propuestas, qué figura completa cada una de las series.



82.

[www.riolearning.com](http://www.riolearning.com)

Señalar, de entre las propuestas, la letra que sigue en cada serie. (En este test no cuentan las letras CH, LL, W).

**k - o - s - v -**

- A. t
- B. u
- C. x
- D. y

83.

[www.riolearning.com](http://www.riolearning.com)

Señalar, de entre las propuestas, la letra que sigue en cada serie. (En este test no cuentan las letras CH, LL, W).

**d - g - j - e - h - k - f -**

- A. i
- B. g
- C. j
- D. c

84. [www.riolearning.com](http://www.riolearning.com)

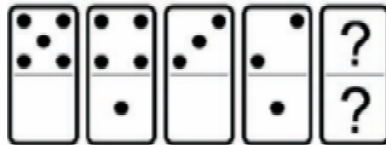
Señalar el número que sigue en cada serie de entre las soluciones propuestas.

12 - 13 - 16 - 17 - 20 - 21 -

- A. 22
- B. 27
- C. 24
- D. 25

85. [www.riolearning.com](http://www.riolearning.com)


En este prueba se trata de completar las series con las figuras de domino, eligiendo de las cuatro opciones que se les da ¿cuál es la correcta?



- A. 1-1
- B. 2-blanca
- C. Blanca-1
- D. 1-blanca

86. [www.riolearning.com](http://www.riolearning.com)

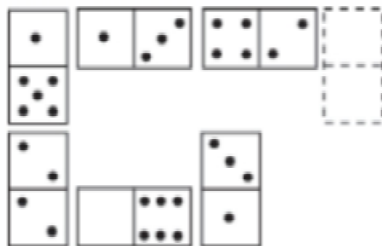
¿Qué 2 cartas faltan?



- A. Delante el 10 de picas y detrás la K de corazones
- B. Ninguna es correcta
- C. Delante la K de diamantes y detrás el 10 de diamantes
- D. Delante el 10 de corazones y detrás la K de tréboles

87. [www.riolearning.com](http://www.riolearning.com)

Elegir, de entre las opciones propuestas, la que completa la serie:




- A. 1/4
- B. 6/2
- C. 0/4
- D. 6/3

88.

[www.riolearning.com](http://www.riolearning.com)

En este prueba se trata de completar las series con las figuras de domino, eligiendo de las cuatro opciones que se les da ¿cuál es la correcta?

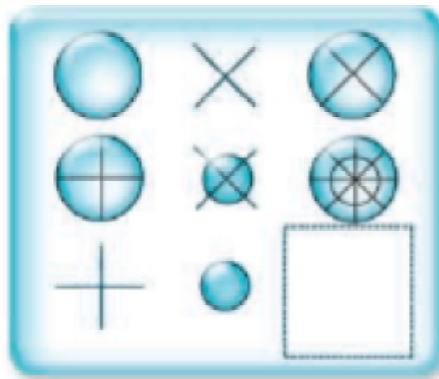


- A. 6-5
- B. Blanca-5
- C. 5-5
- D. 2-5

89.

[www.riolearning.com](http://www.riolearning.com)

Señalar, de entre las propuestas, qué figura completa cada una de las series.



- A. 
- B. 
- C. 
- D. 

90.

[www.riolearning.com](http://www.riolearning.com)

Señalar el número que sigue en cada serie de entre las soluciones propuestas.


**52 - 53 - 55 - 58 - 62 -**

- A. 68
- B. 67
- C. 65
- D. 66

91.

[www.riolearning.com](http://www.riolearning.com)

Continúa la serie




- A. 6 de diamantes
- B. 6 de tréboles
- C. Ninguna es correcta
- D. 6 de corazones

92.

[www.riolearning.com](http://www.riolearning.com)

Señalar, de entre las propuestas, qué figura falta en cada una de las series.



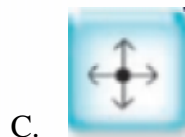
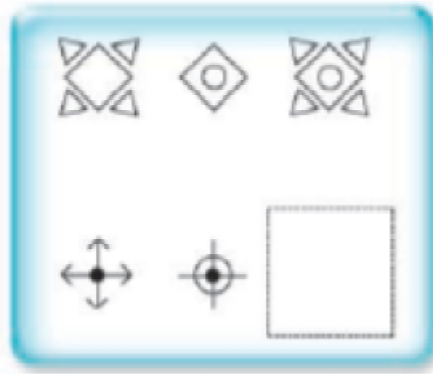
- A.
- B.

- C.
- D.

93.

[www.riolearning.com](http://www.riolearning.com)

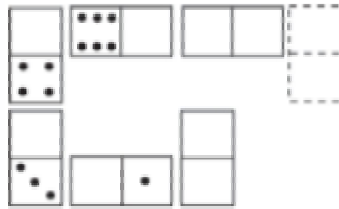
Señalar, de entre las propuestas, qué figura falta en cada una de las series.



94.

[www.riolearning.com](http://www.riolearning.com)

Elegir, de entre las opciones propuestas, la que completa la serie:



A. 1/1

C. 2/0


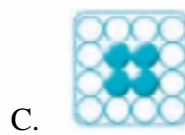
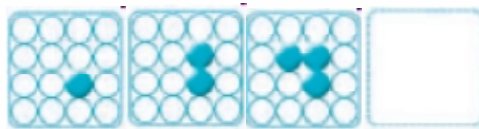
B. 0/0

D. 1/0

95.

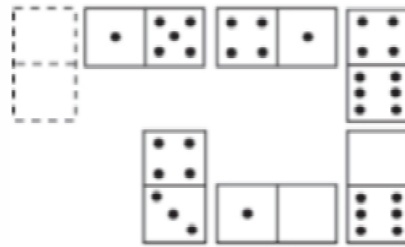
[www.riolearning.com](http://www.riolearning.com)

Señalar, de entre las propuestas, qué figura completa cada una de las series.



96. [www.riolearning.com](http://www.riolearning.com)

Elegir, de entre las opciones propuestas, la que completa la serie:



- A. 5/1
- B. 3/2
- C. 1/1
- D. 2/0

97. [www.riolearning.com](http://www.riolearning.com)

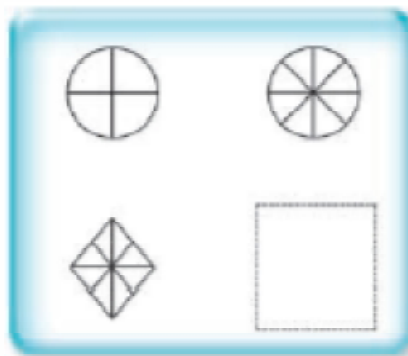
Señalar, de entre las propuestas, la letra que sigue en cada serie. (En este test no cuentan las letras CH, LL, W).

**r - g - p - e - ñ - c -**

- A. a
- B. k
- C. n
- D. m

98. [www.riolearning.com](http://www.riolearning.com)

Señalar, de entre las propuestas, qué figura falta en cada una de las series.



- A. 
- B. 
- C. 
- D. 

99.

[www.riolearning.com](http://www.riolearning.com)

Elija la que continua la serie.




- A. 10 de diamantes
- B. 10 de corazones
- C. 10 de picas
- D. 11 de tréboles

100.

[www.riolearning.com](http://www.riolearning.com)

En este prueba se trata de completar las series con las figuras de domino, eligiendo de las cuatro opciones que se les da ¿cuál es la correcta?



- A. 2-4
- B. Blanca-blanca
- C. 3-3
- D. 4-4

**Razonamiento Numérico**  
**Answer Section****MULTIPLE CHOICE**

- |            |        |
|------------|--------|
| 1. ANS: A  | PTS: 1 |
| 2. ANS: A  | PTS: 1 |
| 3. ANS: C  | PTS: 1 |
| 4. ANS: A  | PTS: 1 |
| 5. ANS: B  | PTS: 1 |
| 6. ANS: C  | PTS: 1 |
| 7. ANS: B  | PTS: 1 |
| 8. ANS: E  | PTS: 1 |
| 9. ANS: D  | PTS: 1 |
| 10. ANS: D | PTS: 1 |
| 11. ANS: D | PTS: 1 |
| 12. ANS: D | PTS: 1 |
| 13. ANS: A | PTS: 1 |
| 14. ANS: D | PTS: 1 |
| 15. ANS: D | PTS: 1 |
| 16. ANS: D | PTS: 1 |
| 17. ANS: B | PTS: 1 |
| 18. ANS: C | PTS: 1 |
| 19. ANS: D | PTS: 1 |
| 20. ANS: C | PTS: 1 |
| 21. ANS: B | PTS: 1 |
| 22. ANS: B | PTS: 1 |
| 23. ANS: C | PTS: 1 |
| 24. ANS: C | PTS: 1 |
| 25. ANS: C | PTS: 1 |
| 26. ANS: A | PTS: 1 |
| 27. ANS: C | PTS: 1 |
| 28. ANS: C | PTS: 1 |
| 29. ANS: B | PTS: 1 |
| 30. ANS: A | PTS: 1 |
| 31. ANS: A | PTS: 1 |
| 32. ANS: A | PTS: 1 |
| 33. ANS: B | PTS: 1 |
| 34. ANS: C | PTS: 1 |
| 35. ANS: B | PTS: 1 |
| 36. ANS: D | PTS: 1 |
| 37. ANS: D | PTS: 1 |
| 38. ANS: D | PTS: 1 |
| 39. ANS: C | PTS: 1 |
| 40. ANS: D | PTS: 1 |

41.	ANS: D	PTS: 1
42.	ANS: A	PTS: 1
43.	ANS: B	PTS: 1
44.	ANS: B	PTS: 1
45.	ANS: B	PTS: 1
46.	ANS: D	PTS: 1
47.	ANS: C	PTS: 1
48.	ANS: B	PTS: 1
49.	ANS: A	PTS: 1
50.	ANS: C	PTS: 1
51.	ANS: A	PTS: 1
52.	ANS: C	PTS: 1
53.	ANS: C	PTS: 1
54.	ANS: B	PTS: 1
55.	ANS: C	PTS: 1
56.	ANS: B	PTS: 1
57.	ANS: B	PTS: 1
58.	ANS: A	PTS: 1
59.	ANS: A	PTS: 1
60.	ANS: B	PTS: 1
61.	ANS: C	PTS: 1
62.	ANS: A	PTS: 1
63.	ANS: B	PTS: 1
64.	ANS: C	PTS: 1
65.	ANS: B	PTS: 1
66.	ANS: D	PTS: 1
67.	ANS: D	PTS: 1
68.	ANS: B	PTS: 1
69.	ANS: D	PTS: 1
70.	ANS: B	PTS: 1
71.	ANS: C	PTS: 1
72.	ANS: C	PTS: 1
73.	ANS: D	PTS: 1
74.	ANS: D	PTS: 1
75.	ANS: B	PTS: 1
76.	ANS: B	PTS: 1
77.	ANS: C	PTS: 1
78.	ANS: D	PTS: 1
79.	ANS: B	PTS: 1
80.	ANS: D	PTS: 1
81.	ANS: A	PTS: 1
82.	ANS: D	PTS: 1
83.	ANS: A	PTS: 1
84.	ANS: C	PTS: 1
85.	ANS: D	PTS: 1

86.	ANS: B	PTS: 1
87.	ANS: C	PTS: 1
88.	ANS: D	PTS: 1
89.	ANS: C	PTS: 1
90.	ANS: B	PTS: 1
91.	ANS: B	PTS: 1
92.	ANS: C	PTS: 1
93.	ANS: B	PTS: 1
94.	ANS: C	PTS: 1
95.	ANS: C	PTS: 1
96.	ANS: A	PTS: 1
97.	ANS: D	PTS: 1
98.	ANS: A	PTS: 1
99.	ANS: A	PTS: 1
100.	ANS: D	PTS: 1

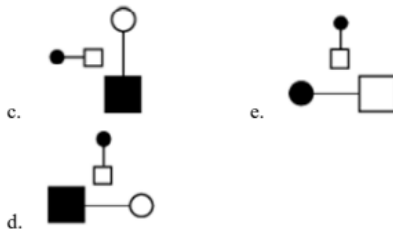
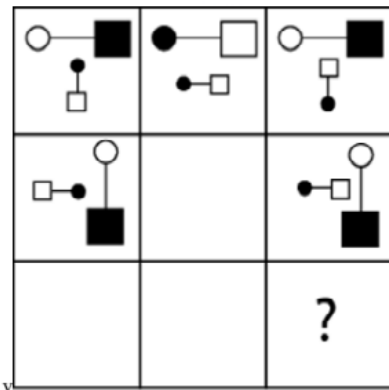
# Anexo

TAE20\_001\_001 ID:A

## Modelo de Examen de Acceso a la Educación Superior TAE20\_001\_001 ID: A

[www.riolearning.com](http://www.riolearning.com)

¿qué falta?



En la parte superior derecha del documento se muestra un código que indica el tipo de examen, número de preguntas y el ID del TEST (se cuenta con cuatro A, B, C, D)

Esta información te permitirá buscar el solucionario.

El solucionario lo puedes encontrar en nuestras redes sociales o en la página [www.multimevi.com](http://www.multimevi.com) en la sección DESCARGAS

Aula virtual

[www.riolearning.com](http://www.riolearning.com)



Ejercicios Acceso a la Educación Superior tiene licencia [CC BY-NC 4.0](https://creativecommons.org/licenses/by-nc/4.0/) © 2 por [EdFr@MeVi](mailto:EdFr@MeVi)





Forma

Test Version

Grid for Test Version

Nombre: \_\_\_\_\_

Asignatura: \_\_\_\_\_

Fecha: \_\_\_\_\_

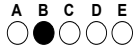
- A B C D

Cédula - Código

Grid for Cédula - Código (0-9)

- Utilice lápiz para marcar la respuesta.
Marque un círculo completo
Borre completamente el círculo para marcar una nueva respuesta

Ejemplo



Calificación

Empty box for score

Main grid of 100 questions (1-100) with options A-E



ENLACE	DETALLE	QR
<a href="http://www.multimevi.com/">http://www.multimevi.com/</a>	Página web MULTIMEVI, donde encontrarás noticias y recursos	
<a href="https://t.me/+Klr3YaM42_ZhZTIx">https://t.me/+Klr3YaM42_ZhZTIx</a>	Grupo de apoyo en TELEGRAM	
<a href="https://chat.whatsapp.com/IQuCCcZjtLjIkLfgzXo68Y">https://chat.whatsapp.com/IQuCCcZjtLjIkLfgzXo68Y</a>	<u>GRUPO DE WHATSAPP</u>	
<a href="https://whatsapp.com/channel/0029VaBB2zQHwXb5Vhn9Yw1W">https://whatsapp.com/channel/0029VaBB2zQHwXb5Vhn9Yw1W</a>	Canal de noticias WhatsApp	
<a href="https://www.facebook.com/multimevi.ec/">https://www.facebook.com/multimevi.ec/</a>	Perfil de facebook	
<a href="https://www.facebook.com/groups/multimevi">https://www.facebook.com/groups/multimevi</a>	Grupo FULL Rectivos	
<a href="https://www.tiktok.com/@multimevi">https://www.tiktok.com/@multimevi</a>	Canal de TIK TOK	
<a href="https://www.instagram.com/multimevi.ec/">https://www.instagram.com/multimevi.ec/</a>	Canal de Instagram	
<a href="https://twitter.com/multimevi">https://twitter.com/multimevi</a>	Red X	

# Modelo K

## Plataforma MOODLE

 [www.riolearning.com](http://www.riolearning.com)

## Página Web



[www.multimevi.com](http://www.multimevi.com)

## Redes Sociales



## Procesos



**ACCESO** a la Educación Superior  
SENESCYT

**QUIERO SER MAESTRO**  
Ministerio de Educación