


# Modelo I



# Razonamiento Matemático

Preguntas modelo  
examen de acceso a la educación superior



**ACCESO** a la Educación Superior  
SENESCYT





**QUIERO SER MAESTRO**  
Ministerio de Educación

**Razonamiento Numérico**


**Opción Múltiple**

Elige la opción que complete mejor el enunciado o que responda mejor a la pregunta.

1. [www.riolearning.com](http://www.riolearning.com)  
 Señalar, de entre las propuestas, qué figura falta en cada una de las series.



2. [www.riolearning.com](http://www.riolearning.com)  
 En este prueba se trata de completar las series con las figuras de domino, eligiendo de las cuatro opciones que se les da ¿cuál es la correcta?



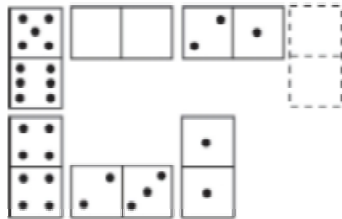
- A. Ninguna es correcta
- B. 2-4
- C. 2-3
- D. 3-3

3. Señalar, de entre las propuestas, la letra que sigue en cada serie. (En este test no cuentan las letras CH, LL, W).

**m - n - o - p - q - s - t - u - v -**


- A. z
- B. x
- C. y
- D. m


4. Elegir, de entre las opciones propuestas, la que completa la serie:



- A. 3/3
- B. 3/4
- C. 1/3
- D. 2/2

5. Señalar, de entre las propuestas, qué figura completa cada una de las series.




- A. 
- B. 
- C. 
- D. 






6. Señalar, de entre las propuestas, la letra que sigue en cada serie. (En este test no cuentan las letras CH, LL, W).

**d - g - k - o -**

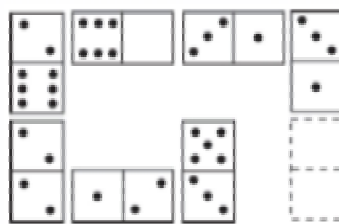
- A. t
- B. u
- C. s
- D. p

7. Señalar, de entre las propuestas, qué figura falta en cada una de las series.



- A. 
- B. 
- C. 
- D. 
- E. 

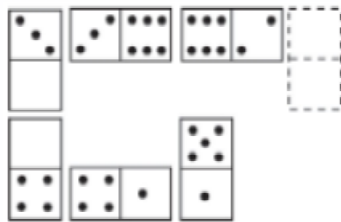
8. Elegir, de entre las opciones propuestas, la que completa la serie:



- A. 1/3
- B. 3/6
- C. 2/0
- D. 0/6

9. [www.riolearning.com](http://www.riolearning.com)


Elegir, de entre las opciones propuestas, la que completa la serie:



- A.  $1/4$
- B.  $3/4$
- C.  $2/5$
- D.  $2/5$

10. [www.riolearning.com](http://www.riolearning.com)

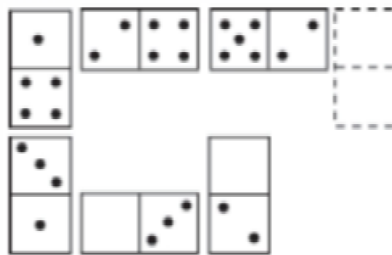
¿Qué 2 cartas faltan?



- A. Delante la K de diamantes y detrás el 10 de diamantes
- B. Delante el 10 de picas y detrás la K de corazones
- C. Ninguna es correcta
- D. Delante el 10 de corazones y detrás la K de tréboles

11. [www.riolearning.com](http://www.riolearning.com)

Elegir, de entre las opciones propuestas, la que completa la serie:




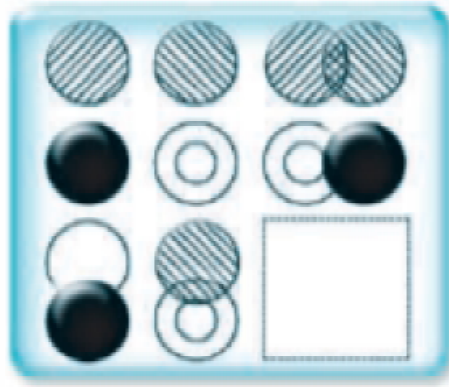


- A.  $\frac{3}{6}$
- B.  $\frac{3}{5}$
- C.  $\frac{4}{3}$
- D.  $\frac{2}{0}$

12.

[www.riolearning.com](http://www.riolearning.com)


Señalar, de entre las propuestas, qué figura completa cada una de las series.



13.

[www.riolearning.com](http://www.riolearning.com)


Señalar, de entre las propuestas, qué figura completa cada una de las series.



14.

[www.riolearning.com](http://www.riolearning.com)

¿Qué carta continua la serie?

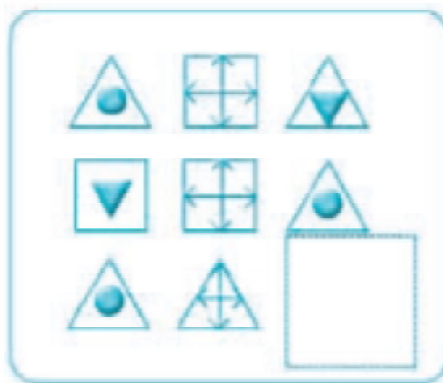


- A. La J de tréboles
- B. La J de picas
- C. La J de diamantes
- D. Ninguna de las anteriores es correcta

15.

[www.riolearning.com](http://www.riolearning.com)

Señalar, de entre las propuestas, qué figura completa cada una de las series.

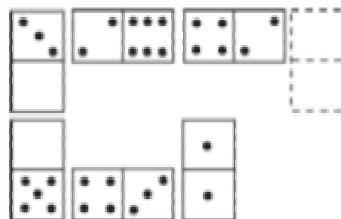


- A.
- B.
- C.
- D.

16.

[www.riolearning.com](http://www.riolearning.com)

Elegir, de entre las opciones propuestas, la que completa la serie:



- A. 1/3
- B. 6/5
- C. 0/5
- D. 5/4

17. [www.riolearning.com](http://www.riolearning.com)

Señalar el número que sigue en cada serie de entre las soluciones propuestas.

27 - 28 - 29 - 25 - 24 - 30 - 31 - 32 - 23 - 22 -

- A. 23
- B. 33
- C. 21
- D. 32

18. [www.riolearning.com](http://www.riolearning.com)

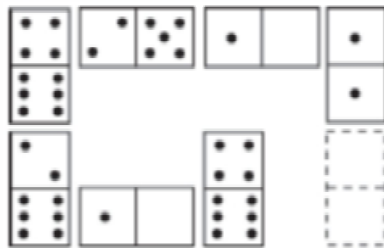
Señalar el número que sigue en cada serie de entre las soluciones propuestas.

7 - 9 - 5 - 6 - 8 - 4 - 5 - 7 -

- A. 6
- B. 9
- C. 3
- D. 4

19. [www.riolearning.com](http://www.riolearning.com)

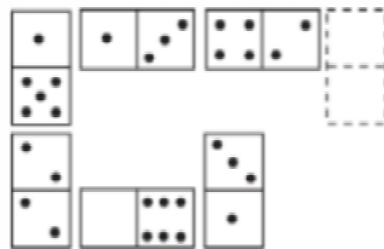
Elegir, de entre las opciones propuestas, la que completa la serie:



- A. 5/1
- B. 4/3
- C. 4/2
- D. 6/3

20. [www.riolearning.com](http://www.riolearning.com)

Elegir, de entre las opciones propuestas, la que completa la serie:



- A. 1/4
- B. 6/2
- C. 0/4
- D. 6/3

21. 

Señalar el número que sigue en cada serie de entre las soluciones propuestas.

**6 - 8 - 7 - 10 - 8 - 12 -**

- A. 15
- B. 9
- C. 14
- D. 8

22. 

Señalar, de entre las propuestas, la letra que sigue en cada serie. (En este test no cuentan las letras CH, LL, W).

**l - u - n - t - o - r - q - o -**

- A. s
- B. t
- C. r
- D. n

23. 

Señalar el número que sigue en cada serie de entre las soluciones propuestas.

**52 - 53 - 55 - 58 - 62 -**

- A. 66
- B. 68
- C. 65
- D. 67

24. 


Señalar, de entre las propuestas, la letra que sigue en cada serie. (En este test no cuentan las letras CH, LL, W).

**m - m - m - n - n - ñ - o - o - o - p - p**

- A. p
- B. o
- C. q
- D. m

25. [www.riolearning.com](http://www.riolearning.com)

¿Qué carta pondría en el hueco en blanco?



- A. El 4 de corazones
- B. El 5 de corazones
- C. Ninguna es correcta.
- D. El 6 de corazones

26. [www.riolearning.com](http://www.riolearning.com)

Señalar, de entre las propuestas, la letra que sigue en cada serie. (En este test no cuentan las letras CH, LL, W).

**k - o - s - v -**

- A. x
- B. u
- C. t
- D. y

27. [www.riolearning.com](http://www.riolearning.com)


Señalar el número que sigue en cada serie de entre las soluciones propuestas.

**15 - 14 - 17 - 12 - 11 - 14 -**

- A. 9
- B. 17
- C. 15
- D. 11

28. [www.riolearning.com](http://www.riolearning.com)

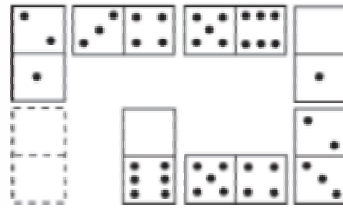
Elija la que continua la serie.



- A. El 3 de corazones
- B. El 4 de picas
- C. Ninguna de las anteriores es la correct
- D. El 4 de tréboles

29. [www.riolearning.com](http://www.riolearning.com)


Elegir, de entre las opciones propuestas, la que completa la serie:



- A. 0/6
- B. 1/6
- C. 0/0
- D. 1/5

30. [www.riolearning.com](http://www.riolearning.com)

Señalar, de entre las propuestas, qué figura completa cada una de las series.



- A. 
- B. 
- C. 
- D. 

31. [www.riolearning.com](http://www.riolearning.com)

Señalar, de entre las propuestas, la letra que sigue en cada serie. (En este test no cuentan las letras CH, LL, W).

**i - b - k - z - m - x**

- A. v
- B. n
- C. u
- D. ñ

32. [www.riolearning.com](http://www.riolearning.com)

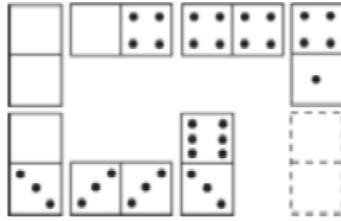
Señalar el número que sigue en cada serie de entre las soluciones propuestas.

**20 - 22 - 25 - 28 - 30 - 33 - 36 - 38 -**

- A. 42
- B. 41
- C. 39
- D. 40

33. [www.riolearning.com](http://www.riolearning.com)

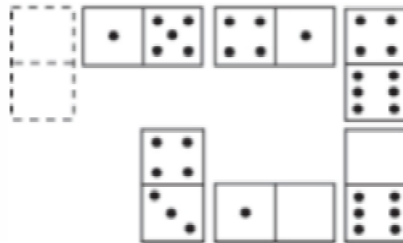
Elegir, de entre las opciones propuestas, la que completa la serie:



- A. 4/4
- B. 1/4
- C. 1/1
- D. 1/5

34. [www.riolearning.com](http://www.riolearning.com)

Elegir, de entre las opciones propuestas, la que completa la serie:



- A. 2/0
- B. 3/2
- C. 1/1
- D. 5/1

35. [www.riolearning.com](http://www.riolearning.com)

Señalar, de entre las propuestas, la letra que sigue en cada serie. (En este test no cuentan las letras CH, LL, W).

**b - f - y - c - u - z -**

- A. g
- B. u
- C. d
- D. r


36. [www.riolearning.com](http://www.riolearning.com)

Señalar, de entre las propuestas, qué figura completa cada una de las series.



37. [www.riolearning.com](http://www.riolearning.com)

En este prueba se trata de completar las series con las figuras de domino, eligiendo de las cuatro opciones que se les da ¿cuál es la correcta?



- A. 2-5
- B. 5-5
- C. 6-5
- D. Blanca-5

38. [www.riolearning.com](http://www.riolearning.com)

Señalar el número que sigue en cada serie de entre las soluciones propuestas.

**14 - 15 - 16 - 15 - 16 - 17 - 16 - 17 - 18 -**

- A. 17
- B. 19
- C. 15
- D. 14

39. [www.riolearning.com](http://www.riolearning.com)

Señalar el número que sigue en cada serie de entre las soluciones propuestas.

**6 - 7 - 6 - 8 - 7 - 7 - 7 - 8 - 8 - 7 -**


- A. 8
- B. 7
- C. 9
- D. 6

40. [www.riolearning.com](http://www.riolearning.com)  
 Señalar, de entre las propuestas, la letra que sigue en cada serie. (En este test no cuentan las letras CH, LL, W).

**b - d - h - n - u -**

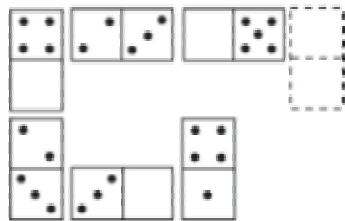
- A. z
- B. c
- C. f
- D. y

41. [www.riolearning.com](http://www.riolearning.com)  
 Continúa la serie



- A. La J de picas
- B. La Q de corazones
- C. La J de tréboles
- D. La Q de picas


42. [www.riolearning.com](http://www.riolearning.com)  
 Elegir, de entre las opciones propuestas, la que completa la serie:



- A. 1/5
- B. 3/5
- C. 1/4
- D. 2/3

43. [www.riolearning.com](http://www.riolearning.com)


¿Qué carta continua la serie?



- A. As de tréboles
- B. 9 de corazones
- C. As de picas
- D. 9 de diamantes

44. [www.riolearning.com](http://www.riolearning.com)

Elegir, de entre las opciones propuestas, la que completa la serie:



- A. 0/0
- B. 2/0
- C. 1/1
- D. 1/0

45. [www.riolearning.com](http://www.riolearning.com)

Señalar, de entre las propuestas, la letra que sigue en cada serie. (En este test no cuentan las letras CH, LL, W).

**d - h - f - i - h - l - j - m - l -**

- A. o
- B. k
- C. ñ
- D. j

46. [www.riolearning.com](http://www.riolearning.com)

Señalar el número que sigue en cada serie de entre las soluciones propuestas.


**12 - 13 - 16 - 17 - 20 - 21 -**

- A. 22
- B. 25
- C. 27
- D. 24

47.

[www.riolearning.com](http://www.riolearning.com)

En este prueba se trata de completar las series con las figuras de domino, eligiendo de las cuatro opciones que se les da ¿cuál es la correcta?




- A. Blanca-5
- B. 5-5
- C. 6-5
- D. Blanca-1



48.

[www.riolearning.com](http://www.riolearning.com)

Señalar, de entre las propuestas, qué figura completa cada una de las series.



- A. 
- B. 


- C. 
- D. 

49.

[www.riolearning.com](http://www.riolearning.com)

**NAIPES**

Elija la que continua la serie.




- A. 7 de corazones
- B. 6 de picas
- C. 6 de corazones
- D. 7 de diamantes

50.

[www.riolearning.com](http://www.riolearning.com)

Elija la que continua la serie.




- A. 3 diamantes
- B. 11 de corazones
- C. 12 de picas
- D. 10 de picas

51.

[www.riolearning.com](http://www.riolearning.com)


Señalar, de entre las propuestas, qué figura completa cada una de las series.



52.

[www.riolearning.com](http://www.riolearning.com)

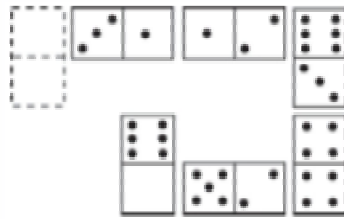
En este prueba se trata de completar las series con las figuras de domino, eligiendo de las cuatro opciones que se les da ¿cuál es la correcta?



- A. Blanca-1
- B. 1-blanca
- C. 1-2
- D. 2-1

53. [www.riolearning.com](http://www.riolearning.com)

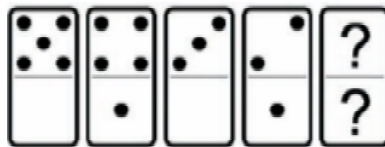
Elegir, de entre las opciones propuestas, la que completa la serie:



- A. 0/5
- B. 0/4
- C. 2/5
- D. 1/6

54. [www.riolearning.com](http://www.riolearning.com)

En este prueba se trata de completar las series con las figuras de domino, eligiendo de las cuatro opciones que se les da ¿cuál es la correcta?



- A. 1-1
- B. Blanca-1
- C. 2-blanca
- D. 1-blanca

55. [www.riolearning.com](http://www.riolearning.com)

Señalar, de entre las propuestas, la letra que sigue en cada serie. (En este test no cuentan las letras CH, LL, W).

**m - m - ñ - p - p - r - t -**

- A. v
- B. t
- C. u
- D. s

56. [www.riolearning.com](http://www.riolearning.com)

Señalar el número que sigue en cada serie de entre las soluciones propuestas.

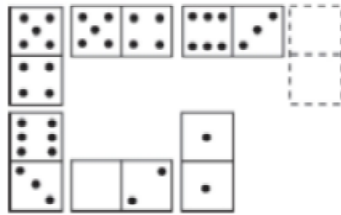
**8 - 11 - 9 - 12 - 10 - 13 -**

- A. 11
- B. 8
- C. 16
- D. 15

57.

[www.riolearning.com](http://www.riolearning.com)

Elegir, de entre las opciones propuestas, la que completa la serie:



- A. 1/2
- B. 0/3
- C. 0/2
- D. 5/4

58.

[www.riolearning.com](http://www.riolearning.com)

Señalar el número que sigue en cada serie de entre las soluciones propuestas.

59 - 57 - 54 - 50 - 45 -

- A. 40
- B. 41
- C. 44
- D. 39

59.

[www.riolearning.com](http://www.riolearning.com)

Elija la que continua la serie.



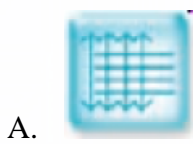
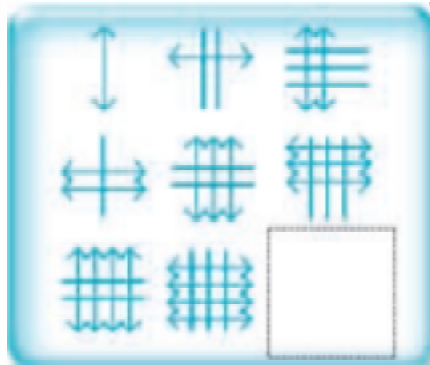


- A. 10 de diamantes
- B. 10 de corazones
- C. 11 de tréboles
- D. 10 de picas

60.

[www.riolearning.com](http://www.riolearning.com)

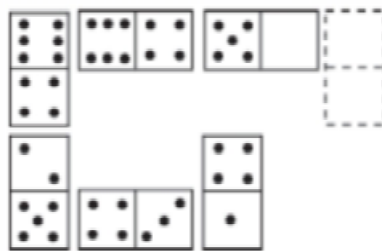
Señalar, de entre las propuestas, qué figura completa cada una de las series.



61.

[www.riolearning.com](http://www.riolearning.com)

Elegir, de entre las opciones propuestas, la que completa la serie:




- A. 2/6
- B. 1/4

- C. 6/5
- D. 0/5

62.

[www.riollearning.com](http://www.riollearning.com)

Señalar, de entre las propuestas, qué figura falta en cada una de las series.



A.



C.



E.



B.




D.



63.

[www.riollearning.com](http://www.riollearning.com)

En este prueba se trata de completar las series con las figuras de domino, eligiendo de las cuatro opciones que se les da ¿cuál es la correcta?



- A. 4-3
- B. 2-4
- C. 3-4
- D. 1-4

64.

[www.riollearning.com](http://www.riollearning.com)

Señalar, de entre las propuestas, la letra que sigue en cada serie. (En este test no cuentan las letras CH, LL, W).

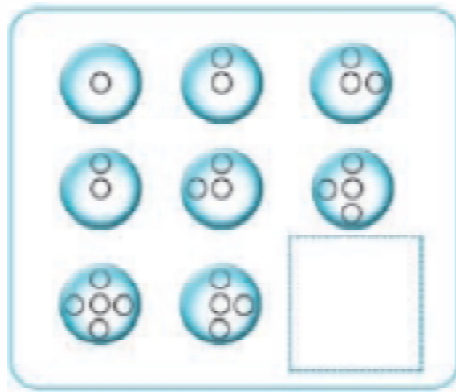
**d - g - j - e - h - k - f -**

- A. c
- B. g
- C. j
- D. i

65.

[www.riolearning.com](http://www.riolearning.com)

Señalar, de entre las propuestas, qué figura completa cada una de las series.



A.



C.



B.



D.



66.

[www.riolearning.com](http://www.riolearning.com)

Señalar, de entre las propuestas, qué figura completa cada una de las series.



A.



C.



B.



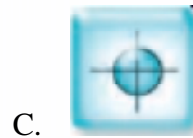
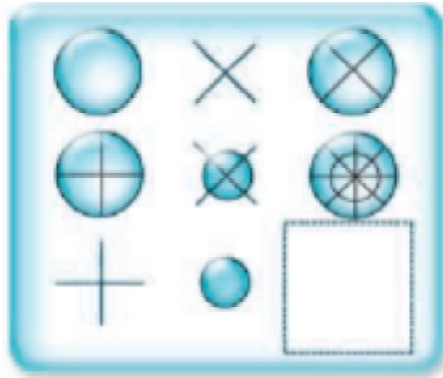
D.



67.

[www.riolearning.com](http://www.riolearning.com)



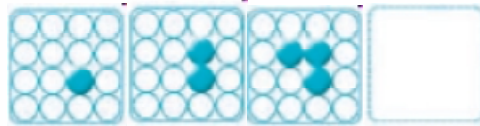
Señalar, de entre las propuestas, qué figura completa cada una de las series.



68.

[www.riolearning.com](http://www.riolearning.com)


Señalar, de entre las propuestas, qué figura completa cada una de las series.



69.

[www.riolearning.com](http://www.riolearning.com)

¿Qué carta pondría en el hueco en blanco?




- A. El 6 de corazones
- B. El K de corazones
- C. La J de corazones
- D. El 5 de corazones

70.

[www.riolearning.com](http://www.riolearning.com)

Señalar, de entre las propuestas, qué figura completa cada una de las series.




- A.
- B.

- C.
- D.

71.

[www.riolearning.com](http://www.riolearning.com)

En este prueba se trata de completar las series con las figuras de domino, eligiendo de las cuatro opciones que se les da ¿cuál es la correcta?

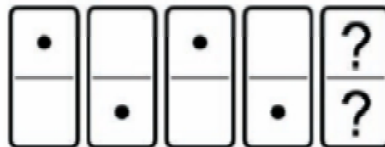


- A. Blanca-1
- B. 6-1
- C. 1-blanca
- D. 1-1

72.

[www.riolearning.com](http://www.riolearning.com)

En este prueba se trata de completar las series con las figuras de domino, eligiendo de las cuatro opciones que se les da ¿cuál es la correcta?



- A. Blanca-1
- B. 1-1
- C. 1-blanca
- D. Blanca-blanca

73.

[www.riolearning.com](http://www.riolearning.com)

Señalar el número que sigue en cada serie de entre las soluciones propuestas.

**17 - 21 - 27 - 35 - 45 -**

- A. 50
- B. 53
- C. 57
- D. 49

74.

[www.riolearning.com](http://www.riolearning.com)

Señalar, de entre las propuestas, la letra que sigue en cada serie. (En este test no cuentan las letras CH, LL, W).

**v - u - t - r - q - p - n - m - l -**

- A. i
- B. h
- C. k
- D. c

75. [www.riolearning.com](http://www.riolearning.com)

Señalar el número que sigue en cada serie de entre las soluciones propuestas.

**3 - 5 - 4 - 6 - 5 - 7 -**

- A. 9
- B. 8
- C. 6
- D. 5

76. [www.riolearning.com](http://www.riolearning.com)


Señalar, de entre las propuestas, la letra que sigue en cada serie. (En este test no cuentan las letras CH, LL, W).

**ñ - f - n - e - m - d - l - c -**

- A. k
- B. b
- C. a
- D. j

77. [www.riolearning.com](http://www.riolearning.com)

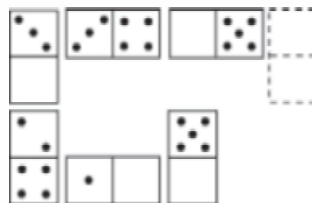
En este prueba se trata de completar las series con las figuras de domino, eligiendo de las cuatro opciones que se les da ¿cuál es la correcta?



- A. 1-1
- B. 5-5
- C. Blanca-blanca
- D. 4-4

78. [www.riolearning.com](http://www.riolearning.com)

Elegir, de entre las opciones propuestas, la que completa la serie:



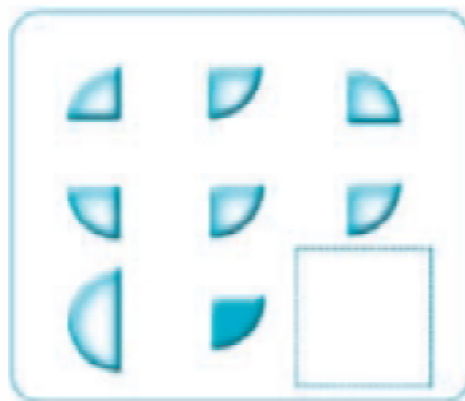
- A.  $\frac{3}{5}$
- B.  $\frac{2}{6}$
- C.  $\frac{1}{6}$
- D.  $\frac{3}{0}$


79. [www.riolearning.com](http://www.riolearning.com)  
Señalar, de entre las propuestas, la letra que sigue en cada serie. (En este test no cuentan las letras CH, LL, W).

**l - k - i - h - g - e - d - c - b -**

- A. y
- B. a
- C. e
- D. z

80. [www.riolearning.com](http://www.riolearning.com)  
Señalar, de entre las propuestas, qué figura completa cada una de las series.



- A. 
- B. 
- C. 
- D. 

81. [www.riolearning.com](http://www.riolearning.com)  
Señalar el número que sigue en cada serie de entre las soluciones propuestas.

**9 - 8 - 10 - 7 - 6 - 8 - 5 - 4 -**

- A. 1
- B. 6
- C. 7
- D. 8



85. [www.riolearning.com](http://www.riolearning.com)

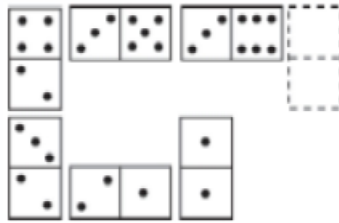
Señalar el número que sigue en cada serie de entre las soluciones propuestas.

86 - 89 - 91 - 94 - 96 -

- A. 97
- B. 87
- C. 99
- D. 100

86. [www.riolearning.com](http://www.riolearning.com)

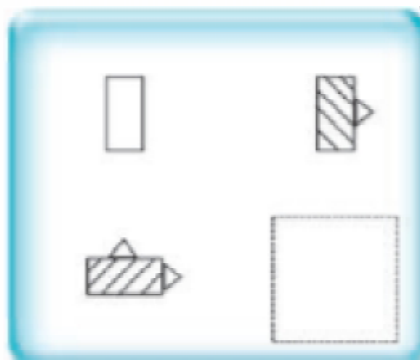
Elegir, de entre las opciones propuestas, la que completa la serie:




- A. 3/0
- B. 5/6
- C. 4/0
- D. 3/1

87. [www.riolearning.com](http://www.riolearning.com)

Señalar, de entre las propuestas, qué figura falta en cada una de las series.




- A. 
- B. 
- C. 
- D. 

88.

[www.riolearning.com](http://www.riolearning.com)

Señalar, de entre las propuestas, qué figura falta en cada una de las series.



A.



C.



B.




D.




89.

[www.riolearning.com](http://www.riolearning.com)

Señalar, de entre las propuestas, qué figura completa cada una de las series.



A.



C.



B.




D.



90.

[www.riolearning.com](http://www.riolearning.com)

En este prueba se trata de completar las series con las figuras de domino, eligiendo de las cuatro opciones que se les da ¿cuál es la correcta?




- A. Blanca-4
- B. 4-blanca
- C. 6-4
- D. 4-6

91.

[www.riolearning.com](http://www.riolearning.com)

¿Qué carta continua la serie?

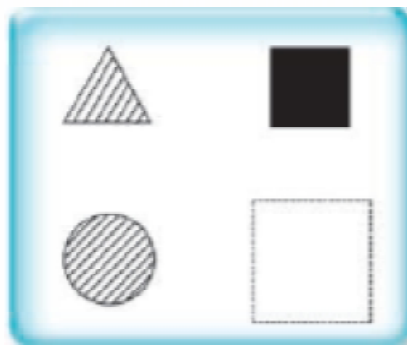




- A. El 3 de diamantes
- B. El 3 de corazones
- C. El 2 de corazones
- D. El 2 de diamantes



92.

[www.riolearning.com](http://www.riolearning.com)

Señalar, de entre las propuestas, qué figura falta en cada una de las series.




- A. 
- B. 

- C. 
- D. 

93.

[www.riolearning.com](http://www.riolearning.com)

En este prueba se trata de completar las series con las figuras de domino, eligiendo de las cuatro opciones que se les da ¿cuál es la correcta?



- A. 4-4
- B. Blanca-blanca
- C. 3-3
- D. 2-4

94.

[www.riolearning.com](http://www.riolearning.com)

Señalar el número que sigue en cada serie de entre las soluciones propuestas.

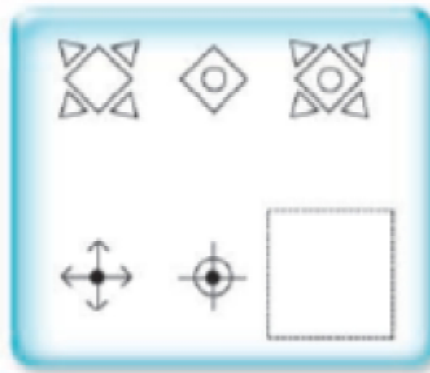
17 - 19 - 22 - 24 - 27 -

- A. 32
- B. 28
- C. 29
- D. 30

95.

[www.riolearning.com](http://www.riolearning.com)

Señalar, de entre las propuestas, qué figura falta en cada una de las series.



A.



B.



C.



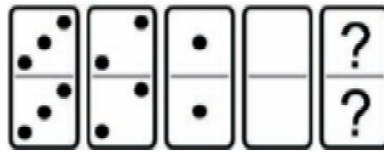
D.



96.

[www.riolearning.com](http://www.riolearning.com)

En este prueba se trata de completar las series con las figuras de domino, eligiendo de las cuatro opciones que se les da ¿cuál es la correcta?



- A. 5-4
- B. Ninguna es correcta
- C. 4-5
- D. 5-5

97.

[www.riolearning.com](http://www.riolearning.com)

Señalar, de entre las propuestas, la letra que sigue en cada serie. (En este test no cuentan las letras CH, LL, W).

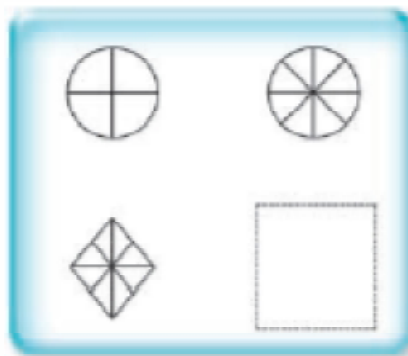
**b - z - u - o - h -**

- A. y
- B. z
- C. v
- D. x

98.

[www.riolearning.com](http://www.riolearning.com)

Señalar, de entre las propuestas, qué figura falta en cada una de las series.



- A. 
- B. 
- C. 
- D. 

99.

[www.riolearning.com](http://www.riolearning.com)

Señalar, de entre las propuestas, la letra que sigue en cada serie. (En este test no cuentan las letras CH, LL, W).


**r - g - p - e - ñ - c -**

- A. k
- B. m
- C. a
- D. n

100.

[www.riolearning.com](http://www.riolearning.com)

Continúa la serie



- A. 6 de tréboles
- B. 6 de diamantes
- C. Ninguna es correcta
- D. 6 de corazones

**Razonamiento Numérico**  
**Answer Section****MULTIPLE CHOICE**

- |            |        |
|------------|--------|
| 1. ANS: A  | PTS: 1 |
| 2. ANS: D  | PTS: 1 |
| 3. ANS: C  | PTS: 1 |
| 4. ANS: A  | PTS: 1 |
| 5. ANS: A  | PTS: 1 |
| 6. ANS: B  | PTS: 1 |
| 7. ANS: C  | PTS: 1 |
| 8. ANS: D  | PTS: 1 |
| 9. ANS: C  | PTS: 1 |
| 10. ANS: C | PTS: 1 |
| 11. ANS: B | PTS: 1 |
| 12. ANS: C | PTS: 1 |
| 13. ANS: D | PTS: 1 |
| 14. ANS: A | PTS: 1 |
| 15. ANS: A | PTS: 1 |
| 16. ANS: B | PTS: 1 |
| 17. ANS: B | PTS: 1 |
| 18. ANS: C | PTS: 1 |
| 19. ANS: B | PTS: 1 |
| 20. ANS: C | PTS: 1 |
| 21. ANS: B | PTS: 1 |
| 22. ANS: A | PTS: 1 |
| 23. ANS: D | PTS: 1 |
| 24. ANS: C | PTS: 1 |
| 25. ANS: B | PTS: 1 |
| 26. ANS: D | PTS: 1 |
| 27. ANS: A | PTS: 1 |
| 28. ANS: C | PTS: 1 |
| 29. ANS: A | PTS: 1 |
| 30. ANS: A | PTS: 1 |
| 31. ANS: D | PTS: 1 |
| 32. ANS: B | PTS: 1 |
| 33. ANS: C | PTS: 1 |
| 34. ANS: D | PTS: 1 |
| 35. ANS: D | PTS: 1 |
| 36. ANS: A | PTS: 1 |
| 37. ANS: A | PTS: 1 |
| 38. ANS: A | PTS: 1 |
| 39. ANS: A | PTS: 1 |
| 40. ANS: C | PTS: 1 |

41.	ANS: D	PTS: 1
42.	ANS: C	PTS: 1
43.	ANS: C	PTS: 1
44.	ANS: B	PTS: 1
45.	ANS: A	PTS: 1
46.	ANS: D	PTS: 1
47.	ANS: A	PTS: 1
48.	ANS: B	PTS: 1
49.	ANS: D	PTS: 1
50.	ANS: A	PTS: 1
51.	ANS: A	PTS: 1
52.	ANS: C	PTS: 1
53.	ANS: A	PTS: 1
54.	ANS: D	PTS: 1
55.	ANS: B	PTS: 1
56.	ANS: A	PTS: 1
57.	ANS: C	PTS: 1
58.	ANS: D	PTS: 1
59.	ANS: A	PTS: 1
60.	ANS: D	PTS: 1
61.	ANS: D	PTS: 1
62.	ANS: B	PTS: 1
63.	ANS: D	PTS: 1
64.	ANS: D	PTS: 1
65.	ANS: B	PTS: 1
66.	ANS: C	PTS: 1
67.	ANS: C	PTS: 1
68.	ANS: D	PTS: 1
69.	ANS: A	PTS: 1
70.	ANS: D	PTS: 1
71.	ANS: B	PTS: 1
72.	ANS: C	PTS: 1
73.	ANS: C	PTS: 1
74.	ANS: B	PTS: 1
75.	ANS: C	PTS: 1
76.	ANS: A	PTS: 1
77.	ANS: D	PTS: 1
78.	ANS: B	PTS: 1
79.	ANS: D	PTS: 1
80.	ANS: C	PTS: 1
81.	ANS: B	PTS: 1
82.	ANS: D	PTS: 1
83.	ANS: D	PTS: 1
84.	ANS: D	PTS: 1
85.	ANS: C	PTS: 1

86.	ANS: C	PTS: 1
87.	ANS: A	PTS: 1
88.	ANS: D	PTS: 1
89.	ANS: A	PTS: 1
90.	ANS: D	PTS: 1
91.	ANS: D	PTS: 1
92.	ANS: A	PTS: 1
93.	ANS: A	PTS: 1
94.	ANS: C	PTS: 1
95.	ANS: B	PTS: 1
96.	ANS: B	PTS: 1
97.	ANS: D	PTS: 1
98.	ANS: B	PTS: 1
99.	ANS: B	PTS: 1
100.	ANS: A	PTS: 1





Forma

Test Version

--	--	--	--	--	--	--	--	--	--	--

Nombre: \_\_\_\_\_

Asignatura: \_\_\_\_\_

Fecha: \_\_\_\_\_

A

B

C

D

0  0  0  0  0  0  0  0  0

1  1  1  1  1  1  1  1  1

2  2  2  2  2  2  2  2  2

3  3  3  3  3  3  3  3  3

4  4  4  4  4  4  4  4  4

5  5  5  5  5  5  5  5  5

6  6  6  6  6  6  6  6  6

7  7  7  7  7  7  7  7  7

8  8  8  8  8  8  8  8  8

9  9  9  9  9  9  9  9  9

Cédula - Código

Ejemplo

A B C D E

Calificación

- Utilice lápiz para marcar la respuesta.
- Marque un círculo completo
- Borre completamente el círculo para marcar una nueva respuesta

1 A B C D E

2 A B C D E

3 A B C D E

4 A B C D E

5 A B C D E

6 A B C D E

7 A B C D E

8 A B C D E

9 A B C D E

10 A B C D E

11 A B C D E

12 A B C D E

13 A B C D E

14 A B C D E

15 A B C D E

16 A B C D E

17 A B C D E

18 A B C D E

19 A B C D E

20 A B C D E

21 A B C D E

22 A B C D E

23 A B C D E

24 A B C D E

25 A B C D E

26 A B C D E

27 A B C D E

28 A B C D E

29 A B C D E

30 A B C D E

31 A B C D E

32 A B C D E

33 A B C D E

34 A B C D E

35 A B C D E

36 A B C D E

37 A B C D E

38 A B C D E

39 A B C D E

40 A B C D E

41 A B C D E

42 A B C D E

43 A B C D E

44 A B C D E

45 A B C D E

46 A B C D E

47 A B C D E

48 A B C D E

49 A B C D E

50 A B C D E

51 A B C D E

52 A B C D E

53 A B C D E

54 A B C D E

55 A B C D E

56 A B C D E

57 A B C D E

58 A B C D E

59 A B C D E

60 A B C D E

61 A B C D E

62 A B C D E

63 A B C D E

64 A B C D E

65 A B C D E

66 A B C D E

67 A B C D E

68 A B C D E

69 A B C D E

70 A B C D E

71 A B C D E

72 A B C D E

73 A B C D E

74 A B C D E

75 A B C D E

76 A B C D E

77 A B C D E

78 A B C D E

79 A B C D E

80 A B C D E

81 A B C D E

82 A B C D E

83 A B C D E

84 A B C D E

85 A B C D E

86 A B C D E

87 A B C D E

88 A B C D E

89 A B C D E

90 A B C D E

91 A B C D E

92 A B C D E

93 A B C D E

94 A B C D E

95 A B C D E

96 A B C D E

97 A B C D E

98 A B C D E

99 A B C D E

100 A B C D E



ENLACE	DETALLE	QR
<a href="http://www.multimevi.com/">http://www.multimevi.com/</a>	Página web MULTIMEVI, donde encontrarás noticias y recursos	
<a href="https://t.me/+Klr3YaM42_ZhZTIx">https://t.me/+Klr3YaM42_ZhZTIx</a>	Grupo de apoyo en TELEGRAM	
<a href="https://chat.whatsapp.com/IQuCCcZjtLjIkLfgzXo68Y">https://chat.whatsapp.com/IQuCCcZjtLjIkLfgzXo68Y</a>	<u>GRUPO DE WHATSAPP</u>	
<a href="https://whatsapp.com/channel/0029VaBB2zQHwXb5Vhn9Yw1W">https://whatsapp.com/channel/0029VaBB2zQHwXb5Vhn9Yw1W</a>	Canal de noticias WhatsApp	
<a href="https://www.facebook.com/multimevi.ec/">https://www.facebook.com/multimevi.ec/</a>	Perfil de facebook	
<a href="https://www.facebook.com/groups/multimevi">https://www.facebook.com/groups/multimevi</a>	Grupo FULL Rectivos	
<a href="https://www.tiktok.com/@multimevi">https://www.tiktok.com/@multimevi</a>	Canal de TIK TOK	
<a href="https://www.instagram.com/multimevi.ec/">https://www.instagram.com/multimevi.ec/</a>	Canal de Instagram	
<a href="https://twitter.com/multimevi">https://twitter.com/multimevi</a>	Red X	

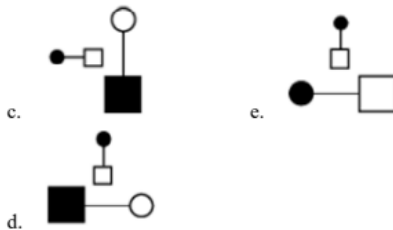
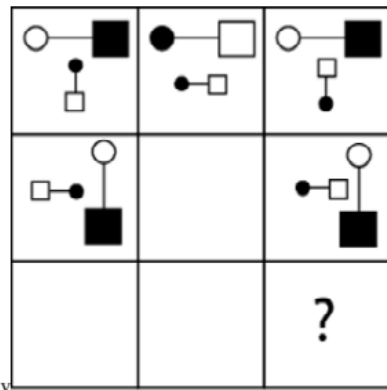
# Anexo

TAE20\_001\_001 ID:A

## Modelo de Examen de Acceso a la Educación Superior TAE20\_001\_001 ID: A

[www.riolcarning.com](http://www.riolcarning.com)

¿qué falta?



En la parte superior derecha del documento se muestra un código que indica el tipo de examen, número de preguntas y el ID del TEST (se cuenta con cuatro A, B, C, D)

Esta información te permitirá buscar el solucionario.

El solucionario lo puedes encontrar en nuestras redes sociales o en la página [www.multimevi.com](http://www.multimevi.com) en la sección DESCARGAS

Aula virtual

[www.riolearning.com](http://www.riolearning.com)



Ejercicios Acceso a la Educación Superior tiene licencia [CC BY-NC 4.0](https://creativecommons.org/licenses/by-nc/4.0/) © 2 por [EdFr@MeVi](mailto:EdFr@MeVi)

# Modelo I

## Plataforma MOODLE

 [www.riolearning.com](http://www.riolearning.com)

## Página Web



[www.multimevi.com](http://www.multimevi.com)

## Redes Sociales



## Procesos



**ACCESO** a la Educación Superior  
SENESCYT

**QUIERO SER MAESTRO**  
Ministerio de Educación