



Razonamiento Matemático

Preguntas modelo
examen de acceso a la educación superior



ACCESO a la Educación Superior
SENESCYT

QUIERO SER MAESTRO
Ministerio de Educación

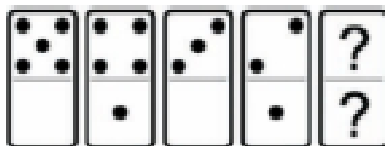
RAZONAMIENTO MATEMATICO

Opción Múltiple

Elige la opción que complete mejor el enunciado o que responda mejor a la pregunta.

1. 

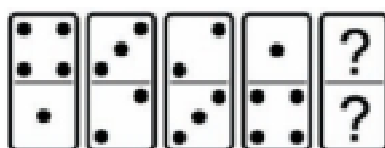
En este prueba se trata de completar las series con las figuras de domino, eligiendo de las cuatro opciones que se les da ¿cuál es la correcta?



- a. 1-blanca
- b. 1-1
- c. Blanca-1
- d. 2-blanca

2. 


En este prueba se trata de completar las series con las figuras de domino, eligiendo de las cuatro opciones que se les da ¿cuál es la correcta?



- a. 5-5
- b. 6-5
- c. Blanca-1
- d. Blanca-5

3. 

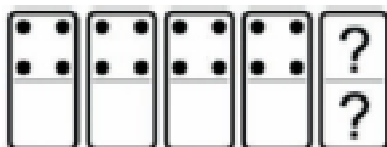
En este prueba se trata de completar las series con las figuras de domino, eligiendo de las cuatro opciones que se les da ¿cuál es la correcta?



- a. 4-6
- b. Blanca-4
- c. 4-blanca
- d. 6-4

4. www.riolearning.com

En este prueba se trata de completar las series con las figuras de domino, eligiendo de las cuatro opciones que se les da ¿cuál es la correcta?



- a. 4-1
- b. Blanca-4
- c. Blanca-1
- d. 4-blanca

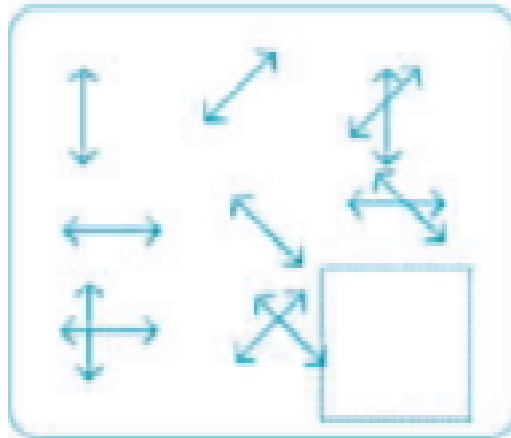
5. www.riolearning.com





Señalar el número que sigue en cada serie de entre las soluciones propuestas.

29 - 32 - 35 -

- a. 40
- b. 37
- c. 38
- d. 42

6. www.riolearning.com
Señalar, de entre las propuestas, qué figura completa cada una de las series.







- a. 
- b. 
- c. 
- d. 

7. www.riolearning.com

Señalar, de entre las propuestas, qué figura completa cada una de las series.



- a. 
- b. 
- c. 
- d. 

8. www.riolearning.com

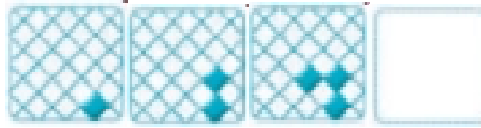
Señalar, de entre las propuestas, la letra que sigue en cada serie. (En este test no cuentan las letras CH, LL, W).





v - c - h - x - d - i - y - e -

- a. k
- b. f
- c. z
- d. j

9. www.riolearning.com


Señalar, de entre las propuestas, qué figura completa cada una de las series.



- a. 
- b. 
- c. 
- d. 

10. www.riolearning.com

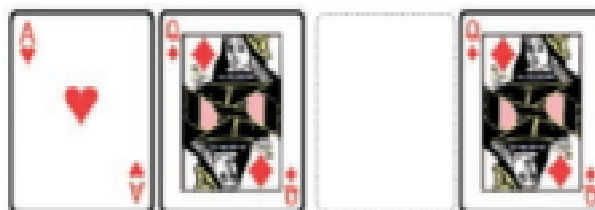
¿Qué carta continua la serie?



- a. El 8 de corazones
- b. El 10 de picas
- c. El 10 de corazones
- d. El 10 de diamantes

11. www.riolearning.com

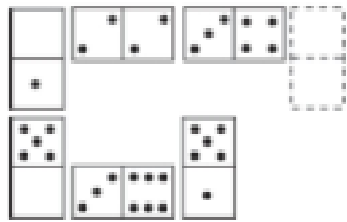
Elija la que continua la serie.



- a. La Q de picas
- b. La Q de corazones
- c. El As de corazones
- d. La J de picas

12. www.riolearning.com

Elegir, de entre las opciones propuestas, la que completa la serie:



- a. 4/6
- b. 3/0
- c. 5/6
- d. 4/5

13. www.riolearning.com

Señalar el número que sigue en cada serie de entre las soluciones propuestas.


5 - 10 - 12 - 36 -

- a. 35
- b. 40
- c. 38
- d. 39

14.

www.riolearning.com

Señalar, de entre las propuestas, qué figura falta en cada una de las series.



a.



b.



c.

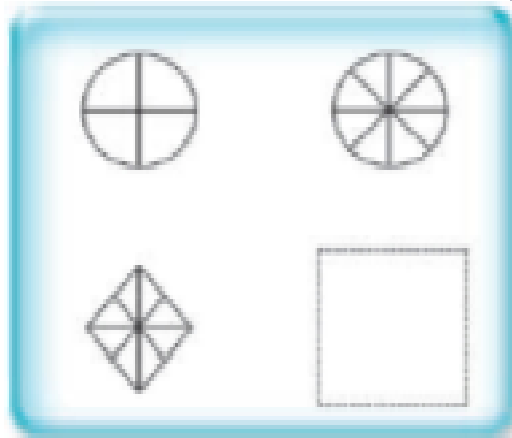






d.



15. www.riolearning.com


Señalar, de entre las propuestas, qué figura falta en cada una de las series.



- a. 
- b. 
- c. 
- d. 

16. www.riolearning.com

Elegir, de entre las opciones propuestas, la que completa la serie:



- a. $3/3$
- b. $3/2$
- c. $3/5$
- d. $4/2$

17. 

Señalar el número que sigue en cada serie de entre las soluciones propuestas.

20 - 22 - 25 - 28 - 30 - 33 - 36 - 38 -

- a. 40
- b. 39
- c. 42
- d. 41

18. 

Señalar, de entre las propuestas, la letra que sigue en cada serie. (En este test no cuentan las letras CH, LL, W).

p - q - p - r - s - p - t - u - v - p -

- a. y
- b. x
- c. p
- d. g

19. 

Señalar, de entre las propuestas, la letra que sigue en cada serie. (En este test no cuentan las letras CH, LL, W).

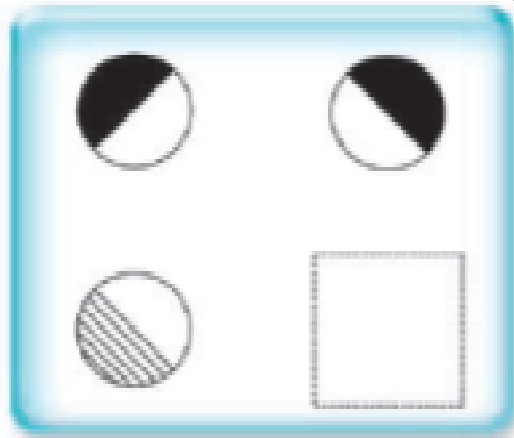
j - r - l - t - n - v -

- a. o
- b. p
- c. y
- d. q

20.

www.riolearning.com

Señalar, de entre las propuestas, qué figura falta en cada una de las series.



a.



b.



c.




d.



21.

www.riolearning.com

¿Qué carta continua la serie?



- a. 9 de picas
- b. Ninguna de las anteriores es correcta
- c. 9 de corazones
- d. 9 de diamantes

22. www.riolearning.com


Señalar, de entre las propuestas, la letra que sigue en cada serie. (En este test no cuentan las letras CH, LL, W).





i - b - k - z - m - x

- a. ñ
- b. n
- c. v
- d. u

23. www.riolearning.com

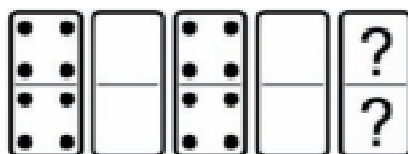
Señalar, de entre las propuestas, qué figura completa cada una de las series.



- a. 
- b. 
- c. 
- d. 

24. www.riolearning.com


En este prueba se trata de completar las series con las figuras de domino, eligiendo de las cuatro opciones que se les da ¿cuál es la correcta?



- a. 4-4
- b. Blanca-blanca
- c. 2-4
- d. 3-3

25. www.riolearning.com

Elegir, de entre las opciones propuestas, la que completa la serie:



- a. 3/6
- b. 1/3
- c. 2/0
- d. 0/6

26. www.riolearning.com

Señalar el número que sigue en cada serie de entre las soluciones propuestas.

22 - 21 - 20 - 18 - 17 - 16 - 14 - 13 - 12 -

- a. 10
- b. 11
- c. 8
- d. 6

27. www.riolearning.com

Señalar el número que sigue en cada serie de entre las soluciones propuestas.

50 - 15 - 40 - 25 - 30 - 35 -

- a. 30
- b. 40
- c. 20
- d. 45

28. www.riolearning.com

Señalar, de entre las propuestas, la letra que sigue en cada serie. (En este test no cuentan las letras CH, LL, W).

d - g - k - o -

- a. s
- b. p
- c. t
- d. u

29. www.riolearning.com


Señalar, de entre las propuestas, la letra que sigue en cada serie. (En este test no cuentan las letras CH, LL, W).






ñ - f - n - e - m - d - l - c -

- a. a
- b. k
- c. j
- d. b

30. www.riolearning.com

Señalar, de entre las propuestas, qué figura falta en cada una de las series.



- a. 
- b. 
- c. 
- d. 
- e. 

31. www.riolearning.com

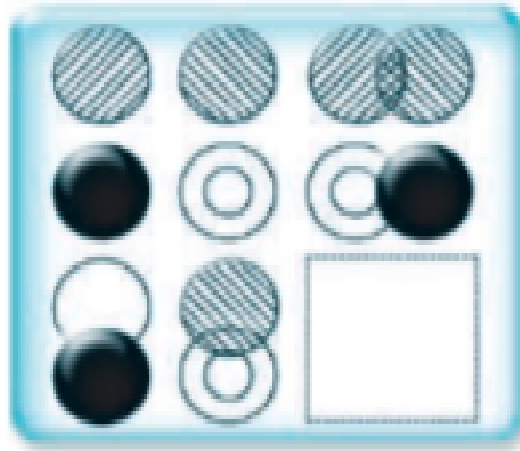
Señalar el número que sigue en cada serie de entre las soluciones propuestas.

14 - 15 - 16 - 15 - 16 - 17 - 16 - 17 - 18 -

- a. 19
- b. 15
- c. 14
- d. 17

32. www.riolearning.com

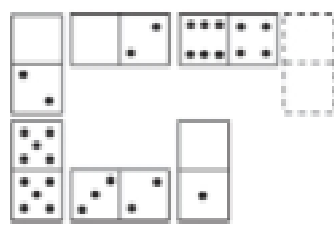
Señalar, de entre las propuestas, qué figura completa cada una de las series.



- a.
- b.
- c.
- d.

33. www.riolearning.com

Elegir, de entre las opciones propuestas, la que completa la serie:



- a. 6/6
- b. 5/1
- c. 5/6
- d. 0/0

34. 


Señalar, de entre las propuestas, la letra que sigue en cada serie. (En este test no cuentan las letras CH, LL, W).





g - h - n - ñ - t - u -

- a. b
- b. c
- c. g
- d. x

35. 


Señalar, de entre las propuestas, qué figura completa cada una de las series.








- a. 
- b. 
- c. 
- d. 

36. www.riolearning.com

Señalar, de entre las propuestas, qué figura falta en cada una de las series.



- a. 
- b. 
- c. 
- d. 
- e. 

37. www.riolearning.com

Señalar, de entre las propuestas, la letra que sigue en cada serie. (En este test no cuentan las letras CH, LL, W).

k - t - e -

- a. z
- b. s
- c. l
- d. ñ

38. www.riolearning.com

Señalar el número que sigue en cada serie de entre las soluciones propuestas.





38 - 34 - 30 -

- a. 29
- b. 28
- c. 32
- d. 26

39. www.riolearning.com

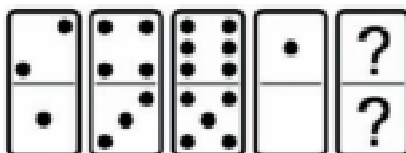
Señalar, de entre las propuestas, qué figura completa cada una de las series.



- a. 
- b. 
- c. 
- d. 

40. www.riolearning.com

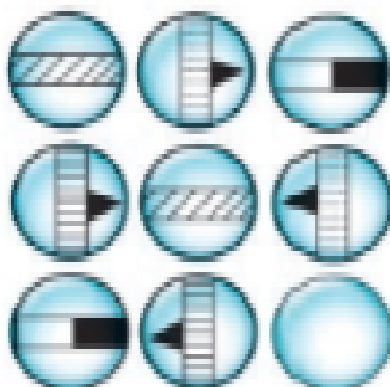
En este prueba se trata de completar las series con las figuras de domino, eligiendo de las cuatro opciones que se les da ¿cuál es la correcta?



- a. Blanca-blanca
- b. 2-2
- c. 1-1
- d. 3-2

41. www.riolearning.com


Señalar, de entre las propuestas, qué figura falta en cada una de las series.



- a.
- b.
- c.
- d.
- e.

42. www.riolearning.com

¿Qué carta continua la serie?



- a. As de tréboles
- b. 9 de corazones
- c. 9 de diamantes
- d. As de picas

43. www.riolearning.com

Señalar, de entre las propuestas, la letra que sigue en cada serie. (En este test no cuentan las letras CH, LL, W).

f - h - l - n - q -

- a. p
- b. u
- c. t
- d. s

44. www.riolearning.com

Señalar, de entre las propuestas, la letra que sigue en cada serie. (En este test no cuentan las letras CH, LL, W).

b - z - u - o - h -

- a. v
- b. x
- c. z
- d. y

45. www.riolearning.com

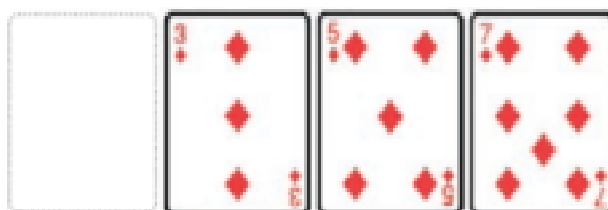
Señalar, de entre las propuestas, la letra que sigue en cada serie. (En este test no cuentan las letras CH, LL, W).

c - c - c - d - e - c - c - f - g - h - c - c - c -

- a. i
- b. h
- c. j
- d. c

46. www.riolearning.com

¿Qué carta continua la serie?



- a. El As de diamantes
- b. El As de tréboles
- c. El As de corazones
- d. El As de picas

47. Señalar el número que sigue en cada serie de entre las soluciones propuestas.

47 - 48 - 46 - 47 - 45 -

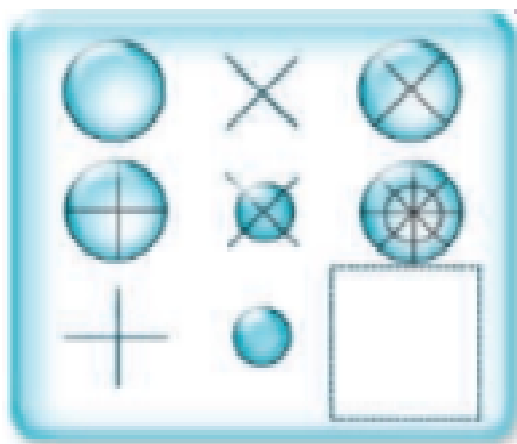
- a. 46
- b. 41
- c. 43
- d. 47

48. Señalar el número que sigue en cada serie de entre las soluciones propuestas.

62 - 58 - 55 - 53 -

- a. 47
- b. 50
- c. 52
- d. 49

49. Señalar, de entre las propuestas, qué figura completa cada una de las series.




- a.
- b.
- c.
- d.

50.

www.riolearning.com

Elija la que continua la serie.




- a. J de picas
- b. Q de picas
- c. Ninguna de las anteriores es correcta.
- d. J de corazones

51.

www.riolearning.com

Señalar, de entre las propuestas, qué figura completa cada una de las series.

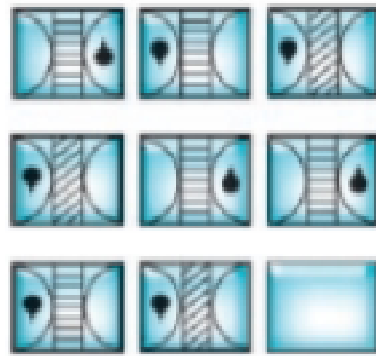


- a.
- b.
- c.
- d.

52.

www.riolearning.com

Señalar, de entre las propuestas, qué figura falta en cada una de las series.



a.




b.



c.



d.




e.



53.

www.riolearning.com

Continúe la serie

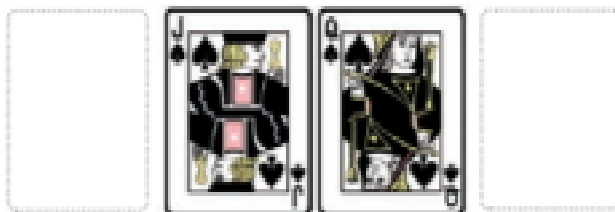


- a. El As de corazones
- b. El 2 de diamantes
- c. El 3 de tréboles
- d. El As de picas

54.

www.riolearning.com

¿Qué 2 cartas faltan?




- a. Delante el 10 de corazones y detrás la K de tréboles
- b. Delante el 10 de picas y detrás la K de corazones
- c. Ninguna es correcta
- d. Delante la K de diamantes y detrás el 10 de diamantes

55.

www.riolearning.com

¿Qué carta continua la serie?



- a. El 2 de diamantes
- b. El 2 de corazones
- c. El 3 de diamantes
- d. El 3 de corazones

56.

www.riolearning.com

Señalar, de entre las propuestas, la letra que sigue en cada serie. (En este test no cuentan las letras CH, LL, W).

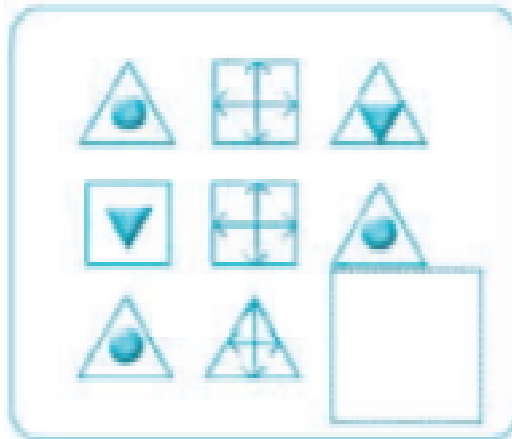
o - t - y - b -

- a. f
- b. d
- c. z
- d. c

57.

www.riolearning.com

Señalar, de entre las propuestas, qué figura completa cada una de las series.



a.



b.



c.




d.



58. www.riolearning.com

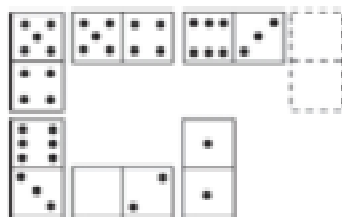
Señalar, de entre las propuestas, qué figura completa cada una de las series.



- a.
- b.
- c.
- d.

59. www.riolearning.com

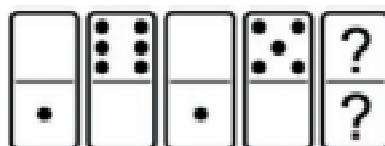
Elegir, de entre las opciones propuestas, la que completa la serie:



- a. 1/2
- b. 0/3
- c. 0/2
- d. 5/4

60. www.riolearning.com

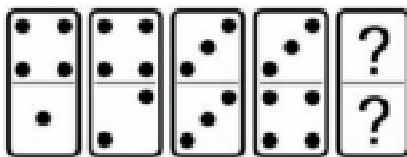
En este prueba se trata de completar las series con las figuras de domino, eligiendo de las cuatro opciones que se les da ¿cuál es la correcta?



- a. 1-blanca
- b. Blanca-1
- c. 2-1
- d. 1-1

61. www.riolearning.com

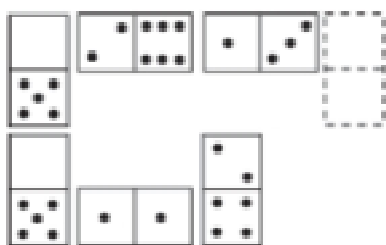
En este prueba se trata de completar las series con las figuras de domino, eligiendo de las cuatro opciones que se les da ¿cuál es la correcta?



- a. Blanca-5
- b. 5-5
- c. 6-5
- d. 2-5

62. www.riolearning.com


Elegir, de entre las opciones propuestas, la que completa la serie:



- a. 6/1
- b. 4/2
- c. 5/1
- d. 1/3

63. www.riolearning.com

En este prueba se trata de completar las series con las figuras de domino, eligiendo de las cuatro opciones que se les da ¿cuál es la correcta?




- a. 3-3
- b. Ninguna es correcta
- c. 2-3
- d. 2-4

64. www.riolearning.com
 Señalar, de entre las propuestas, la letra que sigue en cada serie. (En este test no cuentan las letras CH, LL, W).

m - m - m - n - n - ñ - o - o - o - p - p

- a. q
- b. o
- c. m
- d. p

65. www.riolearning.com
 Elija la que continua la serie.




- a. 10 de picas
- b. 12 de picas
- c. 11 de corazones
- d. 11 de picas

66. www.riolearning.com
 Señalar, de entre las propuestas, la letra que sigue en cada serie. (En este test no cuentan las letras CH, LL, W).

b - f - y - c - u - z -

- a. d
- b. r
- c. g
- d. u

67. www.riolearning.com
 En este prueba se trata de completar las series con las figuras de domino, eligiendo de las cuatro opciones que se les da ¿cuál es la correcta?



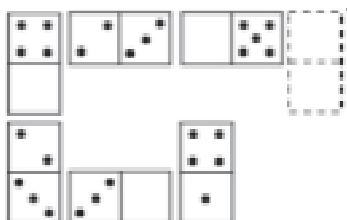
- a. 1-blanca
- b. Blanca-1
- c. 5-Blanca
- d. 1-2

68. www.riolearning.com
 Señalar, de entre las propuestas, la letra que sigue en cada serie. (En este test no cuentan las letras CH, LL, W).

b - d - h - n - u -

- a. c
- b. y
- c. f
- d. z

69. www.riolearning.com
 Elegir, de entre las opciones propuestas, la que completa la serie:



- a. 1/5
- b. 2/3
- c. 3/5
- d. 1/4

70. www.riolearning.com
 Señalar el número que sigue en cada serie de entre las soluciones propuestas.

15 - 14 - 17 - 12 - 11 - 14 -

- a. 11
- b. 17
- c. 9
- d. 15

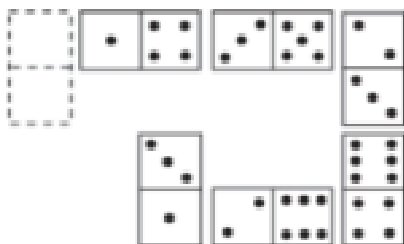
71. www.riolearning.com
 Señalar el número que sigue en cada serie de entre las soluciones propuestas.

9 - 8 - 10 - 7 - 6 - 8 - 5 - 4 -

- a. 1
- b. 6
- c. 8
- d. 7

72. www.riolearning.com

Elegir, de entre las opciones propuestas, la que completa la serie:



- a. 5/1
- b. 1/1
- c. 4/0
- d. 6/1

73. www.riolearning.com

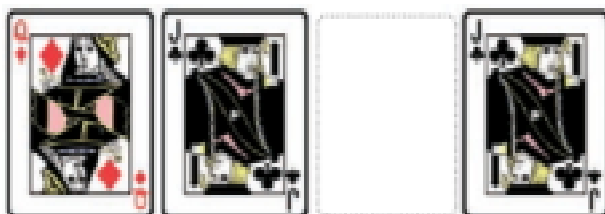
Señalar el número que sigue en cada serie de entre las soluciones propuestas.

11 - 15 - 19 - 23 -

- a. 27
- b. 29
- c. 25
- d. 30

74. www.riolearning.com


Continúa la serie



- a. La Q de picas
- b. La J de tréboles
- c. La J de picas
- d. La Q de corazones

75. www.riolearning.com

Continúa la serie



- a. 6 de diamantes
- b. As de picas
- c. 6 de corazones
- d. Ninguna es correcta

76. www.riolearning.com

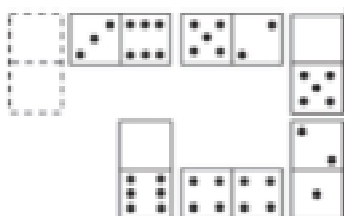
Señalar el número que sigue en cada serie de entre las soluciones propuestas.

52 - 53 - 55 - 58 - 62 -

- a. 66
- b. 67
- c. 65
- d. 68

77. www.riolearning.com


Elegir, de entre las opciones propuestas, la que completa la serie:



- a. 3/1
- b. 3/0
- c. 2/0
- d. 4/2

78. www.riolearning.com

Continúa la serie



- a. 6 de tréboles
- b. Ninguna es correcta
- c. 6 de corazones
- d. 6 de diamantes

79. www.riolearning.com

Señalar, de entre las propuestas, la letra que sigue en cada serie. (En este test no cuentan las letras CH, LL, W).

s - t - u - h - i - j - s - t - u - k - l - m - s - t - u -

- a. n
- b. ñ
- c. v
- d. g

80. www.riolearning.com

Señalar, de entre las propuestas, la letra que sigue en cada serie. (En este test no cuentan las letras CH, LL, W).

m - n - o - p - q - s - t - u - v -

- a. z
- b. x
- c. m
- d. y

81. www.riolearning.com

Señalar el número que sigue en cada serie de entre las soluciones propuestas.

8 - 11 - 9 - 12 - 10 - 13 -

- a. 11
- b. 16
- c. 8
- d. 15

82. www.riolearning.com

Señalar, de entre las propuestas, la letra que sigue en cada serie. (En este test no cuentan las letras CH, LL, W).

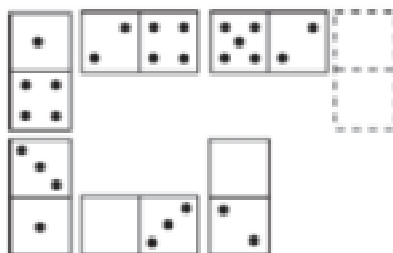
l - n - j - l - h - j - f - h -

- a. d
- b. c
- c. j
- d. i



83. www.riolearning.com

Elegir, de entre las opciones propuestas, la que completa la serie:



- a. $\frac{3}{5}$
- b. $\frac{3}{6}$
- c. $\frac{4}{3}$
- d. $\frac{2}{0}$

84. www.riolearning.com

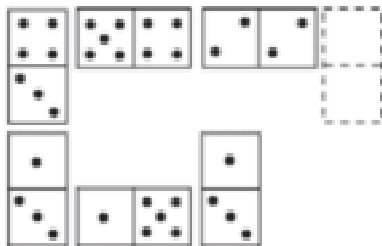
Señalar, de entre las propuestas, la letra que sigue en cada serie. (En este test no cuentan las letras CH, LL, W).

f - n - t - a -

- a. d
- b. f
- c. z
- d. g

85. www.riolearning.com


Elegir, de entre las opciones propuestas, la que completa la serie:



- a. 5/4
- b. 6/3
- c. 6/2
- d. 1/4

86. www.riolearning.com

Continúa la serie



- a. 3 de corazones
- b. 3 de diamantes
- c. K de picas
- d. 4 de diamantes

87. www.riolearning.com

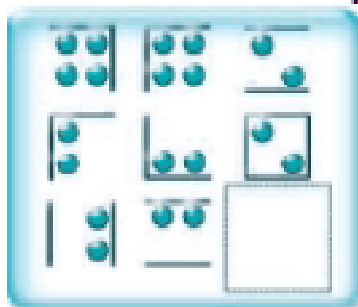
Señalar el número que sigue en cada serie de entre las soluciones propuestas.





12 - 13 - 16 - 17 - 20 - 21 -

- a. 24
- b. 22
- c. 25
- d. 27

88. www.riolearning.com

Señalar, de entre las propuestas, qué figura completa cada una de las series.



- a. 
- b. 
- c. 
- d. 

89. www.riolearning.com

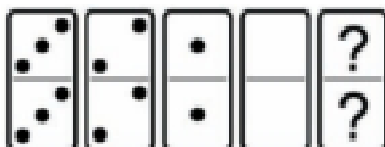
Señalar, de entre las propuestas, la letra que sigue en cada serie. (En este test no cuentan las letras CH, LL, W).

m - m - ñ - p - p - r - t -

- a. t
- b. u
- c. v
- d. s

90. www.riolearning.com

En este prueba se trata de completar las series con las figuras de domino, eligiendo de las cuatro opciones que se les da ¿cuál es la correcta?




- a. 5-5
- b. Ninguna es correcta
- c. 4-5
- d. 5-4

91.

www.riolearning.com

Elija la que continua la serie.




- a. 12 de picas
- b. 10 de picas
- c. 3 diamantes
- d. 11 de corazones

92.

www.riolearning.com

¿Qué carta pondría en el hueco en blanco?

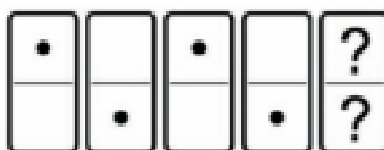


- a. El 5 de corazones
- b. El 4 de corazones
- c. El 6 de corazones
- d. Ninguna es correcta.

93.

www.riolearning.com

En este prueba se trata de completar las series con las figuras de domino, eligiendo de las cuatro opciones que se les da ¿cuál es la correcta?

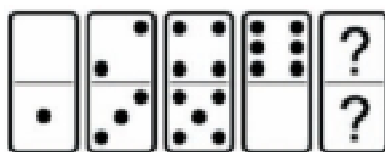


- a. 1-blanca
- b. Blanca-1
- c. Blanca-blanca
- d. 1-1

94.

www.riolearning.com

En este prueba se trata de completar las series con las figuras de domino, eligiendo de las cuatro opciones que se les da ¿cuál es la correcta?




- a. 2-1
- b. 1-blanca
- c. Blanca-1
- d. 1-2

95.

www.riolearning.com

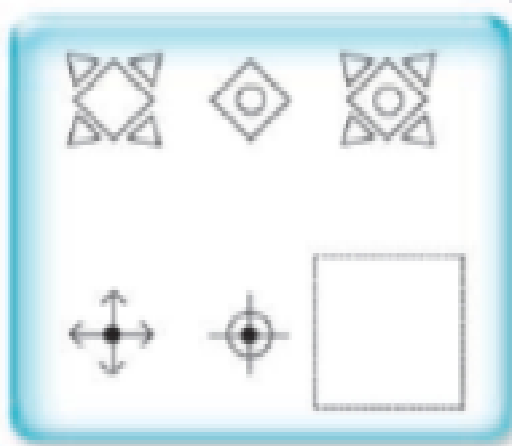
Señalar, de entre las propuestas, qué figura completa cada una de las series.



- a.
- b.
- c.
- d.

96. www.riolearning.com


Señalar, de entre las propuestas, qué figura falta en cada una de las series.



- a.
- b.
- c.
- d.

97. www.riolearning.com

Elegir, de entre las opciones propuestas, la que completa la serie:




- a. 5/4
- b. 1/3
- c. 0/5
- d. 6/5

98.

www.riolearning.com

DOMINÓ

En este prueba se trata de completar las series con las figuras de domino, eligiendo de las cuatro opciones que se les da ¿cuál es la correcta?



- a. 5-5
- b. 5-4
- c. 4-4
- d. 4-5

99.

www.riolearning.com

Señalar el número que sigue en cada serie de entre las soluciones propuestas.

20 - 21 - 22 - 3 - 23 - 24 - 25 - 4 -

- a. 2
- b. 27
- c. 26
- d. 5

100.

www.riolearning.com

Señalar, de entre las propuestas, la letra que sigue en cada serie. (En este test no cuentan las letras CH, LL, W).

r - g - p - e - ñ - c -

- a. k
- b. m
- c. a
- d. n

RAZONAMIENTO MATEMATICO**Answer Section****MULTIPLE CHOICE**

- | | |
|------------|--------|
| 1. ANS: A | PTS: 1 |
| 2. ANS: D | PTS: 1 |
| 3. ANS: A | PTS: 1 |
| 4. ANS: D | PTS: 1 |
| 5. ANS: C | PTS: 1 |
| 6. ANS: B | PTS: 1 |
| 7. ANS: B | PTS: 1 |
| 8. ANS: D | PTS: 1 |
| 9. ANS: B | PTS: 1 |
| 10. ANS: B | PTS: 1 |
| 11. ANS: C | PTS: 1 |
| 12. ANS: A | PTS: 1 |
| 13. ANS: D | PTS: 1 |
| 14. ANS: D | PTS: 1 |
| 15. ANS: B | PTS: 1 |
| 16. ANS: B | PTS: 1 |
| 17. ANS: D | PTS: 1 |
| 18. ANS: B | PTS: 1 |
| 19. ANS: C | PTS: 1 |
| 20. ANS: A | PTS: 1 |
| 21. ANS: B | PTS: 1 |
| 22. ANS: A | PTS: 1 |
| 23. ANS: A | PTS: 1 |
| 24. ANS: A | PTS: 1 |
| 25. ANS: D | PTS: 1 |
| 26. ANS: A | PTS: 1 |
| 27. ANS: C | PTS: 1 |
| 28. ANS: D | PTS: 1 |
| 29. ANS: B | PTS: 1 |
| 30. ANS: A | PTS: 1 |
| 31. ANS: D | PTS: 1 |
| 32. ANS: D | PTS: 1 |
| 33. ANS: A | PTS: 1 |
| 34. ANS: A | PTS: 1 |
| 35. ANS: C | PTS: 1 |
| 36. ANS: A | PTS: 1 |
| 37. ANS: D | PTS: 1 |
| 38. ANS: D | PTS: 1 |
| 39. ANS: B | PTS: 1 |
| 40. ANS: D | PTS: 1 |

41.	ANS: E	PTS: 1
42.	ANS: D	PTS: 1
43.	ANS: D	PTS: 1
44.	ANS: B	PTS: 1
45.	ANS: A	PTS: 1
46.	ANS: D	PTS: 1
47.	ANS: A	PTS: 1
48.	ANS: C	PTS: 1
49.	ANS: A	PTS: 1
50.	ANS: C	PTS: 1
51.	ANS: B	PTS: 1
52.	ANS: B	PTS: 1
53.	ANS: B	PTS: 1
54.	ANS: C	PTS: 1
55.	ANS: A	PTS: 1
56.	ANS: B	PTS: 1
57.	ANS: C	PTS: 1
58.	ANS: D	PTS: 1
59.	ANS: C	PTS: 1
60.	ANS: B	PTS: 1
61.	ANS: D	PTS: 1
62.	ANS: D	PTS: 1
63.	ANS: A	PTS: 1
64.	ANS: A	PTS: 1
65.	ANS: D	PTS: 1
66.	ANS: B	PTS: 1
67.	ANS: C	PTS: 1
68.	ANS: C	PTS: 1
69.	ANS: D	PTS: 1
70.	ANS: C	PTS: 1
71.	ANS: B	PTS: 1
72.	ANS: D	PTS: 1
73.	ANS: A	PTS: 1
74.	ANS: A	PTS: 1
75.	ANS: A	PTS: 1
76.	ANS: B	PTS: 1
77.	ANS: A	PTS: 1
78.	ANS: B	PTS: 1
79.	ANS: A	PTS: 1
80.	ANS: D	PTS: 1
81.	ANS: A	PTS: 1
82.	ANS: A	PTS: 1
83.	ANS: A	PTS: 1
84.	ANS: B	PTS: 1
85.	ANS: A	PTS: 1

86.	ANS: C	PTS: 1
87.	ANS: A	PTS: 1
88.	ANS: C	PTS: 1
89.	ANS: A	PTS: 1
90.	ANS: B	PTS: 1
91.	ANS: C	PTS: 1
92.	ANS: A	PTS: 1
93.	ANS: A	PTS: 1
94.	ANS: D	PTS: 1
95.	ANS: A	PTS: 1
96.	ANS: A	PTS: 1
97.	ANS: D	PTS: 1
98.	ANS: D	PTS: 1
99.	ANS: C	PTS: 1
100.	ANS: B	PTS: 1





Forma

Test Version

--	--	--	--	--	--	--	--	--	--	--

Nombre: _____

Asignatura: _____

Fecha: _____

A

B

C

D

0 0 0 0 0 0 0 0 0

1 1 1 1 1 1 1 1 1

2 2 2 2 2 2 2 2 2

3 3 3 3 3 3 3 3 3

4 4 4 4 4 4 4 4 4

5 5 5 5 5 5 5 5 5

6 6 6 6 6 6 6 6 6

7 7 7 7 7 7 7 7 7

8 8 8 8 8 8 8 8 8

9 9 9 9 9 9 9 9 9

Cédula - Código

Ejemplo

A B C D E

Calificación

--

- Utilice lápiz para marcar la respuesta.
- Marque un círculo completo
- Borre completamente el círculo para marcar una nueva respuesta

1 A B C D E

2 A B C D E

3 A B C D E

4 A B C D E

5 A B C D E

6 A B C D E

7 A B C D E

8 A B C D E

9 A B C D E

10 A B C D E

11 A B C D E

12 A B C D E

13 A B C D E

14 A B C D E

15 A B C D E

16 A B C D E

17 A B C D E

18 A B C D E

19 A B C D E

20 A B C D E

21 A B C D E

22 A B C D E

23 A B C D E

24 A B C D E

25 A B C D E

26 A B C D E

27 A B C D E

28 A B C D E

29 A B C D E

30 A B C D E

31 A B C D E

32 A B C D E

33 A B C D E

34 A B C D E

35 A B C D E

36 A B C D E

37 A B C D E

38 A B C D E

39 A B C D E

40 A B C D E

41 A B C D E

42 A B C D E

43 A B C D E

44 A B C D E

45 A B C D E

46 A B C D E

47 A B C D E

48 A B C D E

49 A B C D E

50 A B C D E

51 A B C D E

52 A B C D E

53 A B C D E

54 A B C D E

55 A B C D E

56 A B C D E

57 A B C D E

58 A B C D E

59 A B C D E

60 A B C D E

61 A B C D E

62 A B C D E

63 A B C D E

64 A B C D E

65 A B C D E

66 A B C D E

67 A B C D E

68 A B C D E

69 A B C D E

70 A B C D E

71 A B C D E

72 A B C D E

73 A B C D E

74 A B C D E

75 A B C D E

76 A B C D E

77 A B C D E

78 A B C D E

79 A B C D E

80 A B C D E

81 A B C D E

82 A B C D E

83 A B C D E

84 A B C D E

85 A B C D E

86 A B C D E

87 A B C D E

88 A B C D E

89 A B C D E

90 A B C D E

91 A B C D E

92 A B C D E

93 A B C D E

94 A B C D E

95 A B C D E

96 A B C D E

97 A B C D E

98 A B C D E

99 A B C D E

100 A B C D E



ENLACE	DETALLE	QR
http://www.multimevi.com/	Página web MULTIMEVI, donde encontrarás noticias y recursos	
https://t.me/+Klr3YaM42_ZhZTIx	Grupo de apoyo en TELEGRAM	
https://chat.whatsapp.com/IQuCCcZjtLjIkLfgzXo68Y	<u>GRUPO DE WHATSAPP</u>	
https://whatsapp.com/channel/0029VaBB2zQHwXb5Vhn9Yw1W	Canal de noticias WhatsApp	
https://www.facebook.com/multimevi.ec/	Perfil de facebook	
https://www.facebook.com/groups/multimevi	Grupo FULL Rectivos	
https://www.tiktok.com/@multimevi	Canal de TIK TOK	
https://www.instagram.com/multimevi.ec/	Canal de Instagram	
https://twitter.com/multimevi	Red X	

Plataforma MOODLE

 www.riolearning.com

Página Web



www.multimevi.com

Redes Sociales



Procesos



ACCESO a la Educación Superior
SENESCYT

QUIERO SER MAESTRO
Ministerio de Educación