



Razonamiento Matemático

Preguntas modelo
examen de acceso a la educación superior




ACCESO a la Educación Superior
SENESCYT

QUIERO SER MAESTRO
Ministerio de Educación

RAZONAMIENTO MATEMATICO


Opción Múltiple

Elige la opción que complete mejor el enunciado o que responda mejor a la pregunta.

1.  Señalar, de entre las propuestas, la letra que sigue en cada serie. (En este test no cuentan las letras CH, LL, W).

c - c - c - d - e - c - c - f - g - h - c - c - c -

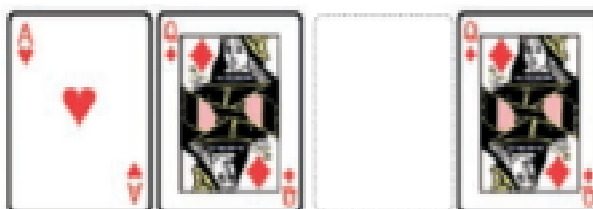
- a. c
- b. j
- c. i
- d. h

2.  Señalar, de entre las propuestas, la letra que sigue en cada serie. (En este test no cuentan las letras CH, LL, W).

b - f - y - c - u - z -

- a. g
- b. d
- c. u
- d. r

3.  Elija la que continua la serie.



- a. La J de picas
- b. La Q de picas
- c. El As de corazones
- d. La Q de corazones

4. 

Señalar, de entre las propuestas, la letra que sigue en cada serie. (En este test no cuentan las letras CH, LL, W).

p - q - p - r - s - p - t - u - v - p -

- a. p
- b. x
- c. y
- d. g

5. 

Señalar el número que sigue en cada serie de entre las soluciones propuestas.

14 - 15 - 16 - 15 - 16 - 17 - 16 - 17 - 18 -

- a. 15
- b. 19
- c. 14
- d. 17

6. 


Señalar, de entre las propuestas, la letra que sigue en cada serie. (En este test no cuentan las letras CH, LL, W).

ñ - f - n - e - m - d - l - c -

- a. b
- b. a
- c. k
- d. j

7. 

Elija la que continua la serie.

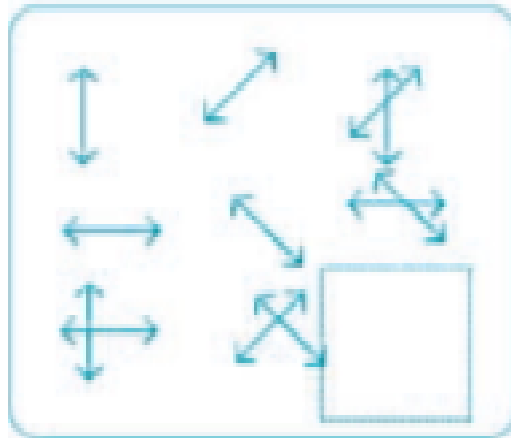


- a. 10 de picas
- b. 12 de picas
- c. 11 de corazones
- d. 11 de picas

8.

www.riolearning.com

Señalar, de entre las propuestas, qué figura completa cada una de las series.



a.



b.



c.








d.



9. www.riolearning.com

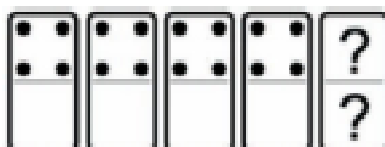
Señalar, de entre las propuestas, qué figura completa cada una de las series.



- a. 
- b. 
- c. 
- d. 

10. www.riolearning.com

En este prueba se trata de completar las series con las figuras de domino, eligiendo de las cuatro opciones que se les da ¿cuál es la correcta?



- a. Blanca-1
- b. Blanca-4
- c. 4-1
- d. 4-blanca

11. www.riolearning.com

Señalar el número que sigue en cada serie de entre las soluciones propuestas.


12 - 13 - 16 - 17 - 20 - 21 -

- a. 25
- b. 24
- c. 22
- d. 27

12.

www.riolearning.com

Señalar, de entre las propuestas, qué figura completa cada una de las series.



a.



b.



c.








d.



13. www.riolearning.com

Señalar, de entre las propuestas, qué figura falta en cada una de las series.




- a. 
- b. 
- c. 
- d. 

14. www.riolearning.com

Señalar, de entre las propuestas, la letra que sigue en cada serie. (En este test no cuentan las letras CH, LL, W).


d - g - k - o -

- a. t
- b. s
- c. u
- d. p

15.  Señalar, de entre las propuestas, la letra que sigue en cada serie. (En este test no cuentan las letras CH, LL, W).


b - d - h - n - u -

- a. c
- b. z
- c. y
- d. f

16.  Señalar, de entre las propuestas, la letra que sigue en cada serie. (En este test no cuentan las letras CH, LL, W).

f - n - t - a -

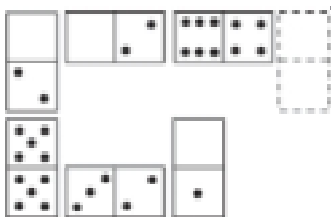
- a. f
- b. d
- c. g
- d. z

17.  Señalar, de entre las propuestas, la letra que sigue en cada serie. (En este test no cuentan las letras CH, LL, W).

v - c - h - x - d - i - y - e -

- a. z
- b. f
- c. k
- d. j

18.  Elegir, de entre las opciones propuestas, la que completa la serie:



- a. 5/1
- b. 0/0
- c. 5/6
- d. 6/6

19. www.riolearning.com


Señalar el número que sigue en cada serie de entre las soluciones propuestas.

11 - 15 - 19 - 23 -

- a. 29
- b. 25
- c. 30
- d. 27

20. www.riolearning.com


Señalar, de entre las propuestas, qué figura completa cada una de las series.



- a.
- b.
- c.
- d.

21. www.riolearning.com


Continúa la serie



- a. 4 de diamantes
- b. K de picas
- c. 3 de corazones
- d. 3 de diamantes

22. www.riolearning.com

¿Qué carta continua la serie?



- a. El 3 de diamantes
- b. El 2 de corazones
- c. El 2 de diamantes
- d. El 3 de corazones

23. www.riolearning.com

Señalar el número que sigue en cada serie de entre las soluciones propuestas.





47 - 48 - 46 - 47 - 45 -

- a. 47
- b. 43
- c. 41
- d. 46

24. www.riolearning.com

Señalar, de entre las propuestas, qué figura completa cada una de las series.




- a. 
- b. 
- c. 
- d. 

25.

www.riolearning.com

Continúa la serie

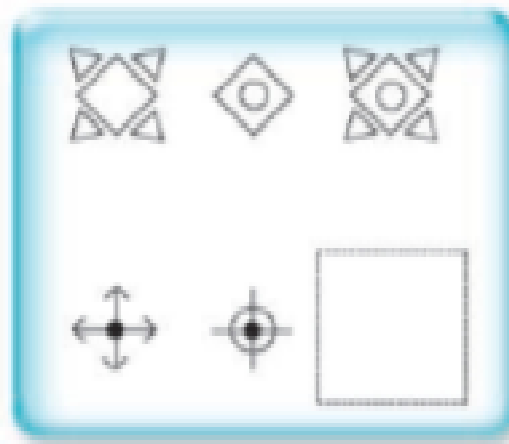


- a. 6 de corazones
- b. As de picas
- c. Ninguna es correcta
- d. 6 de diamantes

26.

www.riolearning.com

Señalar, de entre las propuestas, qué figura falta en cada una de las series.



a.



b.



c.

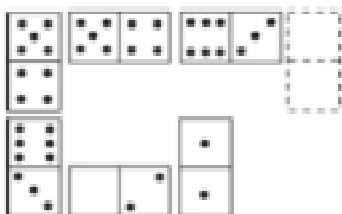


d.



27. www.riolearning.com

Elegir, de entre las opciones propuestas, la que completa la serie:



- a. 0/2
- b. 0/3
- c. 5/4
- d. 1/2

28. www.riolearning.com


Señalar el número que sigue en cada serie de entre las soluciones propuestas.





22 - 21 - 20 - 18 - 17 - 16 - 14 - 13 - 12 -

- a. 10
- b. 6
- c. 11
- d. 8

29. www.riolearning.com


Señalar, de entre las propuestas, qué figura completa cada una de las series.



- a. 
- b. 
- c. 
- d. 

30. www.riolearning.com

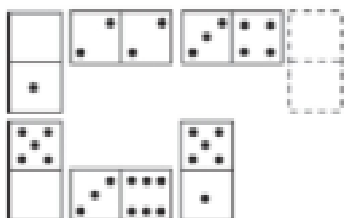
Continúa la serie



- a. Ninguna es correcta
- b. 6 de tréboles
- c. 6 de corazones
- d. 6 de diamantes

31. www.riolearning.com

Elegir, de entre las opciones propuestas, la que completa la serie:



- a. 3/0
- b. 4/5
- c. 5/6
- d. 4/6

32. www.riolearning.com


Señalar, de entre las propuestas, la letra que sigue en cada serie. (En este test no cuentan las letras CH, LL, W).

s - t - u - h - i - j - s - t - u - k - l - m - s - t - u -

- a. ñ
- b. n
- c. g
- d. v

33. www.riolearning.com

Elija la que continua la serie.



- a. 10 de picas
- b. 3 diamantes
- c. 12 de picas
- d. 11 de corazones

34. www.riolearning.com

Señalar, de entre las propuestas, la letra que sigue en cada serie. (En este test no cuentan las letras CH, LL, W).

j - r - l - t - n - v -

- a. y
- b. q
- c. p
- d. o

35. www.riolearning.com

Señalar, de entre las propuestas, la letra que sigue en cada serie. (En este test no cuentan las letras CH, LL, W).

k - t - e -

- a. z
- b. s
- c. l
- d. ñ

36. www.riolearning.com

Señalar el número que sigue en cada serie de entre las soluciones propuestas.

5 - 10 - 12 - 36 -

- a. 40
- b. 38
- c. 39
- d. 35

37. www.riolearning.com

Señalar, de entre las propuestas, la letra que sigue en cada serie. (En este test no cuentan las letras CH, LL, W).





b - z - u - o - h -

- a. x
- b. y
- c. v
- d. z

38. www.riolearning.com

Señalar, de entre las propuestas, qué figura completa cada una de las series.



- a. 
- b. 
- c. 
- d. 

39. www.riolearning.com

Señalar el número que sigue en cada serie de entre las soluciones propuestas.

52 - 53 - 55 - 58 - 62 -

- a. 67
- b. 68
- c. 65
- d. 66

40. www.riolearning.com


Señalar el número que sigue en cada serie de entre las soluciones propuestas.

20 - 21 - 22 - 3 - 23 - 24 - 25 - 4 -

- a. 5
- b. 27
- c. 2
- d. 26

41. www.riolearning.com

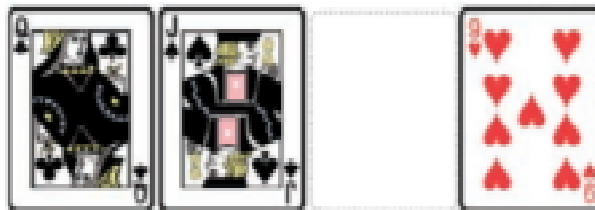
Elegir, de entre las opciones propuestas, la que completa la serie:



- a. 3/6
- b. 0/6
- c. 1/3
- d. 2/0

42. www.riolearning.com

¿Qué carta continua la serie?



- a. El 8 de corazones
- b. El 10 de diamantes
- c. El 10 de corazones
- d. El 10 de picas

43. www.riolearning.com

Señalar el número que sigue en cada serie de entre las soluciones propuestas.

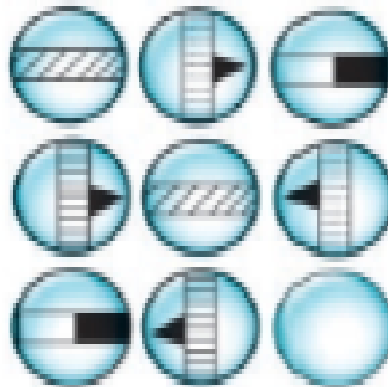
38 - 34 - 30 -

- a. 29
- b. 32
- c. 26
- d. 28

44.

www.riolearning.com

Señalar, de entre las propuestas, qué figura falta en cada una de las series.



a.



b.



c.



d.




e.



45.

www.riolearning.com

En este prueba se trata de completar las series con las figuras de domino, eligiendo de las cuatro opciones que se les da ¿cuál es la correcta?



a. 5-5

b. Blanca-1

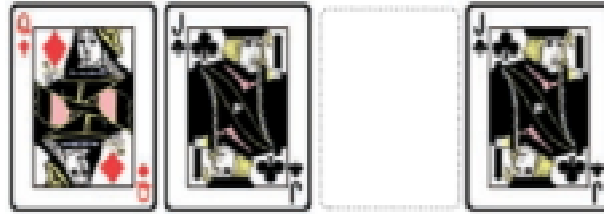
c. Blanca-5

d. 6-5

46.

www.riolearning.com

Continúa la serie

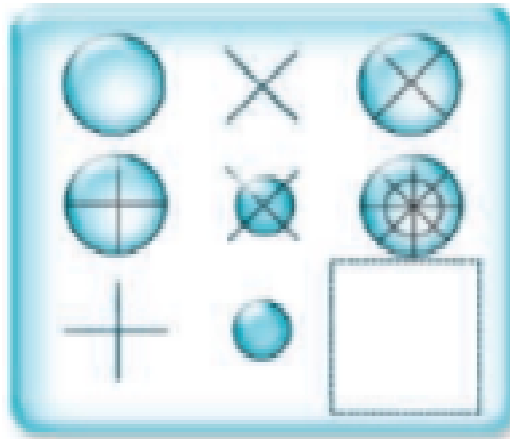


- a. La J de picas
- b. La Q de picas
- c. La Q de corazones
- d. La J de tréboles

47.

www.riolearning.com


Señalar, de entre las propuestas, qué figura completa cada una de las series.



- a.
- b.
- c.
- d.

48. www.riolearning.com

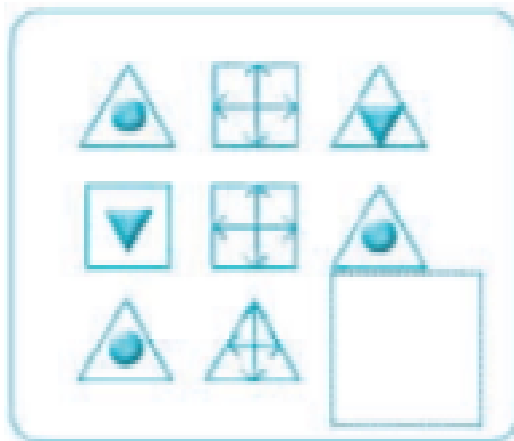
Elegir, de entre las opciones propuestas, la que completa la serie:







- a. $2/3$
- b. $1/5$
- c. $3/5$
- d. $1/4$

49. www.riolearning.com

Señalar, de entre las propuestas, qué figura completa cada una de las series.

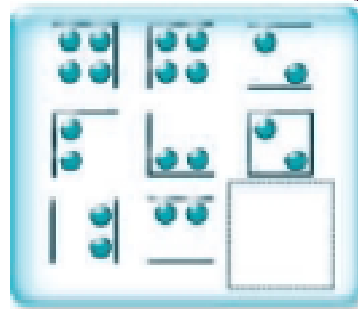


- a. 
- b. 
- c. 
- d. 

50.

www.riolearning.com

Señalar, de entre las propuestas, qué figura completa cada una de las series.



a.



b.



c.



d.



51.

www.riolearning.com

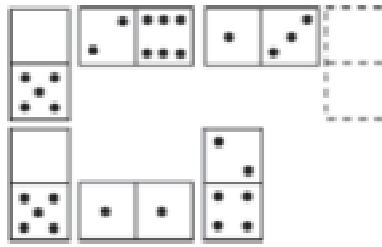
Señalar el número que sigue en cada serie de entre las soluciones propuestas.

15 - 14 - 17 - 12 - 11 - 14 -

- a. 11
- b. 15
- c. 9
- d. 17

52. www.riolearning.com

Elegir, de entre las opciones propuestas, la que completa la serie:



- a. 1/3
- b. 4/2
- c. 6/1
- d. 5/1

53. www.riolearning.com


Señalar el número que sigue en cada serie de entre las soluciones propuestas.

9 - 8 - 10 - 7 - 6 - 8 - 5 - 4 -

- a. 8
- b. 6
- c. 7
- d. 1

54. www.riolearning.com

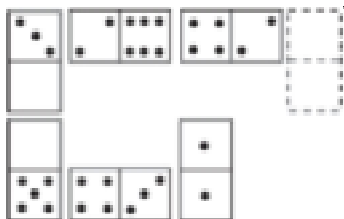
En este prueba se trata de completar las series con las figuras de domino, eligiendo de las cuatro opciones que se les da ¿cuál es la correcta?



- a. 6-4
- b. 4-blanca
- c. Blanca-4
- d. 4-6

55. www.riolearning.com

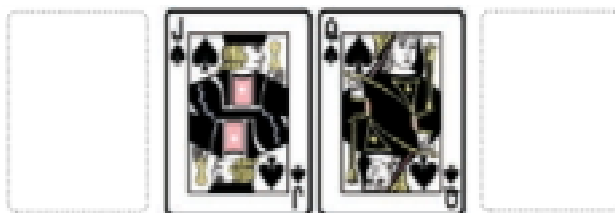
Elegir, de entre las opciones propuestas, la que completa la serie:



- a. 5/4
- b. 0/5
- c. 6/5
- d. 1/3

56. www.riolearning.com

¿Qué 2 cartas faltan?

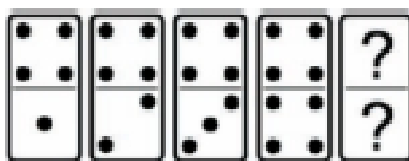


- a. Delante el 10 de picas y detrás la K de corazones
- b. Ninguna es correcta
- c. Delante el 10 de corazones y detrás la K de tréboles
- d. Delante la K de diamantes y detrás el 10 de diamantes

57. www.riolearning.com

DOMINÓ

En este prueba se trata de completar las series con las figuras de domino, eligiendo de las cuatro opciones que se les da ¿cuál es la correcta?

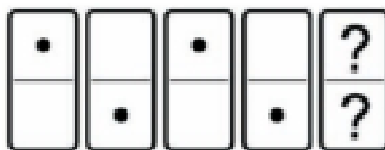


- a. 4-5
- b. 5-4
- c. 4-4
- d. 5-5

58.

www.riolearning.com

En este prueba se trata de completar las series con las figuras de domino, eligiendo de las cuatro opciones que se les da ¿cuál es la correcta?




- a. Blanca-1
- b. Blanca-blanca
- c. 1-1
- d. 1-blanca

59.

www.riolearning.com

Continúe la serie

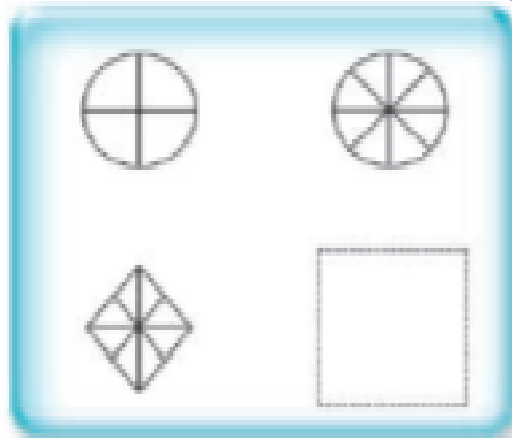


- a. El As de picas
- b. El 2 de diamantes
- c. El As de corazones
- d. El 3 de tréboles

60.

www.riolearning.com

Señalar, de entre las propuestas, qué figura falta en cada una de las series.



a.



b.



c.




d.



61.

www.riolearning.com


¿Qué carta continua la serie?








- a. El As de diamantes
- b. El As de tréboles
- c. El As de picas
- d. El As de corazones

62. www.riolearning.com

Señalar, de entre las propuestas, qué figura falta en cada una de las series.



- a. 
- b. 
- c. 
- d. 
- e. 

63. www.riolearning.com

Señalar el número que sigue en cada serie de entre las soluciones propuestas.

8 - 11 - 9 - 12 - 10 - 13 -

- a. 8
- b. 11
- c. 16
- d. 15

64. www.riolearning.com

Señalar, de entre las propuestas, la letra que sigue en cada serie. (En este test no cuentan las letras CH, LL, W).

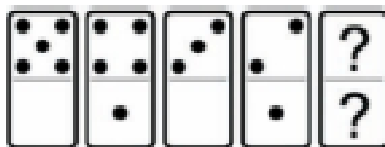
i - b - k - z - m - x

- a. ñ
- b. n
- c. v
- d. u

65.

www.riolearning.com

En este prueba se trata de completar las series con las figuras de domino, eligiendo de las cuatro opciones que se les da ¿cuál es la correcta?




- a. Blanca-1
- b. 2-blanca
- c. 1-blanca
- d. 1-1

66.

www.riolearning.com

Elija la que continua la serie.

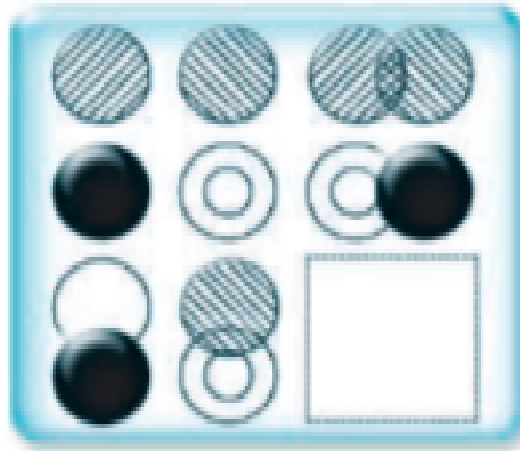


- a. J de picas
- b. Ninguna de las anteriores es correcta.
- c. Q de picas
- d. J de corazones

67.

www.riolearning.com

Señalar, de entre las propuestas, qué figura completa cada una de las series.



a.



b.



c.



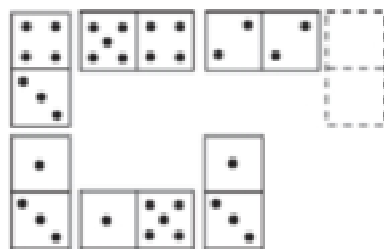
d.



68.

www.riolearning.com

Elegir, de entre las opciones propuestas, la que completa la serie:

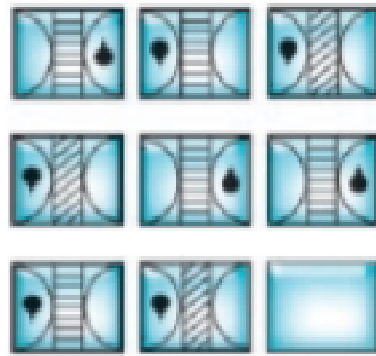


- a. 5/4
- b. 6/2
- c. 1/4
- d. 6/3

69.

www.riolearning.com

Señalar, de entre las propuestas, qué figura falta en cada una de las series.



a.




b.



c.



d.



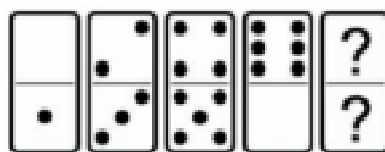
e.



70.

www.riolearning.com

En este prueba se trata de completar las series con las figuras de domino, eligiendo de las cuatro opciones que se les da ¿cuál es la correcta?



a. 2-1

b. Blanca-1

c. 1-2

d. 1-blanca

71. 

Señalar, de entre las propuestas, la letra que sigue en cada serie. (En este test no cuentan las letras CH, LL, W).

f - h - l - n - q -

- a. t
- b. s
- c. p
- d. u

72. 

Señalar, de entre las propuestas, la letra que sigue en cada serie. (En este test no cuentan las letras CH, LL, W).

l - n - j - l - h - j - f - h -

- a. i
- b. d
- c. j
- d. c

73. 

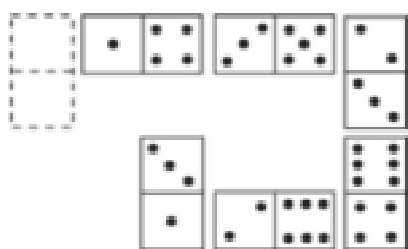
Señalar, de entre las propuestas, la letra que sigue en cada serie. (En este test no cuentan las letras CH, LL, W).

m - m - ñ - p - p - r - t -

- a. s
- b. v
- c. u
- d. t

74. 

Elegir, de entre las opciones propuestas, la que completa la serie:







- a. 6/1
- b. 4/0
- c. 5/1
- d. 1/1

75. www.riolearning.com

Señalar, de entre las propuestas, qué figura completa cada una de las series.



- a. 
- b. 
- c. 
- d. 

76. www.riolearning.com

Señalar, de entre las propuestas, la letra que sigue en cada serie. (En este test no cuentan las letras CH, LL, W).


r - g - p - e - ñ - c -





- a. a
- b. m
- c. k
- d. n

77.

www.riolearning.com

Señalar, de entre las propuestas, qué figura completa cada una de las series.

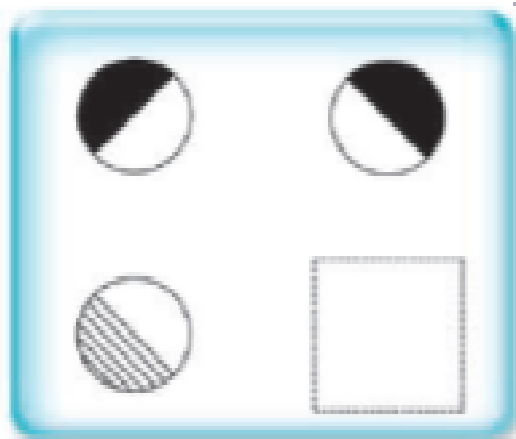


- a. 
- b. 
- c. 
- d. 

78.

www.riolearning.com

Señalar, de entre las propuestas, qué figura falta en cada una de las series.



a.



b.



c.



d.



79.

www.riolearning.com


Señalar, de entre las propuestas, la letra que sigue en cada serie. (En este test no cuentan las letras CH, LL, W).

m - n - o - p - q - s - t - u - v -

- a. z
- b. m
- c. y
- d. x

80. www.riolearning.com

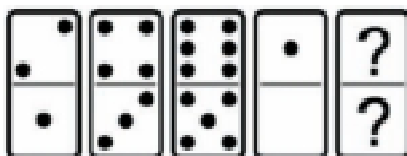
Elegir, de entre las opciones propuestas, la que completa la serie:



- a. 3/2
- b. 4/2
- c. 3/5
- d. 3/3

81. www.riolearning.com

En este prueba se trata de completar las series con las figuras de domino, eligiendo de las cuatro opciones que se les da ¿cuál es la correcta?



- a. Blanca-blanca
- b. 1-1
- c. 2-2
- d. 3-2

82. www.riolearning.com


Señalar el número que sigue en cada serie de entre las soluciones propuestas.

62 - 58 - 55 - 53 -

- a. 50
- b. 52
- c. 49
- d. 47

83. www.riolearning.com


En este prueba se trata de completar las series con las figuras de domino, eligiendo de las cuatro opciones que se les da ¿cuál es la correcta?



- a. 5-Blanca
- b. 1-2
- c. Blanca-1
- d. 1-blanca

84. www.riolearning.com

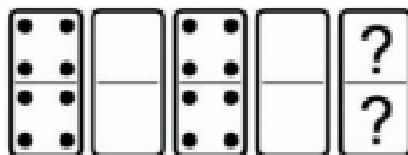
En este prueba se trata de completar las series con las figuras de domino, eligiendo de las cuatro opciones que se les da ¿cuál es la correcta?



- a. 2-3
- b. 3-3
- c. Ninguna es correcta
- d. 2-4

85. www.riolearning.com

En este prueba se trata de completar las series con las figuras de domino, eligiendo de las cuatro opciones que se les da ¿cuál es la correcta?



- a. Blanca-blanca
- b. 3-3
- c. 4-4
- d. 2-4

86. www.riolearning.com


Señalar, de entre las propuestas, la letra que sigue en cada serie. (En este test no cuentan las letras CH, LL, W).






o - t - y - b -

- a. z
- b. c
- c. f
- d. d

87. www.riolearning.com

Señalar, de entre las propuestas, qué figura falta en cada una de las series.



- a. 
- b. 
- c. 
- d. 
- e. 

88. www.riolearning.com


Señalar el número que sigue en cada serie de entre las soluciones propuestas.

50 - 15 - 40 - 25 - 30 - 35 -

- a. 40
- b. 45
- c. 30
- d. 20

89. www.riolearning.com

En este prueba se trata de completar las series con las figuras de domino, eligiendo de las cuatro opciones que se les da ¿cuál es la correcta?



- a. Blanca-1
- b. 2-1
- c. 1-1
- d. 1-blanca

90. www.riolearning.com

Señalar el número que sigue en cada serie de entre las soluciones propuestas.

29 - 32 - 35 -

- a. 38
- b. 42
- c. 37
- d. 40

91. www.riolearning.com


Señalar, de entre las propuestas, la letra que sigue en cada serie. (En este test no cuentan las letras CH, LL, W).

g - h - n - ñ - t - u -

- a. x
- b. c
- c. b
- d. g

92. www.riolearning.com

¿Qué carta continua la serie?



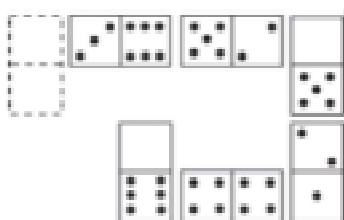
- a. As de picas
- b. As de tréboles
- c. 9 de diamantes
- d. 9 de corazones

93. www.riolearning.com
 Señalar el número que sigue en cada serie de entre las soluciones propuestas.

20 - 22 - 25 - 28 - 30 - 33 - 36 - 38 -

- a. 39
- b. 42
- c. 40
- d. 41

94. www.riolearning.com
 Elegir, de entre las opciones propuestas, la que completa la serie:




- a. 2/0
- b. 4/2
- c. 3/0
- d. 3/1

95. www.riolearning.com
 Señalar, de entre las propuestas, la letra que sigue en cada serie. (En este test no cuentan las letras CH, LL, W).

m - m - m - n - n - ñ - o - o - o - p - p

- a. q
- b. m
- c. o
- d. p


96. www.riolearning.com
 ¿Qué carta continua la serie?



- a. 9 de picas
- b. 9 de corazones
- c. Ninguna de las anteriores es correcta
- d. 9 de diamantes

97. www.riolearning.com

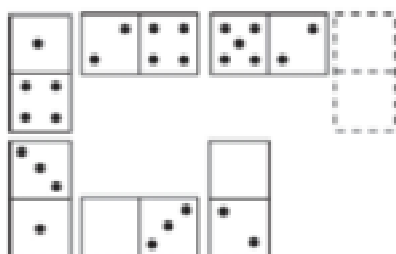
¿Qué carta pondría en el hueco en blanco?



- a. Ninguna es correcta.
- b. El 4 de corazones
- c. El 6 de corazones
- d. El 5 de corazones

98. www.riolearning.com

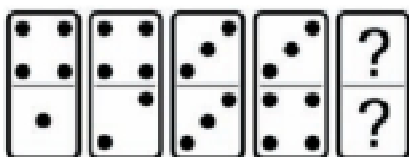
Elegir, de entre las opciones propuestas, la que completa la serie:



- a. $\frac{2}{0}$
- b. $\frac{3}{6}$
- c. $\frac{3}{5}$
- d. $\frac{4}{3}$

99. www.riolearning.com

En este prueba se trata de completar las series con las figuras de domino, eligiendo de las cuatro opciones que se les da ¿cuál es la correcta?

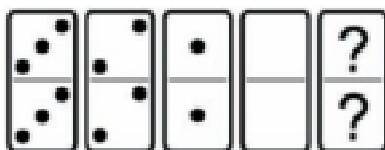


- a. 2-5
- b. 6-5
- c. 5-5
- d. Blanca-5

100.

www.riolearning.com

En este prueba se trata de completar las series con las figuras de domino, eligiendo de las cuatro opciones que se les da ¿cuál es la correcta?



- a. 5-5
- b. 5-4
- c. 4-5
- d. Ninguna es correcta

RAZONAMIENTO MATEMATICO**Answer Section****MULTIPLE CHOICE**

- | | |
|------------|--------|
| 1. ANS: C | PTS: 1 |
| 2. ANS: D | PTS: 1 |
| 3. ANS: C | PTS: 1 |
| 4. ANS: B | PTS: 1 |
| 5. ANS: D | PTS: 1 |
| 6. ANS: C | PTS: 1 |
| 7. ANS: D | PTS: 1 |
| 8. ANS: C | PTS: 1 |
| 9. ANS: B | PTS: 1 |
| 10. ANS: D | PTS: 1 |
| 11. ANS: B | PTS: 1 |
| 12. ANS: B | PTS: 1 |
| 13. ANS: D | PTS: 1 |
| 14. ANS: C | PTS: 1 |
| 15. ANS: D | PTS: 1 |
| 16. ANS: A | PTS: 1 |
| 17. ANS: D | PTS: 1 |
| 18. ANS: D | PTS: 1 |
| 19. ANS: D | PTS: 1 |
| 20. ANS: A | PTS: 1 |
| 21. ANS: B | PTS: 1 |
| 22. ANS: C | PTS: 1 |
| 23. ANS: D | PTS: 1 |
| 24. ANS: B | PTS: 1 |
| 25. ANS: D | PTS: 1 |
| 26. ANS: B | PTS: 1 |
| 27. ANS: A | PTS: 1 |
| 28. ANS: A | PTS: 1 |
| 29. ANS: C | PTS: 1 |
| 30. ANS: A | PTS: 1 |
| 31. ANS: D | PTS: 1 |
| 32. ANS: B | PTS: 1 |
| 33. ANS: B | PTS: 1 |
| 34. ANS: A | PTS: 1 |
| 35. ANS: D | PTS: 1 |
| 36. ANS: C | PTS: 1 |
| 37. ANS: A | PTS: 1 |
| 38. ANS: B | PTS: 1 |
| 39. ANS: A | PTS: 1 |
| 40. ANS: D | PTS: 1 |

- | | | |
|-----|--------|--------|
| 41. | ANS: B | PTS: 1 |
| 42. | ANS: D | PTS: 1 |
| 43. | ANS: C | PTS: 1 |
| 44. | ANS: D | PTS: 1 |
| 45. | ANS: C | PTS: 1 |
| 46. | ANS: B | PTS: 1 |
| 47. | ANS: C | PTS: 1 |
| 48. | ANS: D | PTS: 1 |
| 49. | ANS: B | PTS: 1 |
| 50. | ANS: B | PTS: 1 |
| 51. | ANS: C | PTS: 1 |
| 52. | ANS: A | PTS: 1 |
| 53. | ANS: B | PTS: 1 |
| 54. | ANS: D | PTS: 1 |
| 55. | ANS: C | PTS: 1 |
| 56. | ANS: B | PTS: 1 |
| 57. | ANS: A | PTS: 1 |
| 58. | ANS: D | PTS: 1 |
| 59. | ANS: B | PTS: 1 |
| 60. | ANS: D | PTS: 1 |
| 61. | ANS: C | PTS: 1 |
| 62. | ANS: A | PTS: 1 |
| 63. | ANS: B | PTS: 1 |
| 64. | ANS: A | PTS: 1 |
| 65. | ANS: C | PTS: 1 |
| 66. | ANS: B | PTS: 1 |
| 67. | ANS: A | PTS: 1 |
| 68. | ANS: A | PTS: 1 |
| 69. | ANS: D | PTS: 1 |
| 70. | ANS: C | PTS: 1 |
| 71. | ANS: B | PTS: 1 |
| 72. | ANS: B | PTS: 1 |
| 73. | ANS: D | PTS: 1 |
| 74. | ANS: A | PTS: 1 |
| 75. | ANS: A | PTS: 1 |
| 76. | ANS: B | PTS: 1 |
| 77. | ANS: A | PTS: 1 |
| 78. | ANS: C | PTS: 1 |
| 79. | ANS: C | PTS: 1 |
| 80. | ANS: A | PTS: 1 |
| 81. | ANS: D | PTS: 1 |
| 82. | ANS: B | PTS: 1 |
| 83. | ANS: A | PTS: 1 |
| 84. | ANS: B | PTS: 1 |
| 85. | ANS: C | PTS: 1 |

86.	ANS: D	PTS: 1
87.	ANS: E	PTS: 1
88.	ANS: D	PTS: 1
89.	ANS: A	PTS: 1
90.	ANS: A	PTS: 1
91.	ANS: C	PTS: 1
92.	ANS: A	PTS: 1
93.	ANS: D	PTS: 1
94.	ANS: D	PTS: 1
95.	ANS: A	PTS: 1
96.	ANS: C	PTS: 1
97.	ANS: D	PTS: 1
98.	ANS: C	PTS: 1
99.	ANS: A	PTS: 1
100.	ANS: D	PTS: 1





Forma

Test Version

--	--	--	--	--	--	--	--	--	--

Nombre: _____

Asignatura: _____

Fecha: _____

A

B

C

D

0 0 0 0 0 0 0 0 0

1 1 1 1 1 1 1 1 1

2 2 2 2 2 2 2 2 2

3 3 3 3 3 3 3 3 3

4 4 4 4 4 4 4 4 4

5 5 5 5 5 5 5 5 5

6 6 6 6 6 6 6 6 6

7 7 7 7 7 7 7 7 7

8 8 8 8 8 8 8 8 8

9 9 9 9 9 9 9 9 9

Cédula - Código

Ejemplo

A B C D E

Calificación

--

- Utilice lápiz para marcar la respuesta.
- Marque un círculo completo
- Borre completamente el círculo para marcar una nueva respuesta

1 A B C D E

2 A B C D E

3 A B C D E

4 A B C D E

5 A B C D E

6 A B C D E

7 A B C D E

8 A B C D E

9 A B C D E

10 A B C D E

11 A B C D E

12 A B C D E

13 A B C D E

14 A B C D E

15 A B C D E

16 A B C D E

17 A B C D E

18 A B C D E

19 A B C D E

20 A B C D E

21 A B C D E

22 A B C D E

23 A B C D E

24 A B C D E

25 A B C D E

26 A B C D E

27 A B C D E

28 A B C D E

29 A B C D E

30 A B C D E

31 A B C D E

32 A B C D E

33 A B C D E

34 A B C D E

35 A B C D E

36 A B C D E

37 A B C D E

38 A B C D E

39 A B C D E

40 A B C D E

41 A B C D E

42 A B C D E

43 A B C D E

44 A B C D E

45 A B C D E

46 A B C D E

47 A B C D E

48 A B C D E

49 A B C D E

50 A B C D E

51 A B C D E

52 A B C D E

53 A B C D E

54 A B C D E

55 A B C D E

56 A B C D E

57 A B C D E

58 A B C D E

59 A B C D E

60 A B C D E

61 A B C D E

62 A B C D E

63 A B C D E

64 A B C D E

65 A B C D E

66 A B C D E

67 A B C D E

68 A B C D E

69 A B C D E

70 A B C D E

71 A B C D E

72 A B C D E

73 A B C D E

74 A B C D E

75 A B C D E

76 A B C D E

77 A B C D E

78 A B C D E

79 A B C D E

80 A B C D E

81 A B C D E

82 A B C D E

83 A B C D E

84 A B C D E

85 A B C D E

86 A B C D E

87 A B C D E

88 A B C D E

89 A B C D E

90 A B C D E

91 A B C D E

92 A B C D E

93 A B C D E

94 A B C D E

95 A B C D E

96 A B C D E

97 A B C D E

98 A B C D E

99 A B C D E

100 A B C D E



ENLACE	DETALLE	QR
http://www.multimevi.com/	Página web MULTIMEVI, donde encontrarás noticias y recursos	
https://t.me/+Klr3YaM42_ZhZTIx	Grupo de apoyo en TELEGRAM	
https://chat.whatsapp.com/IQuCCcZjtLjIkLfgzXo68Y	<u>GRUPO DE WHATSAPP</u>	
https://whatsapp.com/channel/0029VaBB2zQHwXb5Vhn9Yw1W	Canal de noticias WhatsApp	
https://www.facebook.com/multimevi.ec/	Perfil de facebook	
https://www.facebook.com/groups/multimevi	Grupo FULL Rectivos	
https://www.tiktok.com/@multimevi	Canal de TIK TOK	
https://www.instagram.com/multimevi.ec/	Canal de Instagram	
https://twitter.com/multimevi	Red X	

Plataforma MOODLE

 www.riolearning.com

Página Web



www.multimevi.com

Redes Sociales



Procesos



ACCESO a la Educación Superior
SENESCYT

QUIERO SER MAESTRO
Ministerio de Educación