



# Razonamiento Matemático

Preguntas modelo  
examen de acceso a la educación superior



**ACCESO** a la Educación Superior  
SENESCYT

**QUIERO SER MAESTRO**  
Ministerio de Educación

**RAZONAMIENTO MATEMATICO**

**Opción Múltiple**

*Elige la opción que complete mejor el enunciado o que responda mejor a la pregunta.*

1. 

**Señalar el número que sigue en cada serie de entre las soluciones propuestas.**

**38 - 34 - 30 -**

- a. 32
- b. 28
- c. 26
- d. 29

2. 

Señalar el número que sigue en cada serie de entre las soluciones propuestas.

**5 - 10 - 12 - 36 -**

- a. 40
- b. 35
- c. 39
- d. 38

3. 

Señalar el número que sigue en cada serie de entre las soluciones propuestas.

**62 - 58 - 55 - 53 -**

- a. 52
- b. 50
- c. 49
- d. 47

4. 

Señalar el número que sigue en cada serie de entre las soluciones propuestas.

**52 - 53 - 55 - 58 - 62 -**

- a. 66
- b. 65
- c. 67
- d. 68

5.   
Señalar el número que sigue en cada serie de entre las soluciones propuestas.

**29 - 32 - 35 -**

- a. 37
- b. 38
- c. 40
- d. 42

6.   
Señalar el número que sigue en cada serie de entre las soluciones propuestas.

**11 - 15 - 19 - 23 -**

- a. 25
- b. 27
- c. 29
- d. 30

7.   
Señalar el número que sigue en cada serie de entre las soluciones propuestas.

**20 - 21 - 22 - 3 - 23 - 24 - 25 - 4 -**

- a. 27
- b. 2
- c. 5
- d. 26

8.   
Señalar el número que sigue en cada serie de entre las soluciones propuestas.

**12 - 13 - 16 - 17 - 20 - 21 -**

- a. 22
- b. 24
- c. 25
- d. 27

9.   
Señalar el número que sigue en cada serie de entre las soluciones propuestas.

**50 - 15 - 40 - 25 - 30 - 35 -**

- a. 40
- b. 30
- c. 20
- d. 45



10. 

Señalar el número que sigue en cada serie de entre las soluciones propuestas.

**47 - 48 - 46 - 47 - 45 -**

- a. 46
- b. 47
- c. 43
- d. 41

11. 

Señalar el número que sigue en cada serie de entre las soluciones propuestas.

**14 - 15 - 16 - 15 - 16 - 17 - 16 - 17 - 18 -**

- a. 14
- b. 19
- c. 17
- d. 15

12. 

Señalar el número que sigue en cada serie de entre las soluciones propuestas.

**22 - 21 - 20 - 18 - 17 - 16 - 14 - 13 - 12 -**

- a. 6
- b. 11
- c. 8
- d. 10

13. 

Señalar el número que sigue en cada serie de entre las soluciones propuestas.

**15 - 14 - 17 - 12 - 11 - 14 -**

- a. 11
- b. 9
- c. 17
- d. 15

14. 

Señalar el número que sigue en cada serie de entre las soluciones propuestas.

**9 - 8 - 10 - 7 - 6 - 8 - 5 - 4 -**

- a. 7
- b. 8
- c. 6
- d. 1

15.  Señalar el número que sigue en cada serie de entre las soluciones propuestas.

**20 - 22 - 25 - 28 - 30 - 33 - 36 - 38 -**

- a. 39
- b. 40
- c. 42
- d. 41

16.  Señalar el número que sigue en cada serie de entre las soluciones propuestas.


**8 - 11 - 9 - 12 - 10 - 13 -**

- a. 16
- b. 15
- c. 11
- d. 8

17.  Señalar, de entre las propuestas, la letra que sigue en cada serie. (En este test no cuentan las letras CH, LL, W).


**f - h - l - n - q -**

- a. u
- b. t
- c. p
- d. s

18.  Señalar, de entre las propuestas, la letra que sigue en cada serie. (En este test no cuentan las letras CH, LL, W).

**j - r - l - t - n - v -**

- a. o
- b. y
- c. p
- d. q

19.  Señalar, de entre las propuestas, la letra que sigue en cada serie. (En este test no cuentan las letras CH, LL, W).


**c - c - c - d - e - c - c - f - g - h - c - c - c -**

- a. c
- b. i
- c. h
- d. j

20.   
Señalar, de entre las propuestas, la letra que sigue en cada serie. (En este test no cuentan las letras CH, LL, W).


**ñ - f - n - e - m - d - l - c -**

- a. k
- b. b
- c. j
- d. a

21.   
Señalar, de entre las propuestas, la letra que sigue en cada serie. (En este test no cuentan las letras CH, LL, W).


**l - n - j - l - h - j - f - h -**

- a. j
- b. c
- c. d
- d. i

22.   
Señalar, de entre las propuestas, la letra que sigue en cada serie. (En este test no cuentan las letras CH, LL, W).


**p - q - p - r - s - p - t - u - v - p -**

- a. y
- b. p
- c. g
- d. x

23.   
Señalar, de entre las propuestas, la letra que sigue en cada serie. (En este test no cuentan las letras CH, LL, W).


**d - g - k - o -**

- a. t
- b. u
- c. s
- d. p

24.   
Señalar, de entre las propuestas, la letra que sigue en cada serie. (En este test no cuentan las letras CH, LL, W).


**o - t - y - b -**

- a. d
- b. f
- c. z
- d. c

25.   
Señalar, de entre las propuestas, la letra que sigue en cada serie. (En este test no cuentan las letras CH, LL, W).


**m - n - o - p - q - s - t - u - v -**

- a. x
- b. y
- c. m
- d. z

26.   
Señalar, de entre las propuestas, la letra que sigue en cada serie. (En este test no cuentan las letras CH, LL, W).


**b - f - y - c - u - z -**

- a. g
- b. d
- c. r
- d. u

27.   
Señalar, de entre las propuestas, la letra que sigue en cada serie. (En este test no cuentan las letras CH, LL, W).


**i - b - k - z - m - x**

- a. u
- b. n
- c. ñ
- d. v

28.  Señalar, de entre las propuestas, la letra que sigue en cada serie. (En este test no cuentan las letras CH, LL, W).


**m - m - m - n - n - ñ - o - o - o - p - p**

- a. p
- b. q
- c. o
- d. m

29.  Señalar, de entre las propuestas, la letra que sigue en cada serie. (En este test no cuentan las letras CH, LL, W).


**r - g - p - e - ñ - c -**

- a. n
- b. k
- c. m
- d. a

30.  Señalar, de entre las propuestas, la letra que sigue en cada serie. (En este test no cuentan las letras CH, LL, W).


**k - t - e -**

- a. s
- b. ñ
- c. z
- d. l

31.  Señalar, de entre las propuestas, la letra que sigue en cada serie. (En este test no cuentan las letras CH, LL, W).


**b - d - h - n - u -**

- a. f
- b. c
- c. y
- d. z

32.  Señalar, de entre las propuestas, la letra que sigue en cada serie. (En este test no cuentan las letras CH, LL, W).


**g - h - n - ñ - t - u -**

- a. x
- b. g
- c. b
- d. c

33.  Señalar, de entre las propuestas, la letra que sigue en cada serie. (En este test no cuentan las letras CH, LL, W).

**s - t - u - h - i - j - s - t - u - k - l - m - s - t - u -**

- a. v
- b. ñ
- c. g
- d. n

34.  Señalar, de entre las propuestas, la letra que sigue en cada serie. (En este test no cuentan las letras CH, LL, W).


**m - m - ñ - p - p - r - t -**

- a. u
- b. t
- c. s
- d. v

35.  Señalar, de entre las propuestas, la letra que sigue en cada serie. (En este test no cuentan las letras CH, LL, W).


**v - c - h - x - d - i - y - e -**

- a. j
- b. f
- c. z
- d. k

36.  Señalar, de entre las propuestas, la letra que sigue en cada serie. (En este test no cuentan las letras CH, LL, W).

**f - n - t - a -**

- a. g
- b. z
- c. f
- d. d

37.  Señalar, de entre las propuestas, la letra que sigue en cada serie. (En este test no cuentan las letras CH, LL, W).

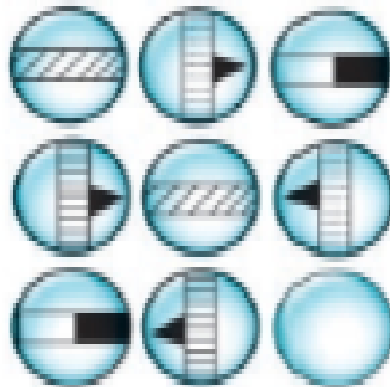
**b - z - u - o - h -**






- a. x
- b. z
- c. y
- d. v

38.

[www.riolearning.com](http://www.riolearning.com)

Señalar, de entre las propuestas, qué figura falta en cada una de las series.









- a. 
- b. 
- c. 
- d. 
- e. 

39.

[www.riolearning.com](http://www.riolearning.com)

Señalar, de entre las propuestas, qué figura falta en cada una de las series.

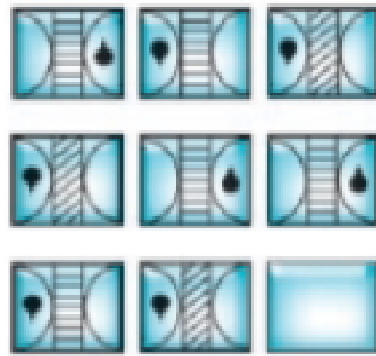







- a. 
- b. 
- c. 
- d. 
- e. 

40.

[www.riolearning.com](http://www.riolearning.com)

Señalar, de entre las propuestas, qué figura falta en cada una de las series.









- a. 
- b. 
- c. 
- d. 
- e. 

41.

[www.riolearning.com](http://www.riolearning.com)

Señalar, de entre las propuestas, qué figura falta en cada una de las series.




- a. 
- b. 
- c. 
- d. 
- e. 

42.

[www.riolearning.com](http://www.riolearning.com)

Señalar, de entre las propuestas, qué figura falta en cada una de las series.



a.



b.



c.



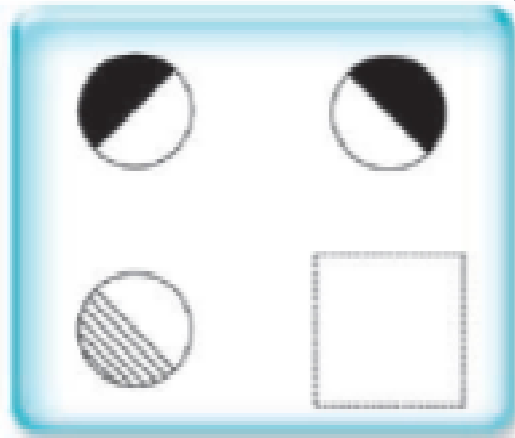
d.







43.

[www.riolearning.com](http://www.riolearning.com)

Señalar, de entre las propuestas, qué figura falta en cada una de las series.

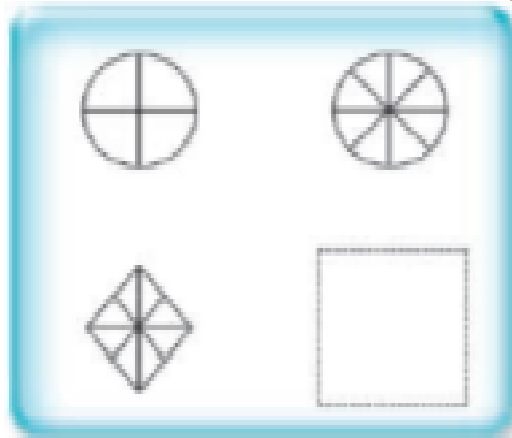






- a. 
- b. 
- c. 
- d. 

44.

[www.riolearning.com](http://www.riolearning.com)

Señalar, de entre las propuestas, qué figura falta en cada una de las series.

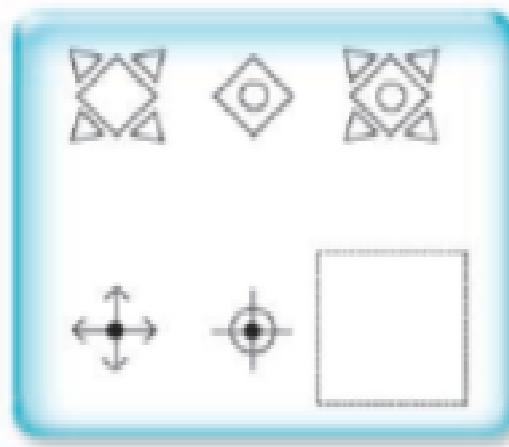


- a. 
- b. 
- c. 
- d. 

45.

[www.riolearning.com](http://www.riolearning.com)

Señalar, de entre las propuestas, qué figura falta en cada una de las series.



a.



b.



c.




d.



46.

[www.riolearning.com](http://www.riolearning.com)

Señalar, de entre las propuestas, qué figura completa cada una de las series.



a.



b.



c.



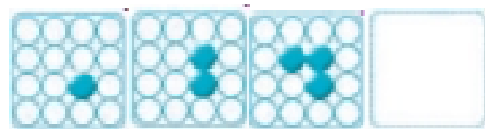
d.




47.

[www.riolearning.com](http://www.riolearning.com)


Señalar, de entre las propuestas, qué figura completa cada una de las series.




a.




b.



c.








d.



48. [www.riolearning.com](http://www.riolearning.com)


Señalar, de entre las propuestas, qué figura completa cada una de las series.







- a. 
- b. 
- c. 
- d. 

49. [www.riolearning.com](http://www.riolearning.com)

Señalar, de entre las propuestas, qué figura completa cada una de las series.

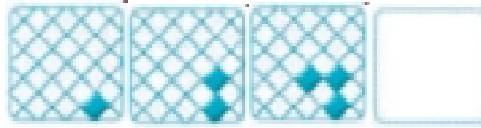


- a. 
- b. 
- c. 
- d. 

50.

[www.riolearning.com](http://www.riolearning.com)

Señalar, de entre las propuestas, qué figura completa cada una de las series.



a.




b.



c.



d.



51.

[www.riolearning.com](http://www.riolearning.com)

Señalar, de entre las propuestas, qué figura completa cada una de las series.



a.



b.



c.



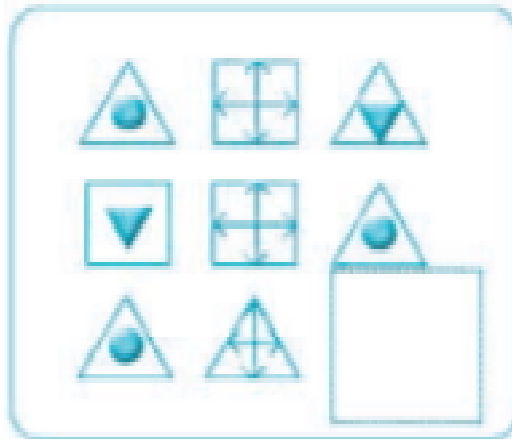
d.



52.

[www.riolearning.com](http://www.riolearning.com)

Señalar, de entre las propuestas, qué figura completa cada una de las series.



a.



b.



c.



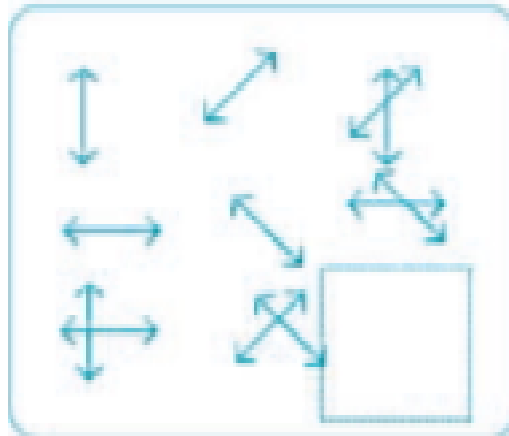
d.



53.

[www.riolearning.com](http://www.riolearning.com)

Señalar, de entre las propuestas, qué figura completa cada una de las series.



a.



b.



c.




d.



54.

[www.riolearning.com](http://www.riolearning.com)

Señalar, de entre las propuestas, qué figura completa cada una de las series.



a.



b.



c.



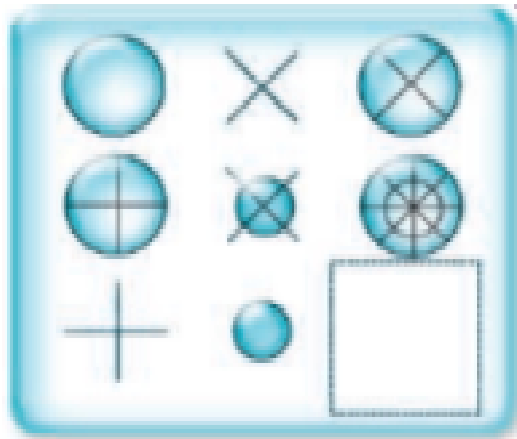
d.



55.

[www.riolearning.com](http://www.riolearning.com)

Señalar, de entre las propuestas, qué figura completa cada una de las series.



a.




b.



c.




d.







56.

[www.riolearning.com](http://www.riolearning.com)

Señalar, de entre las propuestas, qué figura completa cada una de las series.

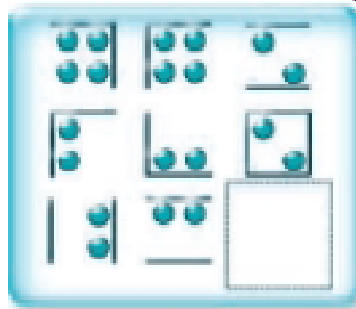


- a. 
- b. 
- c. 
- d. 

57.

[www.riolearning.com](http://www.riolearning.com)

Señalar, de entre las propuestas, qué figura completa cada una de las series.



a.



b.



c.



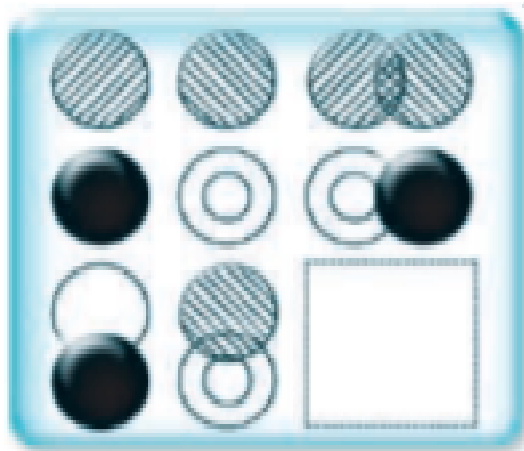
d.



58.

[www.riolearning.com](http://www.riolearning.com)


Señalar, de entre las propuestas, qué figura completa cada una de las series.



a.



b.



c.




d.



59.

[www.riolearning.com](http://www.riolearning.com)

Elija la que continua la serie.




- a. 10 de picas
- b. 12 de picas
- c. 11 de corazones
- d. 11 de picas

60.

[www.riolearning.com](http://www.riolearning.com)

Elija la que continua la serie.




- a. La J de picas
- b. El As de corazones
- c. La Q de picas
- d. La Q de corazones

61.

[www.riolearning.com](http://www.riolearning.com)

¿Qué carta continua la serie?

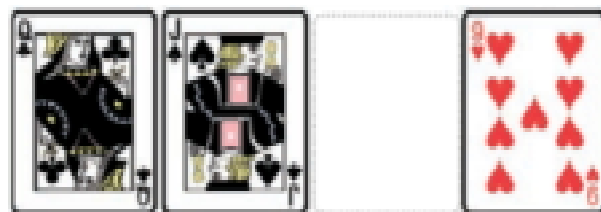


- a. El 3 de corazones
- b. El 2 de corazones
- c. El 3 de diamantes
- d. El 2 de diamantes

62.

[www.riolearning.com](http://www.riolearning.com)

¿Qué carta continua la serie?




- a. El 10 de diamantes
- b. El 10 de corazones
- c. El 10 de picas
- d. El 8 de corazones

63.

[www.riolearning.com](http://www.riolearning.com)

¿Qué carta continua la serie?




- a. El As de picas
- b. El As de corazones
- c. El As de tréboles
- d. El As de diamantes

64.

[www.riolearning.com](http://www.riolearning.com)

¿Qué carta continua la serie?

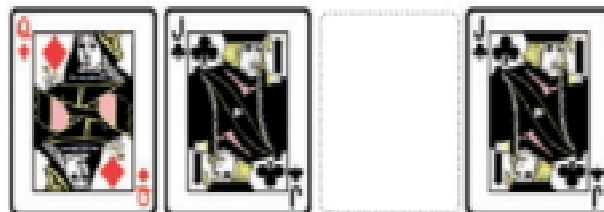


- a. Ninguna de las anteriores es correcta
- b. 9 de diamantes
- c. 9 de picas
- d. 9 de corazones

65.

[www.riolearning.com](http://www.riolearning.com)

Continua la serie

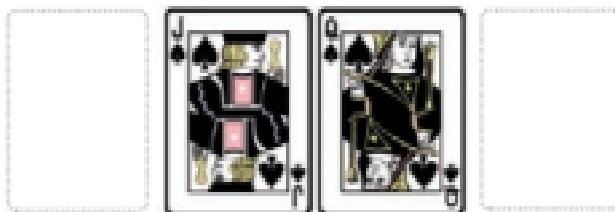


- a. La Q de corazones
- b. La J de tréboles
- c. La J de picas
- d. La Q de picas

66.

[www.riolearning.com](http://www.riolearning.com)

¿Qué 2 cartas faltan?




- a. Delante la K de diamantes y detrás el 10 de diamantes
- b. Delante el 10 de picas y detrás la K de corazones
- c. Delante el 10 de corazones y detrás la K de tréboles
- d. Ninguna es correcta

67.

[www.riolearning.com](http://www.riolearning.com)

Continúe la serie




- a. El As de picas
- b. El As de corazones
- c. El 3 de tréboles
- d. El 2 de diamantes

68.

[www.riolearning.com](http://www.riolearning.com)

¿Qué carta pondría en el hueco en blanco?




- a. El 6 de corazones
- b. El 5 de corazones
- c. El 4 de corazones
- d. Ninguna es correcta.

69.

[www.riolearning.com](http://www.riolearning.com)

Elija la que continua la serie.




- a. 10 de picas
- b. 12 de picas
- c. 11 de corazones
- d. 3 diamantes

70.

[www.riolearning.com](http://www.riolearning.com)

Elija la que continua la serie.




- a. J de picas
- b. J de corazones
- c. Q de picas
- d. Ninguna de las anteriores es correcta.

71.

[www.riolearning.com](http://www.riolearning.com)


¿Qué carta continua la serie?



- a. As de picas
- b. As de tréboles
- c. 9 de corazones
- d. 9 de diamantes

72. [www.riolearning.com](http://www.riolearning.com)


Continúa la serie



- a. 6 de corazones
- b. As de picas
- c. 6 de diamantes
- d. Ninguna es correcta

73. [www.riolearning.com](http://www.riolearning.com)


Continúa la serie



- a. 3 de corazones
- b. K de picas
- c. 4 de diamantes
- d. 3 de diamantes

74. [www.riolearning.com](http://www.riolearning.com)

Continúa la serie




- a. 6 de tréboles
- b. 6 de diamantes
- c. 6 de corazones
- d. Ninguna es correcta

75.

[www.riolearning.com](http://www.riolearning.com)

**DOMINÓ**

En este prueba se trata de completar las series con las figuras de domino, eligiendo de las cuatro opciones que se les da ¿cuál es la correcta?

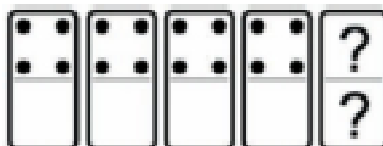


- a. 5-5
- b. 4-4
- c. 5-4
- d. 4-5

76.

[www.riolearning.com](http://www.riolearning.com)

En este prueba se trata de completar las series con las figuras de domino, eligiendo de las cuatro opciones que se les da ¿cuál es la correcta?




- a. 4-blanca
- b. 4-1
- c. Blanca-4
- d. Blanca-1

77.

[www.riolearning.com](http://www.riolearning.com)

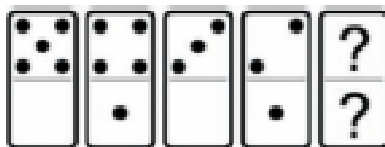
En este prueba se trata de completar las series con las figuras de domino, eligiendo de las cuatro opciones que se les da ¿cuál es la correcta?



- a. Blanca-1
- b. 1-2
- c. 2-1
- d. 1-blanca

78. [www.riolearning.com](http://www.riolearning.com)

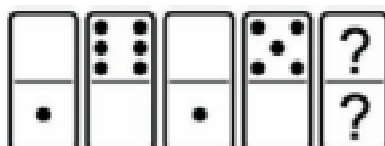
En este prueba se trata de completar las series con las figuras de domino, eligiendo de las cuatro opciones que se les da ¿cuál es la correcta?



- a. Blanca-1
- b. 1-1
- c. 1-blanca
- d. 2-blanca

79. [www.riolearning.com](http://www.riolearning.com)

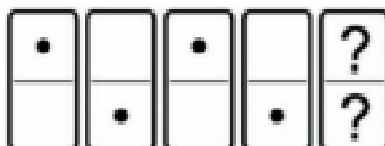
En este prueba se trata de completar las series con las figuras de domino, eligiendo de las cuatro opciones que se les da ¿cuál es la correcta?



- a. 1-1
- b. 2-1
- c. 1-blanca
- d. Blanca-1

80. [www.riolearning.com](http://www.riolearning.com)

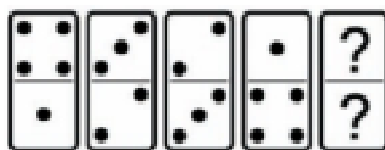
En este prueba se trata de completar las series con las figuras de domino, eligiendo de las cuatro opciones que se les da ¿cuál es la correcta?



- a. Blanca-1
- b. 1-blanca
- c. 1-1
- d. Blanca-blanca

81. [www.riolearning.com](http://www.riolearning.com)

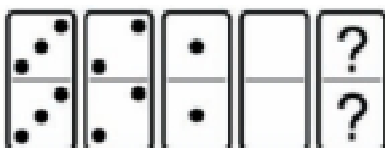
En este prueba se trata de completar las series con las figuras de domino, eligiendo de las cuatro opciones que se les da ¿cuál es la correcta?



- a. 5-5
- b. Blanca-1
- c. Blanca-5
- d. 6-5

82. [www.riolearning.com](http://www.riolearning.com)


En este prueba se trata de completar las series con las figuras de domino, eligiendo de las cuatro opciones que se les da ¿cuál es la correcta?



- a. 4-5
- b. 5-4
- c. 5-5
- d. Ninguna es correcta

83. [www.riolearning.com](http://www.riolearning.com)

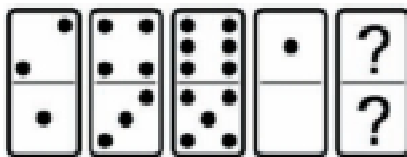
En este prueba se trata de completar las series con las figuras de domino, eligiendo de las cuatro opciones que se les da ¿cuál es la correcta?



- a. Blanca-1
- b. 1-2
- c. 5-Blanca
- d. 1-blanca

84. [www.riolearning.com](http://www.riolearning.com)


En este prueba se trata de completar las series con las figuras de domino, eligiendo de las cuatro opciones que se les da ¿cuál es la correcta?



- a. 2-2
- b. 1-1
- c. 3-2
- d. Blanca-blanca

85. [www.riolearning.com](http://www.riolearning.com)


En este prueba se trata de completar las series con las figuras de domino, eligiendo de las cuatro opciones que se les da ¿cuál es la correcta?



- a. 5-5
- b. 2-5
- c. Blanca-5
- d. 6-5

86. [www.riolearning.com](http://www.riolearning.com)


En este prueba se trata de completar las series con las figuras de domino, eligiendo de las cuatro opciones que se les da ¿cuál es la correcta?



- a. 6-4
- b. 4-blanca
- c. 4-6
- d. Blanca-4

87. [www.riolearning.com](http://www.riolearning.com)

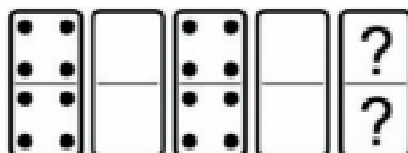
En este prueba se trata de completar las series con las figuras de domino, eligiendo de las cuatro opciones que se les da ¿cuál es la correcta?



- a. 3-3
- b. 2-3
- c. 2-4
- d. Ninguna es correcta

88. [www.riolearning.com](http://www.riolearning.com)

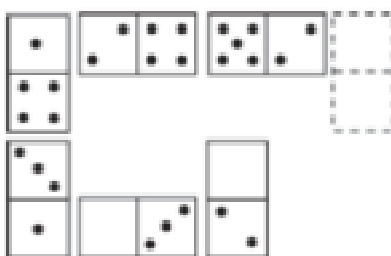
En este prueba se trata de completar las series con las figuras de domino, eligiendo de las cuatro opciones que se les da ¿cuál es la correcta?



- a. Blanca-blanca
- b. 3-3
- c. 2-4
- d. 4-4

89. [www.riolearning.com](http://www.riolearning.com)


Elegir, de entre las opciones propuestas, la que completa la serie:



- a.  $\frac{4}{3}$
- b.  $\frac{2}{0}$
- c.  $\frac{3}{5}$
- d.  $\frac{3}{6}$

90. [www.riolearning.com](http://www.riolearning.com)

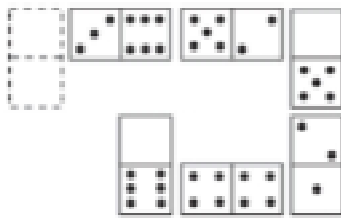
Elegir, de entre las opciones propuestas, la que completa la serie:



- a. 3/5
- b. 4/2
- c. 3/3
- d. 3/2

91. [www.riolearning.com](http://www.riolearning.com)

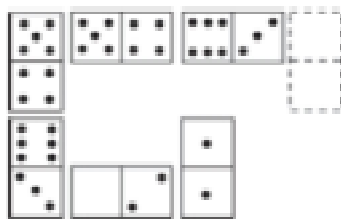
Elegir, de entre las opciones propuestas, la que completa la serie:



- a. 2/0
- b. 3/1
- c. 4/2
- d. 3/0

92. [www.riolearning.com](http://www.riolearning.com)


Elegir, de entre las opciones propuestas, la que completa la serie:



- a. 5/4
- b. 0/3
- c. 0/2
- d. 1/2

93. [www.riolearning.com](http://www.riolearning.com)

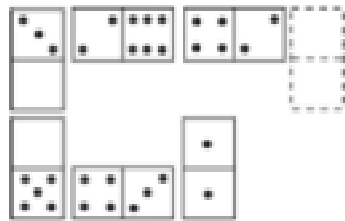
Elegir, de entre las opciones propuestas, la que completa la serie:



- a. 4/6
- b. 3/0
- c. 4/5
- d. 5/6

94. [www.riolearning.com](http://www.riolearning.com)


Elegir, de entre las opciones propuestas, la que completa la serie:



- a. 5/4
- b. 6/5
- c. 0/5
- d. 1/3

95. [www.riolearning.com](http://www.riolearning.com)


Elegir, de entre las opciones propuestas, la que completa la serie:



- a. 5/1
- b. 6/6
- c. 0/0
- d. 5/6

96. [www.riolearning.com](http://www.riolearning.com)

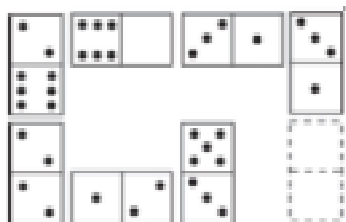
Elegir, de entre las opciones propuestas, la que completa la serie:



- a. 1/5
- b. 2/3
- c. 3/5
- d. 1/4

97. [www.riolearning.com](http://www.riolearning.com)

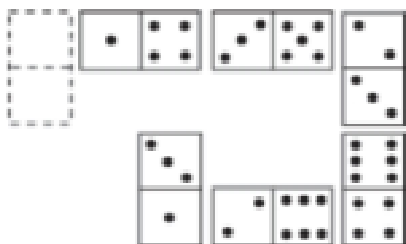
Elegir, de entre las opciones propuestas, la que completa la serie:



- a. 0/6
- b. 2/0
- c. 3/6
- d. 1/3

98. [www.riolearning.com](http://www.riolearning.com)

Elegir, de entre las opciones propuestas, la que completa la serie:

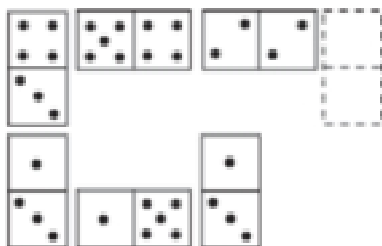


- a. 1/1
- b. 6/1
- c. 4/0
- d. 5/1

99.

[www.riolearning.com](http://www.riolearning.com)

Elegir, de entre las opciones propuestas, la que completa la serie:

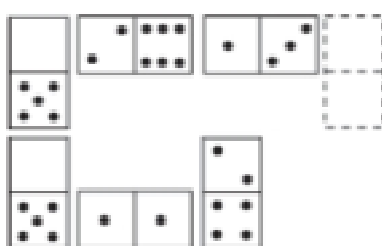


- a. 6/2
- b. 1/4
- c. 6/3
- d. 5/4

100.

[www.riolearning.com](http://www.riolearning.com)

Elegir, de entre las opciones propuestas, la que completa la serie:



- a. 4/2
- b. 6/1
- c. 1/3
- d. 5/1

**RAZONAMIENTO MATEMATICO****Answer Section****MULTIPLE CHOICE**

- |            |        |
|------------|--------|
| 1. ANS: C  | PTS: 1 |
| 2. ANS: C  | PTS: 1 |
| 3. ANS: A  | PTS: 1 |
| 4. ANS: C  | PTS: 1 |
| 5. ANS: B  | PTS: 1 |
| 6. ANS: B  | PTS: 1 |
| 7. ANS: D  | PTS: 1 |
| 8. ANS: B  | PTS: 1 |
| 9. ANS: C  | PTS: 1 |
| 10. ANS: A | PTS: 1 |
| 11. ANS: C | PTS: 1 |
| 12. ANS: D | PTS: 1 |
| 13. ANS: B | PTS: 1 |
| 14. ANS: C | PTS: 1 |
| 15. ANS: D | PTS: 1 |
| 16. ANS: C | PTS: 1 |
| 17. ANS: D | PTS: 1 |
| 18. ANS: B | PTS: 1 |
| 19. ANS: B | PTS: 1 |
| 20. ANS: A | PTS: 1 |
| 21. ANS: C | PTS: 1 |
| 22. ANS: D | PTS: 1 |
| 23. ANS: B | PTS: 1 |
| 24. ANS: A | PTS: 1 |
| 25. ANS: B | PTS: 1 |
| 26. ANS: C | PTS: 1 |
| 27. ANS: C | PTS: 1 |
| 28. ANS: B | PTS: 1 |
| 29. ANS: C | PTS: 1 |
| 30. ANS: B | PTS: 1 |
| 31. ANS: A | PTS: 1 |
| 32. ANS: C | PTS: 1 |
| 33. ANS: D | PTS: 1 |
| 34. ANS: B | PTS: 1 |
| 35. ANS: A | PTS: 1 |
| 36. ANS: C | PTS: 1 |
| 37. ANS: A | PTS: 1 |
| 38. ANS: B | PTS: 1 |
| 39. ANS: B | PTS: 1 |
| 40. ANS: A | PTS: 1 |

- |     |        |        |
|-----|--------|--------|
| 41. | ANS: B | PTS: 1 |
| 42. | ANS: B | PTS: 1 |
| 43. | ANS: C | PTS: 1 |
| 44. | ANS: A | PTS: 1 |
| 45. | ANS: C | PTS: 1 |
| 46. | ANS: D | PTS: 1 |
| 47. | ANS: B | PTS: 1 |
| 48. | ANS: B | PTS: 1 |
| 49. | ANS: C | PTS: 1 |
| 50. | ANS: B | PTS: 1 |
| 51. | ANS: C | PTS: 1 |
| 52. | ANS: D | PTS: 1 |
| 53. | ANS: C | PTS: 1 |
| 54. | ANS: D | PTS: 1 |
| 55. | ANS: A | PTS: 1 |
| 56. | ANS: C | PTS: 1 |
| 57. | ANS: C | PTS: 1 |
| 58. | ANS: D | PTS: 1 |
| 59. | ANS: D | PTS: 1 |
| 60. | ANS: B | PTS: 1 |
| 61. | ANS: D | PTS: 1 |
| 62. | ANS: C | PTS: 1 |
| 63. | ANS: A | PTS: 1 |
| 64. | ANS: A | PTS: 1 |
| 65. | ANS: D | PTS: 1 |
| 66. | ANS: D | PTS: 1 |
| 67. | ANS: D | PTS: 1 |
| 68. | ANS: B | PTS: 1 |
| 69. | ANS: D | PTS: 1 |
| 70. | ANS: D | PTS: 1 |
| 71. | ANS: A | PTS: 1 |
| 72. | ANS: C | PTS: 1 |
| 73. | ANS: B | PTS: 1 |
| 74. | ANS: D | PTS: 1 |
| 75. | ANS: D | PTS: 1 |
| 76. | ANS: A | PTS: 1 |
| 77. | ANS: B | PTS: 1 |
| 78. | ANS: C | PTS: 1 |
| 79. | ANS: D | PTS: 1 |
| 80. | ANS: B | PTS: 1 |
| 81. | ANS: C | PTS: 1 |
| 82. | ANS: D | PTS: 1 |
| 83. | ANS: C | PTS: 1 |
| 84. | ANS: C | PTS: 1 |
| 85. | ANS: B | PTS: 1 |

- |      |        |        |
|------|--------|--------|
| 86.  | ANS: C | PTS: 1 |
| 87.  | ANS: A | PTS: 1 |
| 88.  | ANS: D | PTS: 1 |
| 89.  | ANS: C | PTS: 1 |
| 90.  | ANS: D | PTS: 1 |
| 91.  | ANS: B | PTS: 1 |
| 92.  | ANS: C | PTS: 1 |
| 93.  | ANS: A | PTS: 1 |
| 94.  | ANS: B | PTS: 1 |
| 95.  | ANS: B | PTS: 1 |
| 96.  | ANS: D | PTS: 1 |
| 97.  | ANS: A | PTS: 1 |
| 98.  | ANS: B | PTS: 1 |
| 99.  | ANS: D | PTS: 1 |
| 100. | ANS: C | PTS: 1 |





Forma

Test Version

--	--	--	--	--	--	--	--	--	--	--

Nombre: \_\_\_\_\_

Asignatura: \_\_\_\_\_

Fecha: \_\_\_\_\_

A

B

C

D

0  0  0  0  0  0  0  0  0

1  1  1  1  1  1  1  1  1

2  2  2  2  2  2  2  2  2

3  3  3  3  3  3  3  3  3

4  4  4  4  4  4  4  4  4

5  5  5  5  5  5  5  5  5

6  6  6  6  6  6  6  6  6

7  7  7  7  7  7  7  7  7

8  8  8  8  8  8  8  8  8

9  9  9  9  9  9  9  9  9

Cédula - Código

Ejemplo

A  B  C  D  E

Calificación

--

- Utilice lápiz para marcar la respuesta.
- Marque un círculo completo
- Borre completamente el círculo para marcar una nueva respuesta

1 A  B  C  D  E

2 A  B  C  D  E

3 A  B  C  D  E

4 A  B  C  D  E

5 A  B  C  D  E

6 A  B  C  D  E

7 A  B  C  D  E

8 A  B  C  D  E

9 A  B  C  D  E

10 A  B  C  D  E

11 A  B  C  D  E

12 A  B  C  D  E

13 A  B  C  D  E

14 A  B  C  D  E

15 A  B  C  D  E

16 A  B  C  D  E

17 A  B  C  D  E

18 A  B  C  D  E

19 A  B  C  D  E

20 A  B  C  D  E

21 A  B  C  D  E

22 A  B  C  D  E

23 A  B  C  D  E

24 A  B  C  D  E

25 A  B  C  D  E

26 A  B  C  D  E

27 A  B  C  D  E

28 A  B  C  D  E

29 A  B  C  D  E

30 A  B  C  D  E

31 A  B  C  D  E

32 A  B  C  D  E

33 A  B  C  D  E

34 A  B  C  D  E

35 A  B  C  D  E

36 A  B  C  D  E

37 A  B  C  D  E

38 A  B  C  D  E

39 A  B  C  D  E

40 A  B  C  D  E

41 A  B  C  D  E

42 A  B  C  D  E

43 A  B  C  D  E

44 A  B  C  D  E

45 A  B  C  D  E

46 A  B  C  D  E

47 A  B  C  D  E

48 A  B  C  D  E

49 A  B  C  D  E

50 A  B  C  D  E

51 A  B  C  D  E

52 A  B  C  D  E

53 A  B  C  D  E

54 A  B  C  D  E

55 A  B  C  D  E

56 A  B  C  D  E

57 A  B  C  D  E

58 A  B  C  D  E

59 A  B  C  D  E

60 A  B  C  D  E

61 A  B  C  D  E

62 A  B  C  D  E

63 A  B  C  D  E

64 A  B  C  D  E

65 A  B  C  D  E

66 A  B  C  D  E

67 A  B  C  D  E

68 A  B  C  D  E

69 A  B  C  D  E

70 A  B  C  D  E

71 A  B  C  D  E

72 A  B  C  D  E

73 A  B  C  D  E

74 A  B  C  D  E

75 A  B  C  D  E

76 A  B  C  D  E

77 A  B  C  D  E

78 A  B  C  D  E

79 A  B  C  D  E

80 A  B  C  D  E

81 A  B  C  D  E

82 A  B  C  D  E

83 A  B  C  D  E

84 A  B  C  D  E

85 A  B  C  D  E

86 A  B  C  D  E

87 A  B  C  D  E

88 A  B  C  D  E

89 A  B  C  D  E

90 A  B  C  D  E

91 A  B  C  D  E

92 A  B  C  D  E

93 A  B  C  D  E

94 A  B  C  D  E

95 A  B  C  D  E

96 A  B  C  D  E

97 A  B  C  D  E

98 A  B  C  D  E

99 A  B  C  D  E

100 A  B  C  D  E



ENLACE	DETALLE	QR
<a href="http://www.multimevi.com/">http://www.multimevi.com/</a>	Página web MULTIMEVI, donde encontrarás noticias y recursos	
<a href="https://t.me/+Klr3YaM42_ZhZTIx">https://t.me/+Klr3YaM42_ZhZTIx</a>	Grupo de apoyo en TELEGRAM	
<a href="https://chat.whatsapp.com/IQuCCcZjtLjIkLfgzXo68Y">https://chat.whatsapp.com/IQuCCcZjtLjIkLfgzXo68Y</a>	<u>GRUPO DE WHATSAPP</u>	
<a href="https://whatsapp.com/channel/0029VaBB2zQHwXb5Vhn9Yw1W">https://whatsapp.com/channel/0029VaBB2zQHwXb5Vhn9Yw1W</a>	Canal de noticias WhatsApp	
<a href="https://www.facebook.com/multimevi.ec/">https://www.facebook.com/multimevi.ec/</a>	Perfil de facebook	
<a href="https://www.facebook.com/groups/multimevi">https://www.facebook.com/groups/multimevi</a>	Grupo FULL Rectivos	
<a href="https://www.tiktok.com/@multimevi">https://www.tiktok.com/@multimevi</a>	Canal de TIK TOK	
<a href="https://www.instagram.com/multimevi.ec/">https://www.instagram.com/multimevi.ec/</a>	Canal de Instagram	
<a href="https://twitter.com/multimevi">https://twitter.com/multimevi</a>	Red X	

## Plataforma MOODLE

 [www.riolearning.com](http://www.riolearning.com)

## Página Web



[www.multimevi.com](http://www.multimevi.com)

## Redes Sociales



## Procesos



**ACCESO** a la Educación Superior  
SENESCYT

**QUIERO SER MAESTRO**  
Ministerio de Educación