



Ejercicios



Razonamiento Abstracto

Preguntas modelo
examen de acceso a la educación superior

Modelo V



ACCESO a la Educación Superior
SENESCYT

QUIERO SER MAESTRO
Ministerio de Educación

ACCESO A LA EDUCACIÓN SUPERIOR TAE100_001

Opción Múltiple

Elige la opción que complete mejor el enunciado o que responda mejor a la pregunta.

www.riolearning.com

1.


¿Cuál es la figura que falta?

		?

- A.  B.  C.  D.  E. 

2.

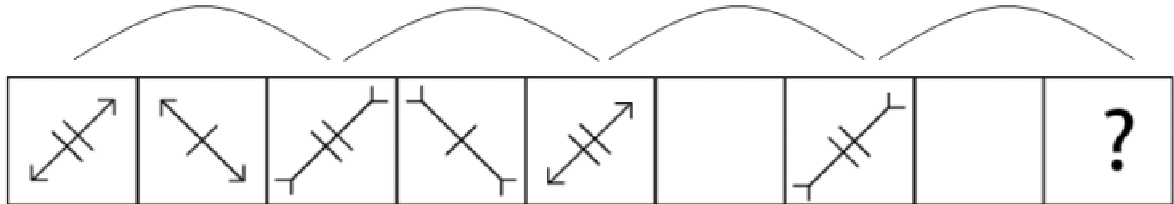
¿Cuál es la figura que falta?

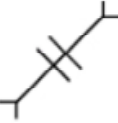

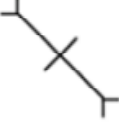




- A.  B.  C.  D.  E. 

3.


¿Cuál es la figura que falta?








- A.  B.  C.  D.  E. 

4.


¿Cuál es la figura que falta?








- A.  B.  C.  D.  E. 

5.

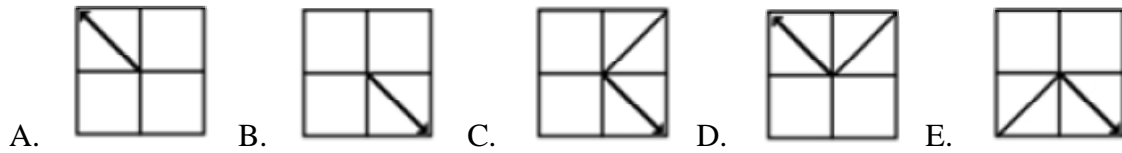
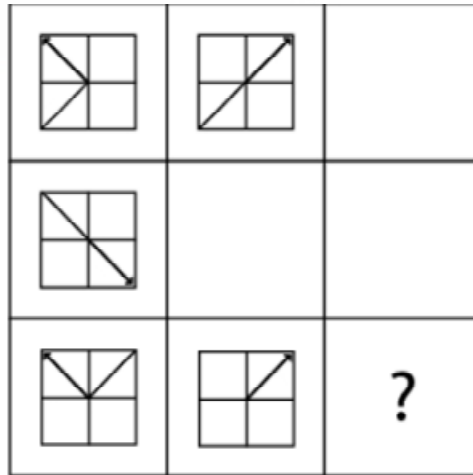
¿Cuál es la figura que falta?



- A.  B.  C.  D.  E. 

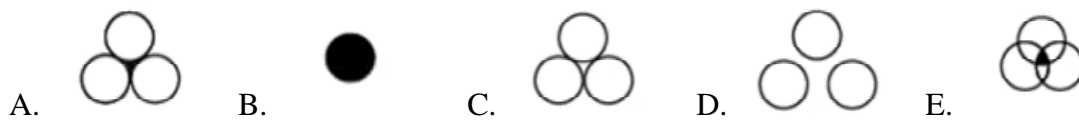
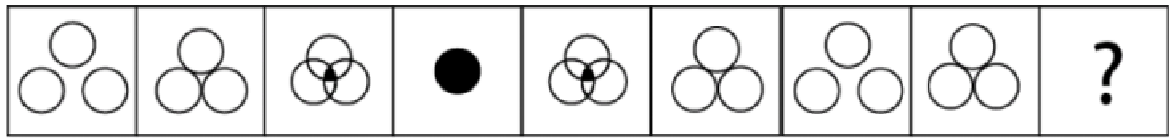
6.

¿Cuál es la figura que falta?



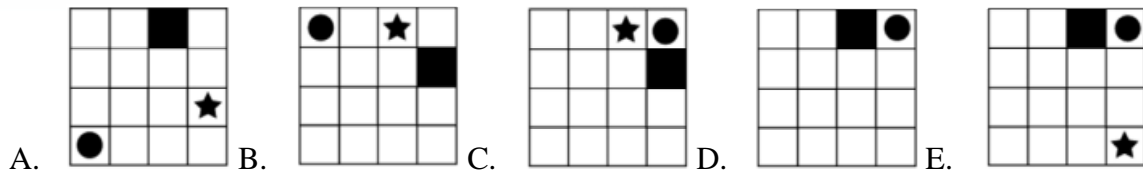
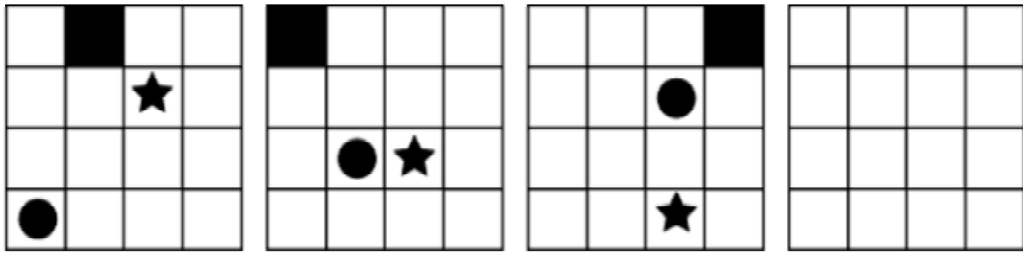
7.

¿Cuál es la figura que falta?



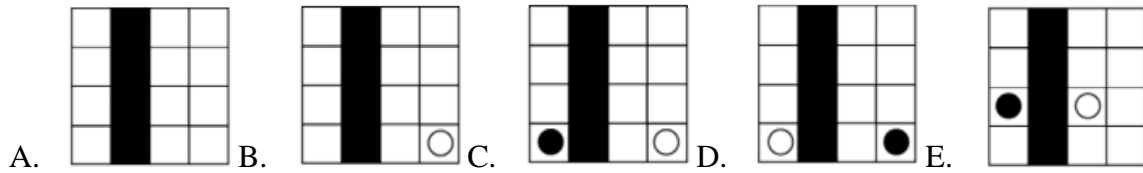
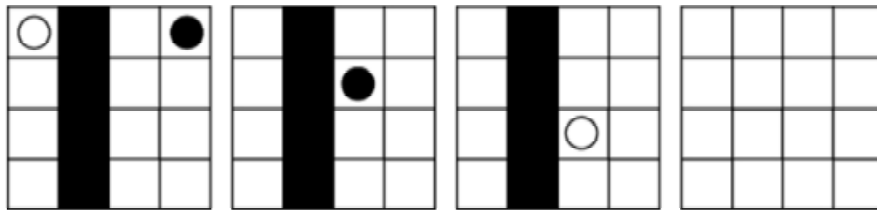
8.

¿Cuál es la figura que falta?



9.

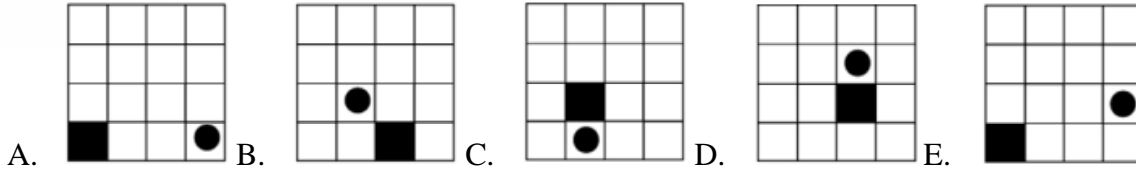
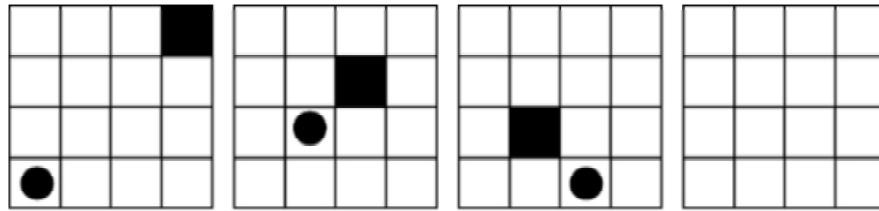
¿Cuál es la figura que falta?



www.riolearning.com

10.


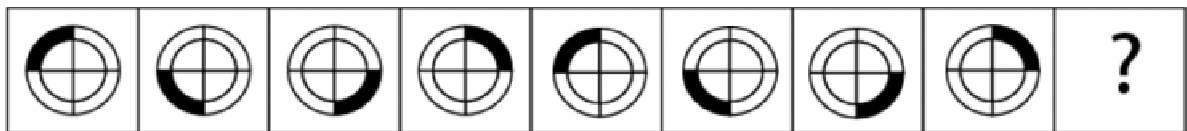
¿Cuál es la figura que falta?



www.riolearning.com

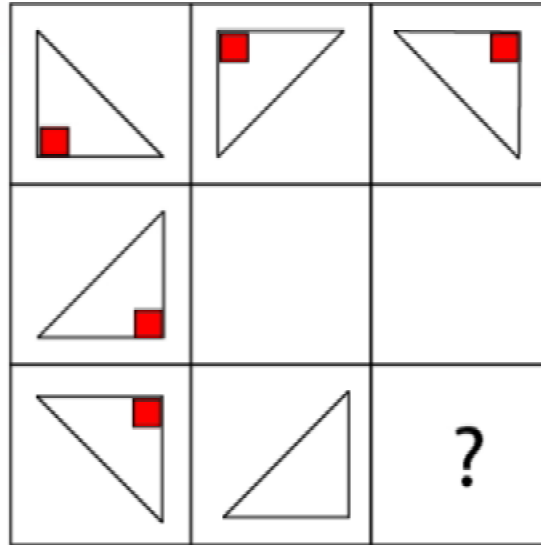
11.

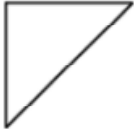


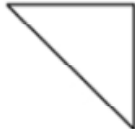
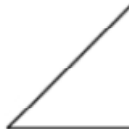
¿Cuál es la figura que falta?



12.

¿Cuál es la figura que falta?

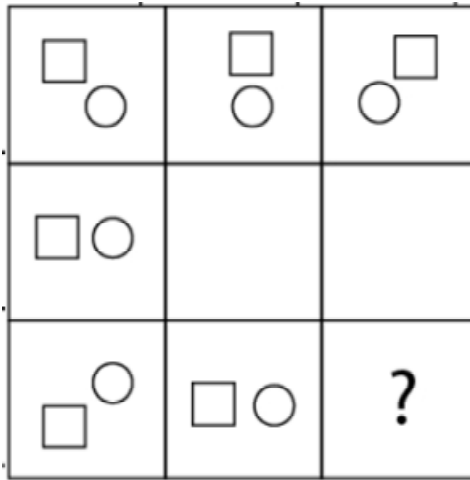





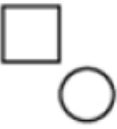

- A.  B.  C.  D.  E. 

www.riolearning.com

13.

¿Cuál es la figura que falta?

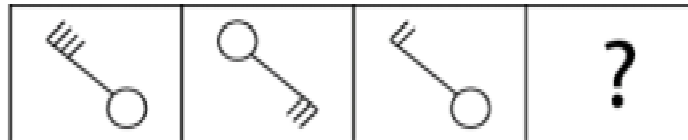


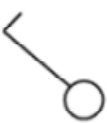
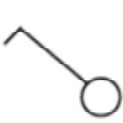
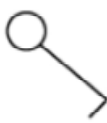
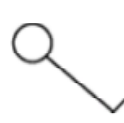

- A.  B.  C.  D.  E. 

www.riolearning.com

14.

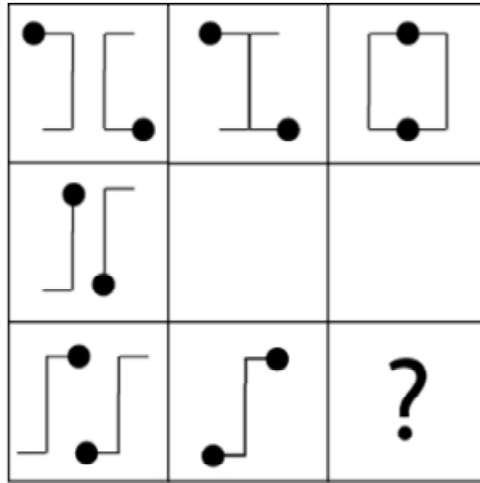
¿Cuál es la figura que falta?



- A.  B.  C.  D.  E. 

15.

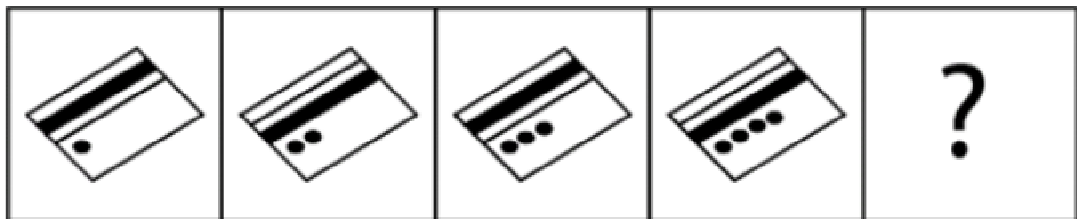
¿Cuál es la figura que falta?



- A.
- B.
- C.
- D.
- E.

16.

¿Cuál es la figura que falta?

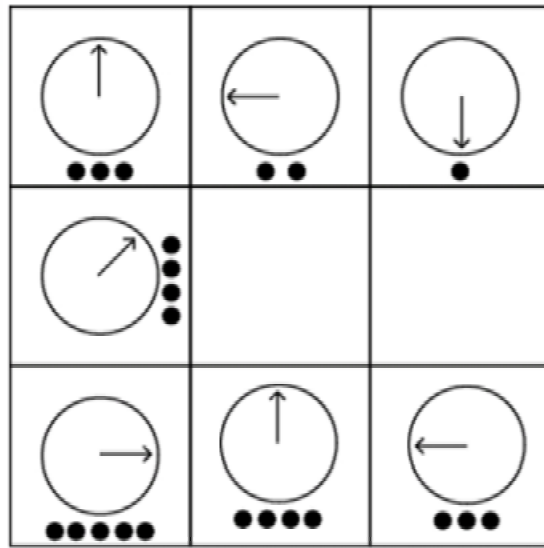



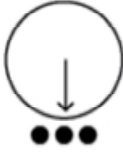



- A.
- B.
- C.
- D.
- E.

www.riolearning.com

17.

¿Cuál es la figura que falta?

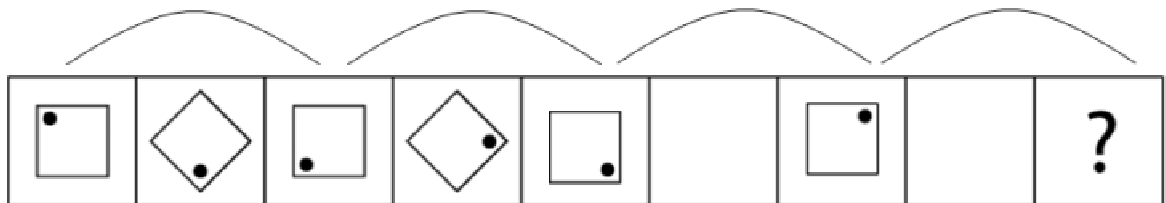






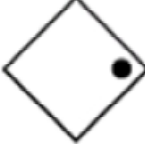
- A.  B.  C.  D.  E. 

www.riolearning.com

18.

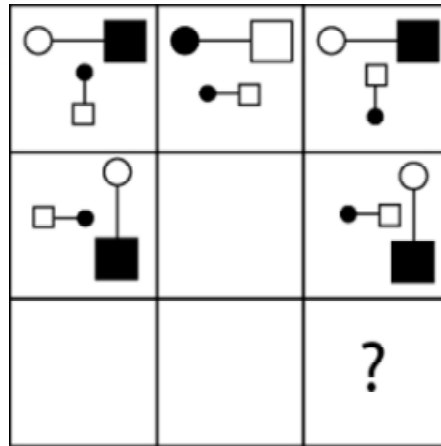
¿Cuál es la figura que falta?



- A.  B.  C.  D.  E. 

19.

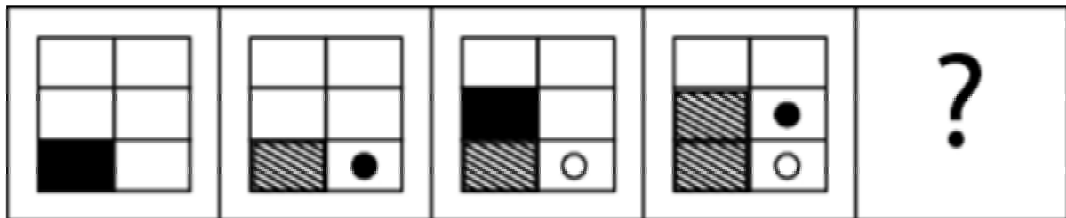
¿Cuál es la figura que falta?



- A.
- B.
- C.
- D.
- E.

20.

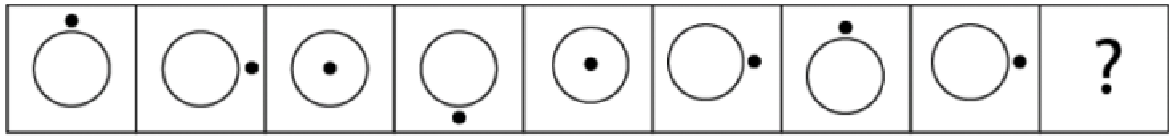
¿Cuál es la figura que falta?



- A.
- B.
- C.
- D.
- E.

21.


¿Cuál es la figura que falta?

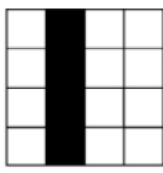
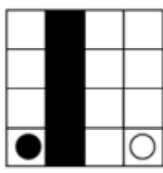
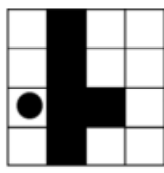
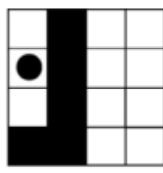
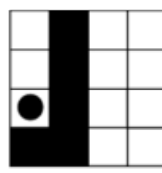


- A.  B.  C.  D.  E. 

22.

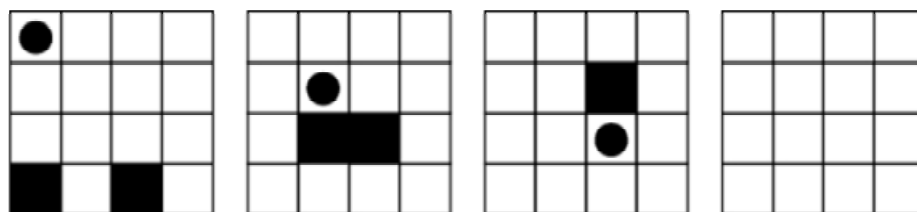
¿Cuál es la figura que falta?

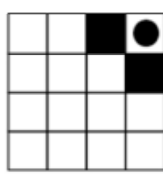
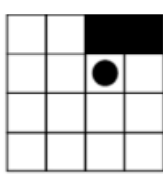
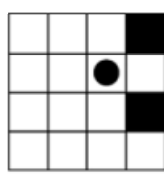
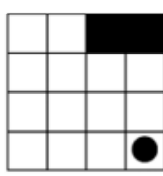
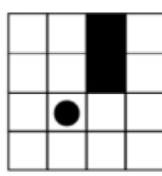


- A.  B.  C.  D.  E. 

23.

¿Cuál es la figura que falta?

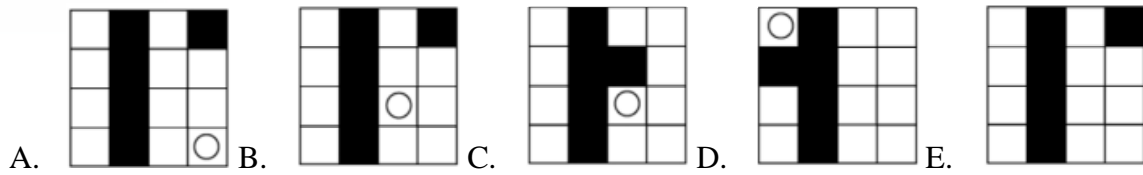
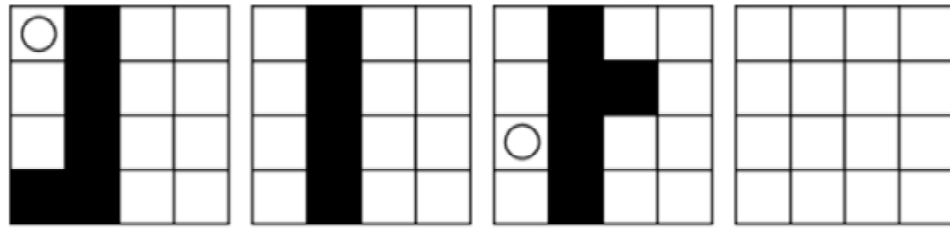


- A.  B.  C.  D.  E. 

www.riolearning.com

24.


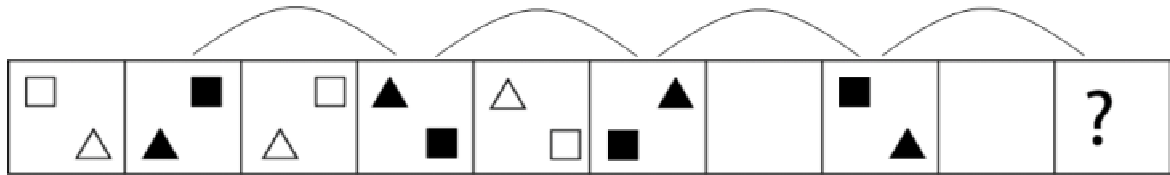
¿Cuál es la figura que falta?



www.riolearning.com

25.

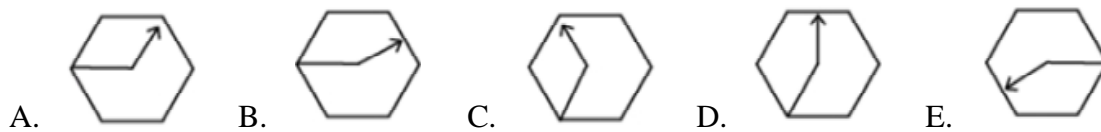
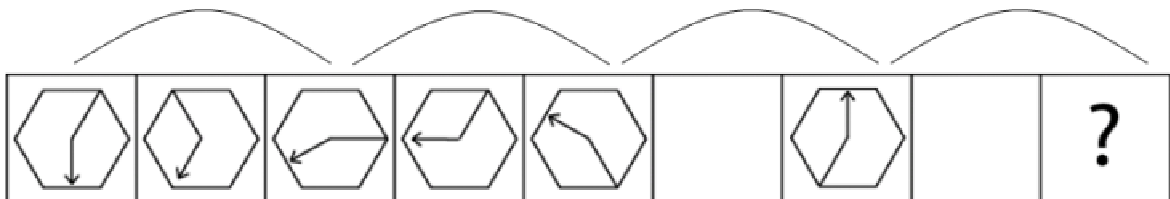
¿Cuál es la figura que falta?



www.riolearning.com

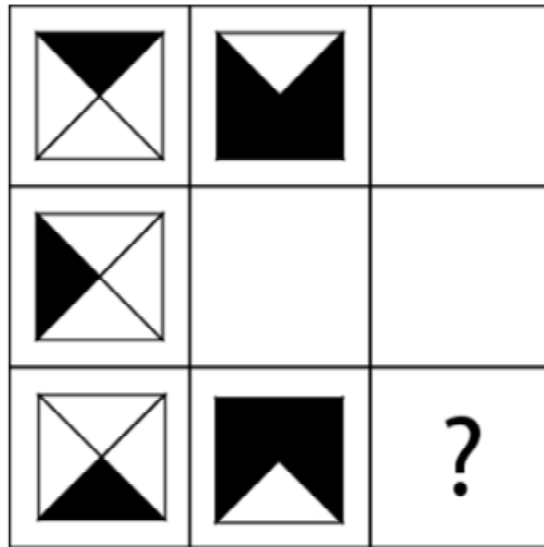
26.

¿Cuál es la figura que falta?



27.

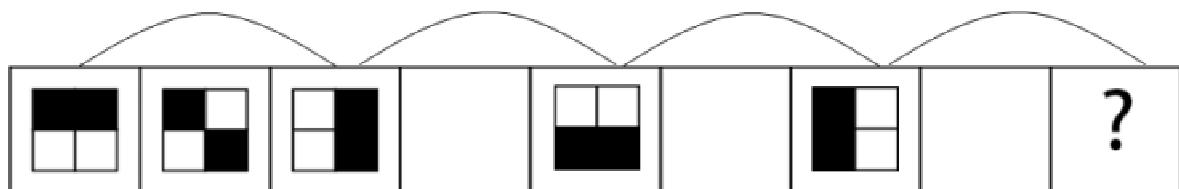
¿Cuál es la figura que falta?








- A.  B.  C.  D.  E. 

28.

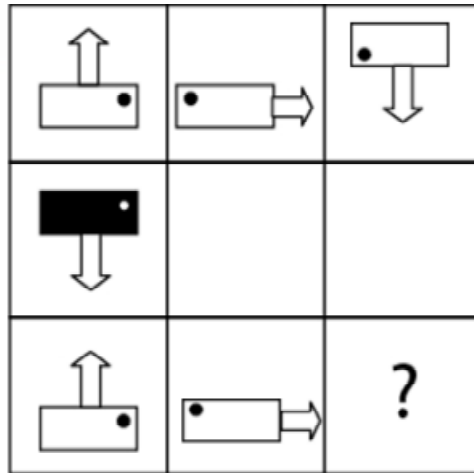
¿Cuál es la figura que falta?

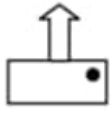
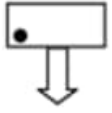
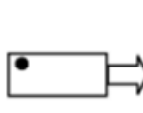
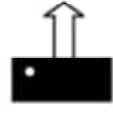
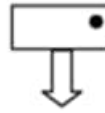


- A.  B.  C.  D.  E. 

29.

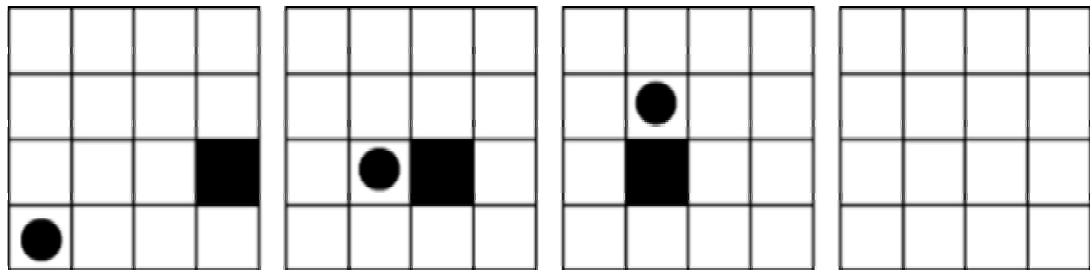
¿Cuál es la figura que falta?

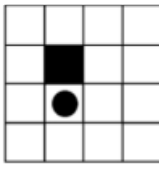
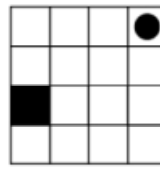
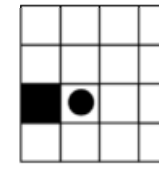
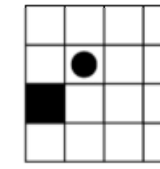
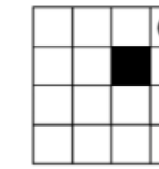


- A.  B.  C.  D.  E. 

30.

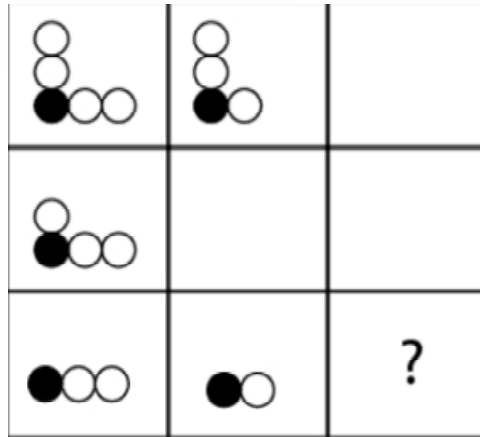
¿Cuál es la figura que falta?



- A.  B.  C.  D.  E. 

31.

¿Cuál es la figura que falta?



A.



B.



C.



D.

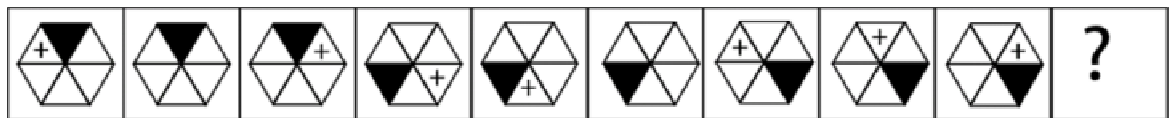


E.



32.

¿Cuál es la figura que falta?



A.



B.



C.



D.



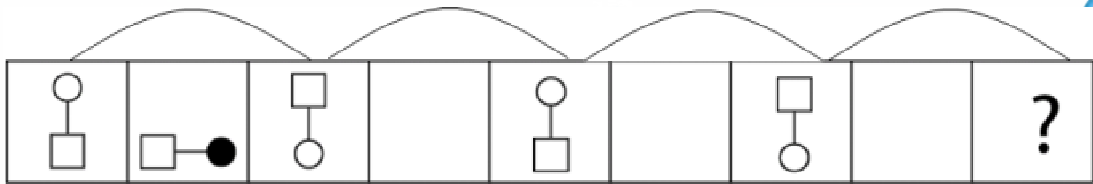
E.








www.riolearning.com

33.

¿Cuál es la figura que falta?



- A.  B.  C.  D.  E. 

www.riolearning.com

34.

¿Cuál es la figura que falta?

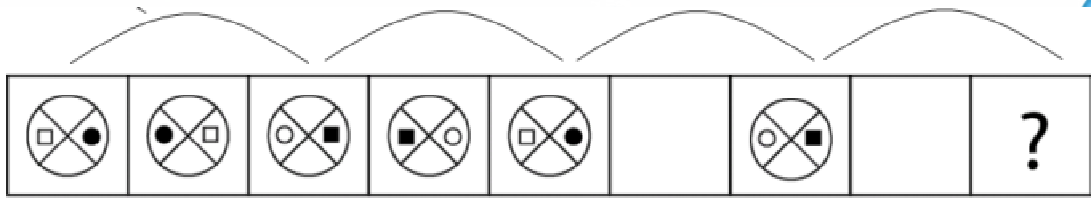


- A.  B.  C.  D.  E. 

www.riolearning.com

35.

¿Cuál es la figura que falta?



A.



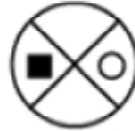
B.



C.



D.



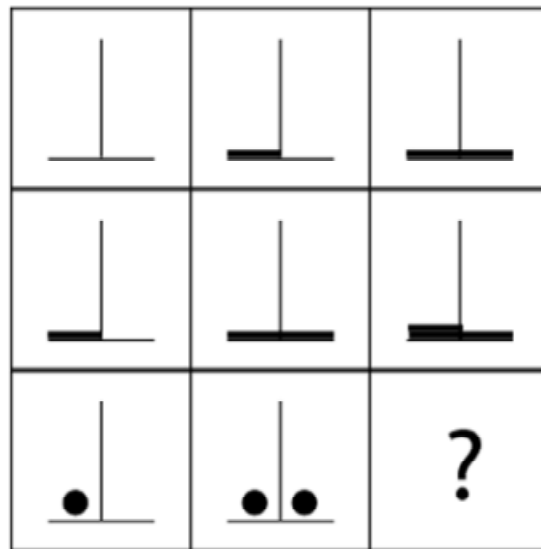
E.




36.

¿Cuál es la figura que falta?

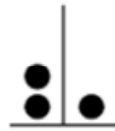
www.riolearning.com




A.



B.



C.



D.




E.



37.

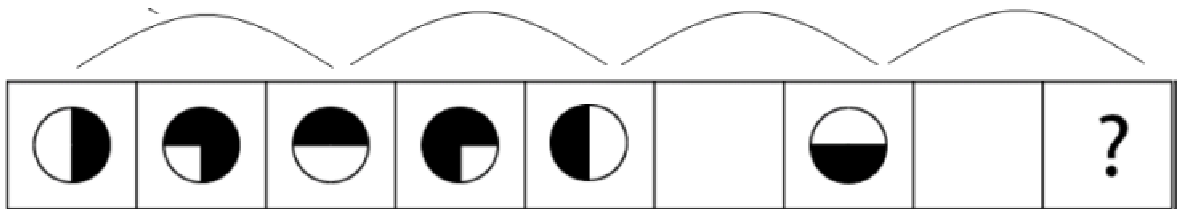
¿Cuál es la figura que falta?



- A.
- B.
- C.
- D.
- E.

38.

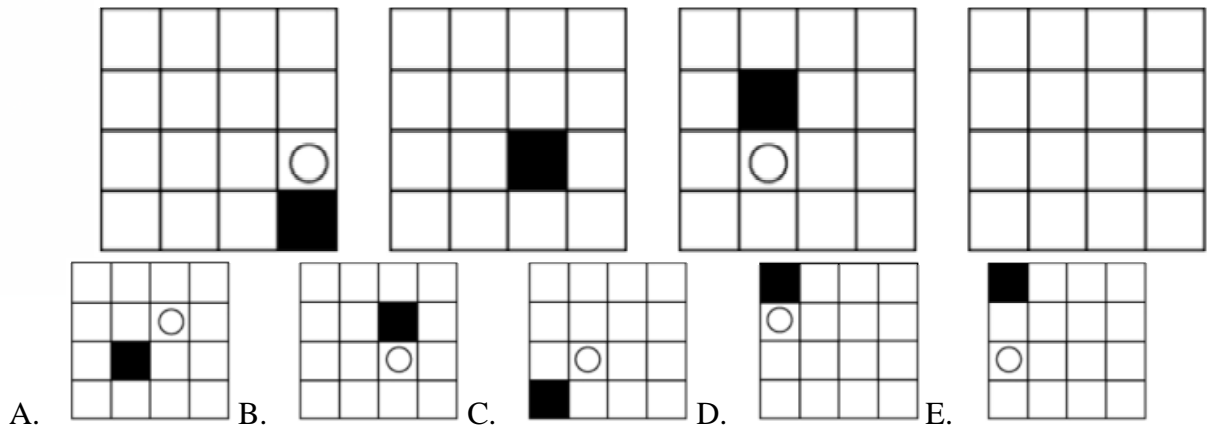
¿Cuál es la figura que falta?



- A.
- B.
- C.
- D.
- E.

39.

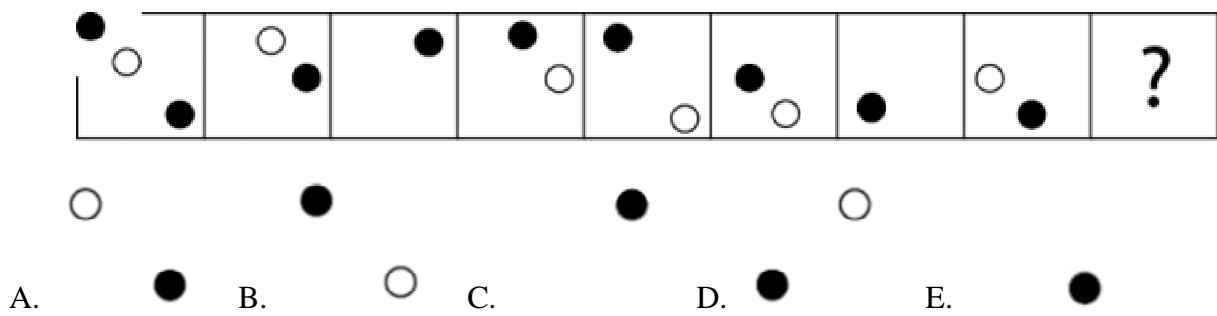
¿Cuál es la figura que falta?



A. B. C. D. E.

40.

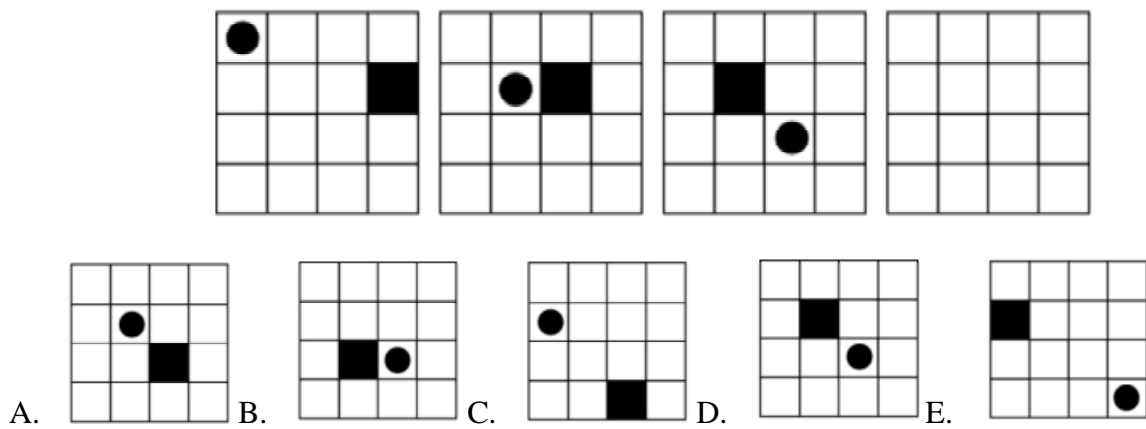
¿Cuál es la figura que falta?



A. B. C. D. E.

41.

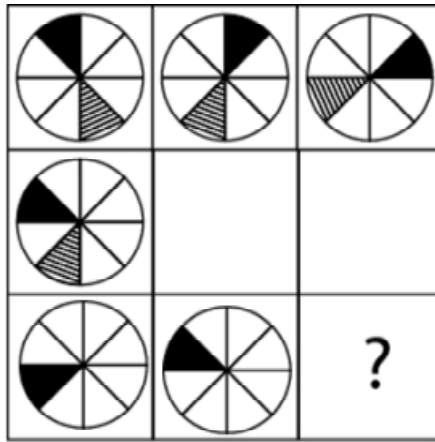
¿Cuál es la figura que falta?



A. B. C. D. E.

42.

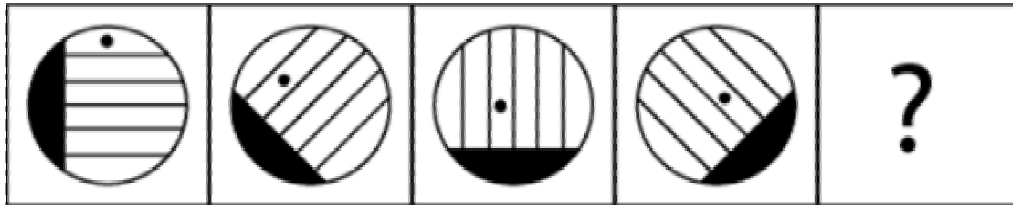
¿Cuál es la figura que falta?



- A.
- B.
- C.
- D.
- E.

43.

¿Cuál es la figura que falta?

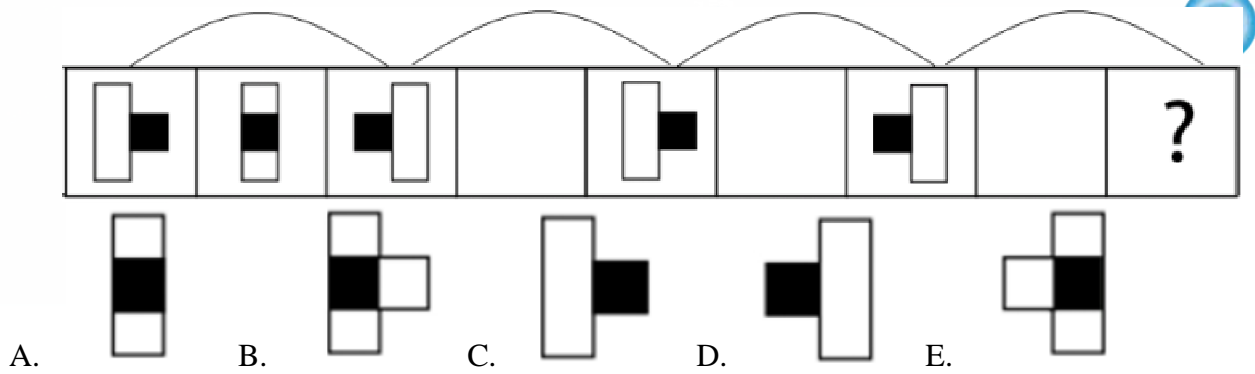







- A.
- B.
- C.
- D.
- E.

www.riolearning.com

44.

¿Cuál es la figura que falta?



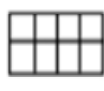






A.  B.  C.  D.  E. 

www.riolearning.com

45.

¿Cuál es la figura que falta?

			
			?

A.



B.



C.



D.

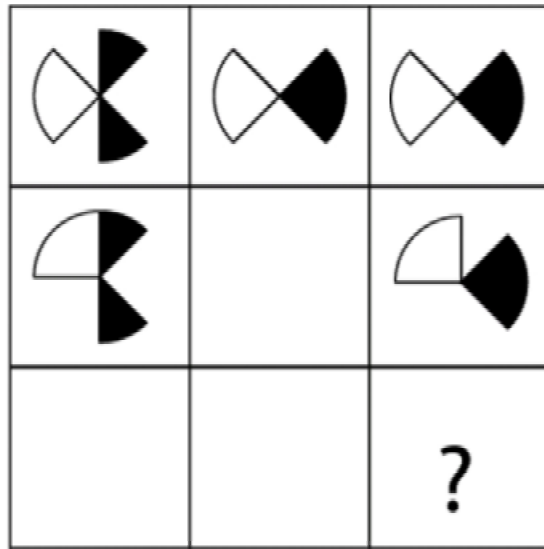







E.



46.

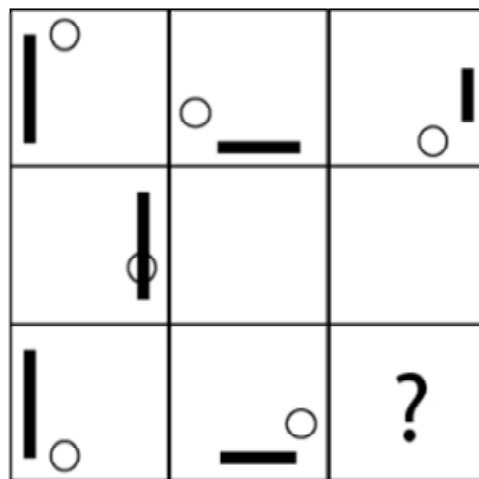
¿Cuál es la figura que falta?





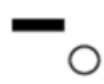


- A.  B.  C.  D.  E. 

47.


¿Cuál es la figura que falta?



- A.  B.  C.  D.  E. 

48.

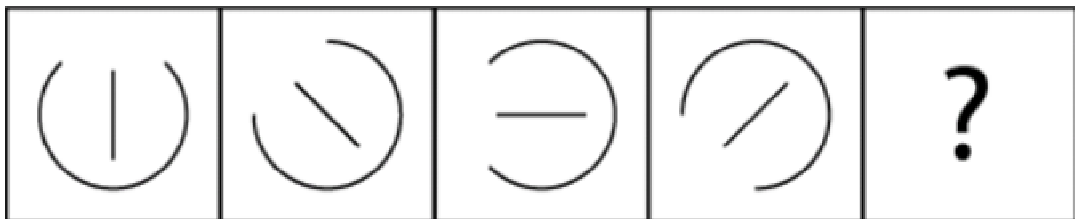
¿Cuál es la figura que falta?








- A.  B.  C.  D.  E. 

49.

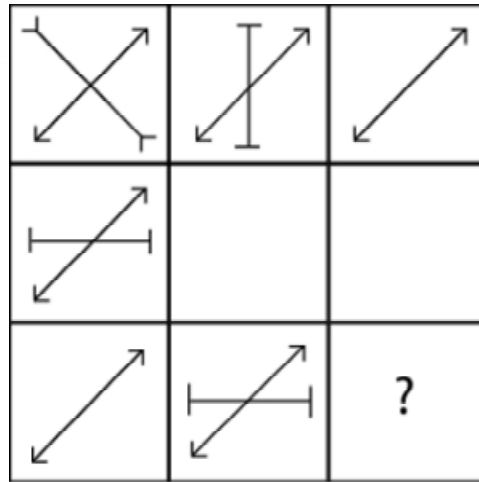
¿Cuál es la figura que falta?



- A.  B.  C.  D.  E. 

50.

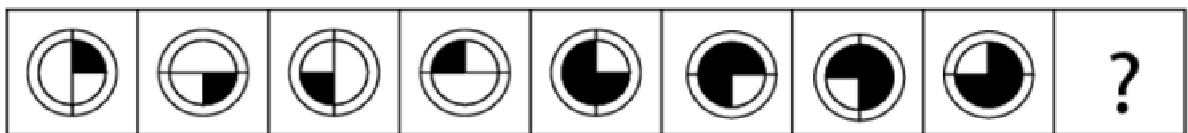
¿Cuál es la figura que falta?



- A.
- B.
- C.
- D.
- E.

51.

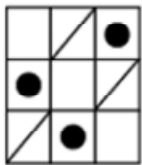
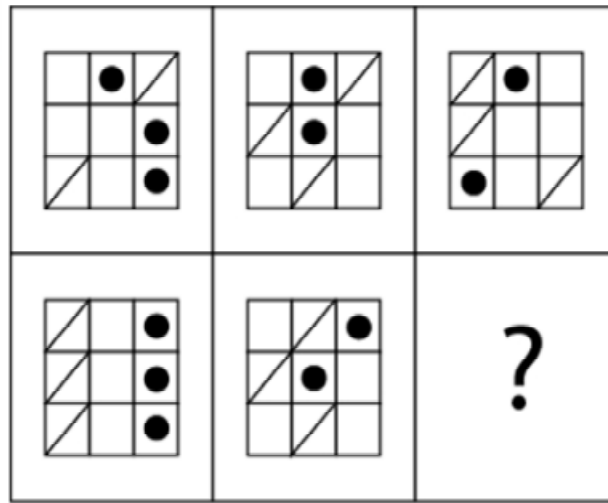
¿Cuál es la figura que falta?



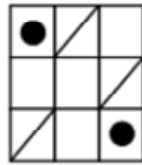
- A.
- B.
- C.
- D.
- E.

52.

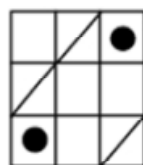
¿Cuál es la figura que falta?



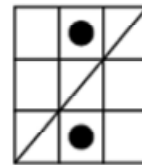
A.



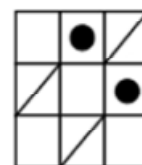
B.



C.



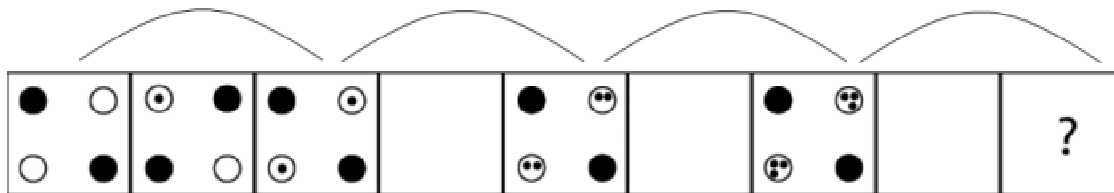
D.



E.

53.

¿Cuál es la figura que falta?



A.



B.



C.



D.

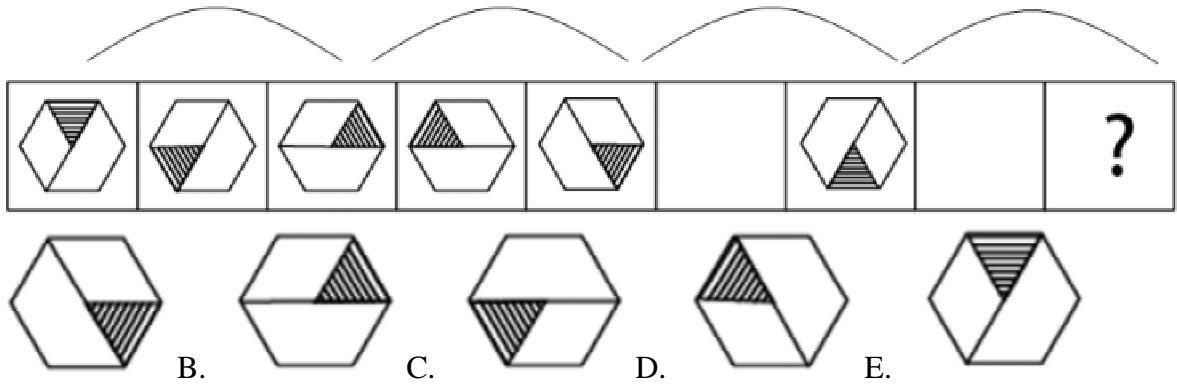


E.

www.riolearning.com

54.

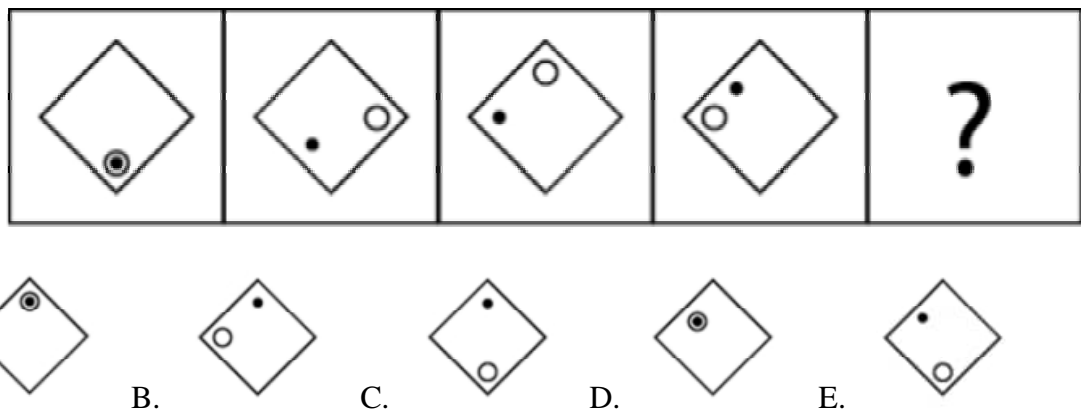
¿Cuál es la figura que falta?



www.riolearning.com

55.

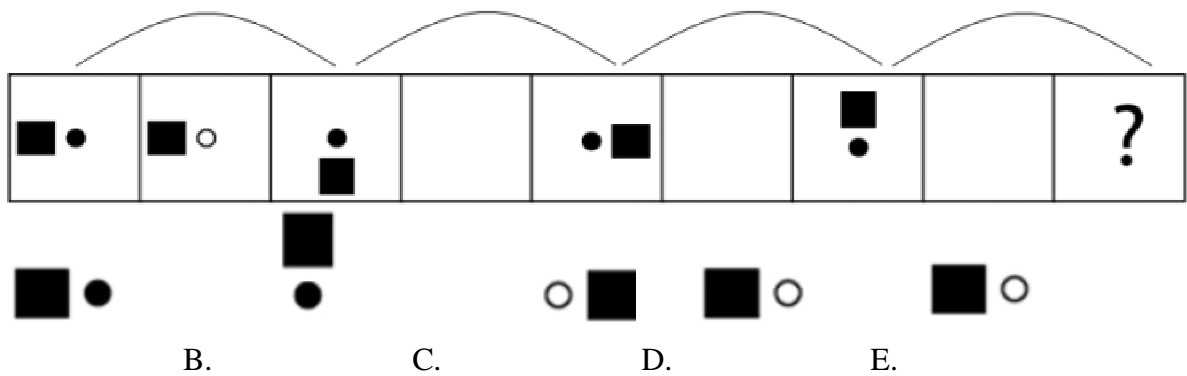
¿Cuál es la figura que falta?



www.riolearning.com


56.

¿Cuál es la figura que falta?



57.

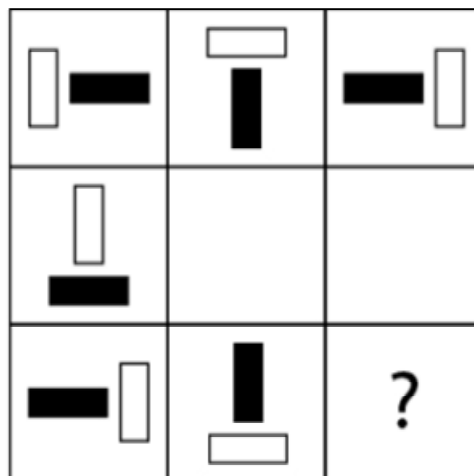
¿Cuál es la figura que falta?



- A.
- B.
- C.
- D.
- E.

58.

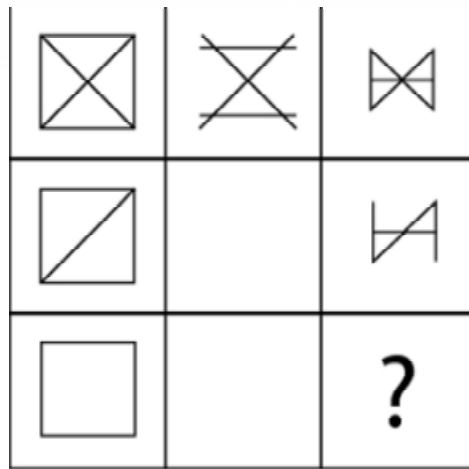
¿Cuál es la figura que falta?



- A.
- B.
- C.
- D.
- E.

59.

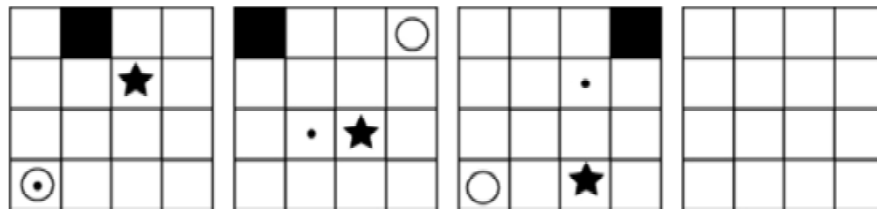
¿Cuál es la figura que falta?

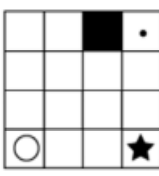
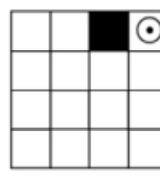
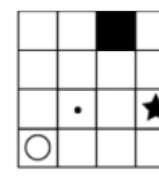
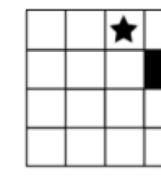
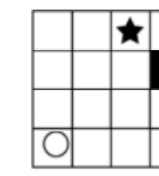


- A.  B.  C.  D.  E. 

60.

¿Cuál es la figura que falta?

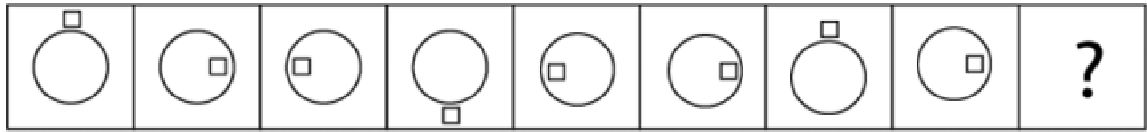


- A.  B.  C.  D.  E. 

www.riolearning.com

61.

¿Cuál es la figura que falta?

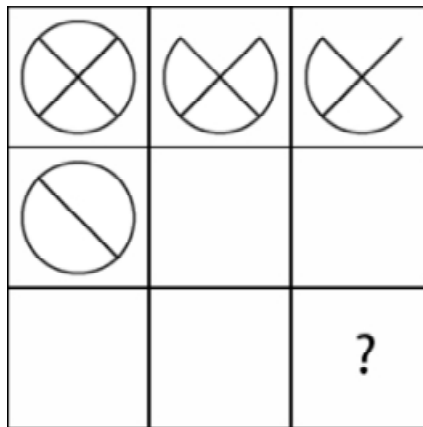







- A.  B.  C.  D.  E. 

www.riolearning.com

62.

¿Cuál es la figura que falta?






- A.  B.  C.  D.  E. 

www.riolearning.com

63.

¿Cuál es la figura que falta?


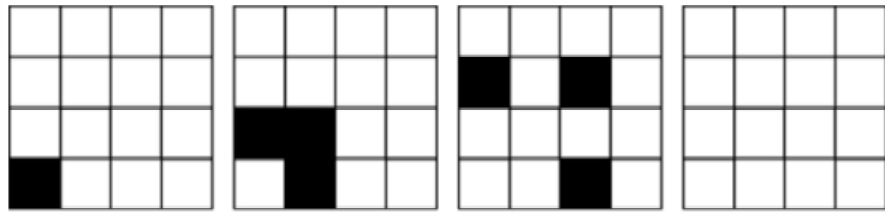


- A.  B.  C.  D.  E. 

www.riolearning.com

64.

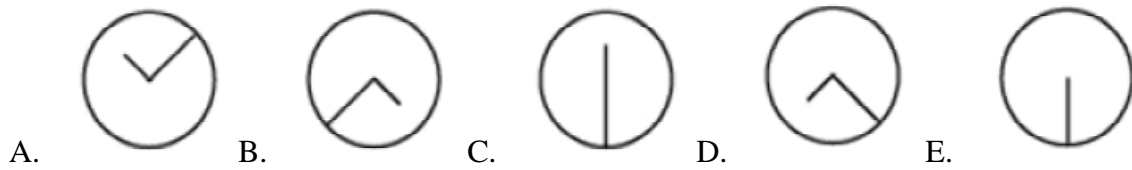
¿Cuál es la figura que falta?



www.riolearning.com

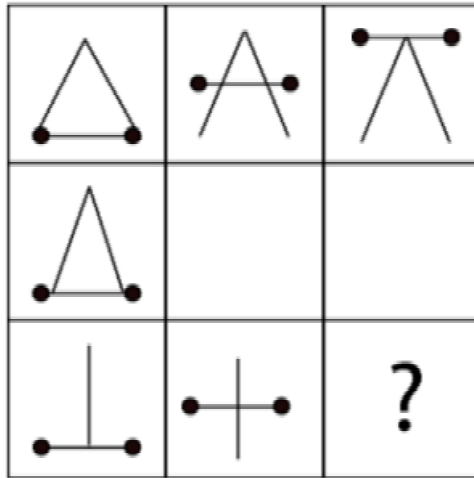
65.






¿Cuál es la figura que falta?



66.

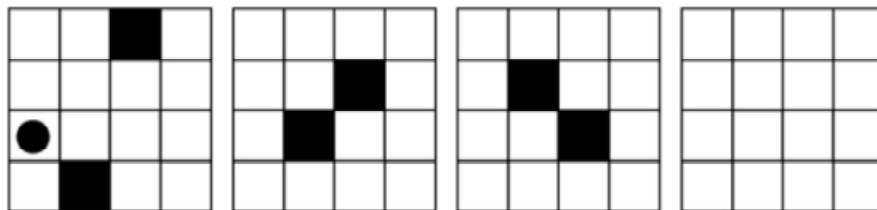
¿Cuál es la figura que falta?




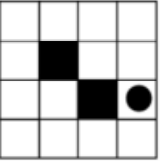
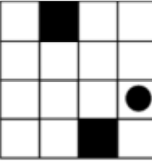


- A.  B.  C.  D.  E. 

67.

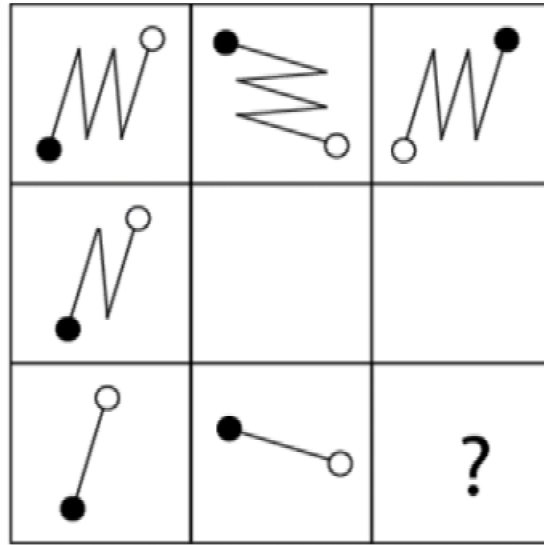
¿Cuál es la figura que falta?



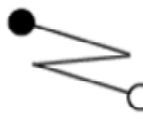




- A.  B.  C.  D.  E. 

68.

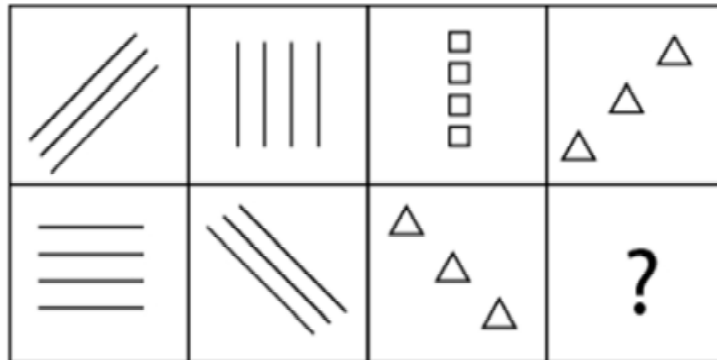
¿Cuál es la figura que falta?



- A.  B.  C.  D.  E. 

69.

¿Cuál es la figura que falta?



A.



C.



E.



B.




D.



70.

¿Cuál es la figura que falta?



A.



B.



C.



D.



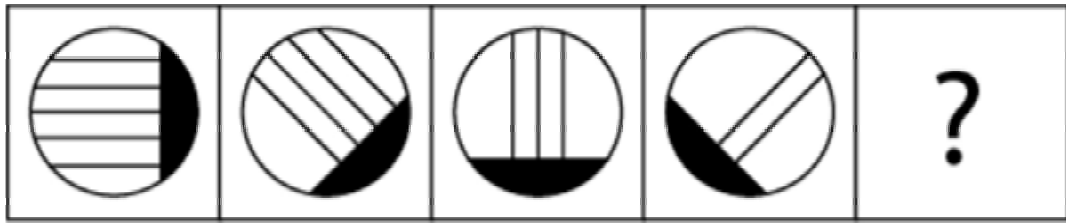
E.



www.riolearning.com

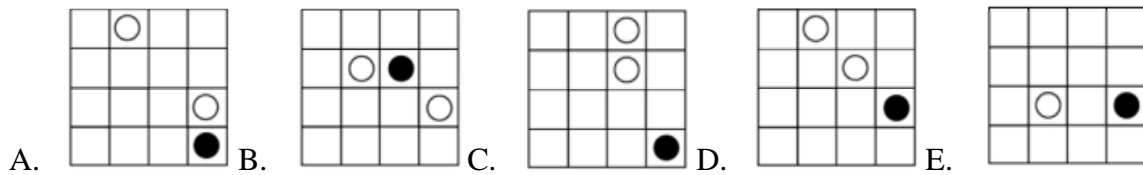
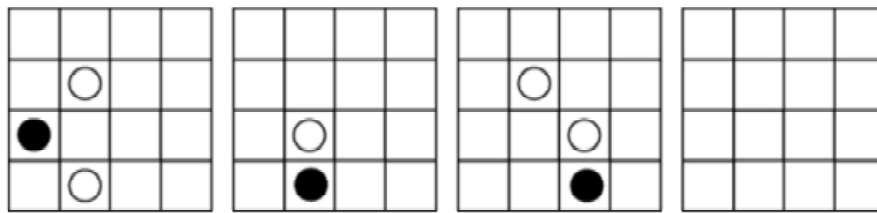
71.

¿Cuál es la figura que falta?



72.

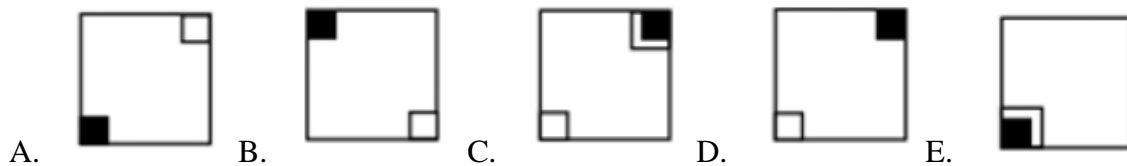
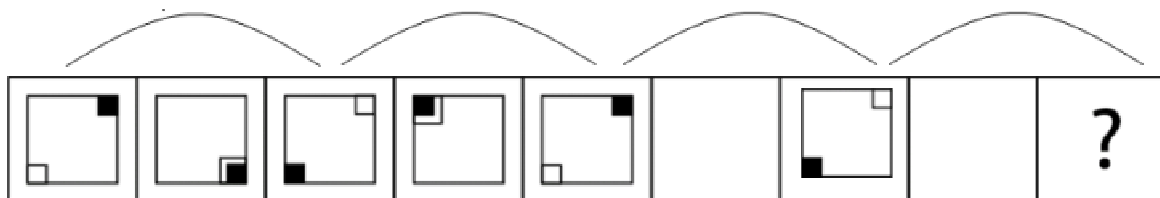
¿Cuál es la figura que falta?



www.riolearning.com

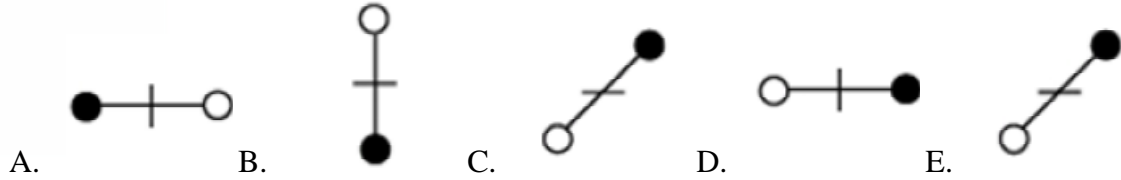
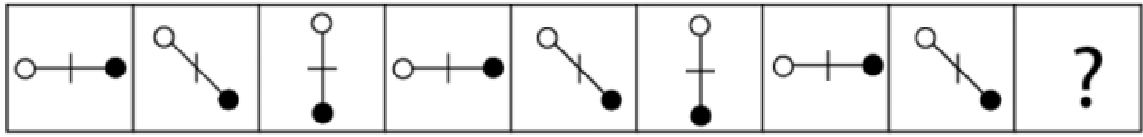
73.

¿Cuál es la figura que falta?



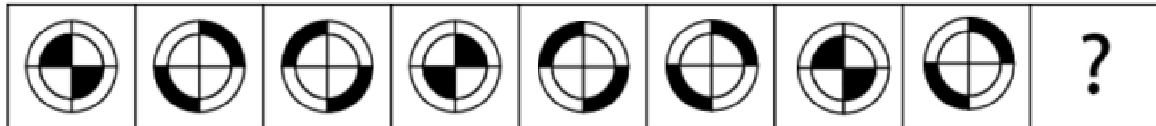
74.

¿Cuál es la figura que falta?



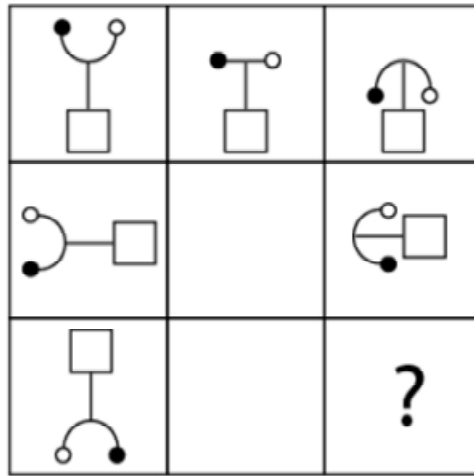
75.

¿Cuál es la figura que falta?



76.

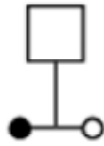
¿Cuál es la figura que falta?



A.



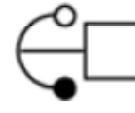
B.



C.



D.

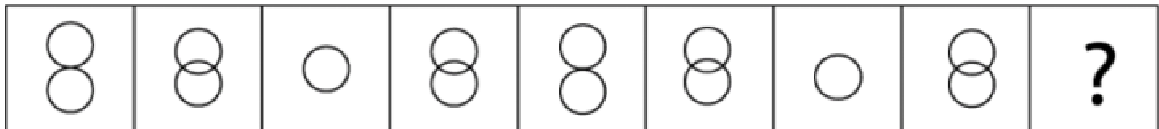


E.

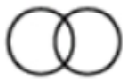


77.

¿Cuál es la figura que falta?



A.



B.



C.



D.



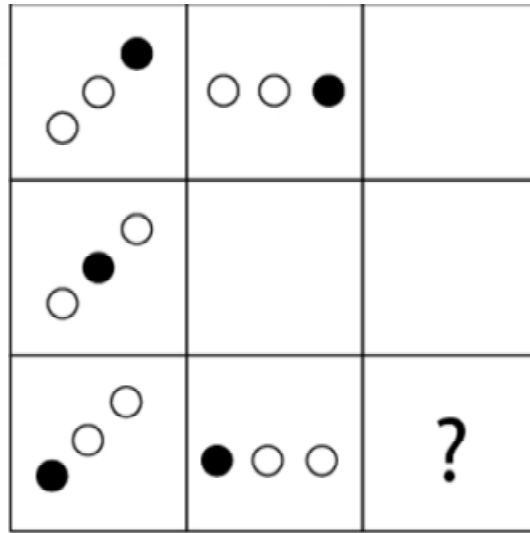
E.



www.riolearning.com

78.

¿Cuál es la figura que falta?

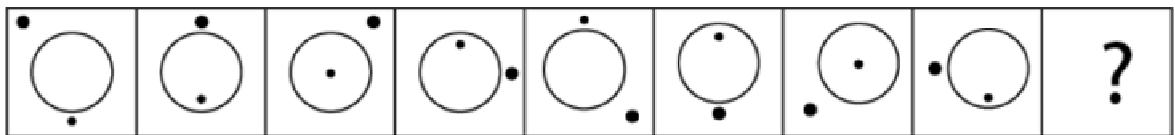


- A. B. C. D. E.

www.riolearning.com

79.

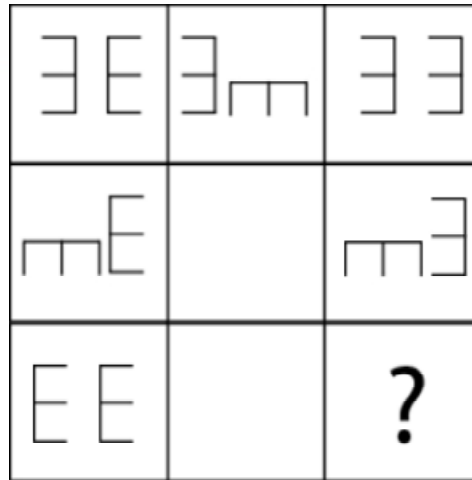
¿Cuál es la figura que falta?



- A. B. C. D. E.

80.

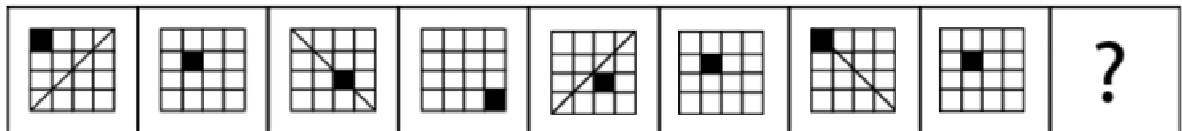
¿Cuál es la figura que falta?

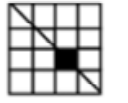

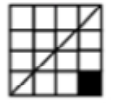
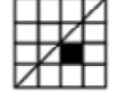
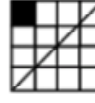


- A.  B.  C.  D.  E. 

81.


¿Cuál es la figura que falta?



- A.  B.  C.  D.  E. 

82.

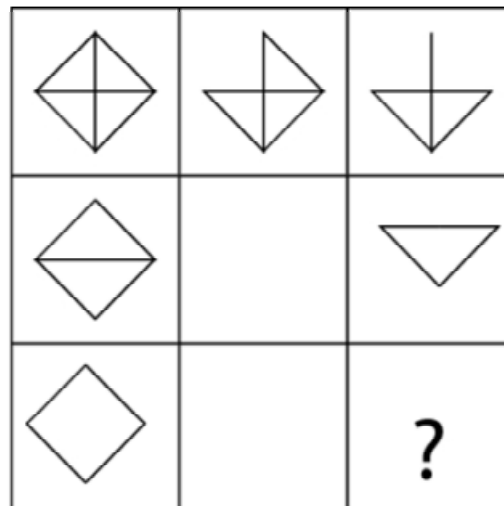
¿Cuál es la figura que falta?


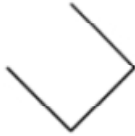





- A.  B.  C.  D.  E. 

83.

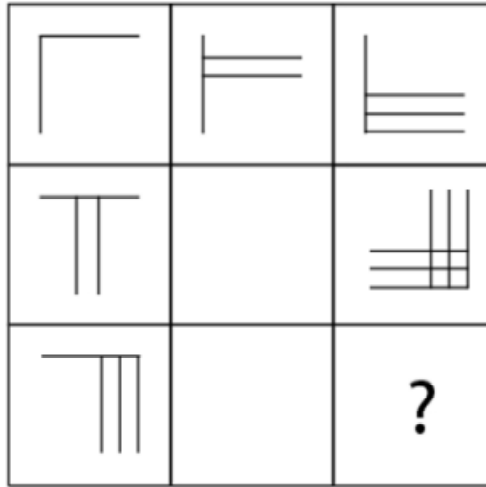
¿Cuál es la figura que falta?



- A.  B.  C.  D.  E. 

84.

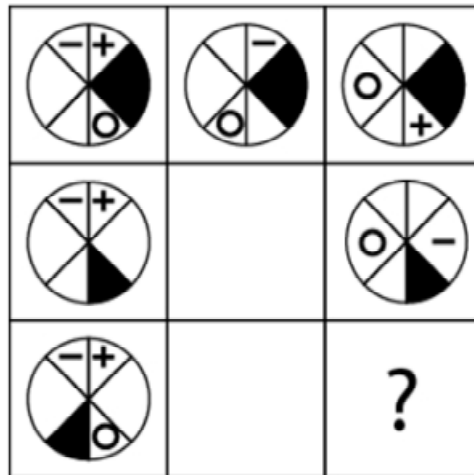
¿Cuál es la figura que falta?



- A. B. C. D. E.

85.

¿Cuál es la figura que falta?

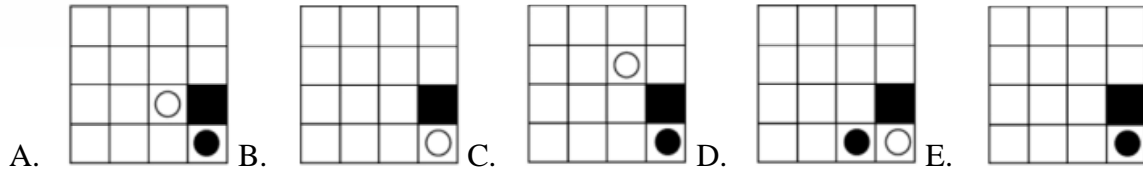
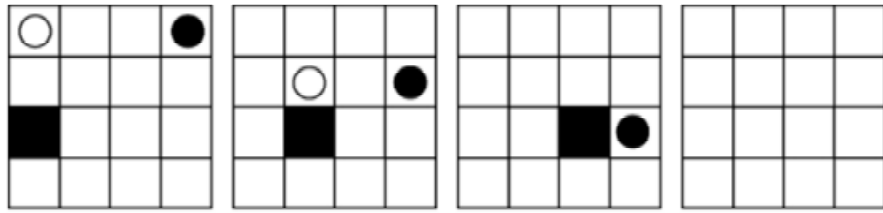


- A. B. C. D. E.

www.riolearning.com

86.

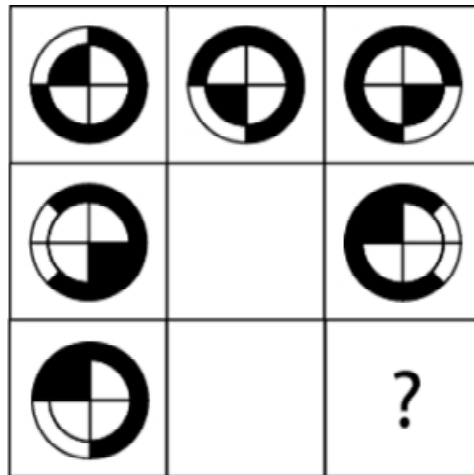
¿Cuál es la figura que falta?



www.riolearning.com

87.

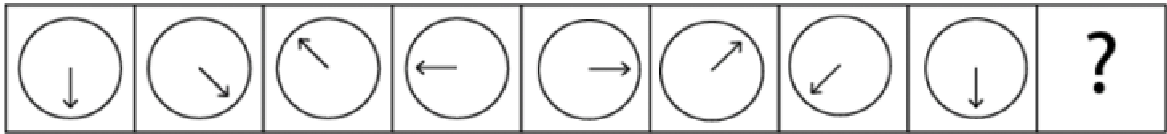
¿Cuál es la figura que falta?








www.riolearning.com

88.

¿Cuál es la figura que falta?

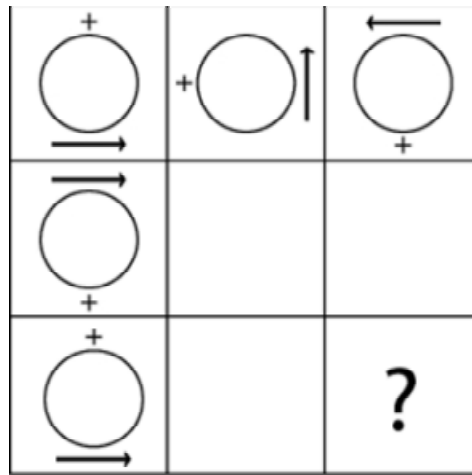


- A.  B.  C.  D.  E. 

www.riolearning.com

89.

¿Cuál es la figura que falta?

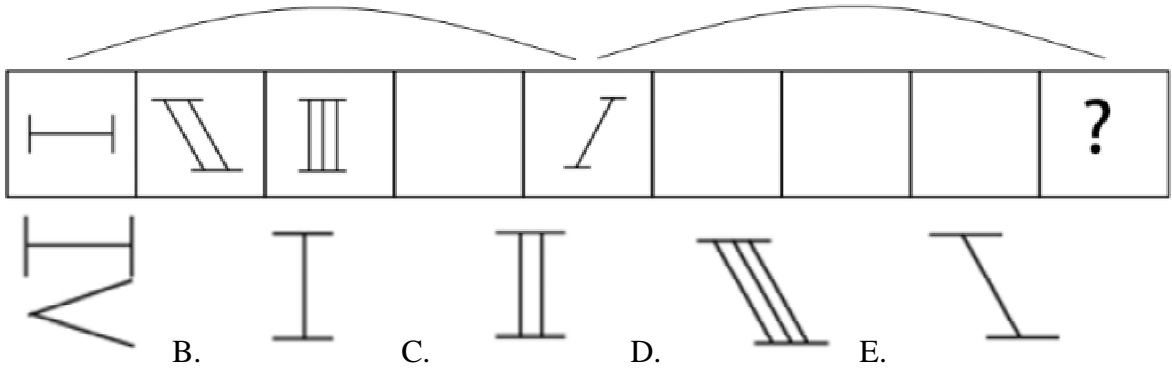


- A.  B.  C.  D.  E. 

www.riolearning.com

90.

¿Cuál es la figura que falta?

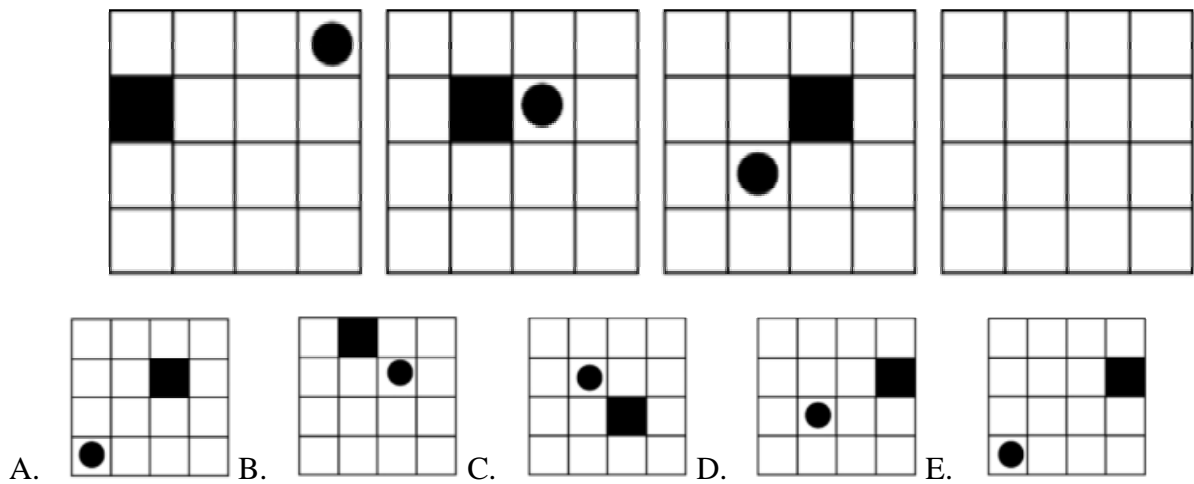


A. B. C. D. E.

www.riolearning.com

91.

¿Cuál es la figura que falta?

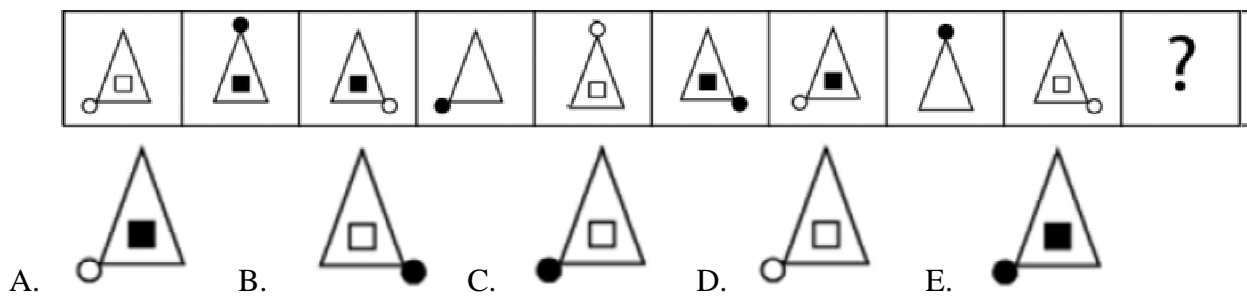


A. B. C. D. E.

www.riolearning.com

92.

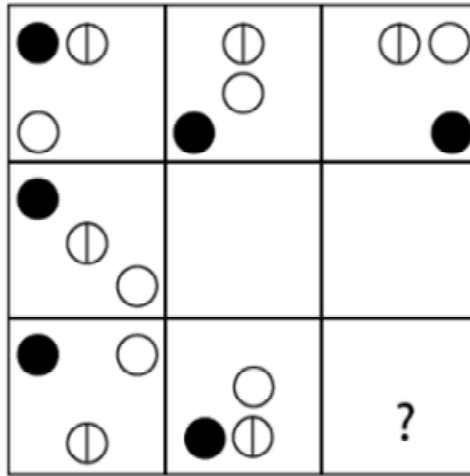
¿Cuál es la figura que falta?



A. B. C. D. E.

93.

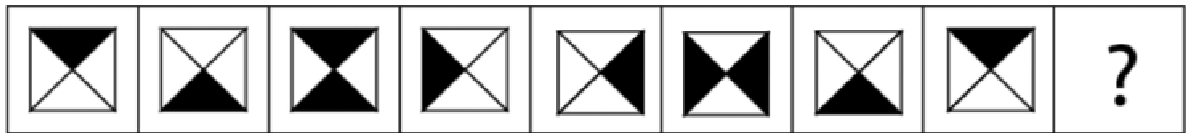
¿Cuál es la figura que falta?



- A.
- B.
- C.
- D.
- E.

94.

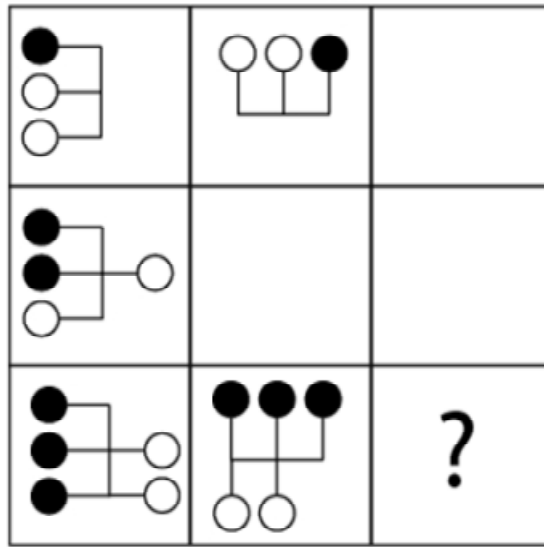
¿Cuál es la figura que falta?

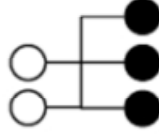
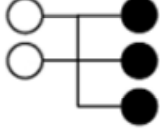
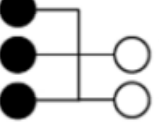
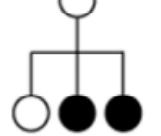
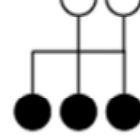


- A.
- B.
- C.
- D.
- E.

95.


¿Cuál es la figura que falta?







- A.  B.  C.  D.  E. 

96.

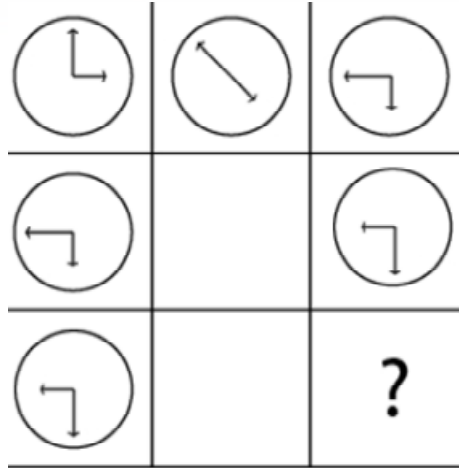
¿Cuál es la figura que falta?



- A.  B.  C.  D.  E. 

97.

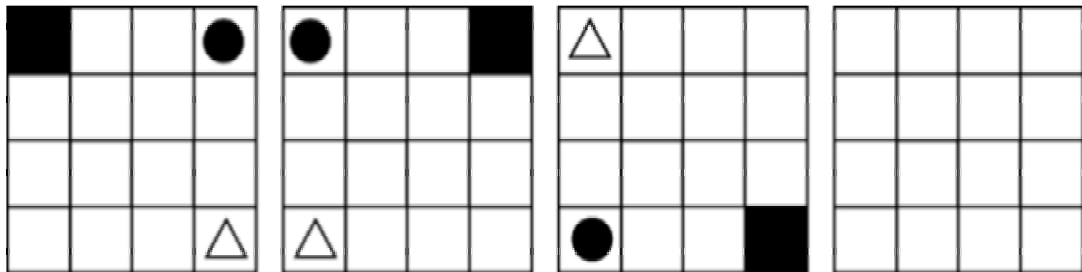
¿Cuál es la figura que falta?



- A.
- B.
- C.
- D.
- E.

98.

¿Cuál es la figura que falta?

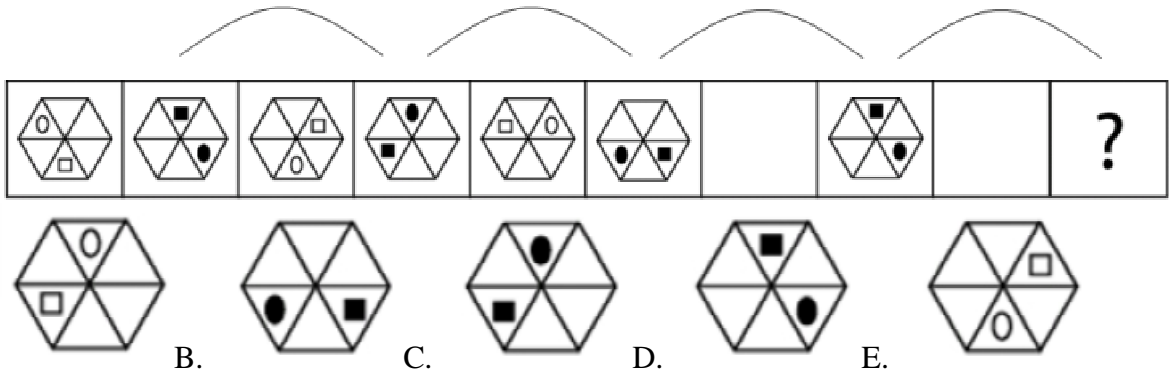


- A.
- B.
- C.
- D.
- E.

www.riolearning.com

99.

¿Cuál es la figura que falta?

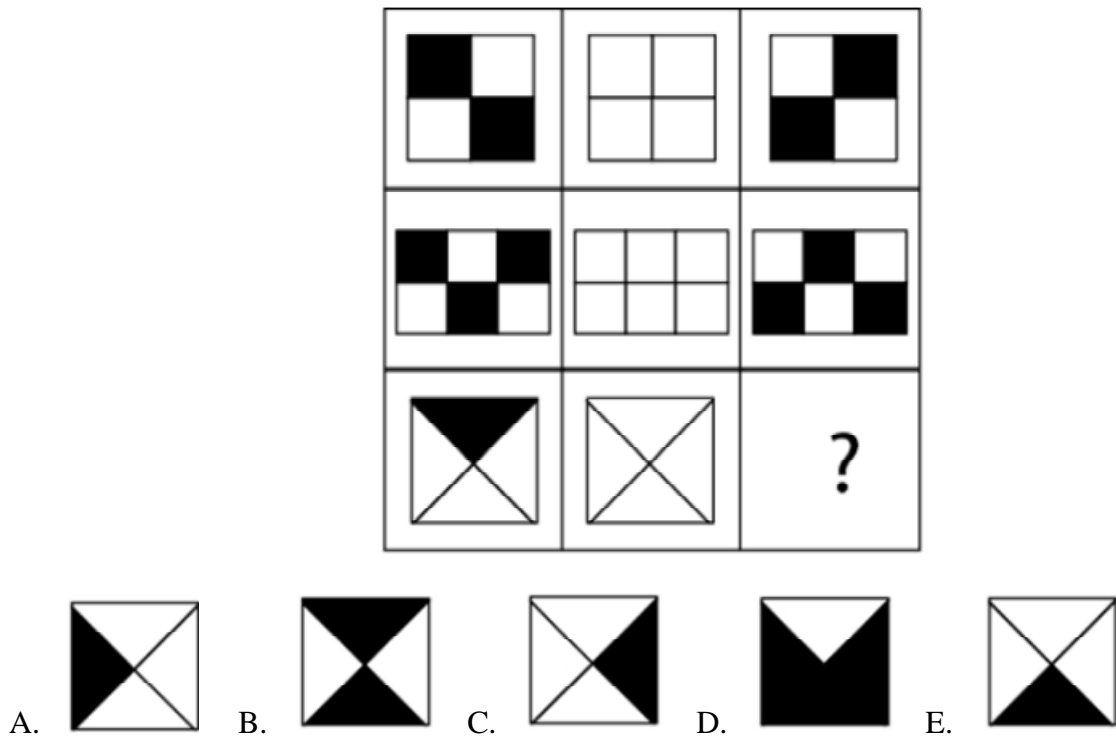


A. B. C. D. E.

www.riolearning.com

100.

¿Cuál es la figura que falta?



A. B. C. D. E.

ACCESO A LA EDUCACIÓN SUPERIOR TAE100_001

Answer Section

MULTIPLE CHOICE



1. ANS: D PTS: 1
2. ANS: E PTS: 1
3. ANS: E PTS: 1
4. ANS: A PTS: 1
5. ANS: A PTS: 1
6. ANS: C PTS: 1
7. ANS: E PTS: 1
8. ANS: D PTS: 1
9. ANS: C PTS: 1
10. ANS: E PTS: 1
11. ANS: C PTS: 1
12. ANS: C PTS: 1
13. ANS: D PTS: 1
14. ANS: C PTS: 1
15. ANS: E PTS: 1
16. ANS: D PTS: 1
17. ANS: A PTS: 1
18. ANS: A PTS: 1
19. ANS: A PTS: 1
20. ANS: D PTS: 1
21. ANS: D PTS: 1
22. ANS: D PTS: 1
23. ANS: D PTS: 1
24. ANS: E PTS: 1
25. ANS: A PTS: 1
26. ANS: B PTS: 1
27. ANS: D PTS: 1
28. ANS: C PTS: 1
29. ANS: B PTS: 1
30. ANS: B PTS: 1
31. ANS: A PTS: 1
32. ANS: E PTS: 1
33. ANS: C PTS: 1
34. ANS: B PTS: 1
35. ANS: B PTS: 1
36. ANS: B PTS: 1
37. ANS: D PTS: 1
38. ANS: D PTS: 1
39. ANS: E PTS: 1
40. ANS: A PTS: 1

41.	ANS: E	PTS: 1
42.	ANS: B	PTS: 1
43.	ANS: D	PTS: 1
44.	ANS: C	PTS: 1
45.	ANS: E	PTS: 1
46.	ANS: C	PTS: 1
47.	ANS: C	PTS: 1
48.	ANS: C	PTS: 1
49.	ANS: C	PTS: 1
50.	ANS: A	PTS: 1
51.	ANS: C	PTS: 1
52.	ANS: C	PTS: 1
53.	ANS: B	PTS: 1
54.	ANS: C	PTS: 1
55.	ANS: C	PTS: 1
56.	ANS: A	PTS: 1
57.	ANS: D	PTS: 1
58.	ANS: A	PTS: 1
59.	ANS: A	PTS: 1
60.	ANS: B	PTS: 1
61.	ANS: B	PTS: 1
62.	ANS: E	PTS: 1
63.	ANS: B	PTS: 1
64.	ANS: D	PTS: 1
65.	ANS: D	PTS: 1
66.	ANS: E	PTS: 1
67.	ANS: E	PTS: 1
68.	ANS: D	PTS: 1
69.	ANS: D	PTS: 1
70.	ANS: B	PTS: 1
71.	ANS: A	PTS: 1
72.	ANS: D	PTS: 1
73.	ANS: D	PTS: 1
74.	ANS: B	PTS: 1
75.	ANS: A	PTS: 1
76.	ANS: A	PTS: 1
77.	ANS: E	PTS: 1
78.	ANS: E	PTS: 1
79.	ANS: E	PTS: 1
80.	ANS: D	PTS: 1
81.	ANS: D	PTS: 1
82.	ANS: E	PTS: 1
83.	ANS: E	PTS: 1
84.	ANS: B	PTS: 1
85.	ANS: B	PTS: 1

86.	ANS: E	PTS: 1
87.	ANS: E	PTS: 1
88.	ANS: E	PTS: 1
89.	ANS: D	PTS: 1
90.	ANS: B	PTS: 1
91.	ANS: E	PTS: 1
92.	ANS: E	PTS: 1
93.	ANS: E	PTS: 1
94.	ANS: E	PTS: 1
95.	ANS: B	PTS: 1
96.	ANS: B	PTS: 1
97.	ANS: B	PTS: 1
98.	ANS: E	PTS: 1
99.	ANS: C	PTS: 1
100.	ANS: D	PTS: 1

Anexo

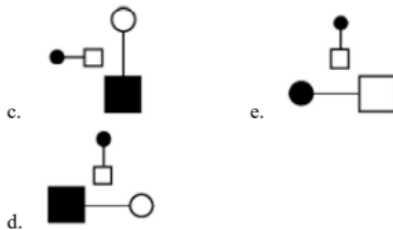
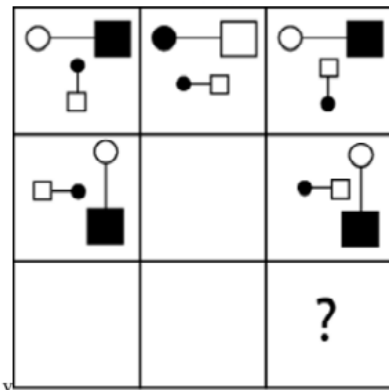
TAE20_001_001 ID:A

Modelo de Examen de Acceso a la Educación Superior

TAE20_001_001 ID: A

www.riolearning.com

¿qué falta?



En la parte superior derecha del documento se muestra un código que indica el tipo de examen, número de preguntas y el ID del TEST (se cuenta con cuatro A, B, C, D)

Esta información te permitirá buscar el solucionario.

El solucionario lo puedes encontrar en nuestras redes sociales o en la página www.multimevi.com en la sección DESCARGAS

Aula virtual

www.riolearning.com



Ejercicios Acceso a la Educación Superior tiene licencia [CC BY-NC 4.0](https://creativecommons.org/licenses/by-nc/4.0/) © 2 por EdFr@MeVi



Forma

Test Version

Grid for Test Version

Nombre: _____

Asignatura: _____

Fecha: _____

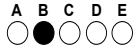
- A B C D

Cédula - Código

Grid for Cédula - Código (0-9)

- Utilice lápiz para marcar la respuesta.
Marque un círculo completo
Borre completamente el círculo para marcar una nueva respuesta

Ejemplo



Calificación

Empty box for Calificación

Main grid of 100 questions (1-100) with options A-E



ENLACE	DETALLE	QR
http://www.multimevi.com/	Página web MULTIMEVI, donde encontrarás noticias y recursos	
https://t.me/+Klr3YaM42_ZhZTIx	Grupo de apoyo en TELEGRAM	
https://chat.whatsapp.com/IQuCCcZjtLjIkLfgzXo68Y	<u>GRUPO DE WHATSAPP</u>	
https://whatsapp.com/channel/0029VaBB2zQHwXb5Vhn9Yw1W	Canal de noticias WhatsApp	
https://www.facebook.com/multimevi.ec/	Perfil de facebook	
https://www.facebook.com/groups/multimevi	Grupo FULL Rectivos	
https://www.tiktok.com/@multimevi	Canal de TIK TOK	
https://www.instagram.com/multimevi.ec/	Canal de Instagram	
https://twitter.com/multimevi	Red X	



Modelo V

Plataforma MOODLE

 www.riolearning.com

Página Web



www.multimevi.com

Redes Sociales



Procesos



ACCESO a la Educación Superior
SENESCYT

QUIERO SER MAESTRO
Ministerio de Educación