



Ejercicios



Razonamiento Abstracto

Preguntas modelo
examen de acceso a la educación superior

Modelo K



ACCESO a la Educación Superior
SENESCYT

QUIERO SER MAESTRO
Ministerio de Educación

ACCESO A LA EDUCACIÓN SUPERIOR TAE100_001

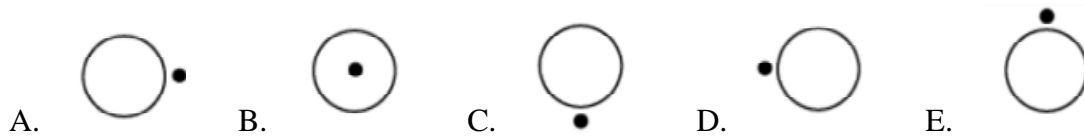
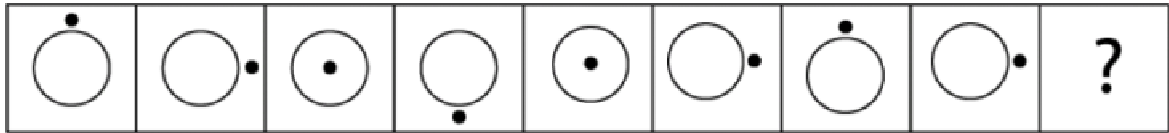
Opción Múltiple

Elige la opción que complete mejor el enunciado o que responda mejor a la pregunta.

www.riolearning.com

1.

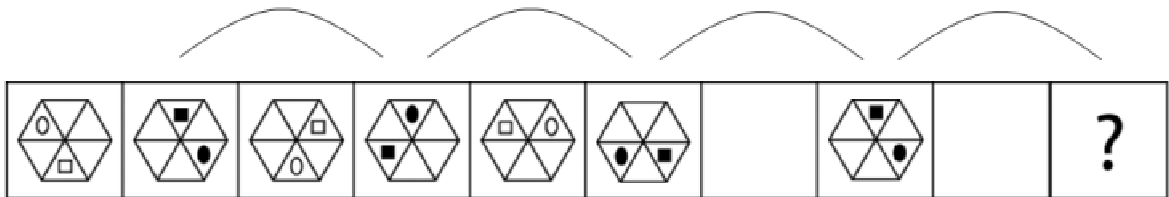
¿Cuál es la figura que falta?



www.riolearning.com

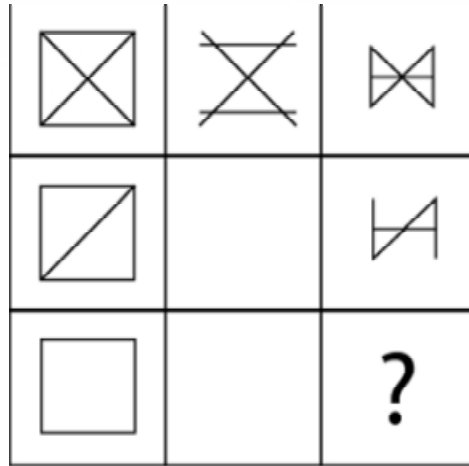
2.

¿Cuál es la figura que falta?



3.

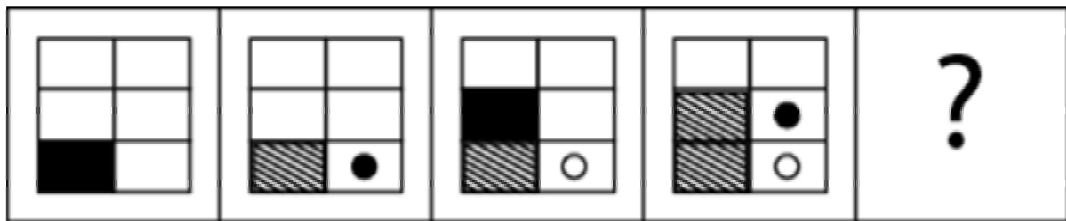
¿Cuál es la figura que falta?

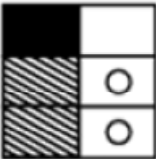
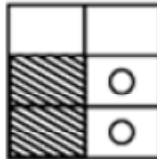
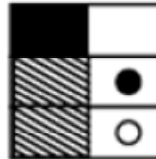
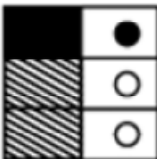
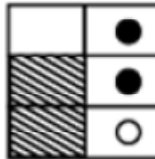


- A.  B.  C.  D.  E. 

4.

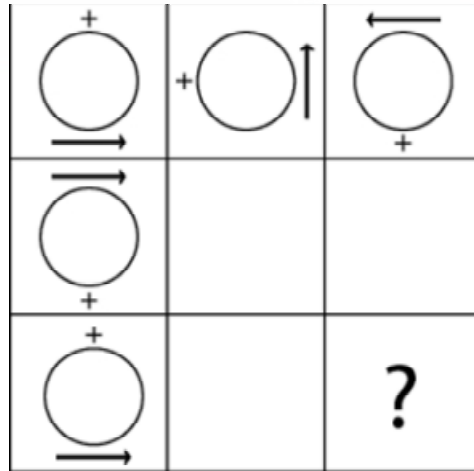
¿Cuál es la figura que falta?


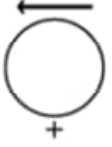
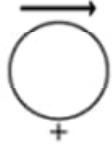




- A.  B.  C.  D.  E. 

5.


¿Cuál es la figura que falta?








- A.  B.  C.  D.  E. 

6.

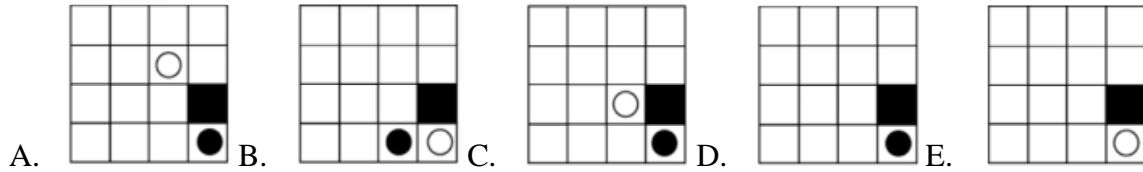
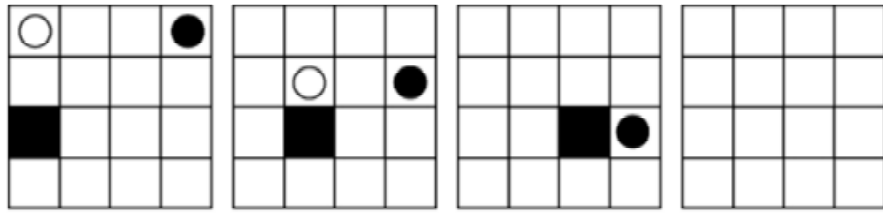
¿Cuál es la figura que falta?



- A.  B.  C.  D.  E. 


7.

¿Cuál es la figura que falta?



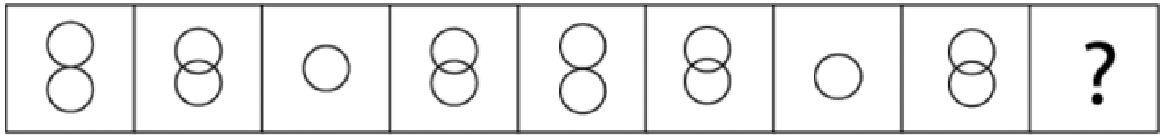
8.






¿Cuál es la figura que falta?



9.

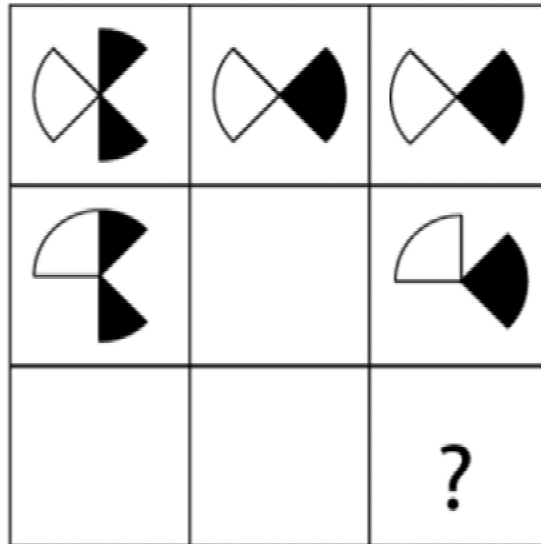
¿Cuál es la figura que falta?



- A.  B.  C.  D.  E. 

10.

¿Cuál es la figura que falta?

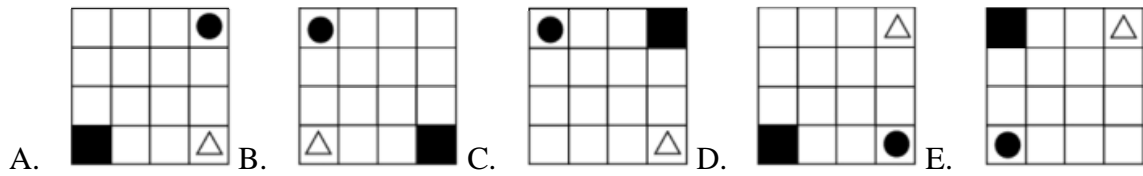
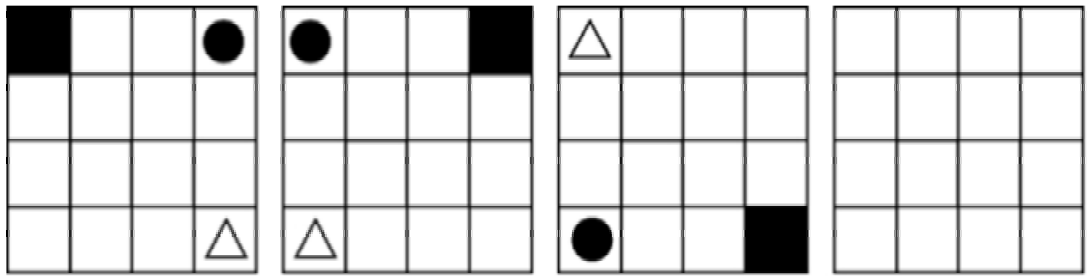


- A.  B.  C.  D.  E. 

www.riolearning.com

11.

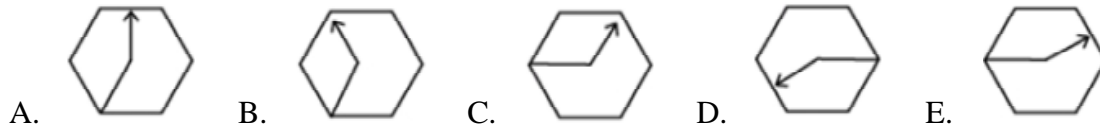
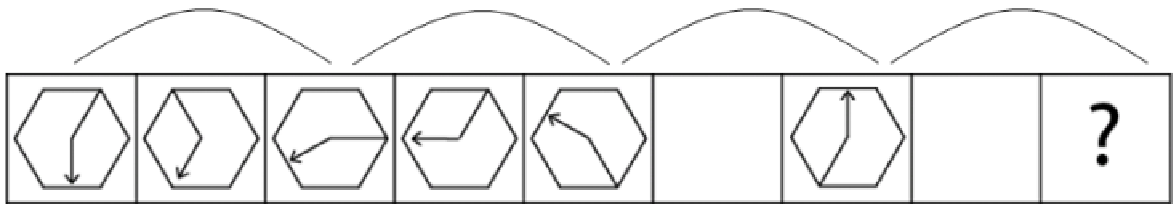
¿Cuál es la figura que falta?



www.riolearning.com

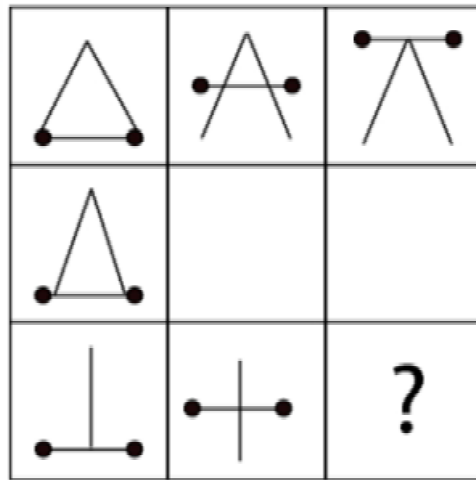
12.






¿Cuál es la figura que falta?



13.

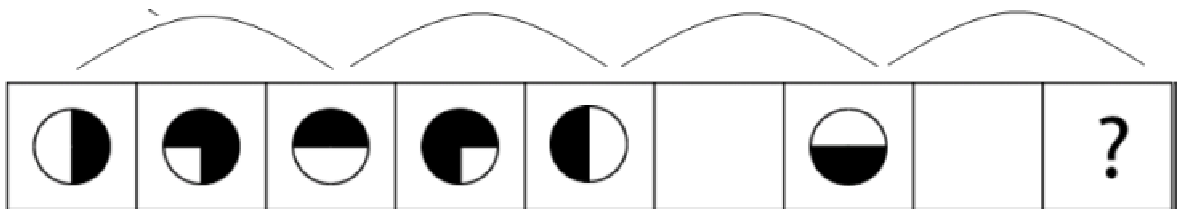
¿Cuál es la figura que falta?



- A.  B.  C.  D.  E. 

14.

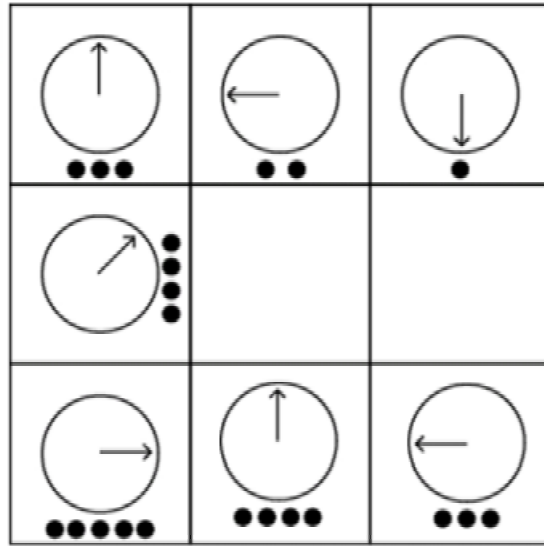
¿Cuál es la figura que falta?

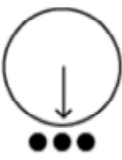


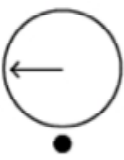



- A.  B.  C.  D.  E. 

15.

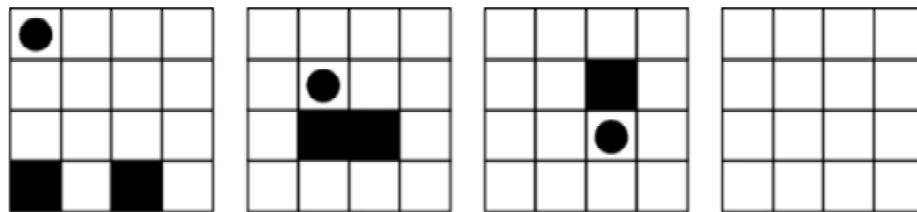
¿Cuál es la figura que falta?

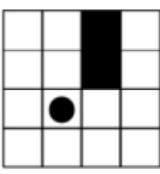

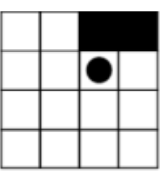
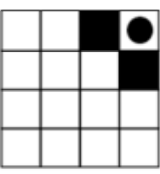



- A.  B.  C.  D.  E. 

16.

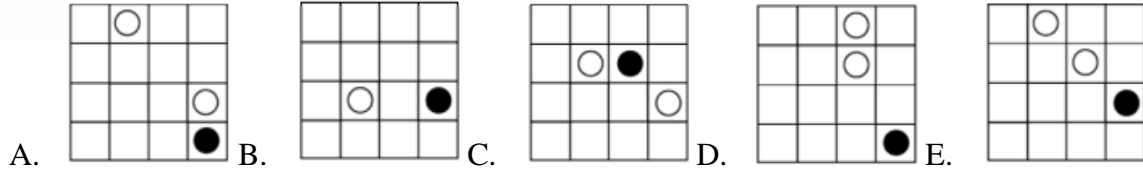
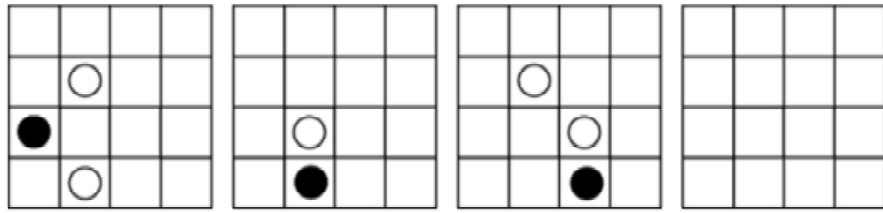
¿Cuál es la figura que falta?



- A.  B.  C.  D.  E. 

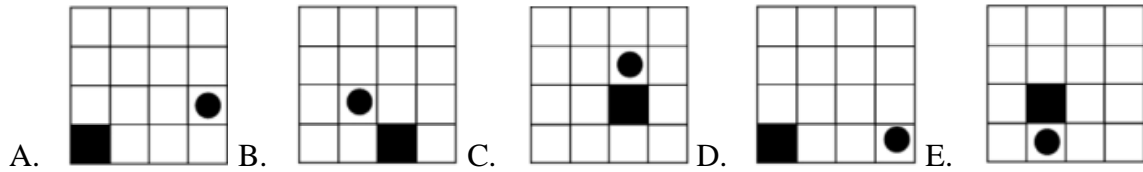
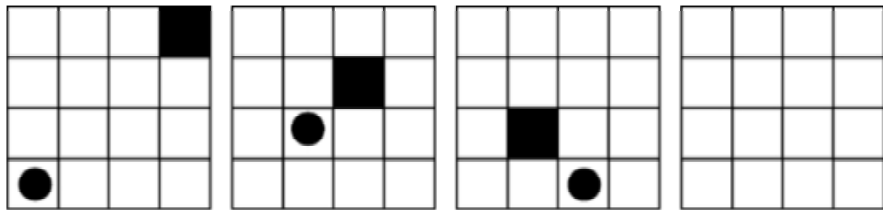
17.

¿Cuál es la figura que falta?



18.

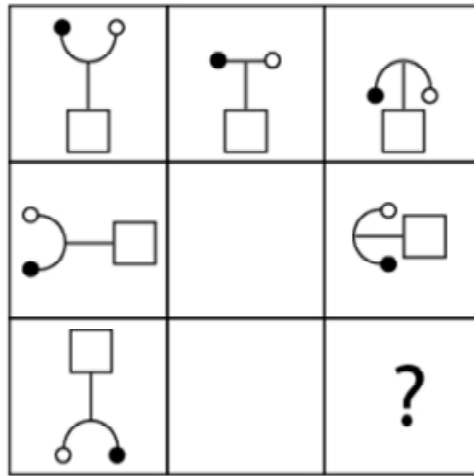
¿Cuál es la figura que falta?



www.riolearning.com

19.

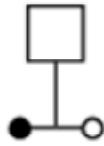
¿Cuál es la figura que falta?



A.



B.



C.



D.



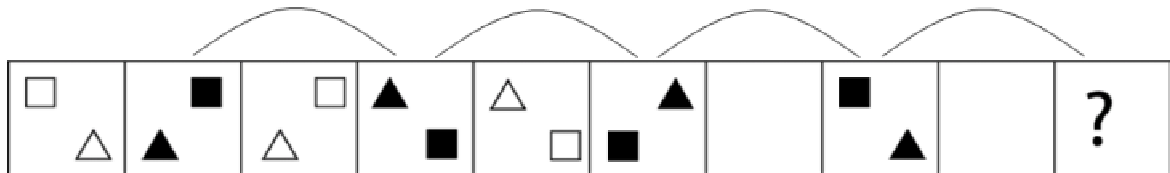
E.



20.

¿Cuál es la figura que falta?

www.riolearning.com



A.



B.



C.



D.

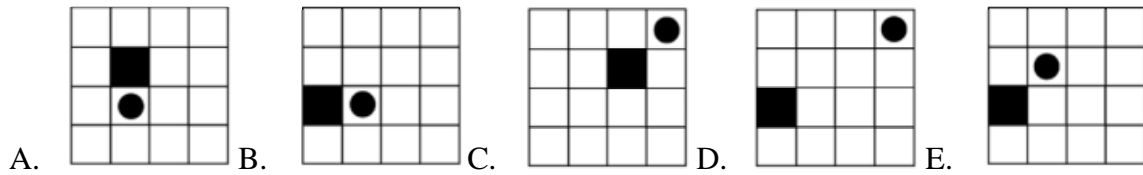
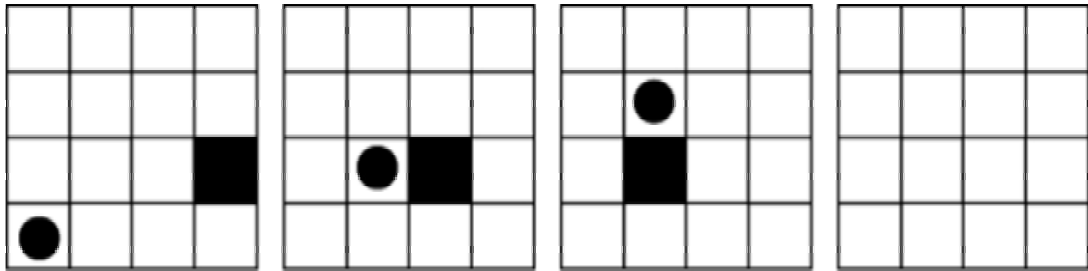


E.



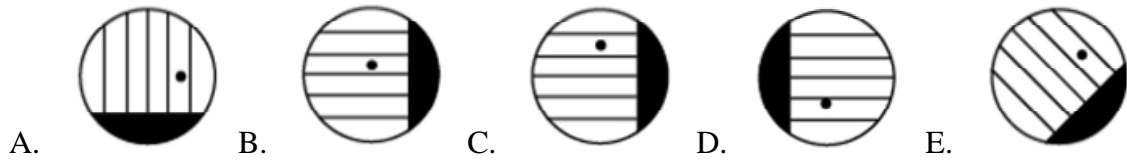
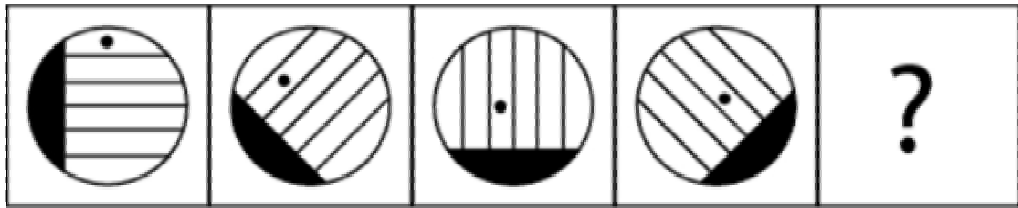
21.

¿Cuál es la figura que falta?



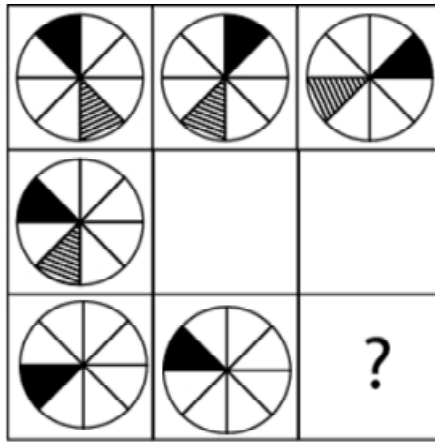
22.

¿Cuál es la figura que falta?



23.

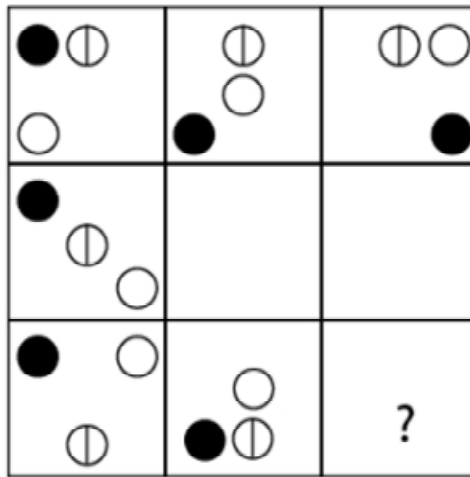
¿Cuál es la figura que falta?



- A. B. C. D. E.

24.


¿Cuál es la figura que falta?



- A. B. C. D. E.

25.

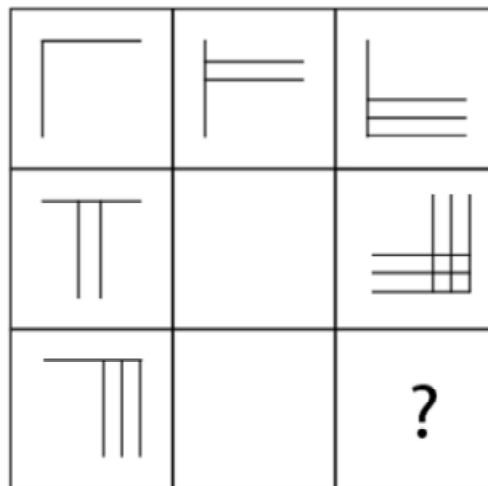
¿Cuál es la figura que falta?



- A.  B.  C.  D.  E. 

26.

¿Cuál es la figura que falta?




- A.  B.  C.  D.  E. 

www.riolearning.com

27.

¿Cuál es la figura que falta?



A sequence of 9 boxes. The first three boxes are grouped by a bracket above them, and the last three are grouped by another bracket. The boxes contain the following elements: Box 1: black square, black dot; Box 2: black square, white circle; Box 3: black square, black dot; Box 4: empty; Box 5: black dot, black square; Box 6: empty; Box 7: black square, black dot; Box 8: empty; Box 9: question mark.


Options below the sequence:

- A. black square, white circle
- B. black square, black dot
- C. empty
- D. white circle, black square
- E. black square, white circle

www.riolearning.com

28.

¿Cuál es la figura que falta?



A sequence of 9 circles, each with a vertical and a horizontal line dividing it into four quadrants. The shaded regions are: Box 1: top-right; Box 2: bottom-right; Box 3: bottom-left; Box 4: top-left; Box 5: top-right; Box 6: bottom-right; Box 7: bottom-left; Box 8: top-left; Box 9: question mark.

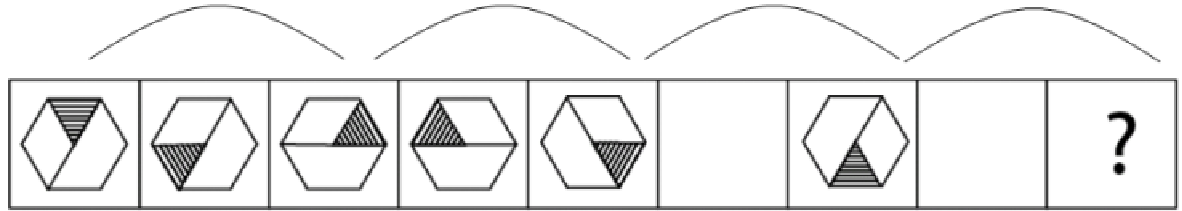
Options below the sequence:

- A. top-left
- B. bottom-right
- C. top-right
- D. top-right
- E. bottom-right

www.riolearning.com

29.

¿Cuál es la figura que falta?



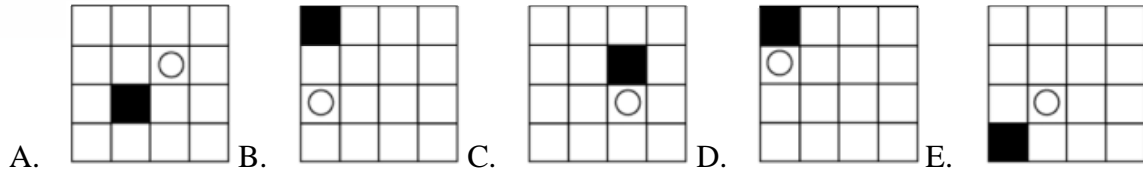
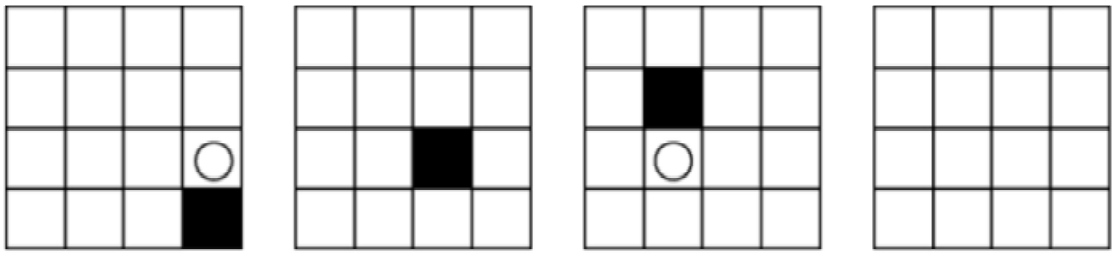
A sequence of 9 hexagons. The first five hexagons are grouped by a bracket above them, and the last three are grouped by another bracket. Each hexagon is divided into three triangles meeting at the center. The shaded regions are: Box 1: top; Box 2: bottom; Box 3: top; Box 4: bottom; Box 5: right; Box 6: empty; Box 7: top; Box 8: empty; Box 9: question mark.

Options below the sequence:

- A. top
- B. bottom
- C. empty
- D. bottom
- E. top

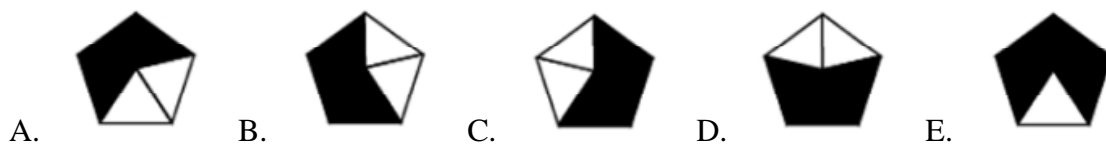

30.

¿Cuál es la figura que falta?



31.

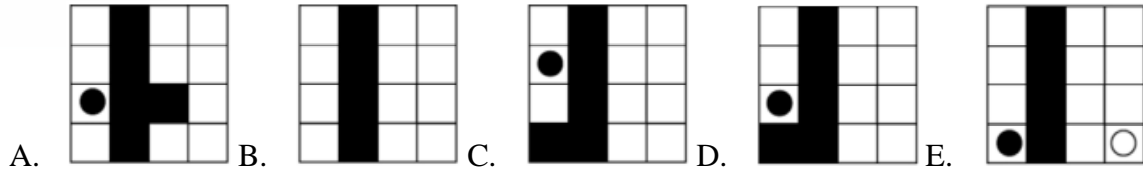
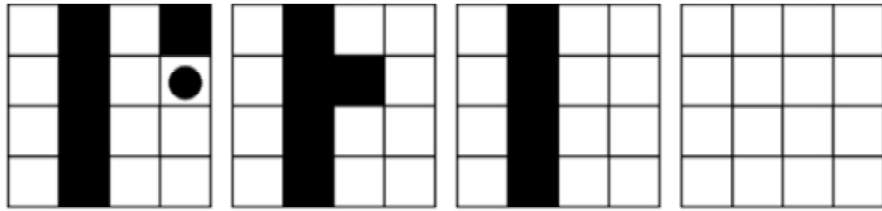
¿Cuál es la figura que falta?



www.riolearning.com

32.

¿Cuál es la figura que falta?



www.riolearning.com


33.

¿Cuál es la figura que falta?



34.

¿Cuál es la figura que falta?



A.



B.



C.



D.

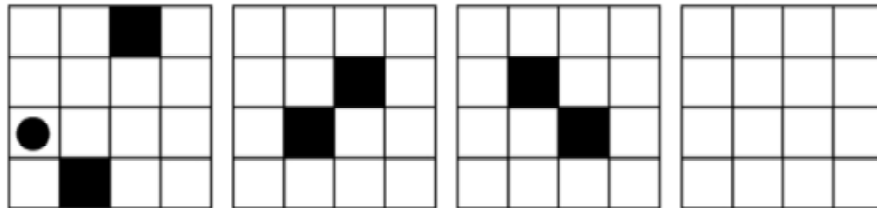


E.




35.


¿Cuál es la figura que falta?




A.




B.



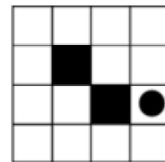
C.



D.

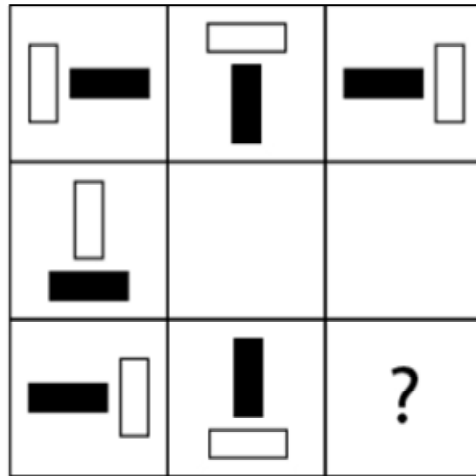






E.



36.

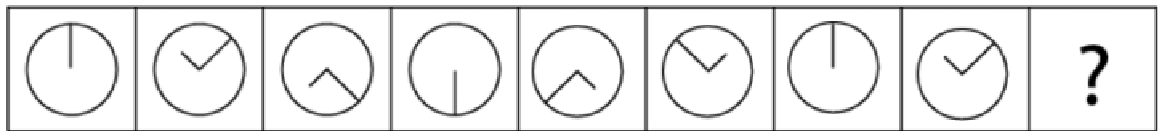
¿Cuál es la figura que falta?








- A.  B.  C.  D.  E. 

37.

¿Cuál es la figura que falta?

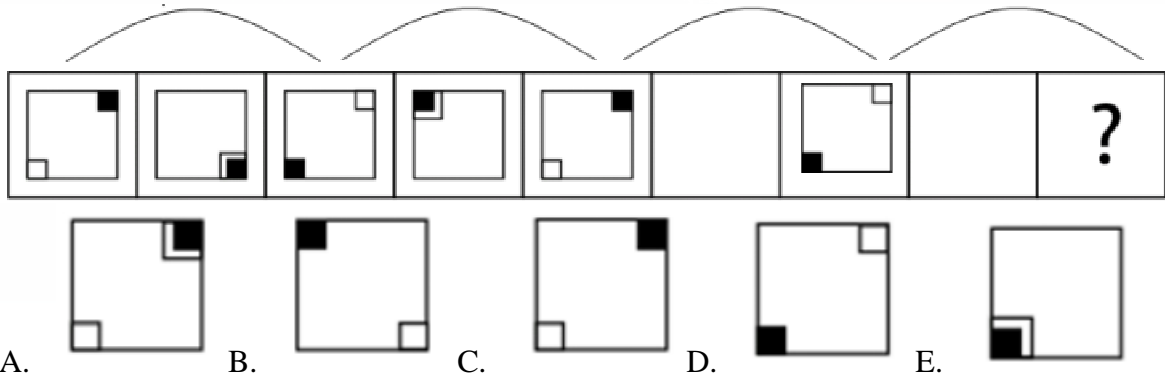







- A.  B.  C.  D.  E. 

www.riolearning.com

38.

¿Cuál es la figura que falta?

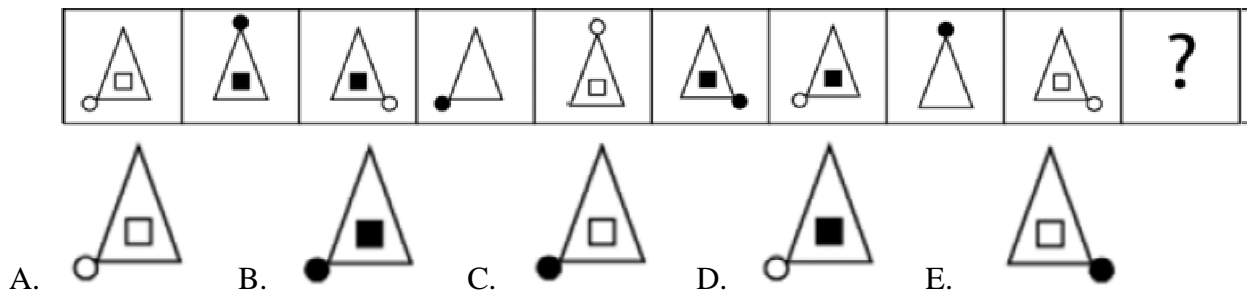







A.  B.  C.  D.  E. 

www.riolearning.com

39.

¿Cuál es la figura que falta?

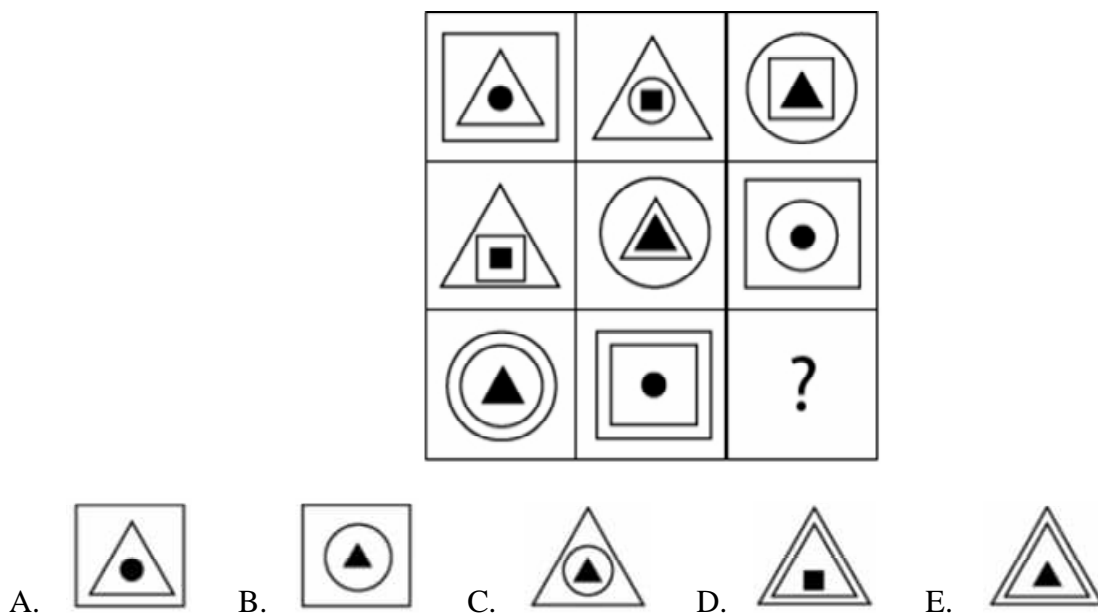







A.  B.  C.  D.  E. 

www.riolearning.com

40.

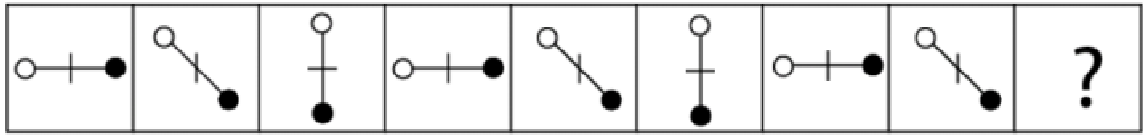
¿Cuál es la figura que falta?



A.  B.  C.  D.  E. 

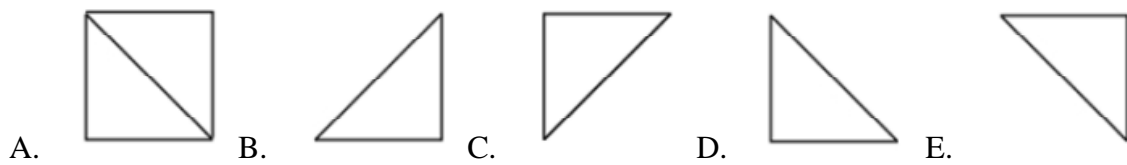
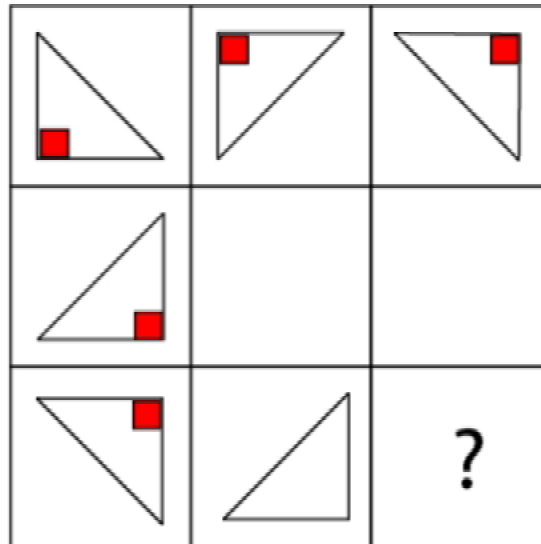
41.

¿Cuál es la figura que falta?



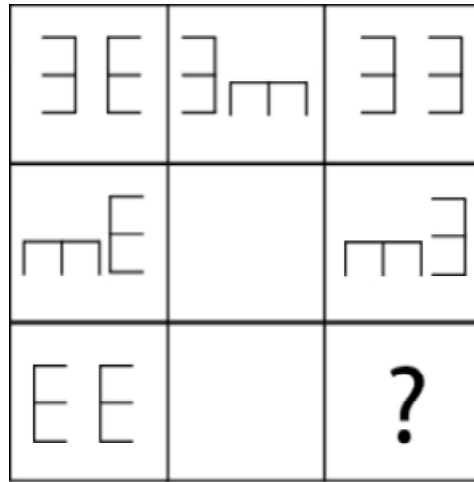
42.

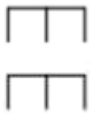
¿Cuál es la figura que falta?



43.


¿Cuál es la figura que falta?








- A. EE B. EE C.  D. EE E. EE

44.

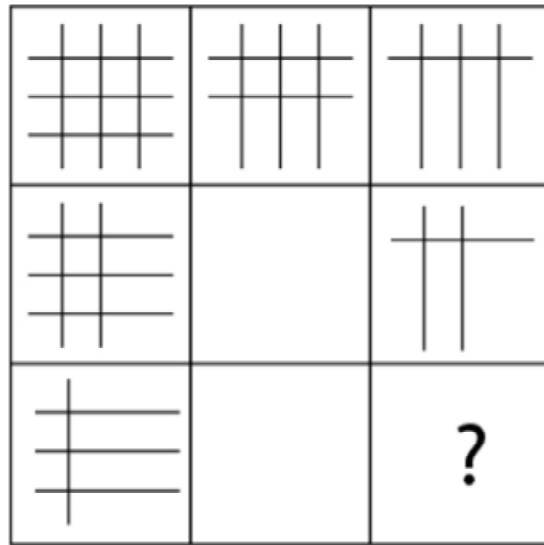
¿Cuál es la figura que falta?



- A.  B.  C.  D.  E. 

45.

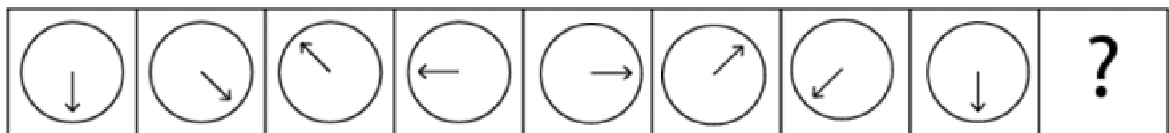
¿Cuál es la figura que falta?



- A.
- B.
- C.
- D.
- E.

46.

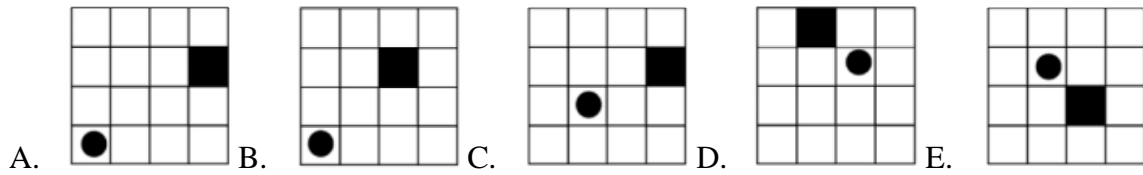
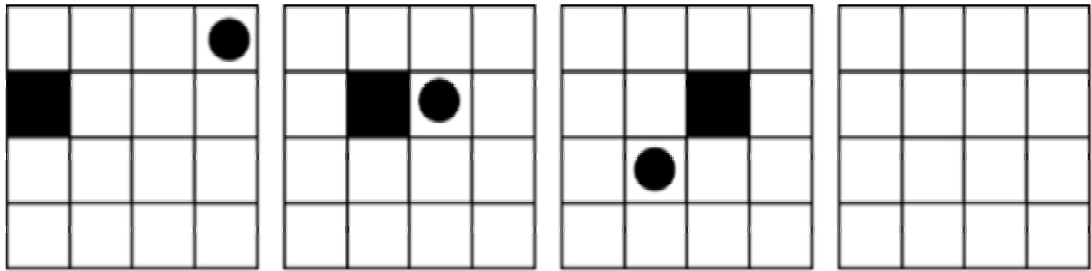
¿Cuál es la figura que falta?



- A.
- B.
- C.
- D.
- E.

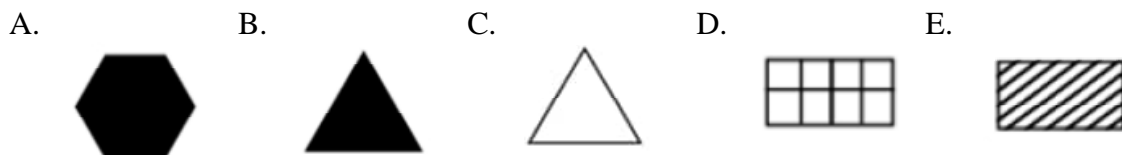

47.

¿Cuál es la figura que falta?



48.

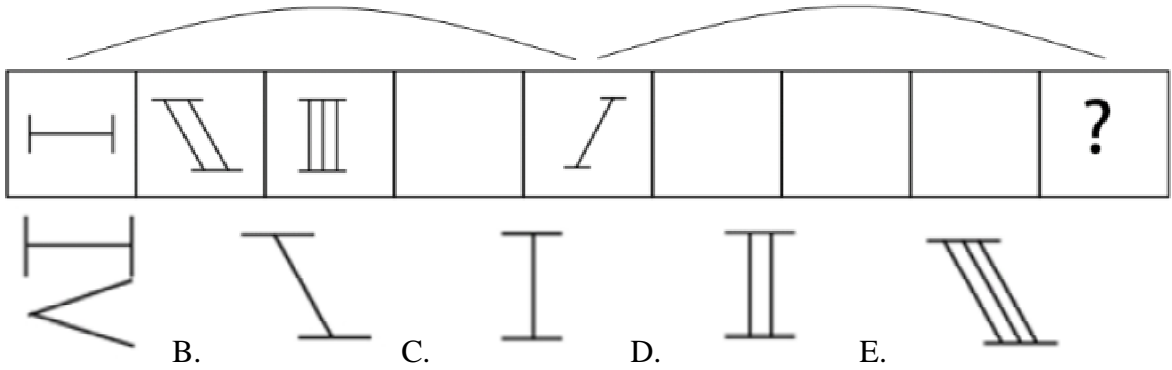
¿Cuál es la figura que falta?



www.riolearning.com

49.

¿Cuál es la figura que falta?

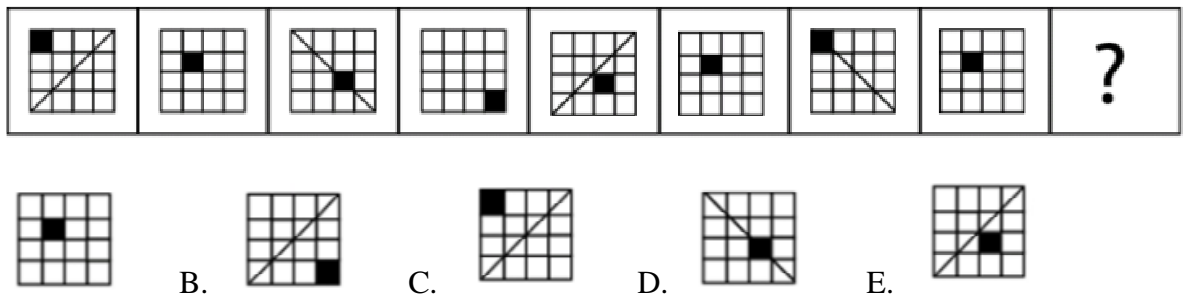


A. B. C. D. E.

www.riolearning.com

50.

¿Cuál es la figura que falta?

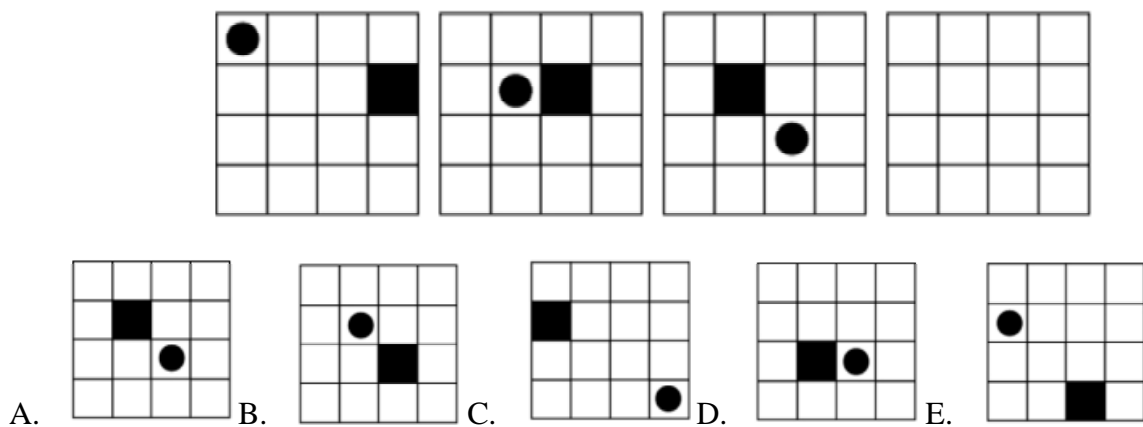


A. B. C. D. E.

www.riolearning.com

51.

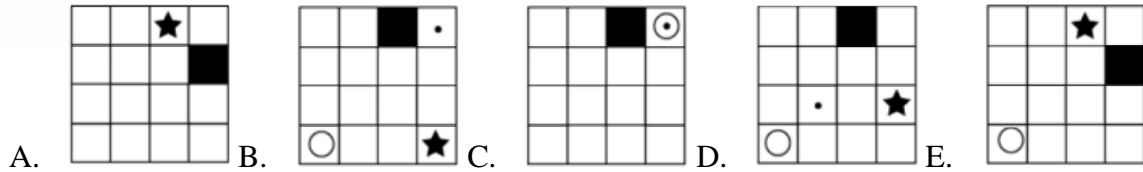
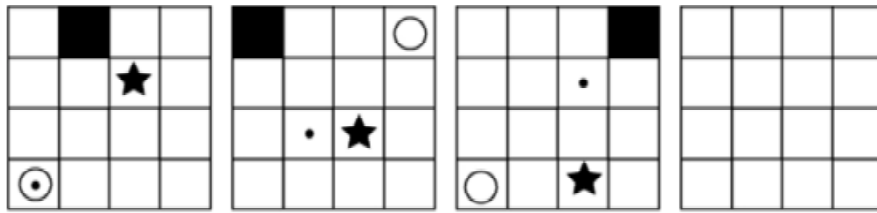
¿Cuál es la figura que falta?



A. B. C. D. E.

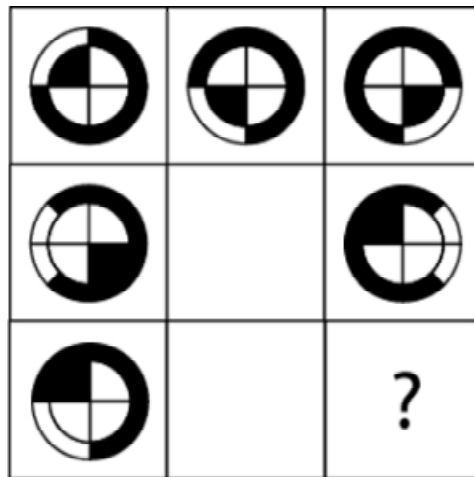
52.

¿Cuál es la figura que falta?



53.

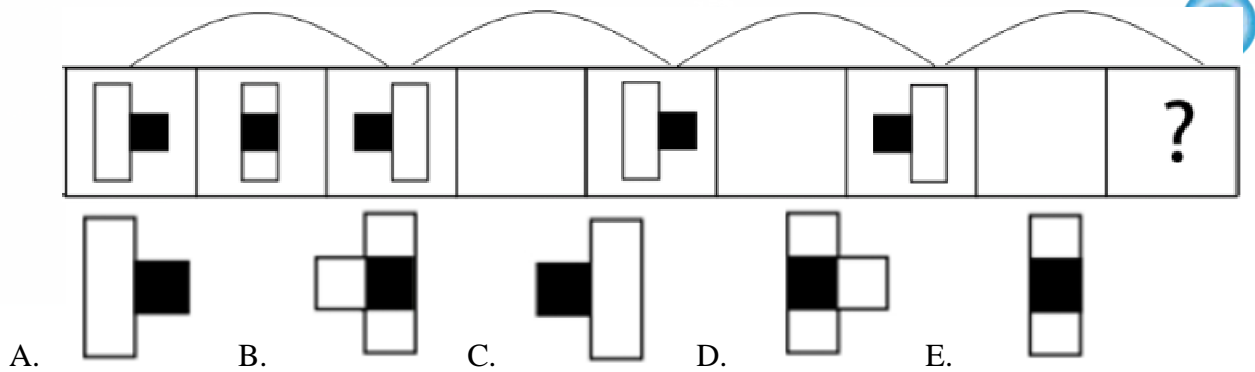
¿Cuál es la figura que falta?



www.riolearning.com

54.

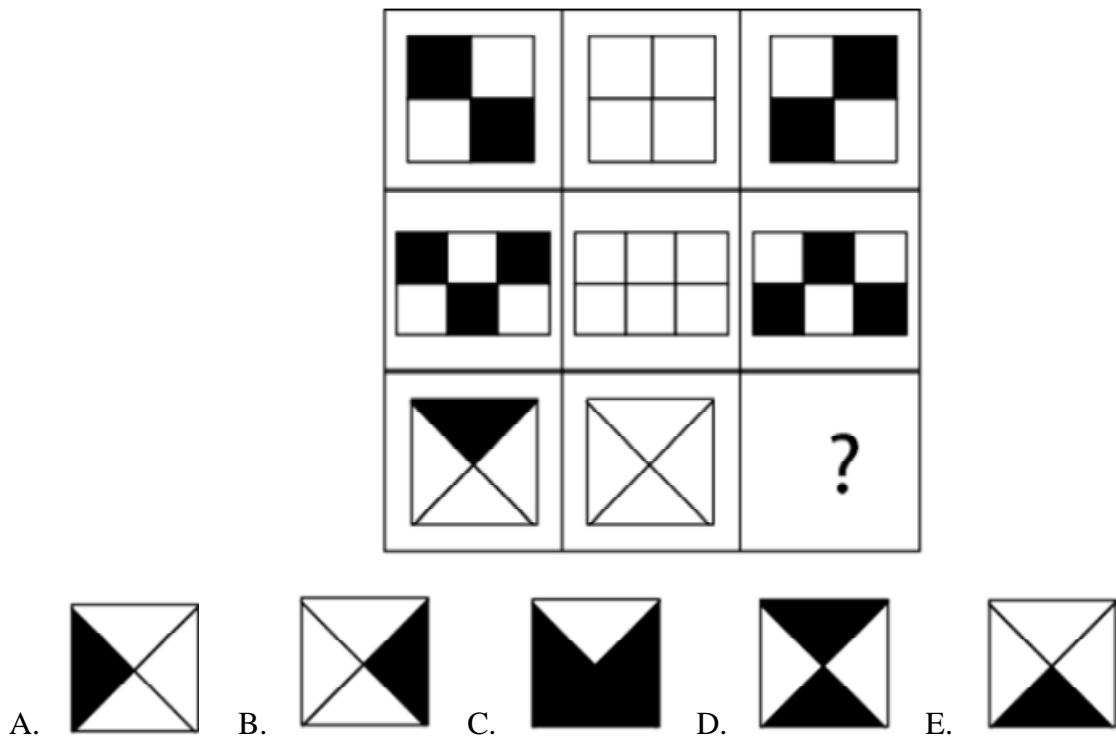
¿Cuál es la figura que falta?



www.riolearning.com

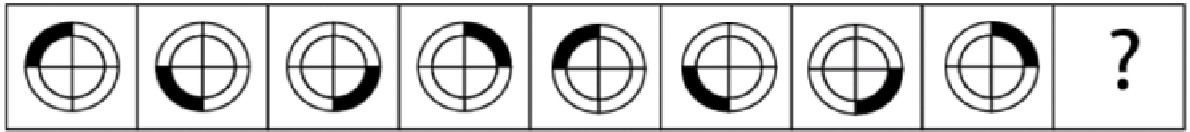
55.

¿Cuál es la figura que falta?



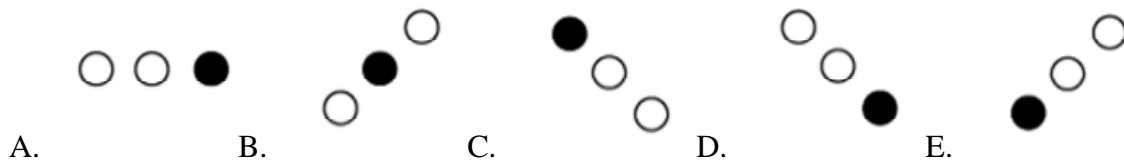

56.

¿Cuál es la figura que falta?



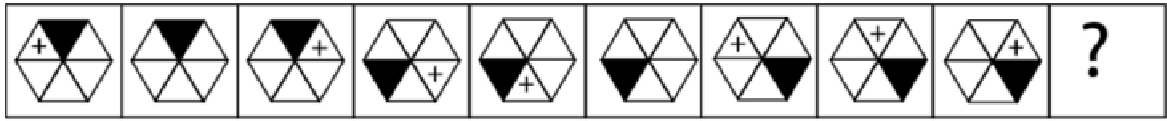
57.

¿Cuál es la figura que falta?



58.

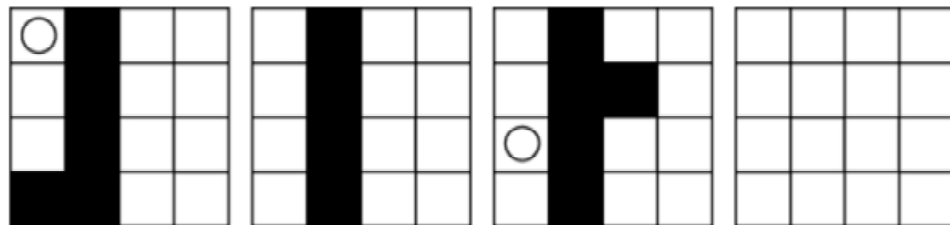
¿Cuál es la figura que falta?

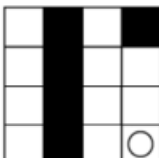
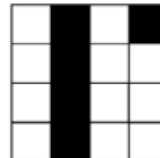
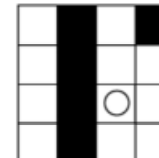
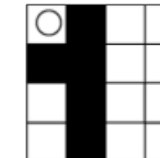
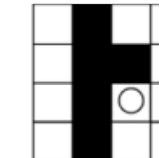


- A.  B.  C.  D.  E. 

59.

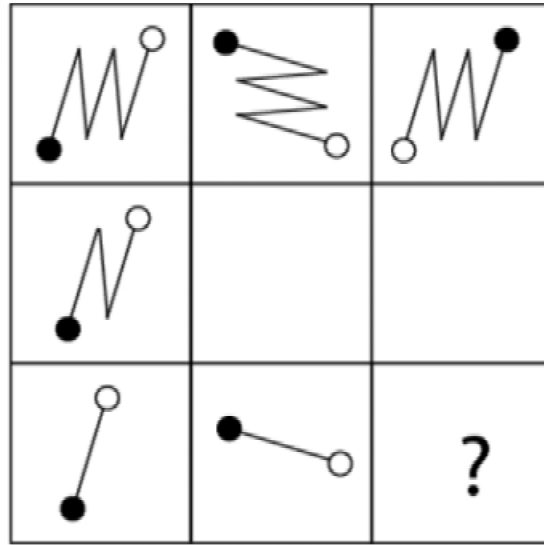
¿Cuál es la figura que falta?



- A.  B.  C.  D.  E. 

60.

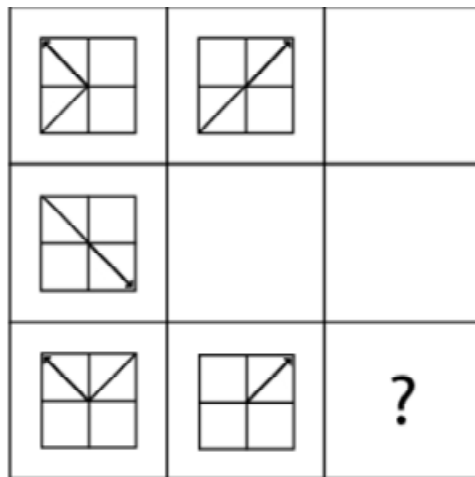
¿Cuál es la figura que falta?





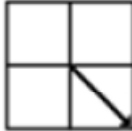


- A.  B.  C.  D.  E. 

61.

¿Cuál es la figura que falta?

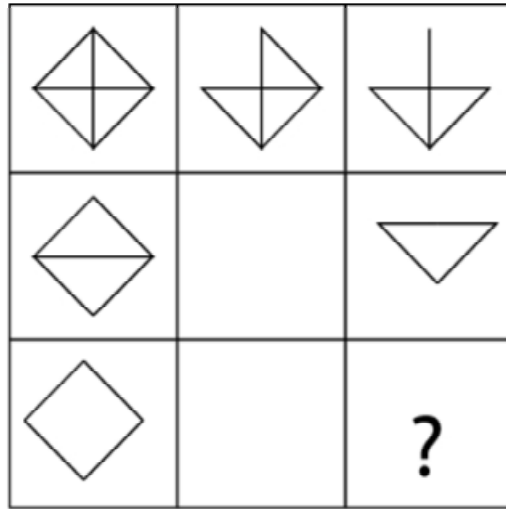



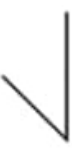



- A.  B.  C.  D.  E. 

www.riolearning.com

62.

¿Cuál es la figura que falta?

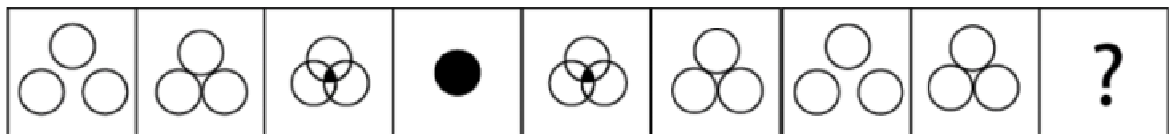



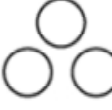



- A.  B.  C.  D.  E. 

www.riolearning.com

63.

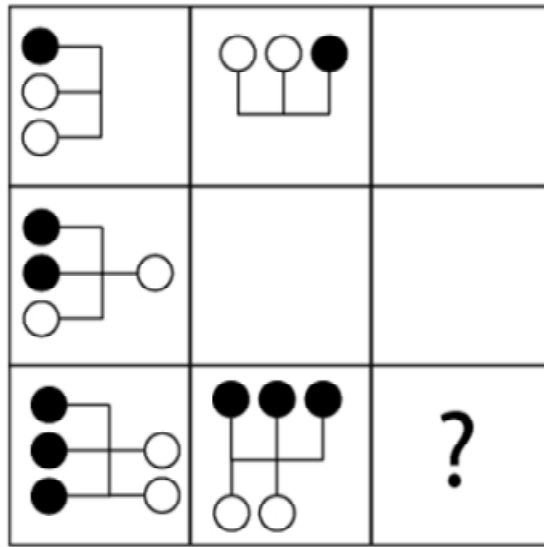
¿Cuál es la figura que falta?

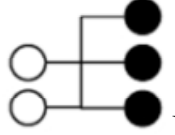
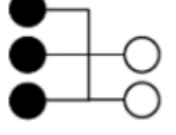
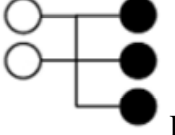
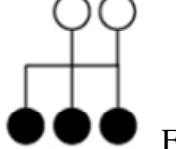
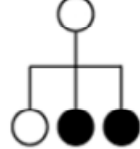


- A.  B.  C.  D.  E. 

64.

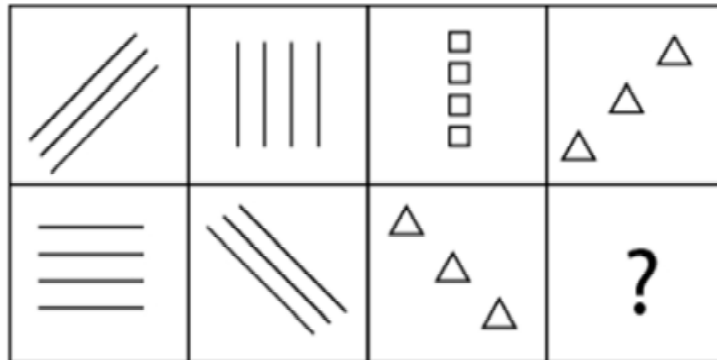
¿Cuál es la figura que falta?



- A.  B.  C.  D.  E. 

65.

¿Cuál es la figura que falta?



A.



C.



E.



B.









D.



66.

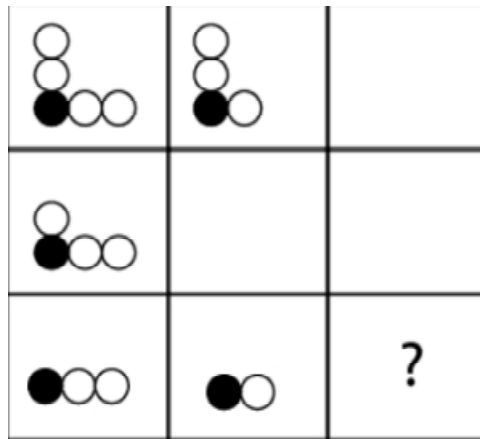
¿Cuál es la figura que falta?







- A.  B.  C.  D.  E. 

67.

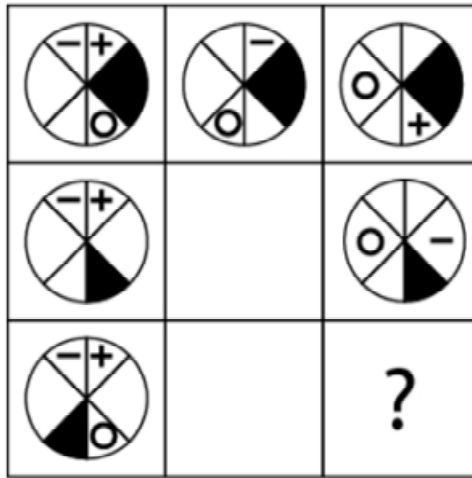
¿Cuál es la figura que falta?



- A.  B.  C.  D.  E. 

68.


¿Cuál es la figura que falta?








- A.  B.  C.  D.  E. 

69.

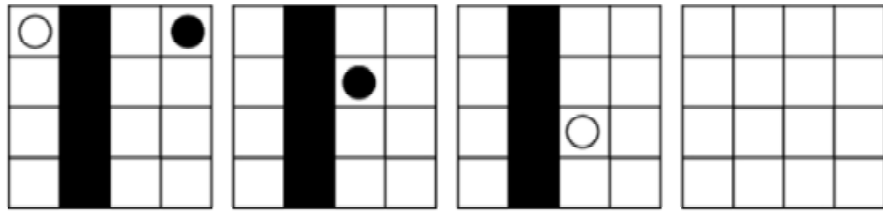
¿Cuál es la figura que falta?

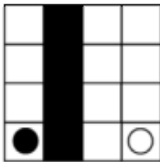
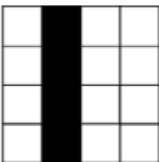
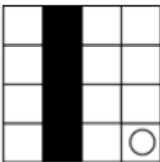
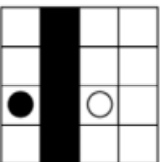
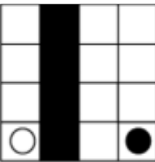


- A.  B.  C.  D.  E. 

70.

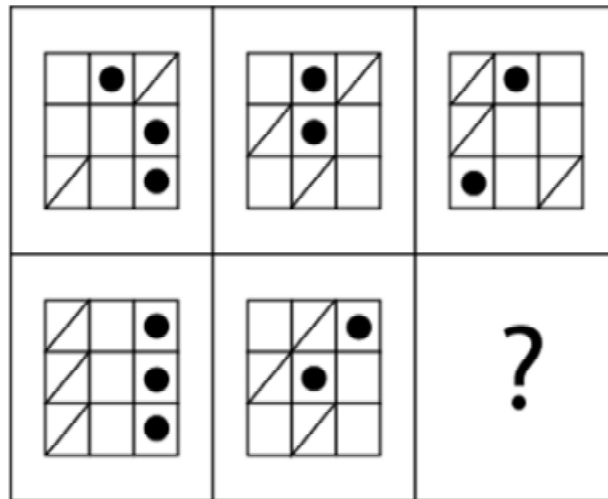
¿Cuál es la figura que falta?

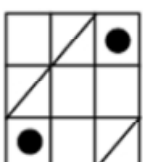
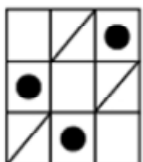
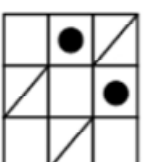
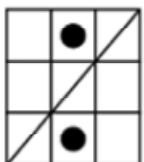
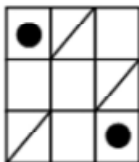


- A.  B.  C.  D.  E. 

71.

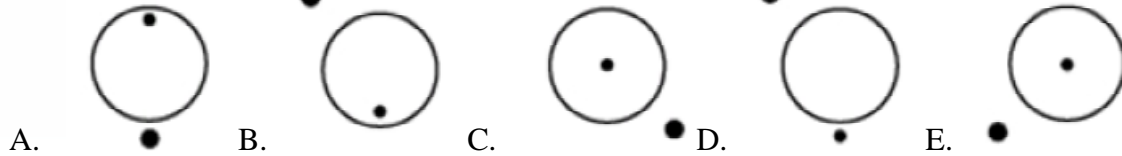
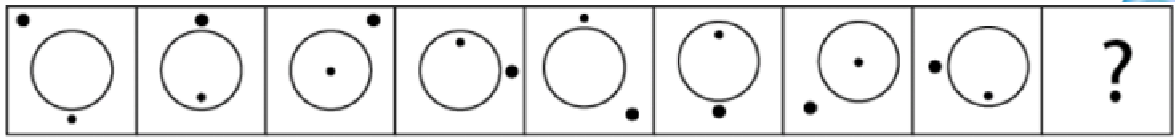
¿Cuál es la figura que falta?



- A.  B.  C.  D.  E. 

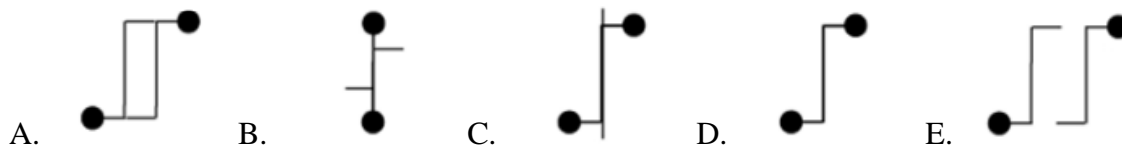
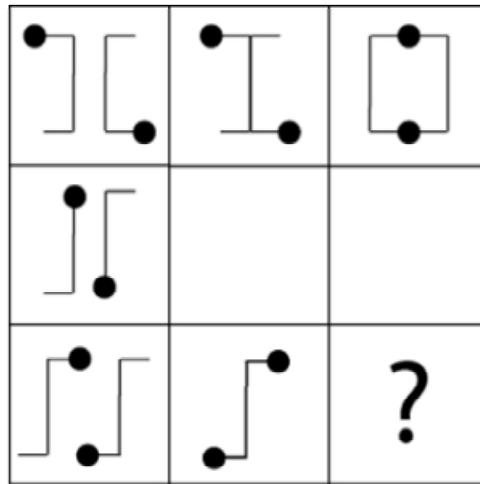
72.

¿Cuál es la figura que falta?



73.

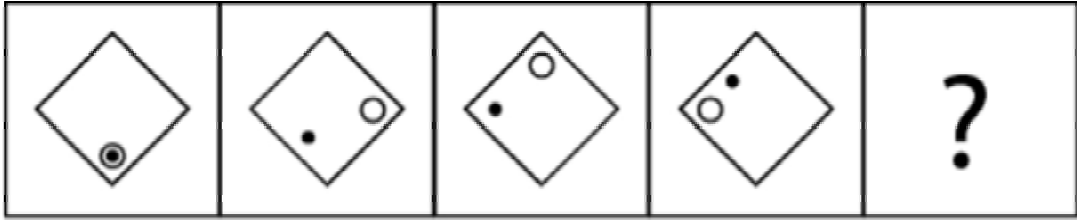
¿Cuál es la figura que falta?



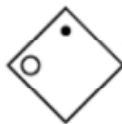

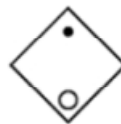


www.riolearning.com

74.

¿Cuál es la figura que falta?









- A.  B.  C.  D.  E. 

www.riolearning.com

75.

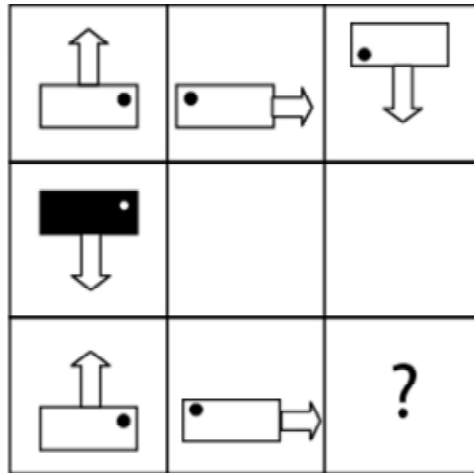
¿Cuál es la figura que falta?

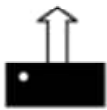
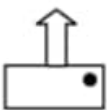

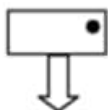
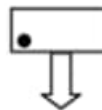


- A.  B.  C.  D.  E. 

76.

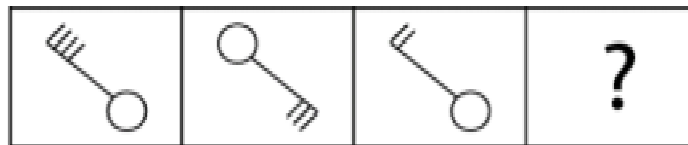
¿Cuál es la figura que falta?

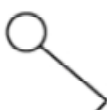
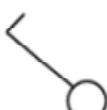
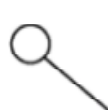
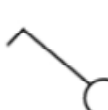



- A.  B.  C.  D.  E. 

77.

¿Cuál es la figura que falta?

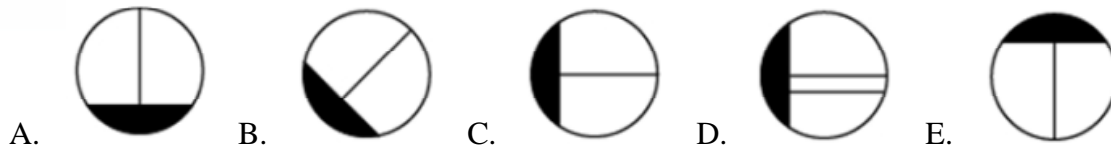
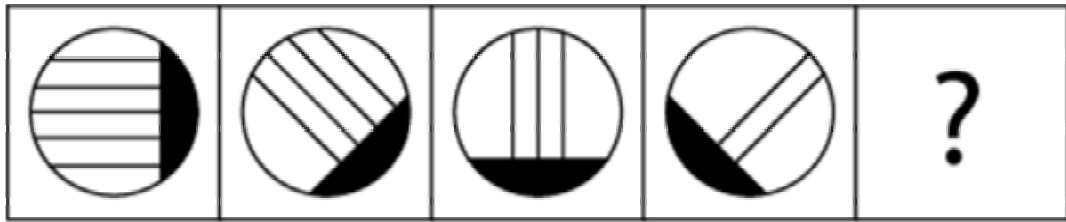


- A.  B.  C.  D.  E. 

www.riolearning.com

78.

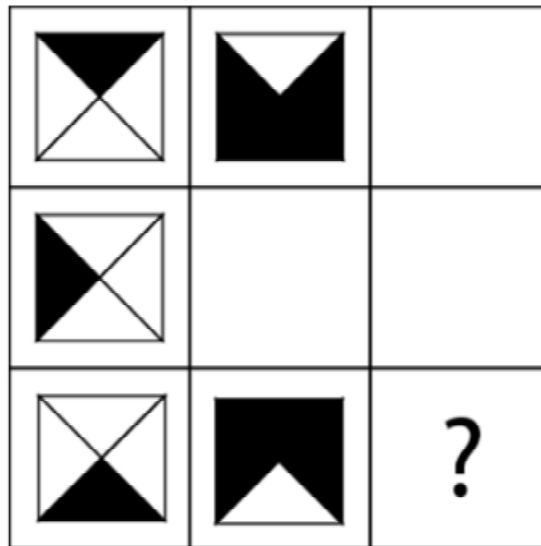
¿Cuál es la figura que falta?



www.riolearning.com

79.

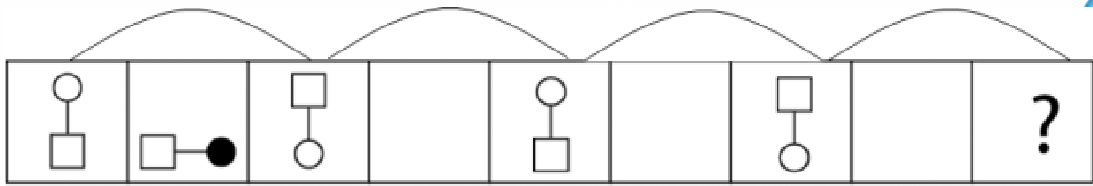
¿Cuál es la figura que falta?








www.riolearning.com

80.

¿Cuál es la figura que falta?

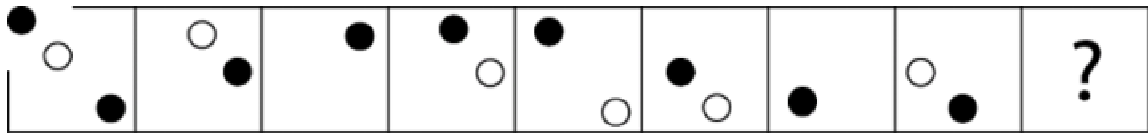









- A.  B.  C.  D.  E. 

www.riolearning.com

81.

¿Cuál es la figura que falta?

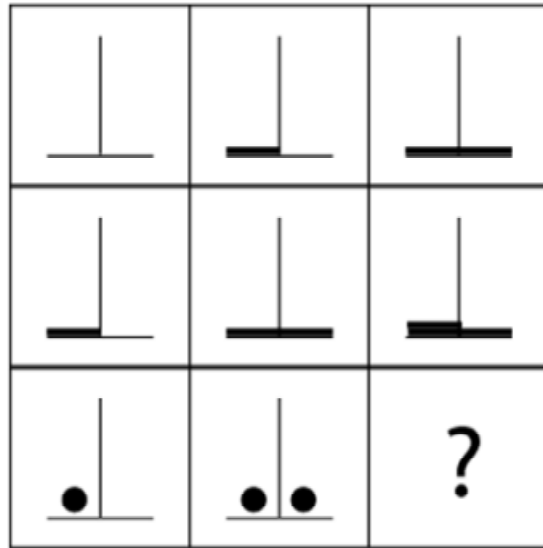


- A.   B.  C.  D.  E.  

www.riolearning.com

82.

¿Cuál es la figura que falta?

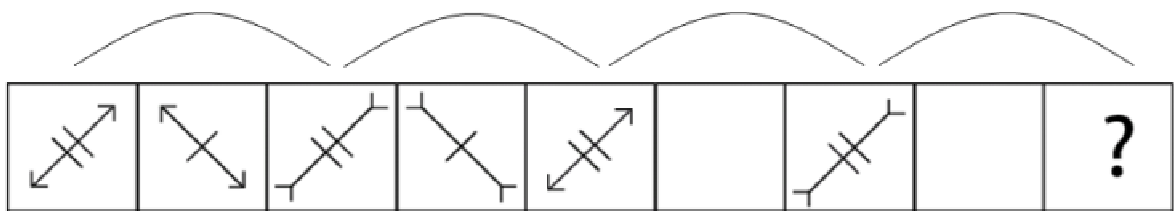


- A. B. C. D. E.

www.riolearning.com

83.

¿Cuál es la figura que falta?

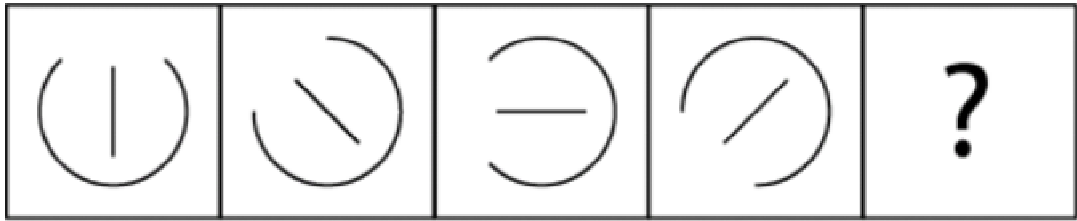







- A. B. C. D. E.

www.riolearning.com

84.

¿Cuál es la figura que falta?









- A.  B.  C.  D.  E. 

www.riolearning.com

85.

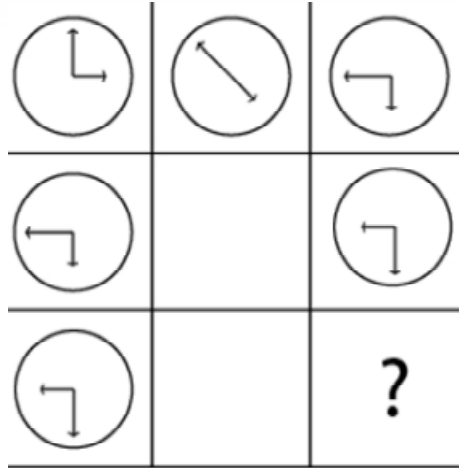
¿Cuál es la figura que falta?



- A.  B.  C.  D.  E. 

86.

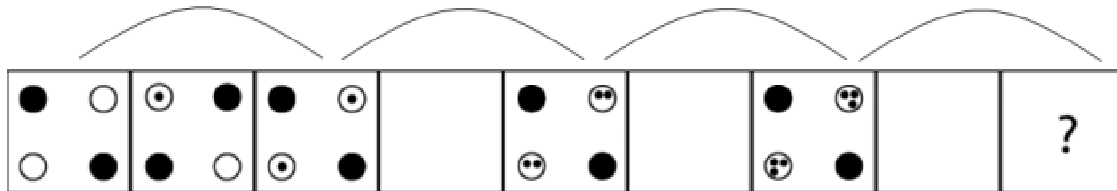
¿Cuál es la figura que falta?



- A.
- B.
- C.
- D.
- E.

87.

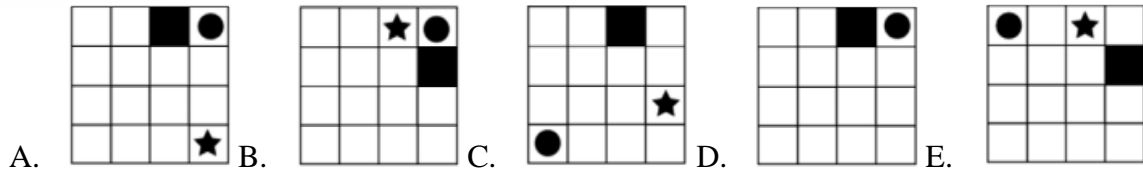
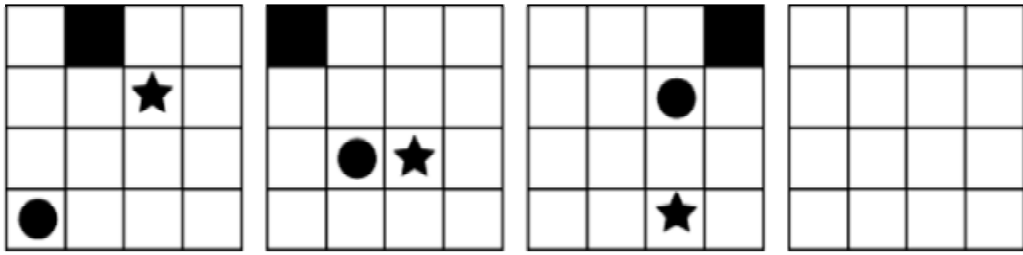
¿Cuál es la figura que falta?



- A.
- B.
- C.
- D.
- E.

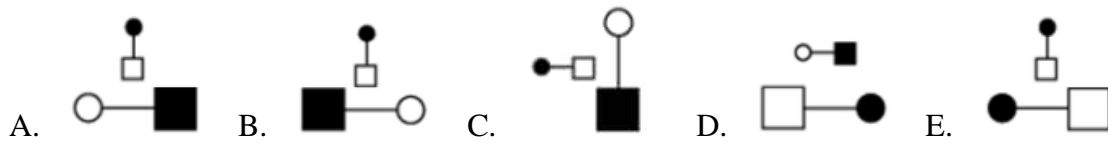
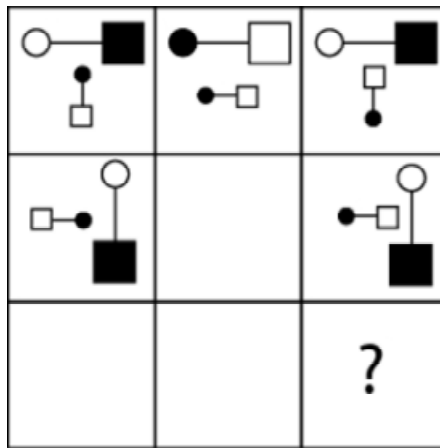
88.

¿Cuál es la figura que falta?



89.

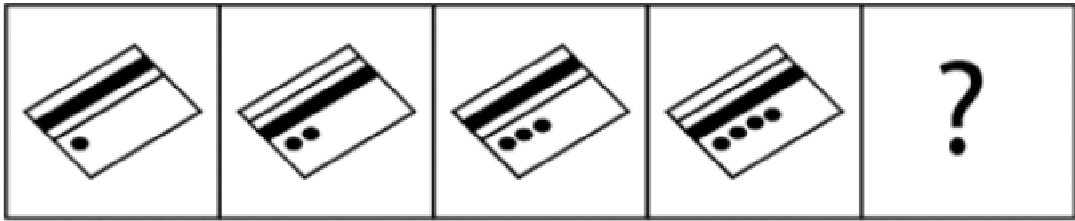
¿Cuál es la figura que falta?



www.riolearning.com

90.

¿Cuál es la figura que falta?

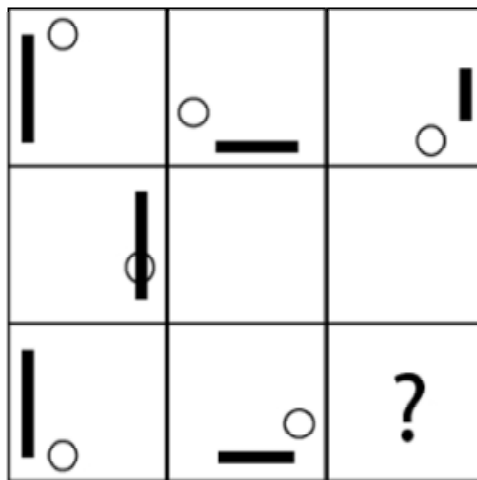




- A.  B.  C.  D.  E. 

www.riolearning.com

91.

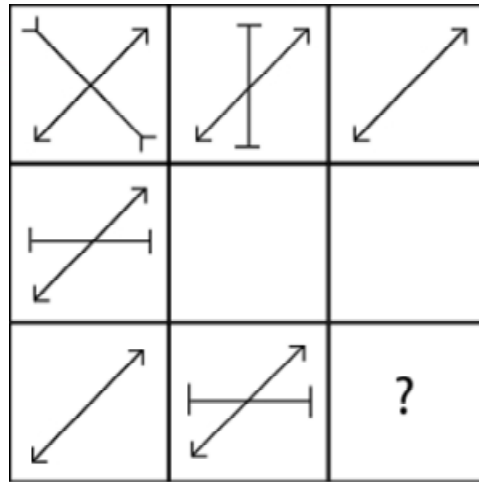
¿Cuál es la figura que falta?








- A.  B.  C.  D.  E. 

92.


¿Cuál es la figura que falta?



- A.  B.  C.  D.  E. 

93.

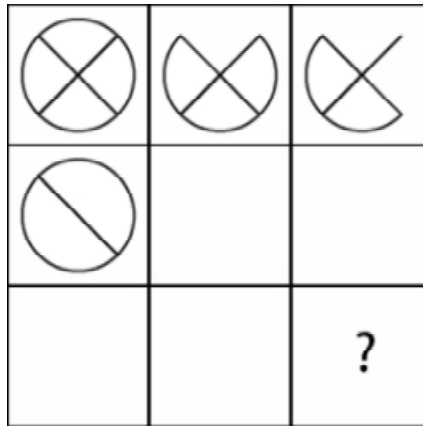
¿Cuál es la figura que falta?








- A.  B.  C.  D.  E. 

94.

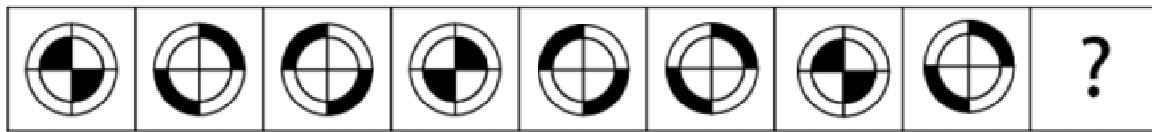
¿Cuál es la figura que falta?




- A.  B.  C.  D.  E. 

95.

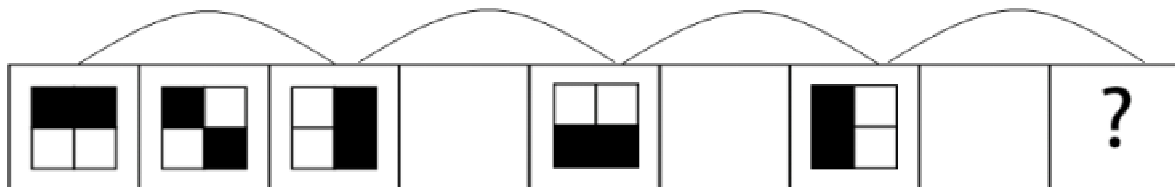
¿Cuál es la figura que falta?








- A.  B.  C.  D.  E. 

96.

¿Cuál es la figura que falta?

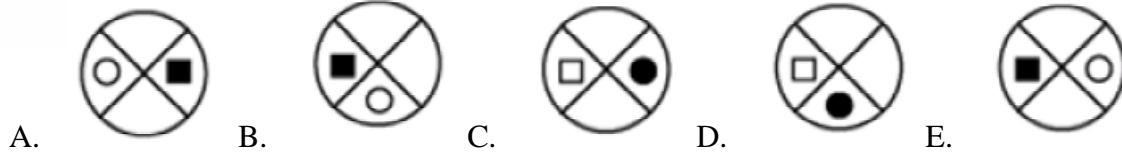
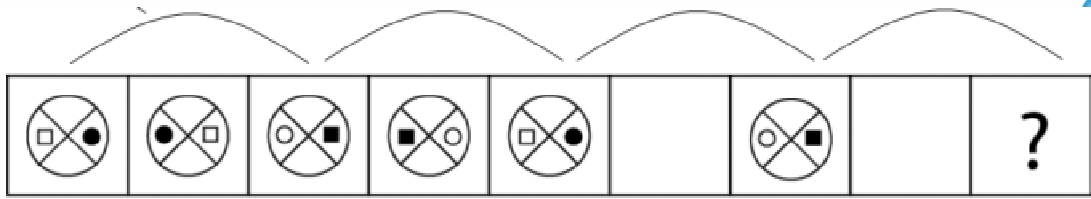


- A.  B.  C.  D.  E. 

www.riolearning.com

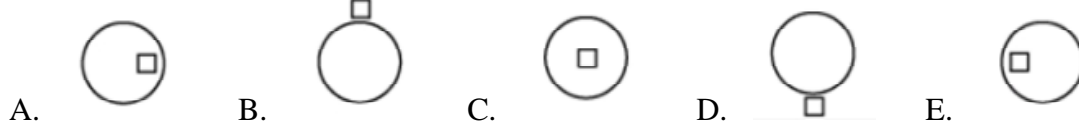
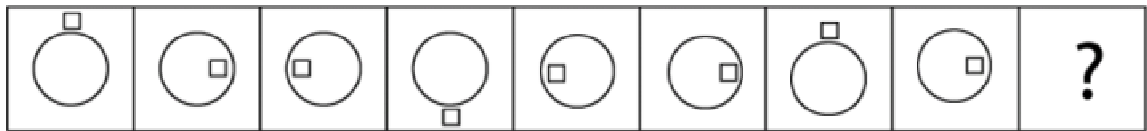
97.

¿Cuál es la figura que falta?



98.

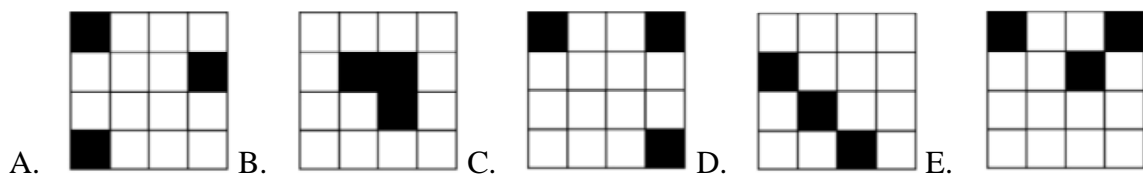
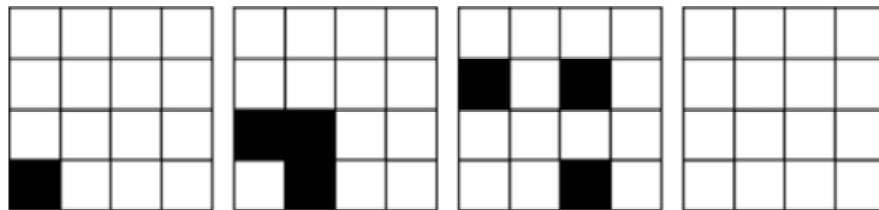
¿Cuál es la figura que falta?



www.riolearning.com

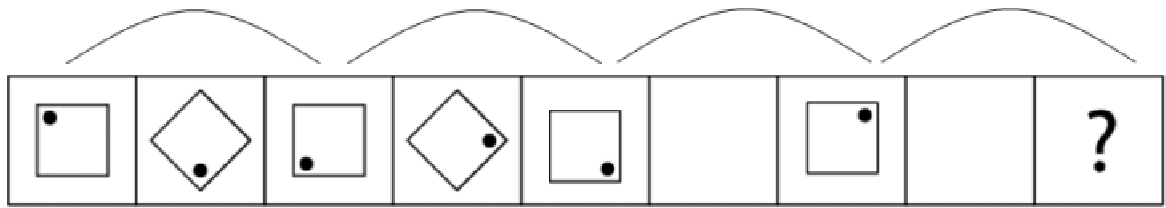
99.




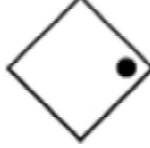

¿Cuál es la figura que falta?



100.

¿Cuál es la figura que falta?



- A.  B.  C.  D.  E. 

ACCESO A LA EDUCACIÓN SUPERIOR TAE100_001

Answer Section

MULTIPLE CHOICE



1. ANS: B PTS: 1
2. ANS: C PTS: 1
3. ANS: C PTS: 1
4. ANS: A PTS: 1
5. ANS: B PTS: 1
6. ANS: D PTS: 1
7. ANS: D PTS: 1
8. ANS: A PTS: 1
9. ANS: C PTS: 1
10. ANS: A PTS: 1
11. ANS: D PTS: 1
12. ANS: E PTS: 1
13. ANS: E PTS: 1
14. ANS: B PTS: 1
15. ANS: E PTS: 1
16. ANS: B PTS: 1
17. ANS: E PTS: 1
18. ANS: A PTS: 1
19. ANS: A PTS: 1
20. ANS: E PTS: 1
21. ANS: D PTS: 1
22. ANS: C PTS: 1
23. ANS: B PTS: 1
24. ANS: D PTS: 1
25. ANS: E PTS: 1
26. ANS: A PTS: 1
27. ANS: D PTS: 1
28. ANS: C PTS: 1
29. ANS: C PTS: 1
30. ANS: B PTS: 1
31. ANS: D PTS: 1
32. ANS: C PTS: 1
33. ANS: E PTS: 1
34. ANS: A PTS: 1
35. ANS: B PTS: 1
36. ANS: A PTS: 1
37. ANS: C PTS: 1
38. ANS: C PTS: 1
39. ANS: B PTS: 1
40. ANS: D PTS: 1

41. ANS: A	PTS: 1	86. ANS: C	PTS: 1
42. ANS: D	PTS: 1	87. ANS: B	PTS: 1
43. ANS: D	PTS: 1	88. ANS: D	PTS: 1
44. ANS: D	PTS: 1	89. ANS: B	PTS: 1
45. ANS: A	PTS: 1	90. ANS: B	PTS: 1
46. ANS: C	PTS: 1	91. ANS: B	PTS: 1
47. ANS: A	PTS: 1	92. ANS: C	PTS: 1
48. ANS: E	PTS: 1	93. ANS: D	PTS: 1
49. ANS: C	PTS: 1	94. ANS: A	PTS: 1
50. ANS: E	PTS: 1	95. ANS: C	PTS: 1
51. ANS: C	PTS: 1	96. ANS: E	PTS: 1
52. ANS: C	PTS: 1	97. ANS: C	PTS: 1
53. ANS: D	PTS: 1	98. ANS: E	PTS: 1
54. ANS: A	PTS: 1	99. ANS: C	PTS: 1
55. ANS: C	PTS: 1	100. ANS: E	PTS: 1
56. ANS: B	PTS: 1		
57. ANS: C	PTS: 1		
58. ANS: E	PTS: 1		
59. ANS: B	PTS: 1		
60. ANS: D	PTS: 1		
61. ANS: B	PTS: 1		
62. ANS: A	PTS: 1		
63. ANS: E	PTS: 1		
64. ANS: C	PTS: 1		
65. ANS: A	PTS: 1		
66. ANS: A	PTS: 1		
67. ANS: B	PTS: 1		
68. ANS: A	PTS: 1		
69. ANS: D	PTS: 1		
70. ANS: A	PTS: 1		
71. ANS: A	PTS: 1		
72. ANS: D	PTS: 1		
73. ANS: A	PTS: 1		
74. ANS: E	PTS: 1		
75. ANS: C	PTS: 1		
76. ANS: E	PTS: 1		
77. ANS: A	PTS: 1		
78. ANS: C	PTS: 1		
79. ANS: D	PTS: 1		
80. ANS: D	PTS: 1		
81. ANS: B	PTS: 1		
82. ANS: C	PTS: 1		
83. ANS: E	PTS: 1		
84. ANS: A	PTS: 1		
85. ANS: E	PTS: 1		



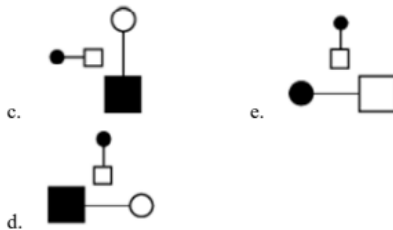
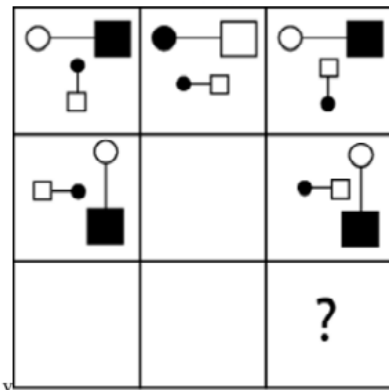
Anexo

TAE20_001_001 ID:A

Modelo de Examen de Acceso a la Educación Superior TAE20_001_001 ID: A

www.riolcarning.com

¿qué falta?



En la parte superior derecha del documento se muestra un código que indica el tipo de examen, número de preguntas y el ID del TEST (se cuenta con cuatro A, B, C, D)

Esta información te permitirá buscar el solucionario.

El solucionario lo puedes encontrar en nuestras redes sociales o en la página www.multimevi.com en la sección DESCARGAS

Aula virtual

www.riolearning.com



Ejercicios Acceso a la Educación Superior tiene licencia [CC BY-NC 4.0](https://creativecommons.org/licenses/by-nc/4.0/) © 2 por EdFr@MeVi



Forma

Test Version

--	--	--	--	--	--	--	--	--	--	--

Nombre: _____

Asignatura: _____

Fecha: _____

A

B

C

D

0 0 0 0 0 0 0 0 0

1 1 1 1 1 1 1 1 1

2 2 2 2 2 2 2 2 2

3 3 3 3 3 3 3 3 3

4 4 4 4 4 4 4 4 4

5 5 5 5 5 5 5 5 5

6 6 6 6 6 6 6 6 6

7 7 7 7 7 7 7 7 7

8 8 8 8 8 8 8 8 8

9 9 9 9 9 9 9 9 9

Cédula - Código

Ejemplo

A B C D E

Calificación

--

- Utilice lápiz para marcar la respuesta.
- Marque un círculo completo
- Borre completamente el círculo para marcar una nueva respuesta

1 A B C D E

2 A B C D E

3 A B C D E

4 A B C D E

5 A B C D E

6 A B C D E

7 A B C D E

8 A B C D E

9 A B C D E

10 A B C D E

11 A B C D E

12 A B C D E

13 A B C D E

14 A B C D E

15 A B C D E

16 A B C D E

17 A B C D E

18 A B C D E

19 A B C D E

20 A B C D E

21 A B C D E

22 A B C D E

23 A B C D E

24 A B C D E

25 A B C D E

26 A B C D E

27 A B C D E

28 A B C D E

29 A B C D E

30 A B C D E

31 A B C D E

32 A B C D E

33 A B C D E

34 A B C D E

35 A B C D E

36 A B C D E

37 A B C D E

38 A B C D E

39 A B C D E

40 A B C D E

41 A B C D E

42 A B C D E

43 A B C D E

44 A B C D E

45 A B C D E

46 A B C D E

47 A B C D E

48 A B C D E

49 A B C D E

50 A B C D E

51 A B C D E

52 A B C D E

53 A B C D E

54 A B C D E

55 A B C D E

56 A B C D E

57 A B C D E

58 A B C D E

59 A B C D E

60 A B C D E

61 A B C D E

62 A B C D E

63 A B C D E

64 A B C D E

65 A B C D E

66 A B C D E

67 A B C D E

68 A B C D E

69 A B C D E

70 A B C D E

71 A B C D E

72 A B C D E

73 A B C D E

74 A B C D E

75 A B C D E

76 A B C D E

77 A B C D E

78 A B C D E

79 A B C D E

80 A B C D E

81 A B C D E

82 A B C D E

83 A B C D E

84 A B C D E

85 A B C D E

86 A B C D E

87 A B C D E

88 A B C D E

89 A B C D E

90 A B C D E

91 A B C D E

92 A B C D E

93 A B C D E

94 A B C D E

95 A B C D E

96 A B C D E

97 A B C D E

98 A B C D E

99 A B C D E

100 A B C D E



ENLACE	DETALLE	QR
http://www.multimevi.com/	Página web MULTIMEVI, donde encontrarás noticias y recursos	
https://t.me/+Klr3YaM42_ZhZTIx	Grupo de apoyo en TELEGRAM	
https://chat.whatsapp.com/IQuCCcZjtLjIkLfgzXo68Y	<u>GRUPO DE WHATSAPP</u>	
https://whatsapp.com/channel/0029VaBB2zQHwXb5Vhn9Yw1W	Canal de noticias WhatsApp	
https://www.facebook.com/multimevi.ec/	Perfil de facebook	
https://www.facebook.com/groups/multimevi	Grupo FULL Rectivos	
https://www.tiktok.com/@multimevi	Canal de TIK TOK	
https://www.instagram.com/multimevi.ec/	Canal de Instagram	
https://twitter.com/multimevi	Red X	



Modelo K

Plataforma MOODLE

 www.riolearning.com

Página Web



www.multimevi.com

Redes Sociales



Procesos



ACCESO a la Educación Superior
SENESCYT

QUIERO SER MAESTRO
Ministerio de Educación