



Ejercicios



# Razonamiento Abstracto

Preguntas modelo  
examen de acceso a la educación superior

**Modelo** **F**



**ACCESO** a la Educación Superior  
SENESCYT

**QUIERO SER MAESTRO**  
Ministerio de Educación

ACCESO A LA EDUCACIÓN SUPERIOR TAE100\_001

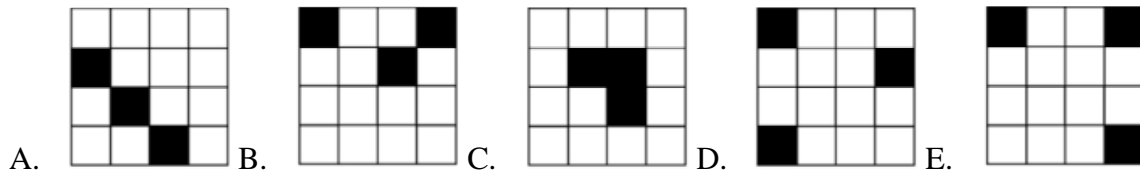
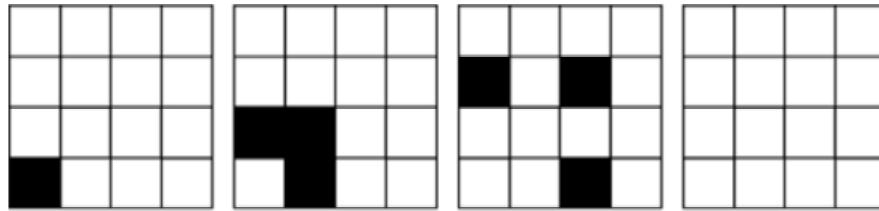
**Opción Múltiple**

Elige la opción que complete mejor el enunciado o que responda mejor a la pregunta.

[www.riolearning.com](http://www.riolearning.com)

1.

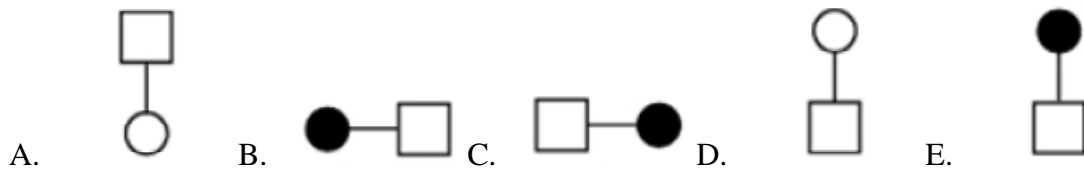
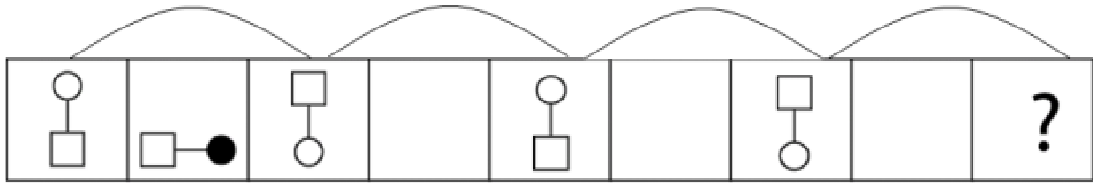
¿Cuál es la figura que falta?



[www.riolearning.com](http://www.riolearning.com)


2.

¿Cuál es la figura que falta?



3.


¿Cuál es la figura que falta?



- A.
- B.
- C.
- D.
- E.

4.

¿Cuál es la figura que falta?

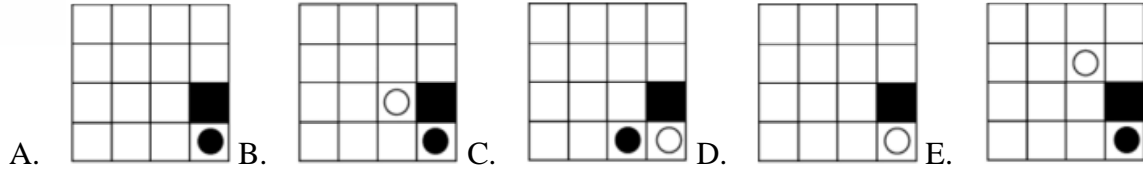
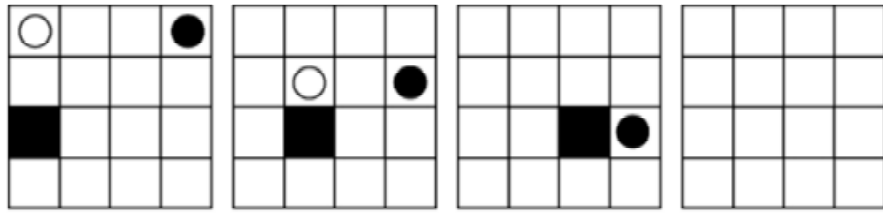


- A.
- B.
- C.
- D.
- E.

[www.riolearning.com](http://www.riolearning.com)

5.


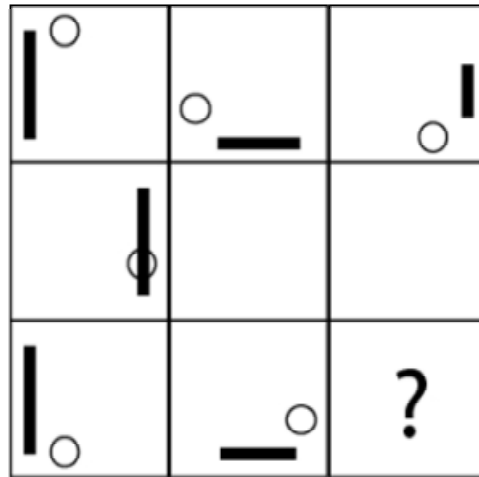
¿Cuál es la figura que falta?



[www.riolearning.com](http://www.riolearning.com)

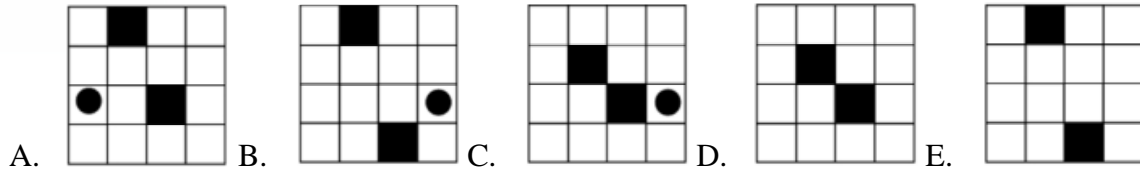
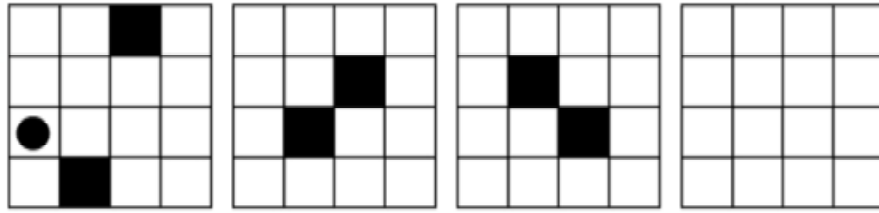
6.

¿Cuál es la figura que falta?



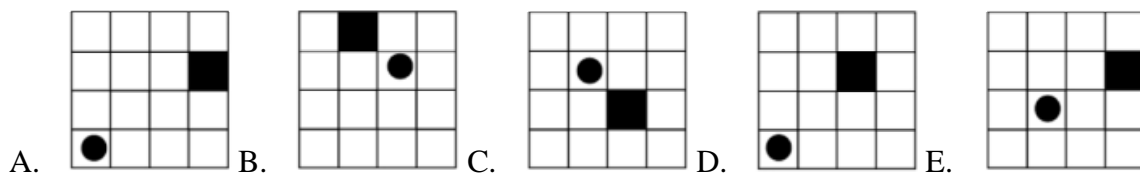
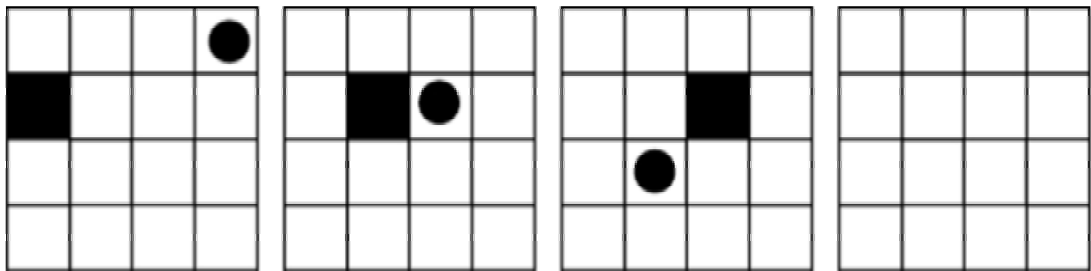
7.

¿Cuál es la figura que falta?



8.

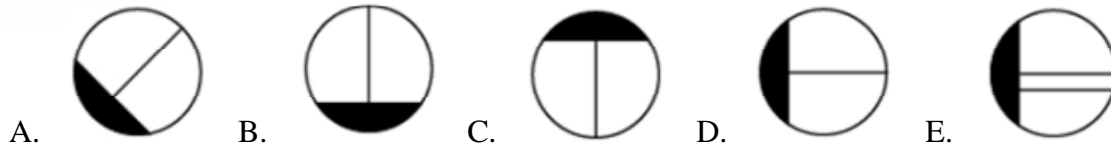
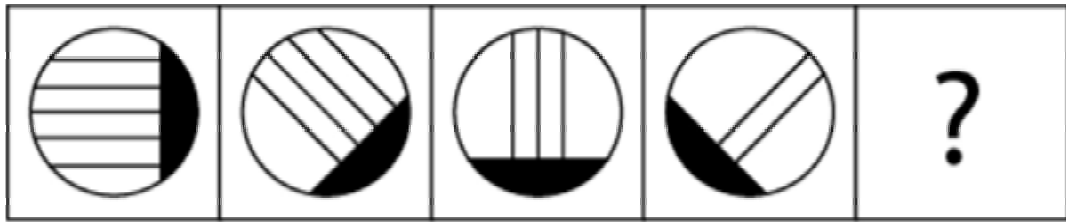
¿Cuál es la figura que falta?



[www.riolearning.com](http://www.riolearning.com)

9.

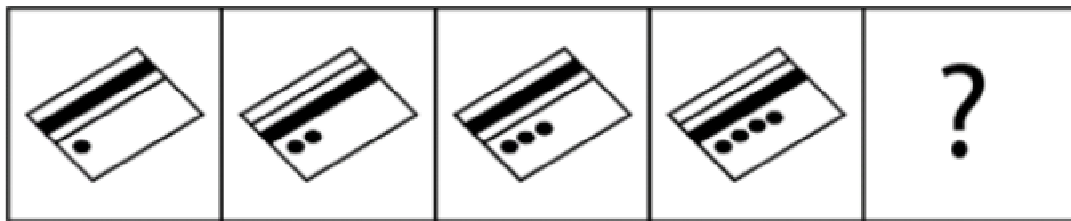
¿Cuál es la figura que falta?



10.

¿Cuál es la figura que falta?

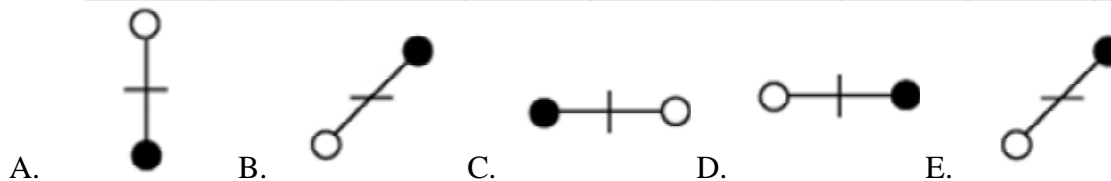
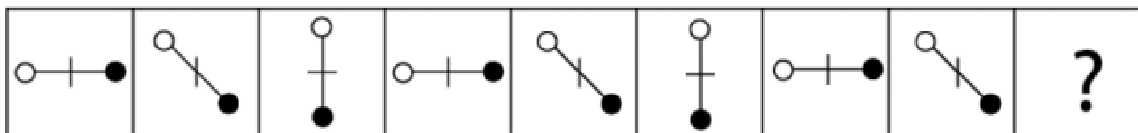
[www.riolearning.com](http://www.riolearning.com)



11.


¿Cuál es la figura que falta?

[www.riolearning.com](http://www.riolearning.com)



12.

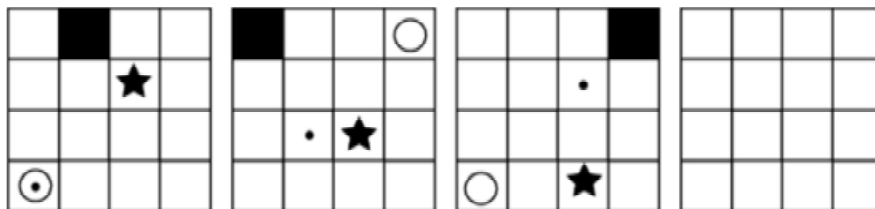
¿Cuál es la figura que falta?



- A.
- B.
- C.
- D.
- E.

13.

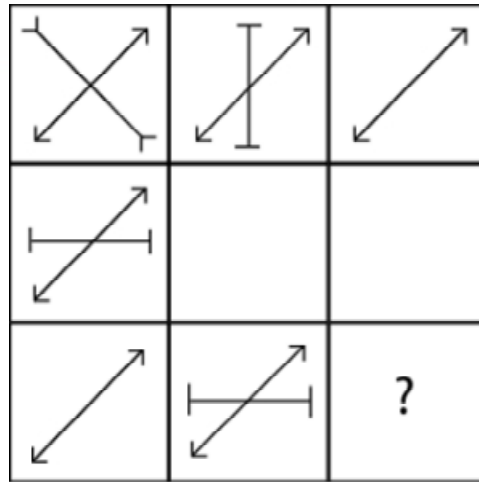
¿Cuál es la figura que falta?

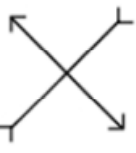


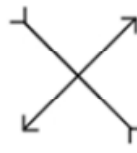



- A.
- B.
- C.
- D.
- E.

14.


¿Cuál es la figura que falta?




- A.  B.  C.  D.  E. 

15.

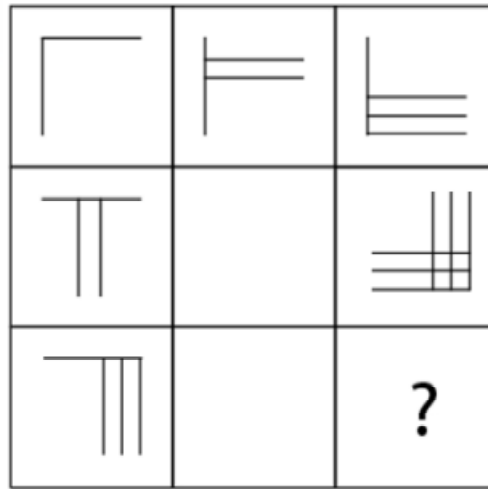
¿Cuál es la figura que falta?



- A.  B.  C.  D.  E. 

16.

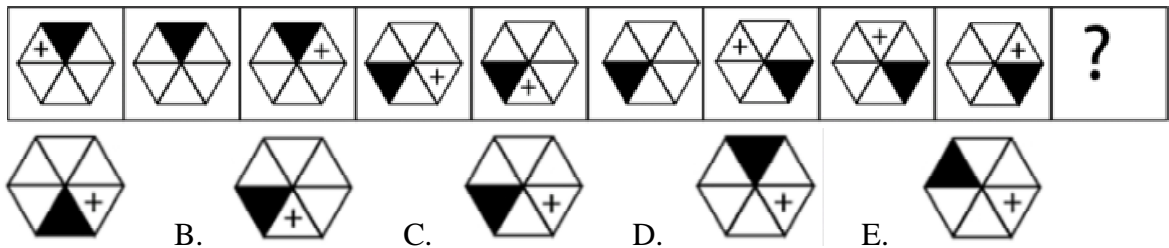
¿Cuál es la figura que falta?



- A.
- B.
- C.
- D.
- E.

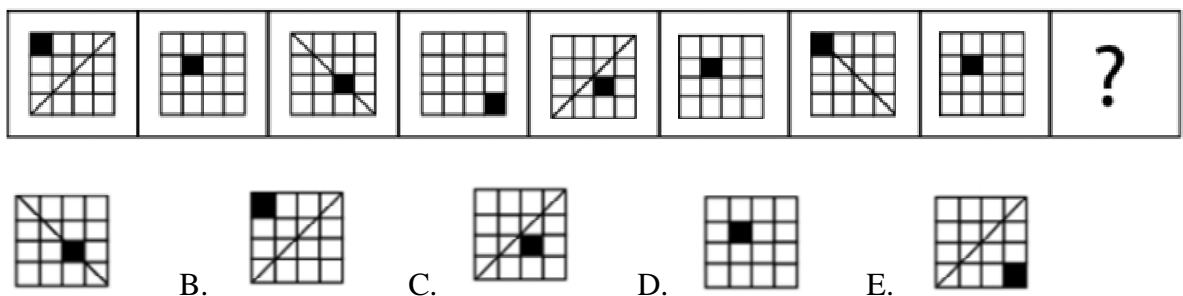
17.

¿Cuál es la figura que falta?



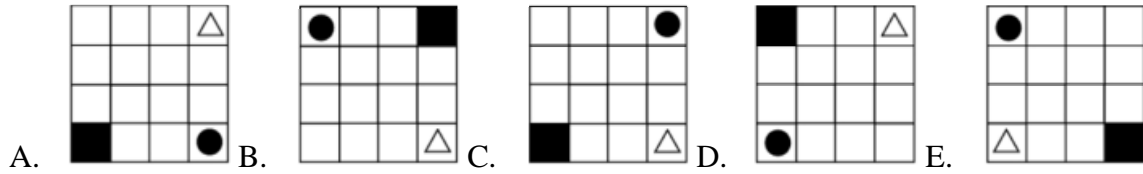
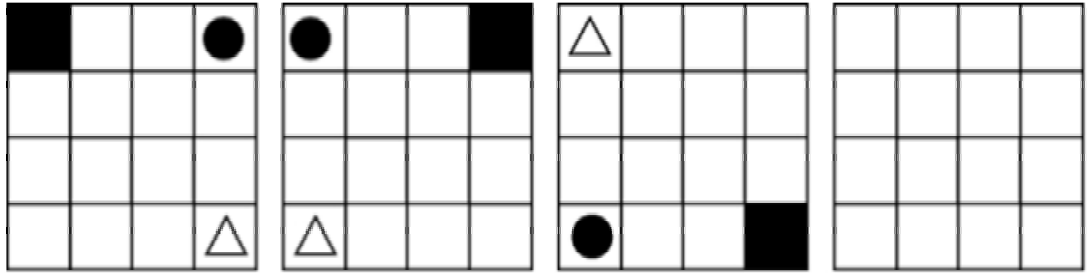
18.

¿Cuál es la figura que falta?



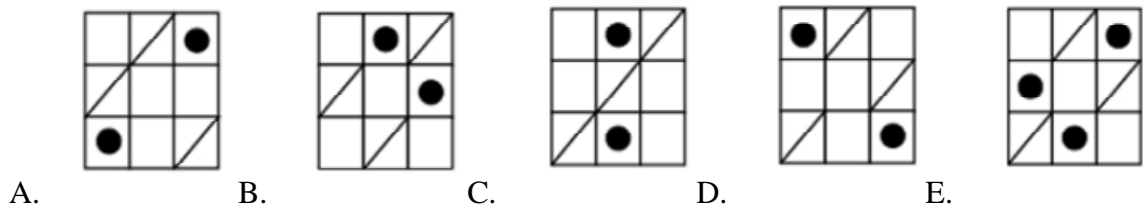
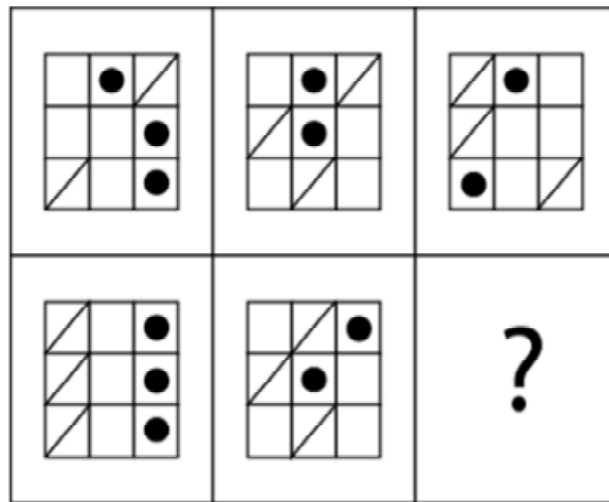
19.

¿Cuál es la figura que falta?



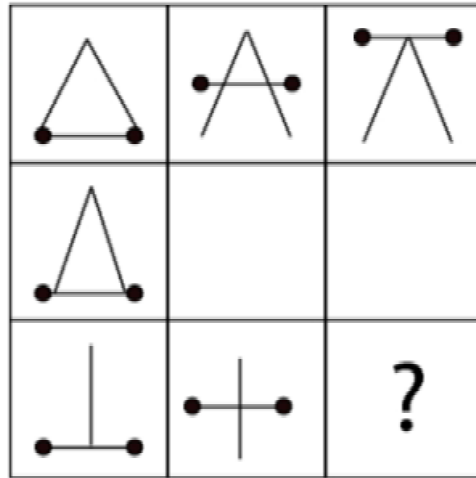
20.





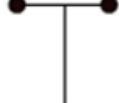
¿Cuál es la figura que falta?



21.

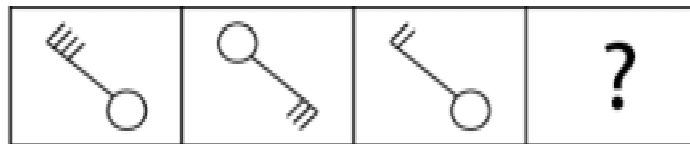
¿Cuál es la figura que falta?



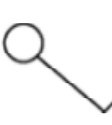

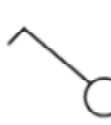


- A.  B.  C.  D.  E. 

22.

¿Cuál es la figura que falta?

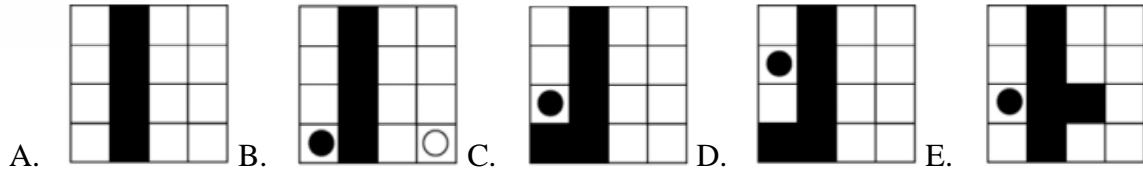
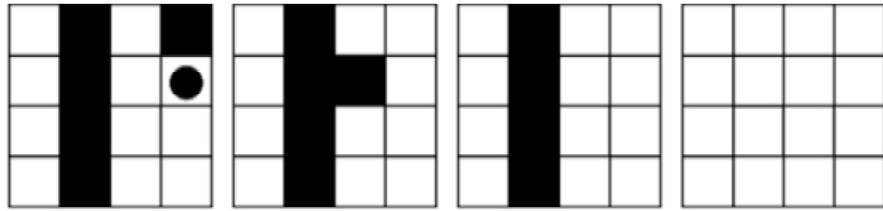


- A.  B.  C.  D.  E. 

[www.riolearning.com](http://www.riolearning.com)

23.


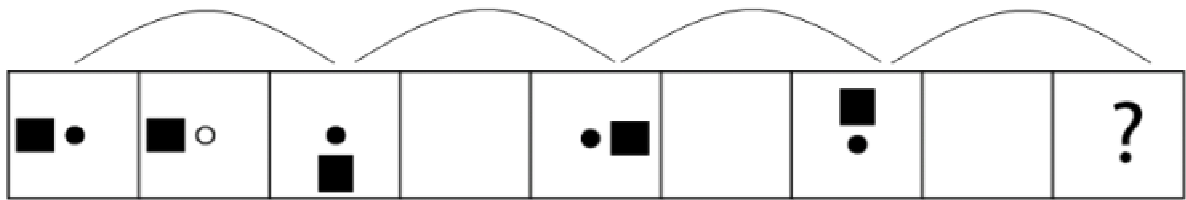
¿Cuál es la figura que falta?



[www.riolearning.com](http://www.riolearning.com)

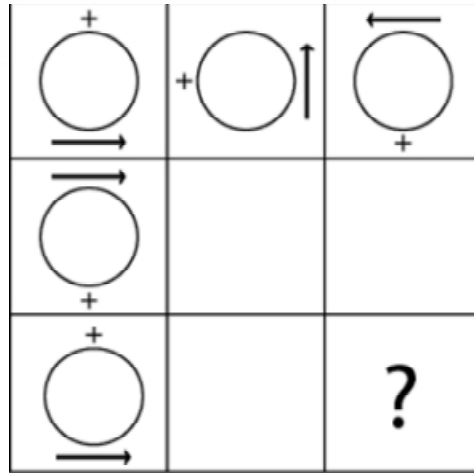
24.

¿Cuál es la figura que falta?



25.

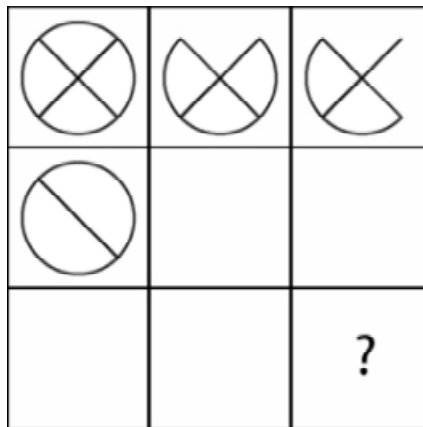
¿Cuál es la figura que falta?



- A.  B.  C.  D.  E. 

26.

¿Cuál es la figura que falta?

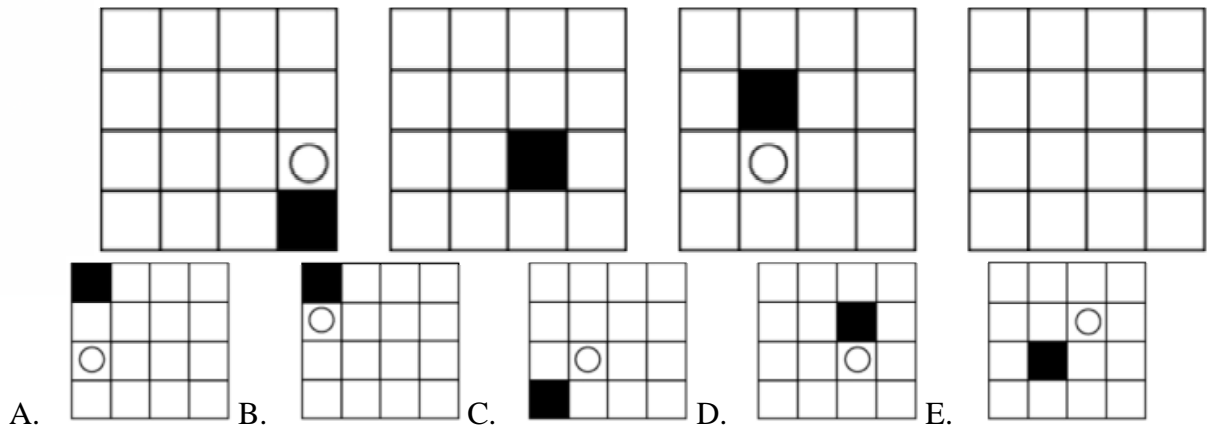


- A.  B.  C.  D.  E. 

[www.riolearning.com](http://www.riolearning.com)

27.

¿Cuál es la figura que falta?

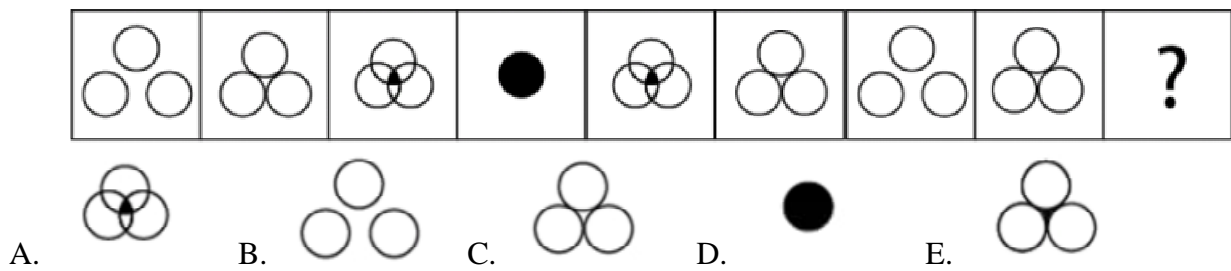


A. B. C. D. E.

[www.riolearning.com](http://www.riolearning.com)

28.

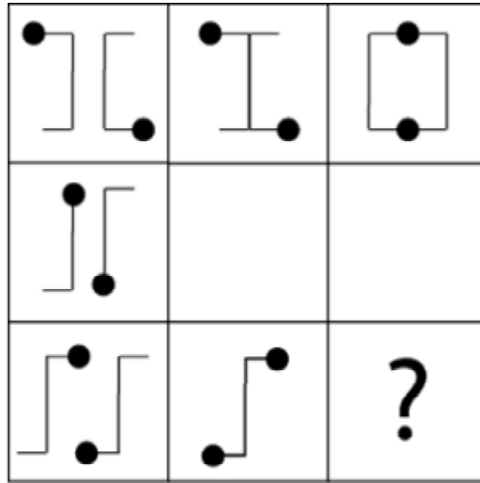
¿Cuál es la figura que falta?



A. B. C. D. E.

29.

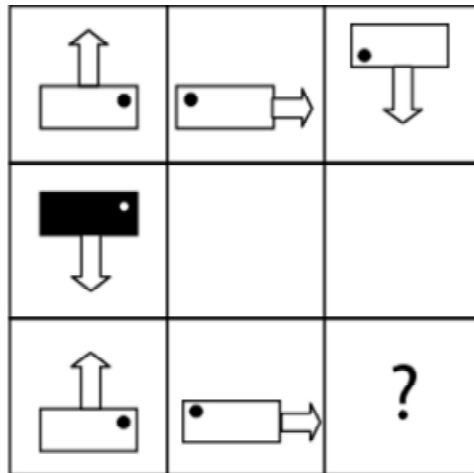
¿Cuál es la figura que falta?



- A.
- B.
- C.
- D.
- E.

30.

¿Cuál es la figura que falta?


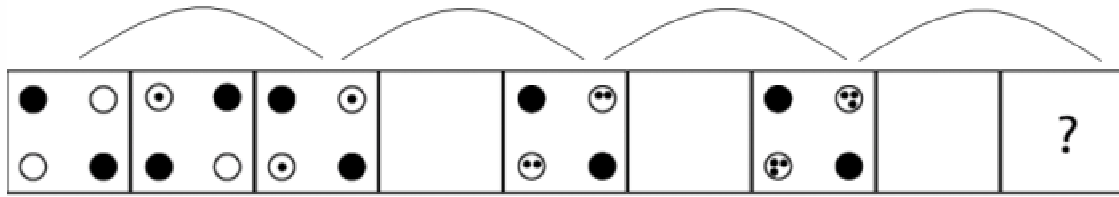


- A.
- B.
- C.
- D.
- E.

[www.riolearning.com](http://www.riolearning.com)

31.



¿Cuál es la figura que falta?



[www.riolearning.com](http://www.riolearning.com)

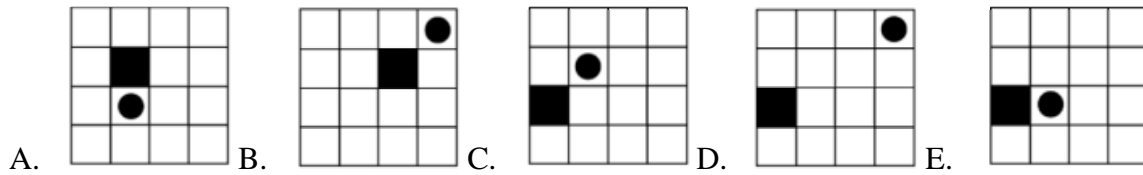
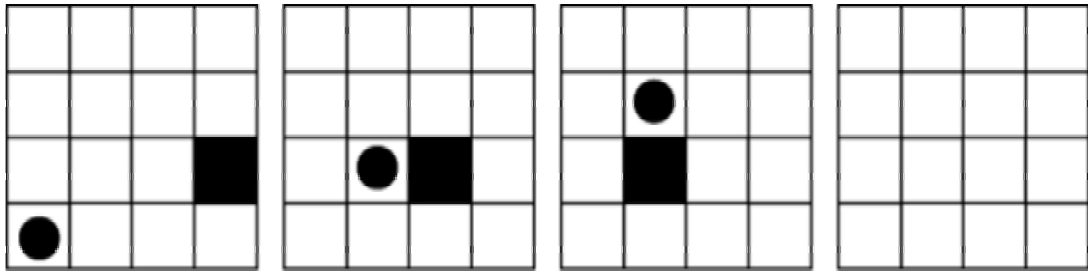
32.

¿Cuál es la figura que falta?



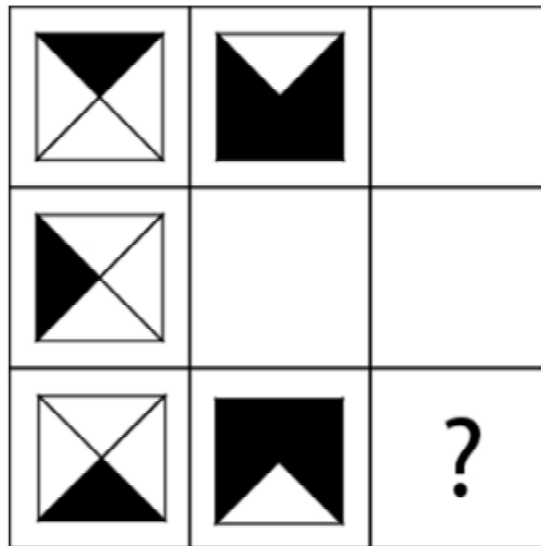
33.

¿Cuál es la figura que falta?



34.


¿Cuál es la figura que falta?


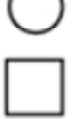






37.

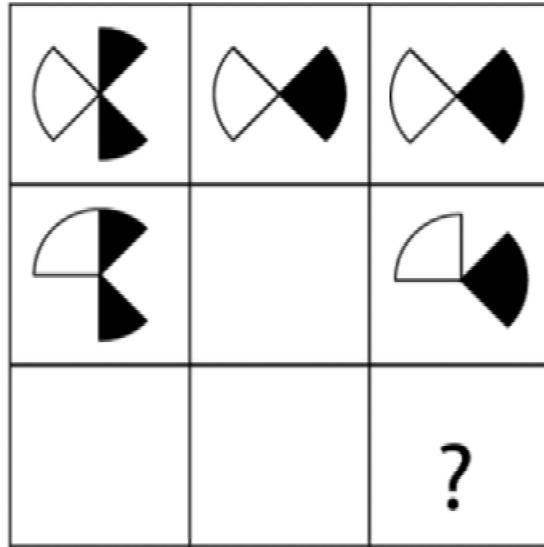
¿Cuál es la figura que falta?







- A.  B.  C.  D.  E. 

38.

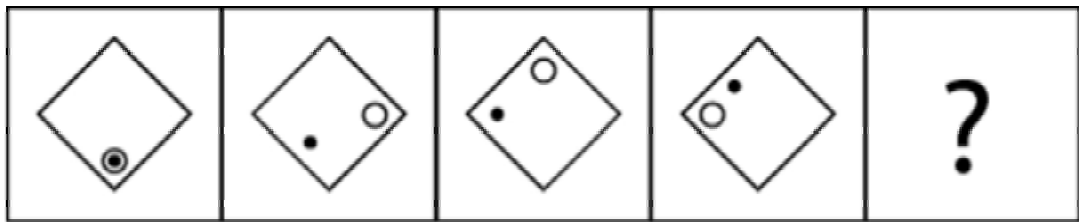
¿Cuál es la figura que falta?




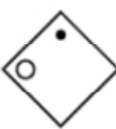
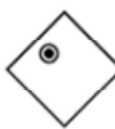


- A.  B.  C.  D.  E. 

39.

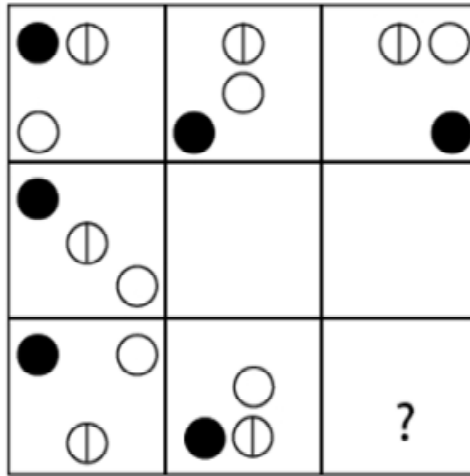
¿Cuál es la figura que falta?



- A.  B.  C.  D.  E. 

40.

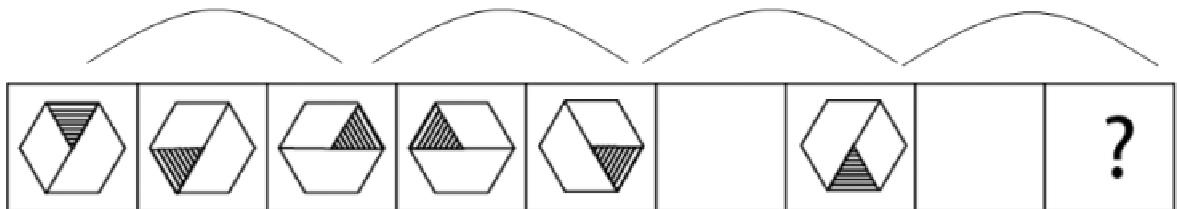
¿Cuál es la figura que falta?



- A.
- B.
- C.
- D.
- E.

41.

¿Cuál es la figura que falta?

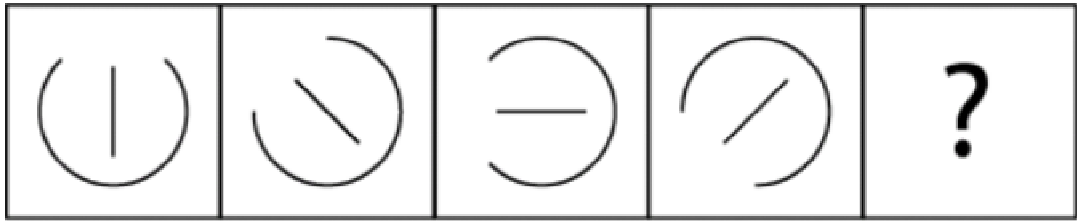


- A.
- B.
- C.
- D.
- E.

[www.riolearning.com](http://www.riolearning.com)

42.

¿Cuál es la figura que falta?

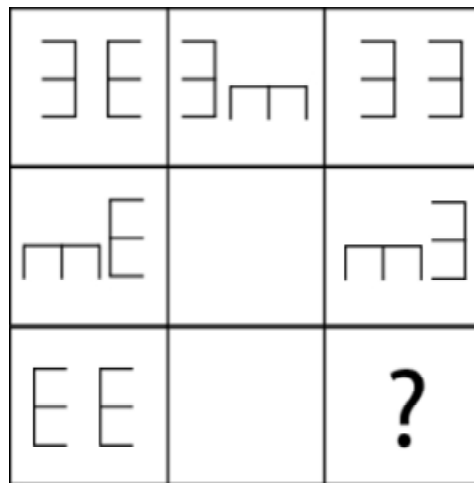


- A. B. C. D. E.

[www.riolearning.com](http://www.riolearning.com)

43.

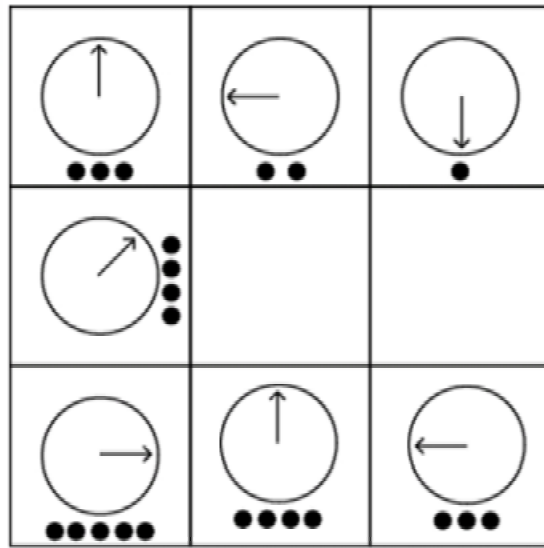
¿Cuál es la figura que falta?




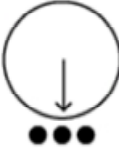
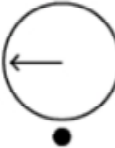


- A. B. C. D. E.

44.

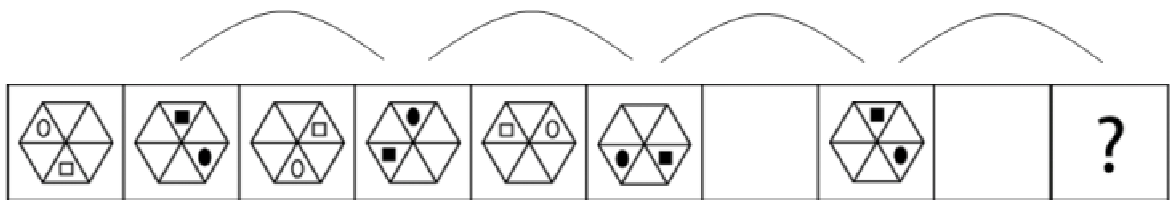
¿Cuál es la figura que falta?



- A.  B.  C.  D.  E. 

45.


¿Cuál es la figura que falta?



- A.  B.  C.  D.  E. 

46.

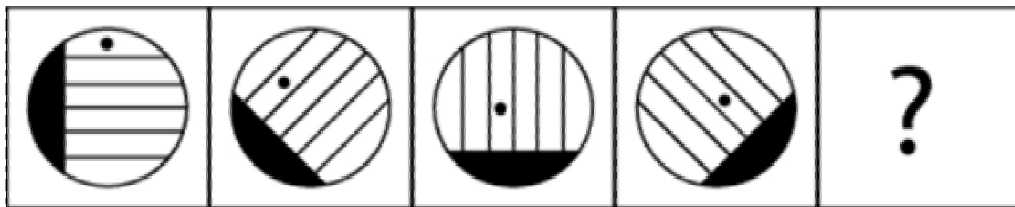
¿Cuál es la figura que falta?



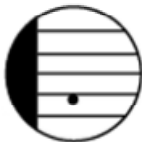

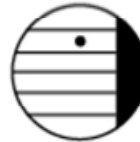


- A.  B.  C.  D.  E. 

47.

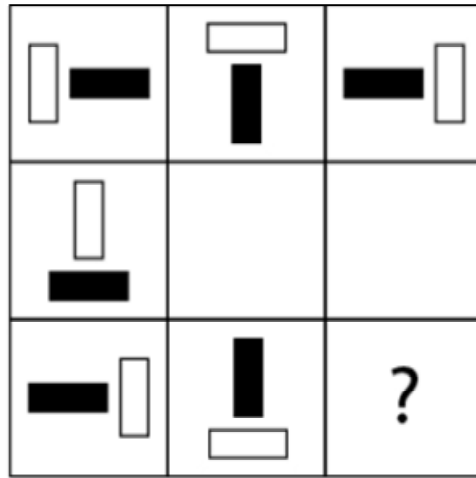
¿Cuál es la figura que falta?



- A.  B.  C.  D.  E. 

48.

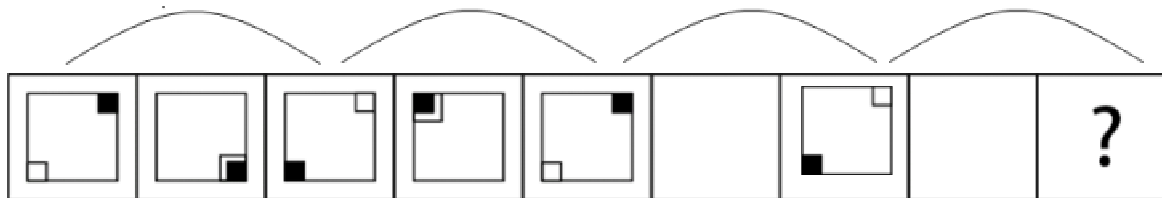
¿Cuál es la figura que falta?



- A.
- B.
- C.
- D.
- E.

49.

¿Cuál es la figura que falta?

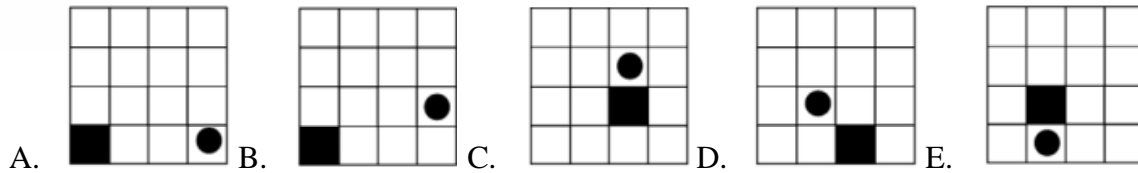
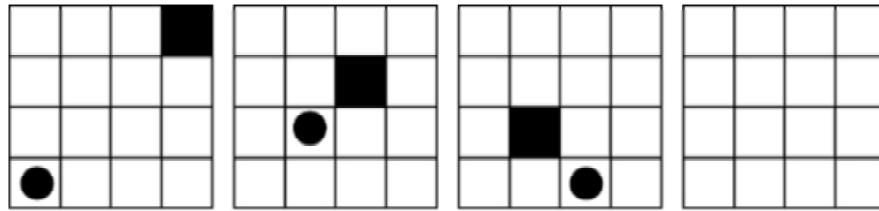


- A.
- B.
- C.
- D.
- E.

[www.riolearning.com](http://www.riolearning.com)

50.

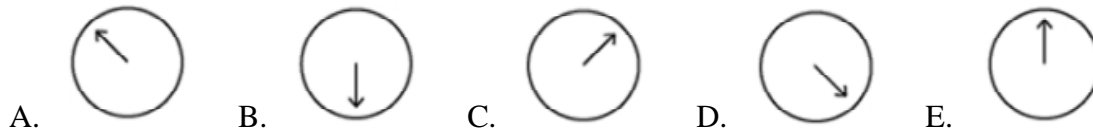
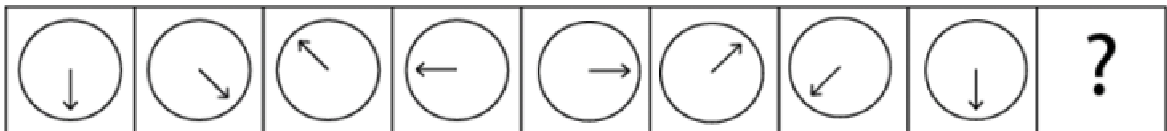
¿Cuál es la figura que falta?



[www.riolearning.com](http://www.riolearning.com)

51.

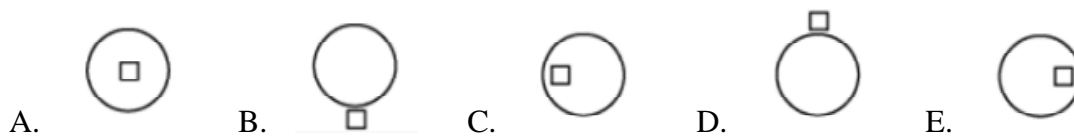
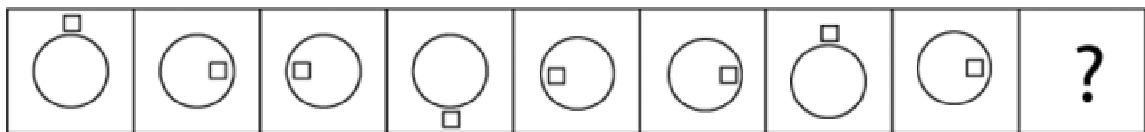
¿Cuál es la figura que falta?



[www.riolearning.com](http://www.riolearning.com)

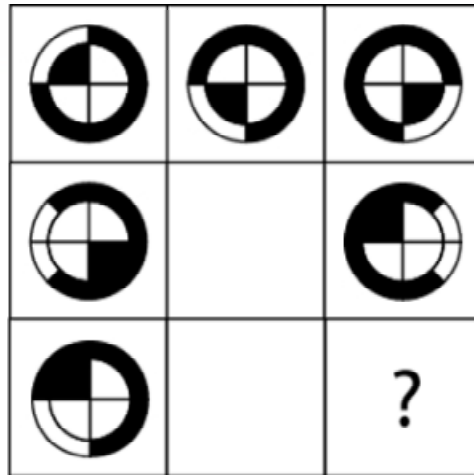
52.

¿Cuál es la figura que falta?



53.

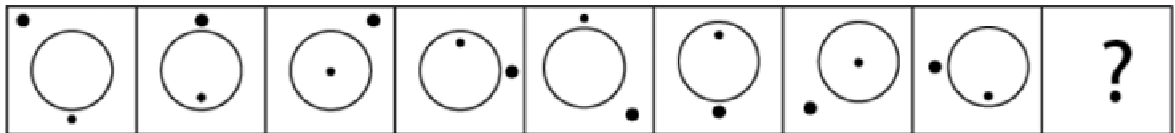
¿Cuál es la figura que falta?








- A.  B.  C.  D.  E. 

54.

¿Cuál es la figura que falta?

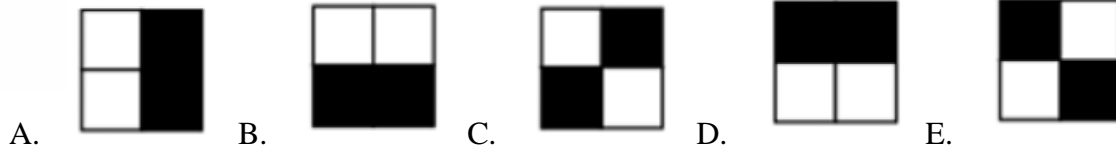
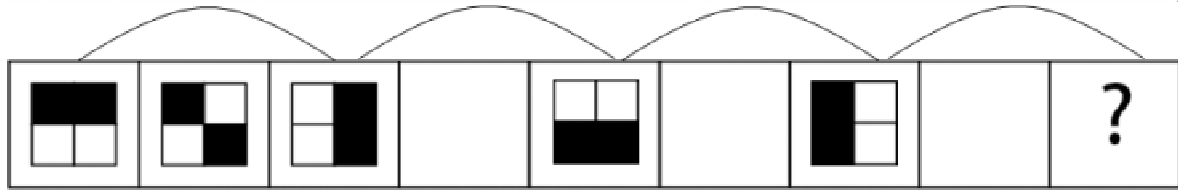


- A.  B.  C.  D.  E. 

[www.riolearning.com](http://www.riolearning.com)

55.

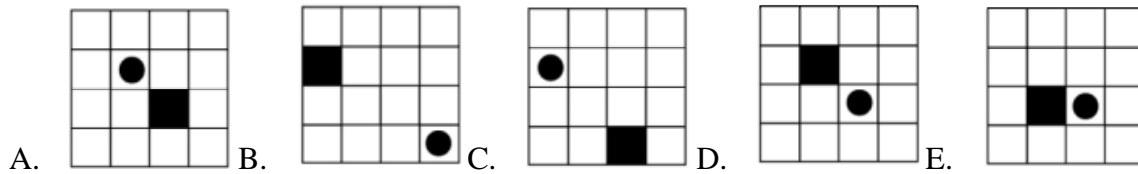
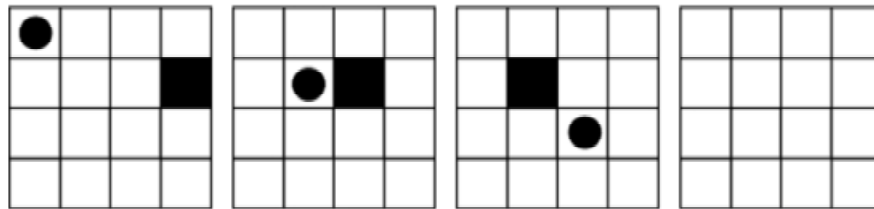
¿Cuál es la figura que falta?



[www.riolearning.com](http://www.riolearning.com)

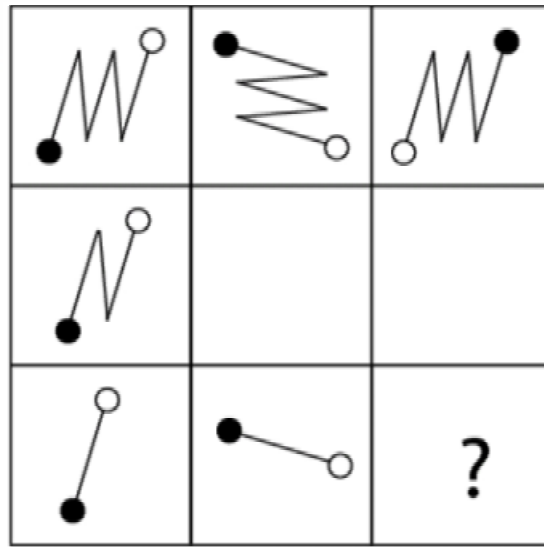
56.

¿Cuál es la figura que falta?



57.

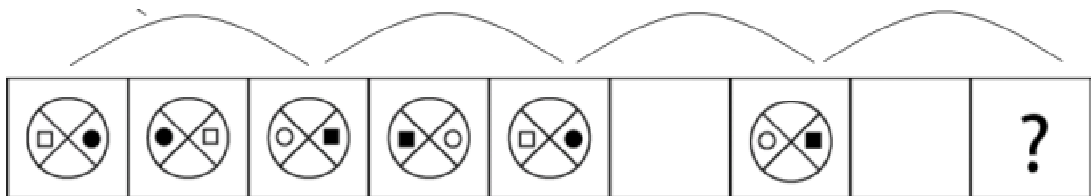
¿Cuál es la figura que falta?



- A.
- B.
- C.
- D.
- E.

58.

¿Cuál es la figura que falta?




- A.
- B.
- C.
- D.
- E.

[www.riolearning.com](http://www.riolearning.com)

59.

¿Cuál es la figura que falta?



A.



B.



C.



D.



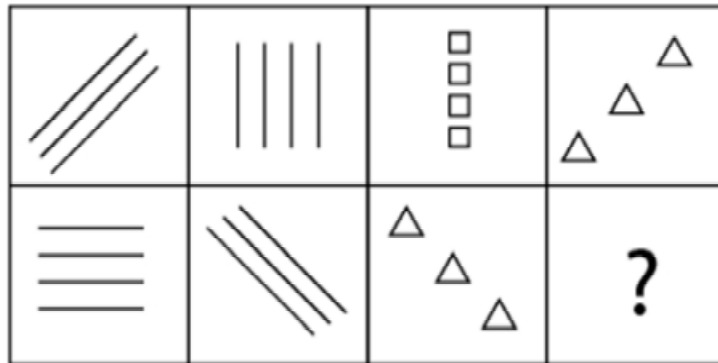
E.



[www.riolearning.com](http://www.riolearning.com)

60.

¿Cuál es la figura que falta?



A.



C.



E.



B.



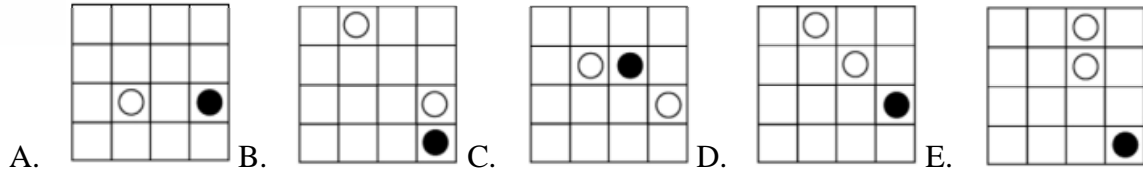
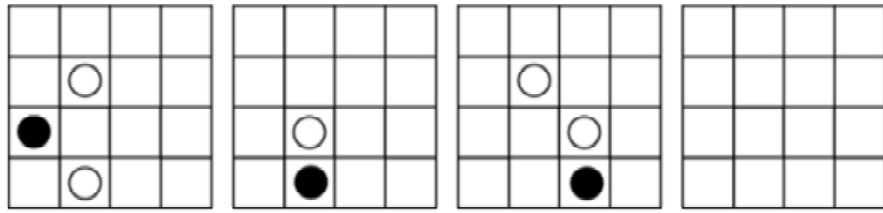
D.



[www.riolearning.com](http://www.riolearning.com)

61.

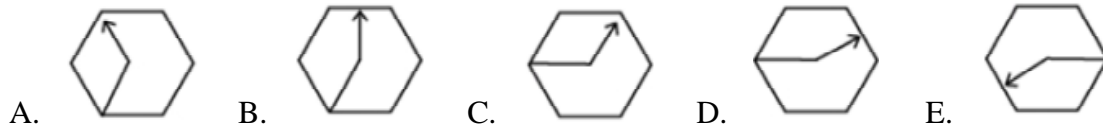
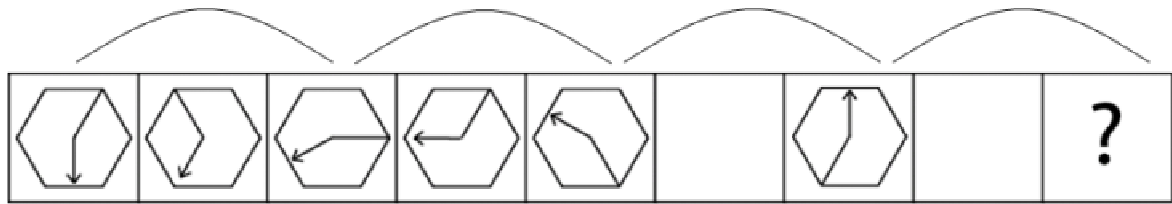
¿Cuál es la figura que falta?



[www.riolearning.com](http://www.riolearning.com)

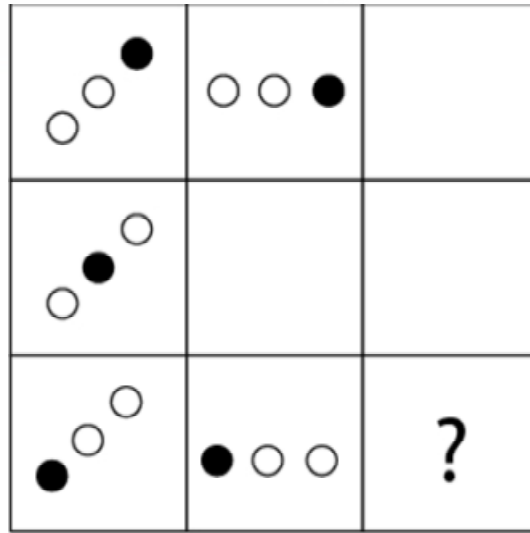
62.






¿Cuál es la figura que falta?



63.


¿Cuál es la figura que falta?








- A.       B. 
- C.       D. 
- E. 

64.

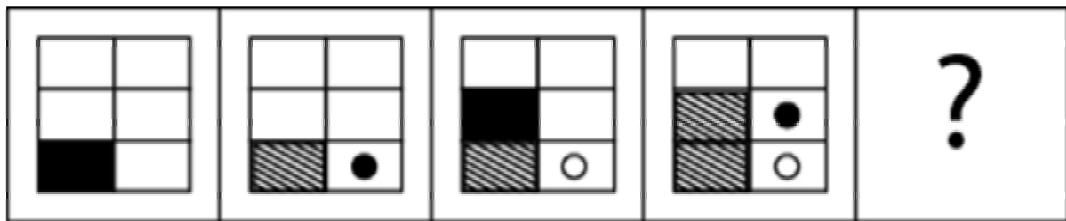
¿Cuál es la figura que falta?

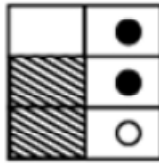
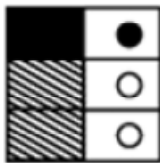
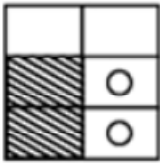
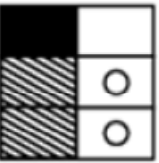
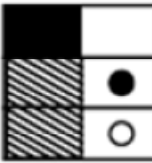


- A.  B.  C.  D.  E. 

65.

¿Cuál es la figura que falta?

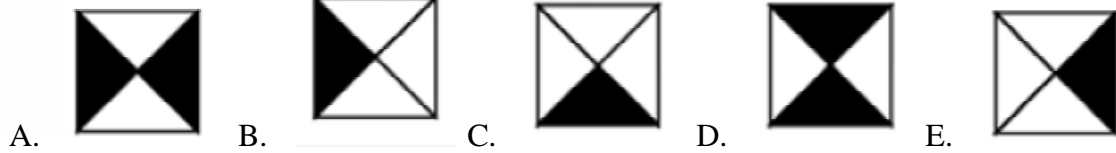



- A.  B.  C.  D.  E. 

[www.riolearning.com](http://www.riolearning.com)

66.

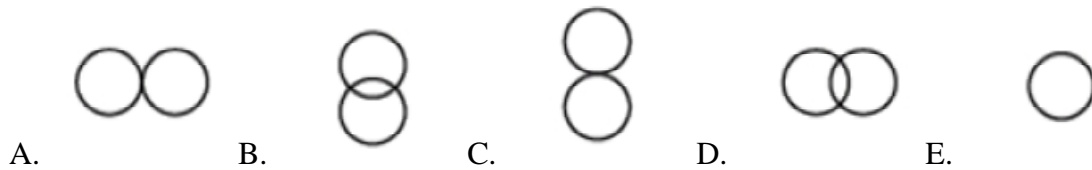
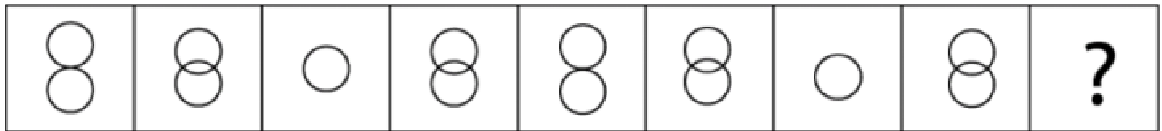
¿Cuál es la figura que falta?



[www.riolearning.com](http://www.riolearning.com)

67.

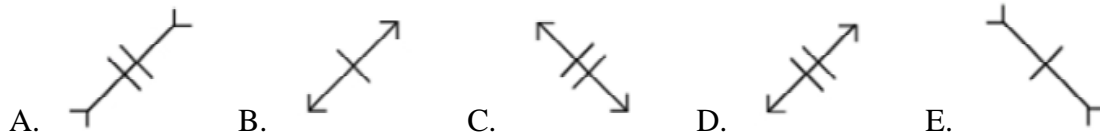
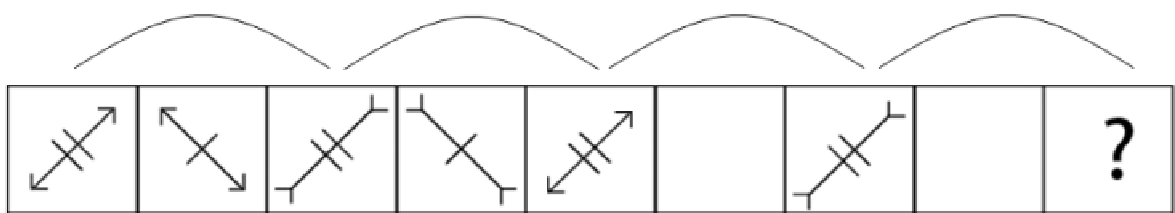
¿Cuál es la figura que falta?



[www.riolearning.com](http://www.riolearning.com)

68.

¿Cuál es la figura que falta?



69.

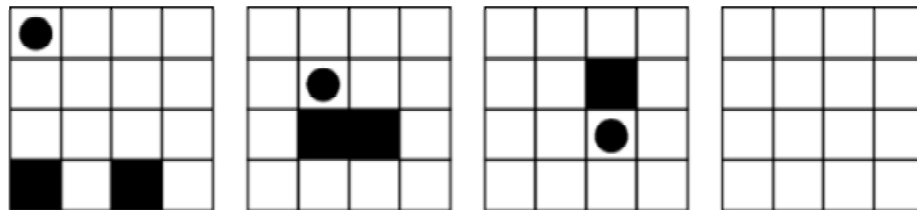
¿Cuál es la figura que falta?


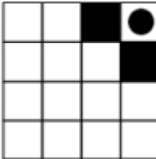
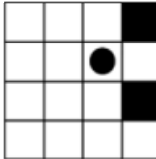
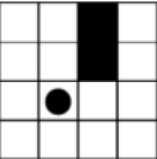
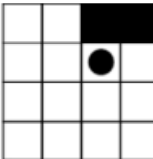


- A.  B.  C.  D.  E. 

70.

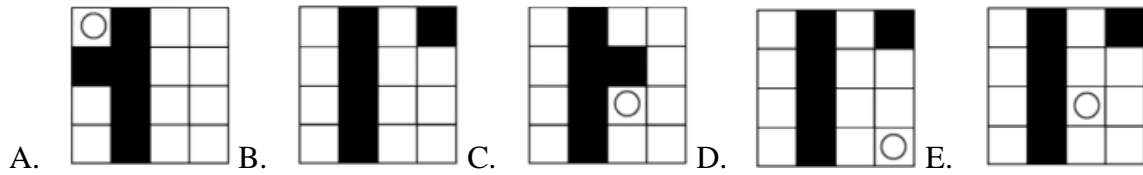
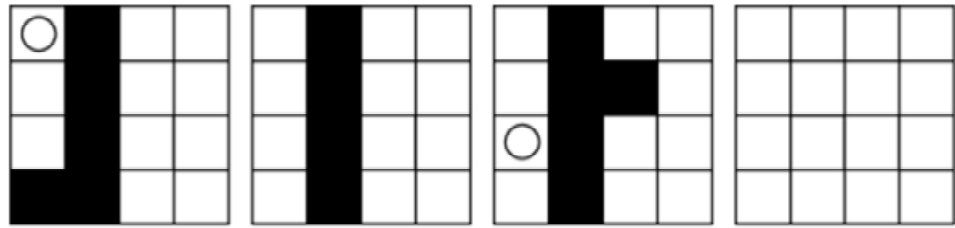
¿Cuál es la figura que falta?



- A.  B.  C.  D.  E. 

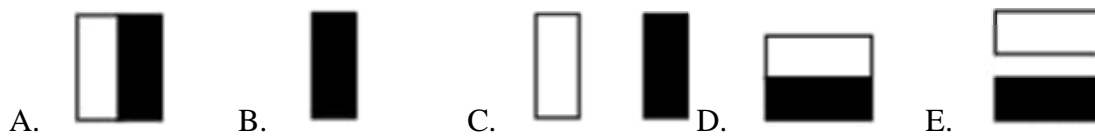

71.

¿Cuál es la figura que falta?



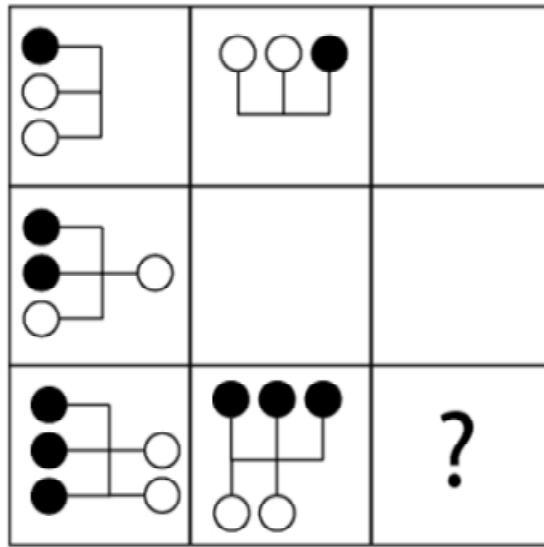
72.

¿Cuál es la figura que falta?



73.

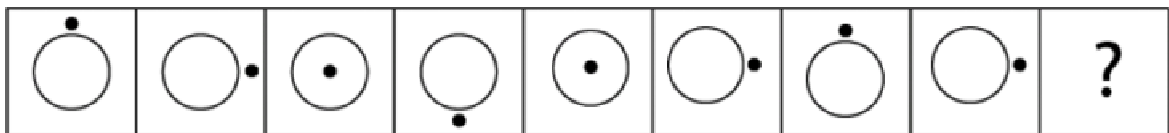
¿Cuál es la figura que falta?



- A.
- B.
- C.
- D.
- E.

74.

¿Cuál es la figura que falta?

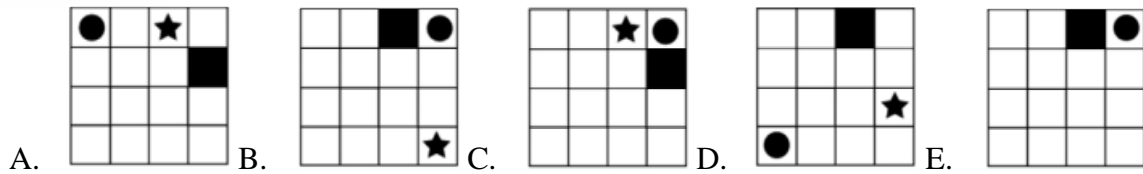
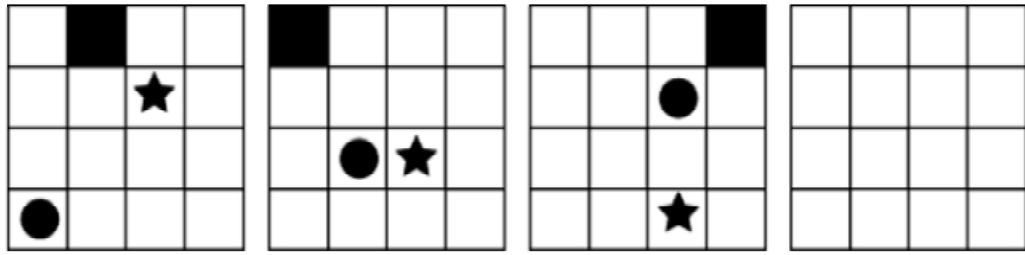


- A.
- B.
- C.
- D.
- E.

[www.riolearning.com](http://www.riolearning.com)

75.

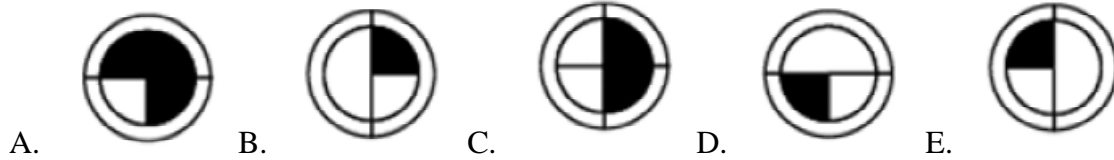
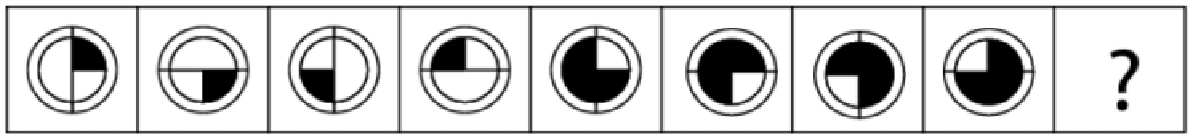
¿Cuál es la figura que falta?



[www.riolearning.com](http://www.riolearning.com)

76.

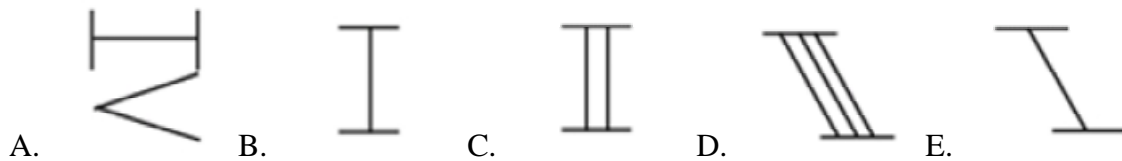
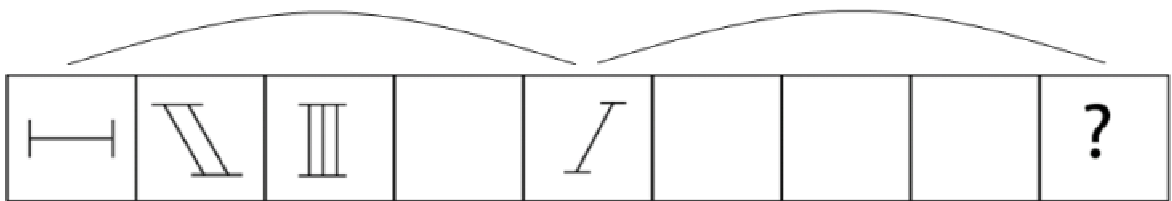
¿Cuál es la figura que falta?



[www.riolearning.com](http://www.riolearning.com)


77.






¿Cuál es la figura que falta?



78.

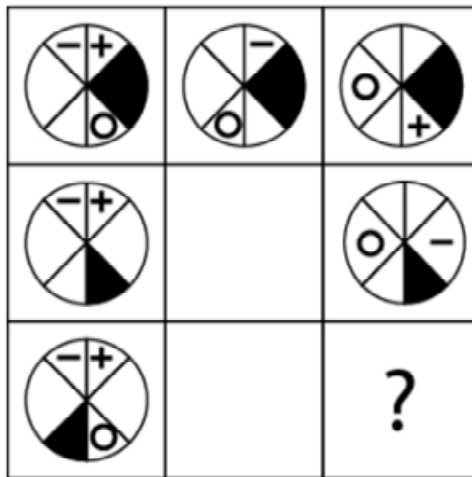
¿Cuál es la figura que falta?








- A.  B.  C.  D.  E. 

79.

¿Cuál es la figura que falta?

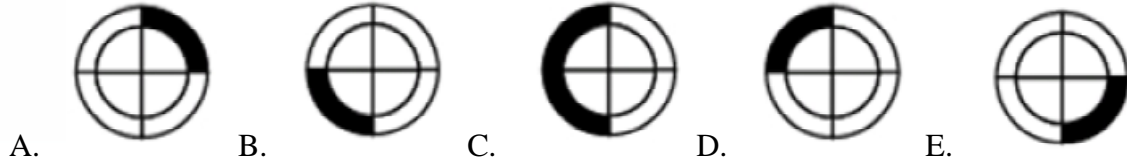
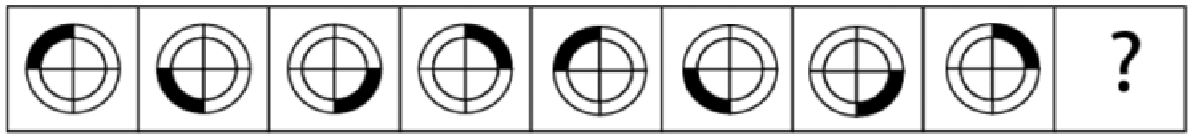


- A.  B.  C.  D.  E. 

[www.riolearning.com](http://www.riolearning.com)

80.

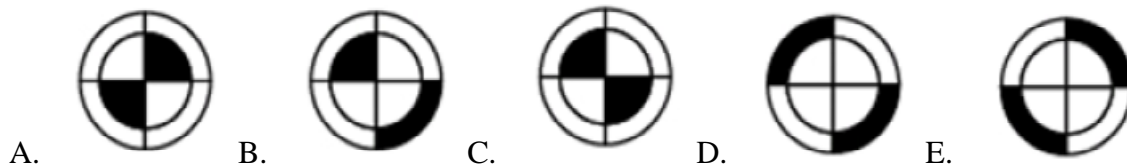
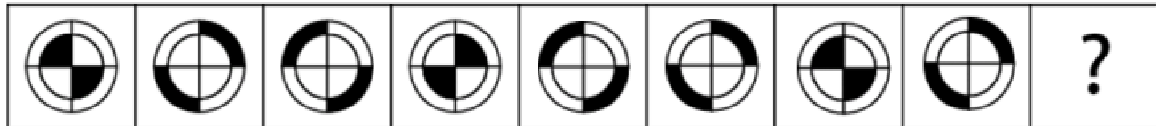
¿Cuál es la figura que falta?



[www.riolearning.com](http://www.riolearning.com)

81.


¿Cuál es la figura que falta?



[www.riolearning.com](http://www.riolearning.com)

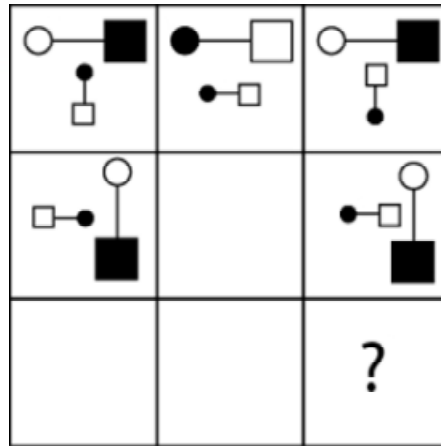
82.

¿Cuál es la figura que falta?



83.

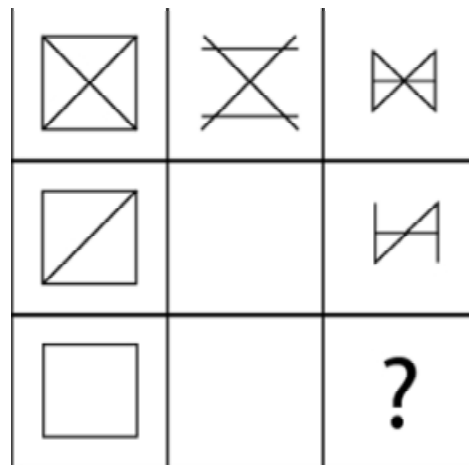
¿Cuál es la figura que falta?



- A.
- B.
- C.
- D.
- E.

84.

¿Cuál es la figura que falta?

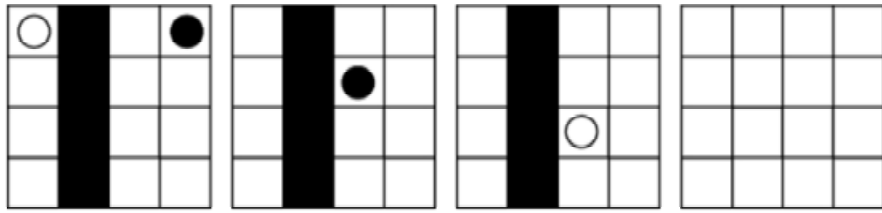


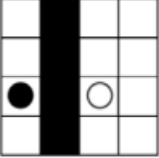
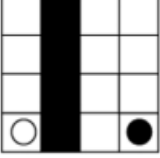
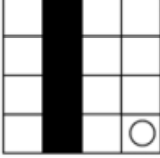
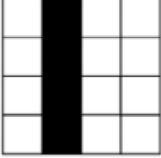
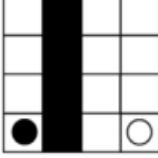
- A.
- B.
- C.
- D.
- E.

[www.riolearning.com](http://www.riolearning.com)

85.

¿Cuál es la figura que falta?

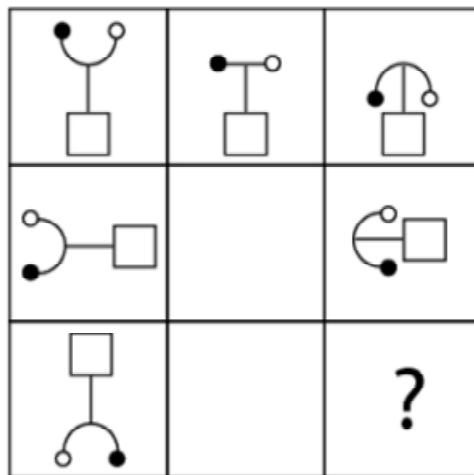


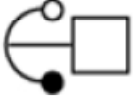




- A.  B.  C.  D.  E. 

[www.riolearning.com](http://www.riolearning.com)

86.

¿Cuál es la figura que falta?



- A.  B.  C.  D.  E. 

www.riolearning.com

87.

¿Cuál es la figura que falta?

A.

B.

C.

D.

E.

www.riolearning.com

88.

¿Cuál es la figura que falta?

A.

B.

C.

D.

E.

www.riolearning.com

89.

¿Cuál es la figura que falta?

A.

B.

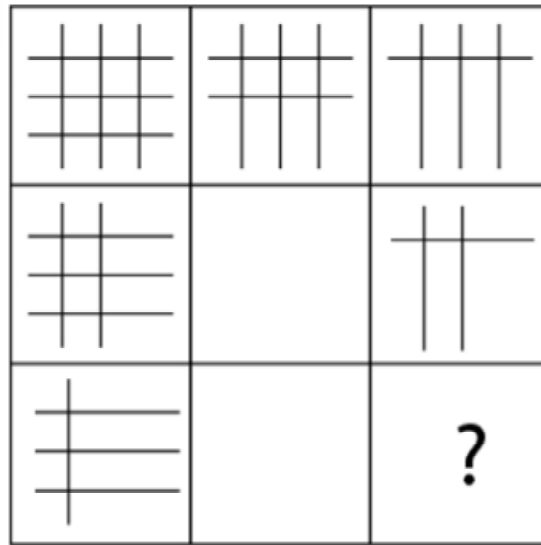
C.


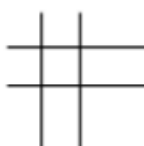



D.

E.

90.

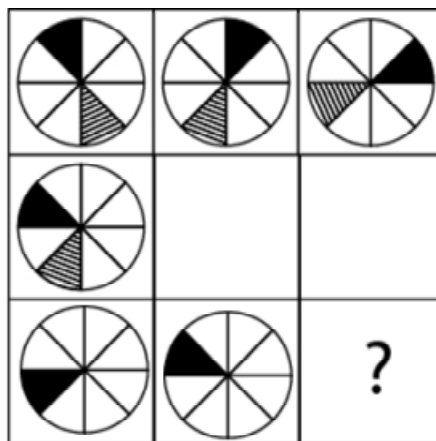
¿Cuál es la figura que falta?








- A.  B.  C.  D.  E. 

91.

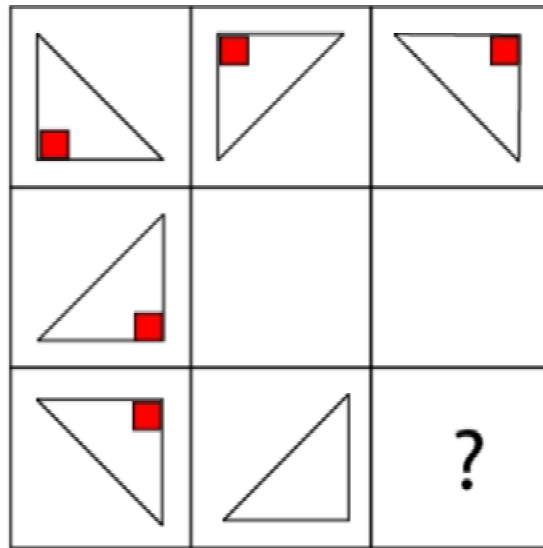
¿Cuál es la figura que falta?




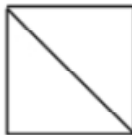
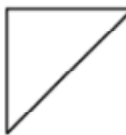


- A.  B.  C.  D.  E. 

92.

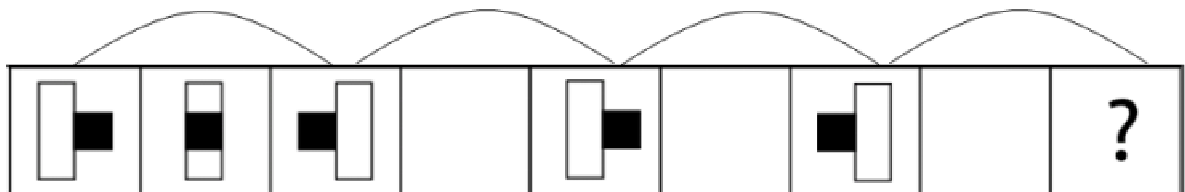
¿Cuál es la figura que falta?








- A.  B.  C.  D.  E. 

93.

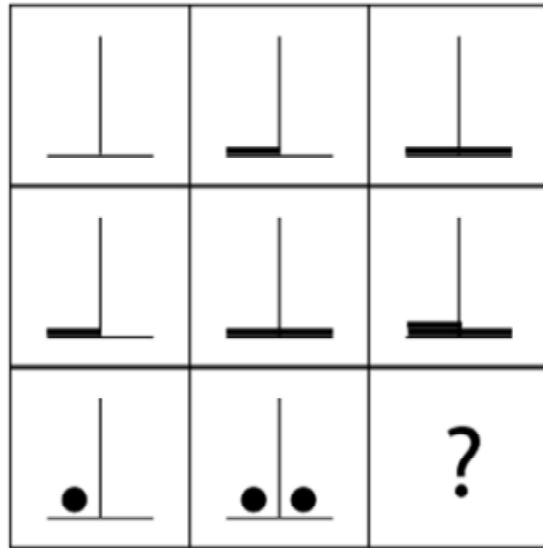
¿Cuál es la figura que falta?

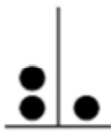






- A.  B.  C.  D.  E. 

94.

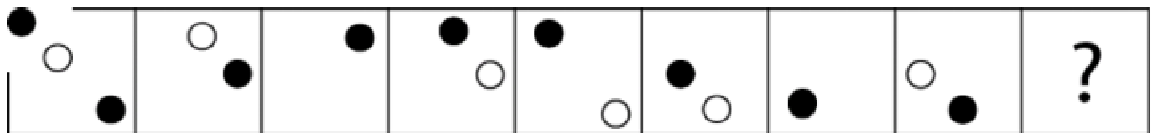
¿Cuál es la figura que falta?








- A.  B.  C.  D.  E. 

95.

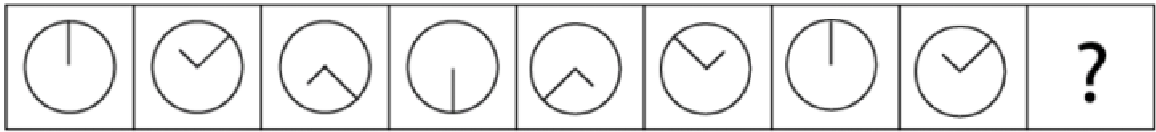
¿Cuál es la figura que falta?



- A.  B.  C.  D.  E. 

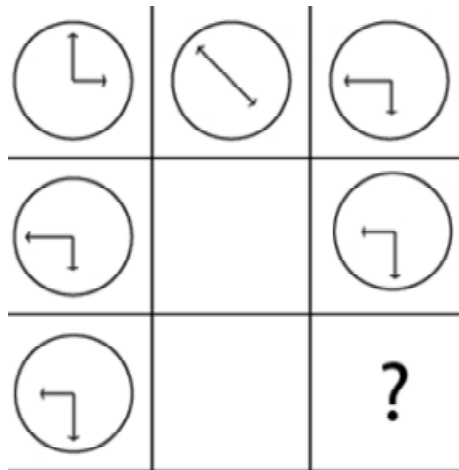
96.

¿Cuál es la figura que falta?




97.






¿Cuál es la figura que falta?



98.

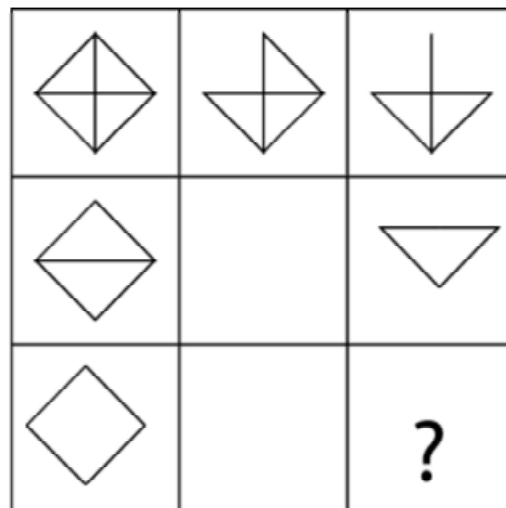
¿Cuál es la figura que falta?








- A.  B.  C.  D.  E. 

99.

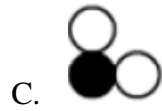
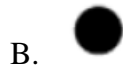

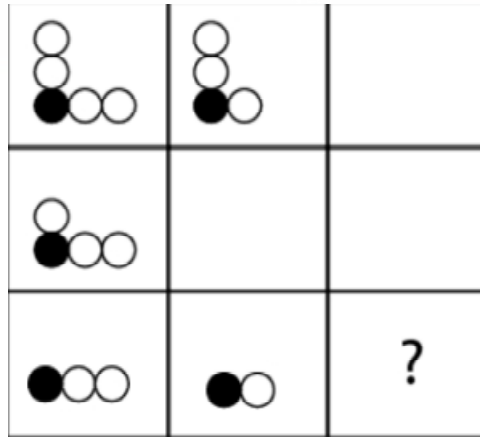
¿Cuál es la figura que falta?



- A.  B.  C.  D.  E. 

100.

¿Cuál es la figura que falta?



## ACCESO A LA EDUCACIÓN SUPERIOR TAE100\_001

## Answer Section

## MULTIPLE CHOICE



1. ANS: E PTS: 1
2. ANS: D PTS: 1
3. ANS: A PTS: 1
4. ANS: E PTS: 1
5. ANS: A PTS: 1
6. ANS: D PTS: 1
7. ANS: B PTS: 1
8. ANS: A PTS: 1
9. ANS: D PTS: 1
10. ANS: C PTS: 1
11. ANS: A PTS: 1
12. ANS: D PTS: 1
13. ANS: C PTS: 1
14. ANS: D PTS: 1
15. ANS: D PTS: 1
16. ANS: B PTS: 1
17. ANS: D PTS: 1
18. ANS: C PTS: 1
19. ANS: A PTS: 1
20. ANS: A PTS: 1
21. ANS: E PTS: 1
22. ANS: A PTS: 1
23. ANS: D PTS: 1
24. ANS: A PTS: 1
25. ANS: E PTS: 1
26. ANS: A PTS: 1
27. ANS: A PTS: 1
28. ANS: A PTS: 1
29. ANS: A PTS: 1
30. ANS: C PTS: 1
31. ANS: B PTS: 1
32. ANS: A PTS: 1
33. ANS: D PTS: 1
34. ANS: A PTS: 1
35. ANS: B PTS: 1
36. ANS: E PTS: 1
37. ANS: B PTS: 1
38. ANS: E PTS: 1
39. ANS: A PTS: 1
40. ANS: B PTS: 1



41.	ANS: D	PTS: 1
42.	ANS: D	PTS: 1
43.	ANS: C	PTS: 1
44.	ANS: C	PTS: 1
45.	ANS: A	PTS: 1
46.	ANS: D	PTS: 1
47.	ANS: E	PTS: 1
48.	ANS: C	PTS: 1
49.	ANS: A	PTS: 1
50.	ANS: B	PTS: 1
51.	ANS: E	PTS: 1
52.	ANS: C	PTS: 1
53.	ANS: A	PTS: 1
54.	ANS: B	PTS: 1
55.	ANS: D	PTS: 1
56.	ANS: B	PTS: 1
57.	ANS: B	PTS: 1
58.	ANS: C	PTS: 1
59.	ANS: E	PTS: 1
60.	ANS: C	PTS: 1
61.	ANS: D	PTS: 1
62.	ANS: D	PTS: 1
63.	ANS: E	PTS: 1
64.	ANS: A	PTS: 1
65.	ANS: D	PTS: 1
66.	ANS: D	PTS: 1
67.	ANS: C	PTS: 1
68.	ANS: D	PTS: 1
69.	ANS: B	PTS: 1
70.	ANS: A	PTS: 1
71.	ANS: B	PTS: 1
72.	ANS: A	PTS: 1
73.	ANS: A	PTS: 1
74.	ANS: B	PTS: 1
75.	ANS: E	PTS: 1
76.	ANS: B	PTS: 1
77.	ANS: B	PTS: 1
78.	ANS: A	PTS: 1
79.	ANS: D	PTS: 1
80.	ANS: D	PTS: 1
81.	ANS: D	PTS: 1
82.	ANS: C	PTS: 1
83.	ANS: A	PTS: 1
84.	ANS: C	PTS: 1
85.	ANS: E	PTS: 1

- |      |        |        |
|------|--------|--------|
| 86.  | ANS: D | PTS: 1 |
| 87.  | ANS: D | PTS: 1 |
| 88.  | ANS: A | PTS: 1 |
| 89.  | ANS: C | PTS: 1 |
| 90.  | ANS: E | PTS: 1 |
| 91.  | ANS: C | PTS: 1 |
| 92.  | ANS: B | PTS: 1 |
| 93.  | ANS: E | PTS: 1 |
| 94.  | ANS: A | PTS: 1 |
| 95.  | ANS: C | PTS: 1 |
| 96.  | ANS: B | PTS: 1 |
| 97.  | ANS: C | PTS: 1 |
| 98.  | ANS: C | PTS: 1 |
| 99.  | ANS: A | PTS: 1 |
| 100. | ANS: B | PTS: 1 |



# Anexo

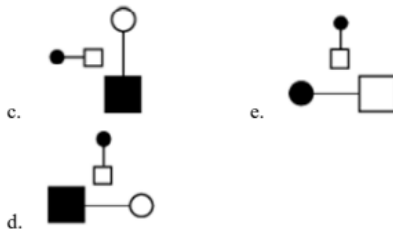
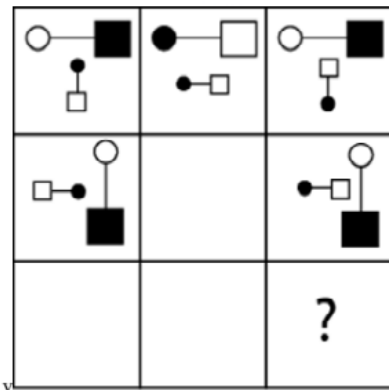
TAE20\_001\_001 ID:A

## Modelo de Examen de Acceso a la Educación Superior

TAE20\_001\_001 ID: A

[www.riolearning.com](http://www.riolearning.com)

¿qué falta?



En la parte superior derecha del documento se muestra un código que indica el tipo de examen, número de preguntas y el ID del TEST (se cuenta con cuatro A, B, C, D)

Esta información te permitirá buscar el solucionario.

El solucionario lo puedes encontrar en nuestras redes sociales o en la página [www.multimevi.com](http://www.multimevi.com) en la sección DESCARGAS

Aula virtual

[www.riolearning.com](http://www.riolearning.com)



Ejercicios Acceso a la Educación Superior tiene licencia [CC BY-NC 4.0](https://creativecommons.org/licenses/by-nc/4.0/) © 2 por [EdFr@MeVi](mailto:EdFr@MeVi)





Forma

Test Version

--	--	--	--	--	--	--	--	--	--	--

Nombre: \_\_\_\_\_

Asignatura: \_\_\_\_\_

Fecha: \_\_\_\_\_

A

B

C

D

0  0  0  0  0  0  0  0  0

1  1  1  1  1  1  1  1  1

2  2  2  2  2  2  2  2  2

3  3  3  3  3  3  3  3  3

4  4  4  4  4  4  4  4  4

5  5  5  5  5  5  5  5  5

6  6  6  6  6  6  6  6  6

7  7  7  7  7  7  7  7  7

8  8  8  8  8  8  8  8  8

9  9  9  9  9  9  9  9  9

Cédula - Código

Ejemplo

A  B  C  D  E

Calificación

--

- Utilice lápiz para marcar la respuesta.
- Marque un círculo completo
- Borre completamente el círculo para marcar una nueva respuesta

1 A  B  C  D  E

2 A  B  C  D  E

3 A  B  C  D  E

4 A  B  C  D  E

5 A  B  C  D  E

6 A  B  C  D  E

7 A  B  C  D  E

8 A  B  C  D  E

9 A  B  C  D  E

10 A  B  C  D  E

11 A  B  C  D  E

12 A  B  C  D  E

13 A  B  C  D  E

14 A  B  C  D  E

15 A  B  C  D  E

16 A  B  C  D  E

17 A  B  C  D  E

18 A  B  C  D  E

19 A  B  C  D  E

20 A  B  C  D  E

21 A  B  C  D  E

22 A  B  C  D  E

23 A  B  C  D  E

24 A  B  C  D  E

25 A  B  C  D  E

26 A  B  C  D  E

27 A  B  C  D  E

28 A  B  C  D  E

29 A  B  C  D  E

30 A  B  C  D  E

31 A  B  C  D  E

32 A  B  C  D  E

33 A  B  C  D  E

34 A  B  C  D  E

35 A  B  C  D  E

36 A  B  C  D  E

37 A  B  C  D  E

38 A  B  C  D  E

39 A  B  C  D  E

40 A  B  C  D  E

41 A  B  C  D  E

42 A  B  C  D  E

43 A  B  C  D  E

44 A  B  C  D  E

45 A  B  C  D  E

46 A  B  C  D  E

47 A  B  C  D  E

48 A  B  C  D  E

49 A  B  C  D  E

50 A  B  C  D  E

51 A  B  C  D  E

52 A  B  C  D  E

53 A  B  C  D  E

54 A  B  C  D  E

55 A  B  C  D  E

56 A  B  C  D  E

57 A  B  C  D  E

58 A  B  C  D  E

59 A  B  C  D  E

60 A  B  C  D  E

61 A  B  C  D  E

62 A  B  C  D  E

63 A  B  C  D  E

64 A  B  C  D  E

65 A  B  C  D  E

66 A  B  C  D  E

67 A  B  C  D  E

68 A  B  C  D  E

69 A  B  C  D  E

70 A  B  C  D  E

71 A  B  C  D  E

72 A  B  C  D  E

73 A  B  C  D  E

74 A  B  C  D  E

75 A  B  C  D  E

76 A  B  C  D  E

77 A  B  C  D  E

78 A  B  C  D  E

79 A  B  C  D  E

80 A  B  C  D  E

81 A  B  C  D  E

82 A  B  C  D  E

83 A  B  C  D  E

84 A  B  C  D  E

85 A  B  C  D  E

86 A  B  C  D  E

87 A  B  C  D  E

88 A  B  C  D  E

89 A  B  C  D  E

90 A  B  C  D  E

91 A  B  C  D  E

92 A  B  C  D  E

93 A  B  C  D  E

94 A  B  C  D  E

95 A  B  C  D  E

96 A  B  C  D  E

97 A  B  C  D  E

98 A  B  C  D  E

99 A  B  C  D  E

100 A  B  C  D  E



ENLACE	DETALLE	QR
<a href="http://www.multimevi.com/">http://www.multimevi.com/</a>	Página web MULTIMEVI, donde encontrarás noticias y recursos	
<a href="https://t.me/+Klr3YaM42_ZhZTIx">https://t.me/+Klr3YaM42_ZhZTIx</a>	Grupo de apoyo en TELEGRAM	
<a href="https://chat.whatsapp.com/IQuCCcZjtLjIkLfgzXo68Y">https://chat.whatsapp.com/IQuCCcZjtLjIkLfgzXo68Y</a>	<u>GRUPO DE WHATSAPP</u>	
<a href="https://whatsapp.com/channel/0029VaBB2zQHwXb5Vhn9Yw1W">https://whatsapp.com/channel/0029VaBB2zQHwXb5Vhn9Yw1W</a>	Canal de noticias WhatsApp	
<a href="https://www.facebook.com/multimevi.ec/">https://www.facebook.com/multimevi.ec/</a>	Perfil de facebook	
<a href="https://www.facebook.com/groups/multimevi">https://www.facebook.com/groups/multimevi</a>	Grupo FULL Rectivos	
<a href="https://www.tiktok.com/@multimevi">https://www.tiktok.com/@multimevi</a>	Canal de TIK TOK	
<a href="https://www.instagram.com/multimevi.ec/">https://www.instagram.com/multimevi.ec/</a>	Canal de Instagram	
<a href="https://twitter.com/multimevi">https://twitter.com/multimevi</a>	Red X	



# Modelo **F**

## Plataforma MOODLE

 [www.riolearning.com](http://www.riolearning.com)

## Página Web



[www.multimevi.com](http://www.multimevi.com)

## Redes Sociales



## Procesos



**ACCESO** a la Educación Superior  
SENESCYT

**QUIERO SER MAESTRO**  
Ministerio de Educación